

SULIT

SAINS
Kertas 2
Tahun 1
Oktober
2017
1 jam

PEPERIKSAAN AKHIR TAHUN 2017 TAHUN 1

Nama :

Kelas :

SAINS Kertas 2

Satu Jam


**JANGAN BUKA KERTAS SOALAN SEHINGGA
DIBERITAHU**


1. *Kertas soalan ini mengandungi 8 soalan.*
2. *Jawab semua soalan.*
3. *Jawapan hendaklah ditulis dengan jelas dalam ruangan yang disediakan dalam kertas soalan.*

No. Soalan	Markah Penuh	Markah Diperoleh
1	2	
2	2	
3	5	
4	2	
5	4	
6	6	
7	2	
8	2	
Jumlah	25	

Kertas soalan ini mengandungi 6 halaman bercetak


1. Bulatkan deria yang digunakan dalam situasi di bawah.


A.  Rasa Bau Dengar

B.  Sentuh Rasa Lihat

[2 markah]



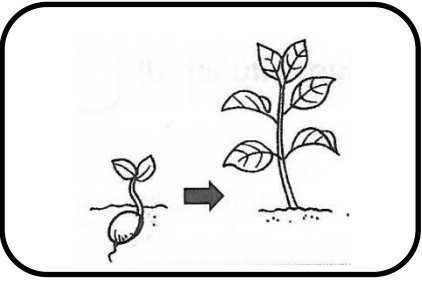
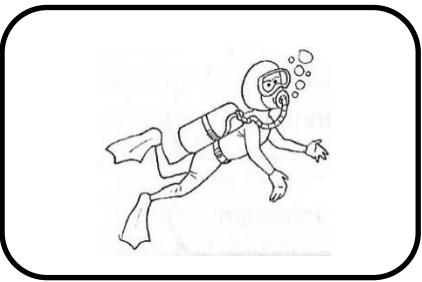
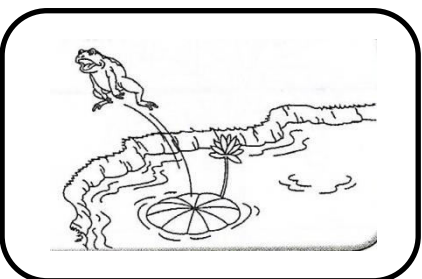
2. Tandakan (✓) pada keperluan asas benda hidup di bawah.

A.  Makanan
 Rumah

B.  Udara
 Kawan


[2 markah]

3. Padankan gambar-gambar dengan ciri benda hidup.


A.		<p>Bergerak</p>
B.		<p>Bernafas</p>
C.		<p>Memerlukan makanan</p>
D.		<p>Membiak</p>
E.		<p>Membesar</p>

[5 markah]

4. Bulatkan haiwan yang betul.




Haiwan ini mempunyai belang pada badannya.



Haiwan ini berkaki empat dan bersisik keras.

[2 markah]

5. Tandakan (✓) ciri-ciri yang betul bagi tumbuhan di bawah.



A) Akar serabut

B) Batang tidak berkayu

C) Akar tunjang

D) Berbunga

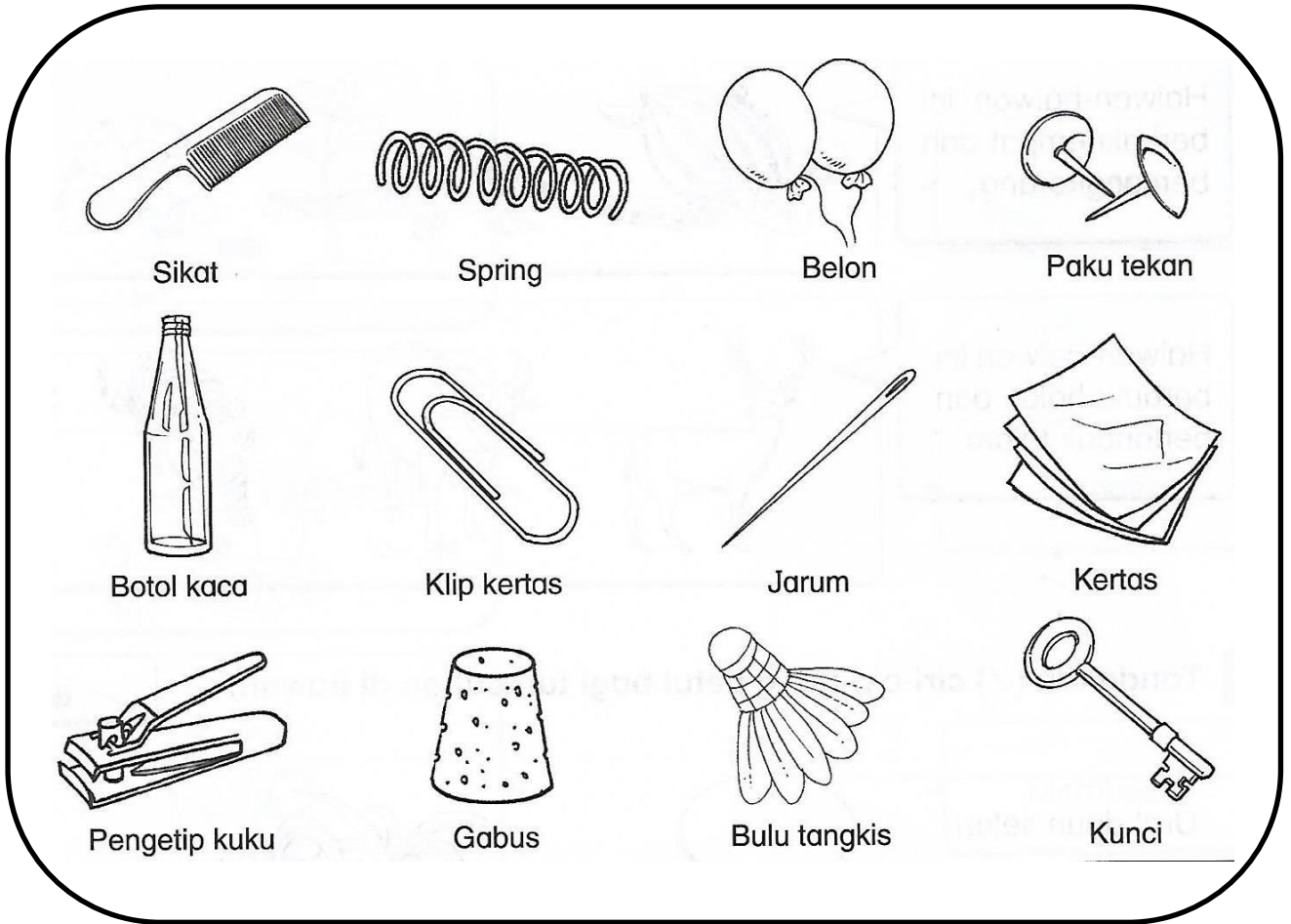
E) Urat daun selari

F) Urat daun jejala

G) Batang berkayu

[4 markah]

6. Kelaskan objek-objek berikut dalam kumpulan yang betul.



Ditarik oleh magnet

A) _____

B) _____

C) _____

Tidak ditarik oleh magnet

D) _____

E) _____

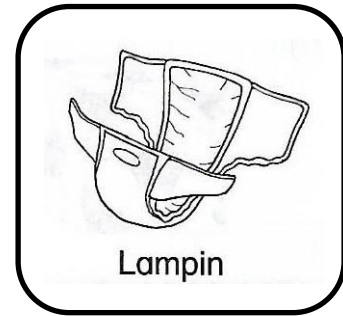
F) _____

[6 markah]

7. Padankan kegunaan objek berikut yang boleh menyerap air.

Mengelap lantai basah

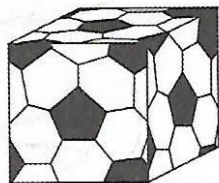
Menyerap air kencing bayi



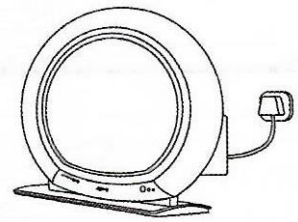
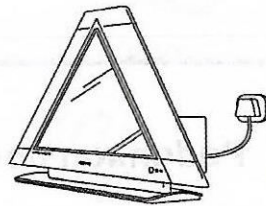
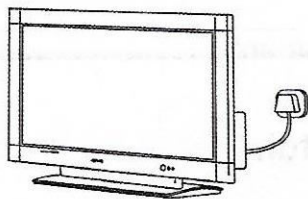
[2 markah]

8. Bulatkan bentuk yang sesuai bagi objek-objek yang dinyatakan.

- A. Bola sepak



- B. Televisyen





[2 markah]

- Kertas soalan tamat -

SKEMA JAWAPAN

1. A) Bau
B) Lihat
2. A) Makanan
B) Udara
3. A) Membiak
B) Memerlukan makanan
C) Membesar
D) Bernafas
E) Bergerak

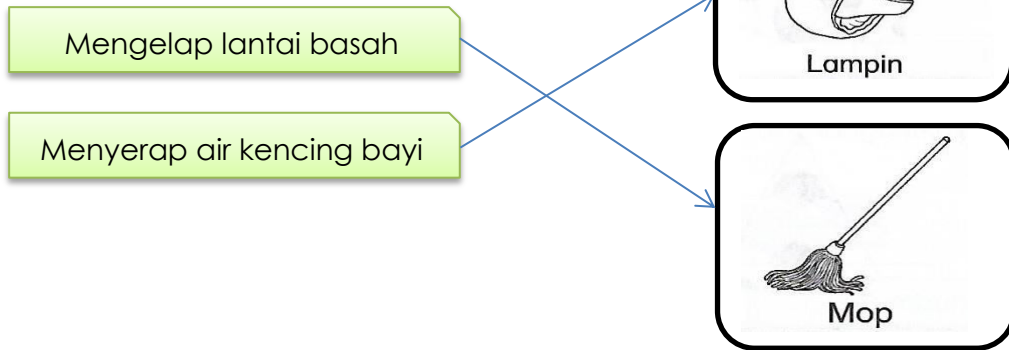
4. A) 
- B) 

5. A) Akar serabut
B) Batang tidak berkayu
D) Berbunga
E) Urat daun selari
6. Ditarik oleh magnet: *(pilih 3 jawapan sahaja)*
 - A) Spring / Jarum
 - B) Paku tekan / Pengetip kuku
 - C) Klip kertas / Kunci

Tidak ditarik oleh magnet: *(pilih 3 jawapan sahaja)*

- D) Sikat / Belon
- E) Kertas / Gabus
- F) Bulu Tangkis / Botol kaca

7.



8.

A)



B)

