

Tukar unit masa



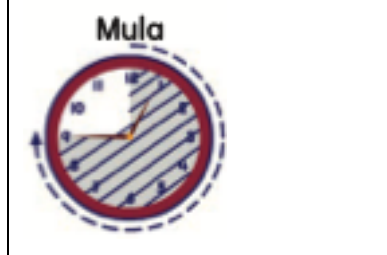
1. Tukar jam kepada minit

a) $\frac{5}{6}$ jam =

b) $\frac{1}{5}$ jam =

c) $8\frac{1}{2}$ jam =

2. Gambar rajah di bawah menunjukkan pergerakan jarum minit. Lengkapkan.

		
— jam = — minit	— jam = — minit	— jam = — minit

3. Kira dan nyatakan jawapan dalam jam.

a) $\frac{1}{4}$ hari =

b) $2\frac{1}{2}$ hari =

c) $6\frac{3}{8}$ hari =

4. Hitung

a) $\frac{2}{3}$ tahun = _____ bulan

b) $1\frac{3}{4}$ tahun = _____ bulan

5. Lengkapi

a) $\frac{1}{2}$ dekad = _____ tahun

b) $2\frac{4}{5}$ dekad = _____ tahun

c) $\frac{9}{10}$ abad = _____ dekad

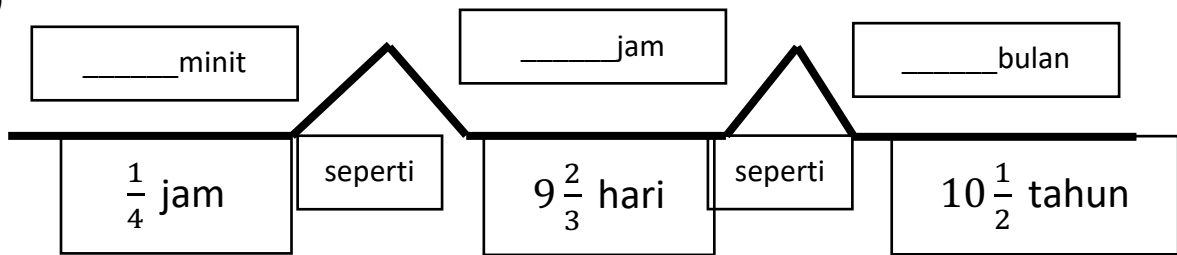
d) $8\frac{1}{5}$ abad = _____ dekad

e) $6\frac{1}{4}$ abad = _____ tahun

f) $32\frac{1}{10}$ dekad = _____ tahun

Isi petak kosong

a)



b)

