

KEMENTERIAN
PENDIDIKAN
MALAYSIA
Jabatan Pendidikan Negeri



MODUL INTERVENSI PEMBELAJARAN

SPM 2021

EKONOMI

Nama :

Kelas :

DISEDIAKAN OLEH PANEL AKRAM NEGERI TERENGGANU

Tidak dibenarkan menyunting atau mencetak mana-mana bahagian dalam modul ini tanpa kebenaran Pengarah Pendidikan Negeri Terengganu

PANEL PENULIS

BIL	NAMA	SEKOLAH
1	DASIMAH NAWATI BT MUDA	SMK SULTAN AHMAD
2	HASMAH BT YUSOF	SMK BUKIT TUNGGAL
3	SUHAIZA BT SHEIKH ABDULLAH	SMA AL FALAH
4	RADIAH BT ISMAIL	SMK SUNGAI TONG
5	MOHD SYAMRI BIN ABD RAZAK	SMK SERI NERING
6	MOHD NAZIR BIN DERAMAN	SMKA WATANIAH
7	NORAZLINA BT AZIZ	SMK SULTAN SULAIMAN
8	SITI AISAH BINTI MUDA	SMK MAK LAGAM

BAB 1: PENGENALAN KEPADA EKONOMI

Ilmu ekonomi – satu bidang **sains sosial** yang mengkaji cara manusia mengurus sumber ekonomi yang terhad untuk memenuhi kehendak manusia yang tidak terhad.

Faktor Pengeluaran	
Tanah	<ul style="list-style-type: none"> ➤ sumber anugerah alam semula jadi, ➤ penawarannya adalah terhad, ➤ tidak mempunyai mobiliti tempat kerana tidak boleh bergerak ➤ ada mobiliti kegunaan ➤ contohnya tapak semeaian pertanian, tapak pembinaan rumah ➤ ganjaran sewa,
Buruh	<ul style="list-style-type: none"> ➤ menyumbang tenaga fizikal dan mental dalam proses pengeluaran ➤ terdiri daripada buruh mahir-doktor, guru dan buruh kurang mahir-pekerja kilang ➤ mobiliti geografi yang tinggi (mudah bertukar/bergerak ke pekerjaan lain) ➤ ganjaran upah
Modal	<ul style="list-style-type: none"> ➤ Alat ciptaan manusia yang digunakan untuk mengeluarkan barang dan perkhidmatan ➤ mempunyai mobiliti geografi yang tinggi kerana <ul style="list-style-type: none"> ➤ mudah dipindahkan dari satu tempat k tempat lain ➤ contoh: mesin ➤ ganjarannya faedah ➤ contohnya bangunan dan kilang
Usahawan	<ul style="list-style-type: none"> ➤ individu yang menggabungkan faktor pengeluaran mengeluarkan barang dan perkhidmatan ➤ seorang individu yang kreatif, inovatif, berani menghadapi risiko, tidak mudah berputus asa, gigih dan rajin ➤ ganjarannya untung ➤ contohnya pengusaha batik, pemilik restoren

Keluk Kemungkinan Pengeluaran (KKP)

Maksud	KKP ialah keluk yang menunjukkan had maksimum tingkat pengeluaran yang dapat dicapai oleh sesebuah ekonomi dengan menggunakan faktor pengeluaran yang ada dan tingkat teknologi tertentu
Analisis	<ol style="list-style-type: none"> 1. Ekonomi telah mencapai guna tenaga penuh 2. Ekonomi hanya mengeluarkan dua jenis barang. 3. Sumber ekonomi yang dimiliki adalah terhad dan tetap. 4. Tingkat teknologi adalah tetap

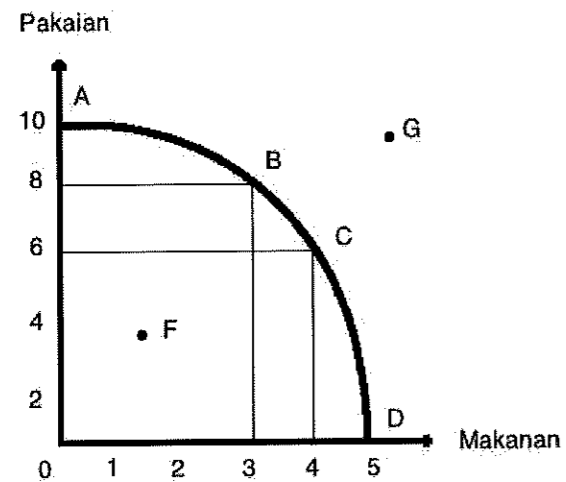
- Formula untuk mengira kos lepas ialah :

$$\text{Kos lepas barang X} = \frac{\text{perubahan barang Y}}{\text{perubahan barang X}}$$

$$\text{Kos lepas barang Y} = \frac{\text{perubahan barang X}}{\text{perubahan barang Y}}$$

- Contoh jadual di bawah menunjukkan kombinasi pengeluaran pakaian dan makanan

Kombinasi pengeluaran	Pakaian (ribu helai)	Makanan (tan metrik)
A	10	0
B	8	3
C	6	4
D	0	5



Kombinasi D – semua faktor pengeluaran digunakan untuk mengeluarkan makanan (5 tan metrik) dan tiada pakaian dikeluarkan (0 ribu helai)

Kombinasi A – semua faktor pengeluaran digunakan untuk mengeluarkan pakaian (10 ribu helai) dan tiada makanan dikeluarkan (0 tan metrik)

Titik G

- titik berada di luar kawasan KKP
- berlaku **ketidakupayaan ekonomi**
- ekonomi tidak mampu mengeluarkan barang
- ekonomi mengalami **kekurangan faktor pengeluaran** kombinasi buruh dan modal

Masalah **pilihan** pula ditunjukkan oleh pergerakan di **sepanjang keluk** kemungkinan pengeluaran iaitu **A, B, C dan D**

- titik berada di atas KKP
- semua sumber ekonomi telah digunakan sepenuhnya (**tingkat guna tenaga penuh**)
- keluaran telah berada pada tahap maksimum
- tambahan pengeluaran makanan akan berlaku jika pengeluaran pakaian dilepaskan (wujud kos lepas)

Titik F

- titik berada di dalam kawasan KKP
- berlaku **ketidakcekapan ekonomi**
- ekonomi gagal menggunakan faktor pengeluaran sepenuhnya
- masalah **pengangguran dan pembaziran**

MASALAH EKONOMI

Konsep Unit eko.	Kekurangan	Pilihan	Kos lepas
Isi rumah	Sumber pendapatan/ wang	Memilih barangan untuk memaksimumkan kepuasan Contoh barangan pilihan	Barang kedua terbaik yang terpaksa dilepaskan setelah memilih barang yang terbaik Contoh barang yang dilepaskan
Firma	Faktor-faktor pengeluaran spt buruh, tanah, modal	Untuk mencapai keuntungan yang maksimum Contoh output/ keluaran yang dipilih	Keluaran / output kedua terbaik yang terpaksa dilepaskan setelah memilih Keluaran / output yang terbaik Contoh output/ keluaran yang dilepaskan
Kerajaan	Sumber hasil/ pendapatan negara	Untuk memberi kebajikan yang maksimum kpd rakyat Contoh projek pembangunan yang dipilih	Projek pembangunan kedua terbaik yang terpaksa dilepaskan setelah memilih projek pembangunan yang terbaik Contoh projek pembangunan yang dilepaskan

MASALAH ASAS EKONOMI (ABBU)

MASALAH ASAS EKONOMI	SISTEM EKONOMI PERANCANGAN PUSAT	SISTEM EKONOMI KAPITALIS	SISTEM EKONOMI CAMPURAN
Apa yang hendak dikeluarkan?	<ul style="list-style-type: none"> Jenis barangan ditetapkan oleh kerajaan 	<ul style="list-style-type: none"> Jenis barangan ditentukan melalui mekanisme pasaran 	<ul style="list-style-type: none"> Jenis barangan ditentukan melalui mekanisme pasaran bagi barang ekonomi Kerajaan menentukan pengeluaran barang awam.
Berapa hendak dikeluarkan?	<ul style="list-style-type: none"> Jumlah barangan ditetapkan oleh kerajaan 	<ul style="list-style-type: none"> Jumlah barangan ditetapkan melalui mekanisme harga 	<ul style="list-style-type: none"> Jumlah barangan ditentukan melalui mekanisme pasaran bagi barang ekonomi Kerajaan menentukan pengeluaran barang awam.
Bagaimana hendak dikeluarkan?	<ul style="list-style-type: none"> Ditentukan oleh kerajaan 	<ul style="list-style-type: none"> Pilih teknik pengeluaran cekap yang dapat memaksimumkan keuntungan dan meminimumkan kos Sama ada secara intensif buruh atau intensif modal 	<ul style="list-style-type: none"> Firma pilih teknik intensif buruh @ modal yg paling cekap iaitu yg dapat maksimumkan untung & minimumkan kos Kerajaan menggunakan teknik pengeluaran yg dapat memaksimumkan kebajikan rakyat.
Untuk siapa dikeluarkan?	<ul style="list-style-type: none"> Ditentukan oleh kerajaan 	<ul style="list-style-type: none"> Melalui corak agihan pendapatan & kuasa beli 	<ul style="list-style-type: none"> Diselesaikan melalui corak agihan pendapatan/kuasa beli

	<ul style="list-style-type: none"> • Utk semua lapisan masyarakat 	<ul style="list-style-type: none"> • Barangan dikeluarkan kepada golongan yg sanggup membayarnya sahaja 	
--	--	--	--

PERBEZAAN ANTARA SISTEM-SISTEM EKONOMI

CIRI - CIRI	SISTEM EKONOMI PERANCANGAN PUSAT	SISTEM EKONOMI KAPITALIS	SISTEM EKONOMI CAMPURAN
PEMILIKAN SUMBER	<ul style="list-style-type: none"> • Milik penuh kerajaan 	<ul style="list-style-type: none"> • Individu dan firma bebas memiliki sumber 	<ul style="list-style-type: none"> • Individu dan firma bebas memiliki sumber tetapi dikawal oleh kerajaan • kerajaan memiliki barang awam
PEMBUAT KEPUTUSAN	<ul style="list-style-type: none"> • Keputusan ekonomi dibuat oleh kerajaan 	<ul style="list-style-type: none"> • Individu dan firma bebas membuat keputusan menerusi mekanisme harga 	<ul style="list-style-type: none"> • Individu dan firma bebas membuat keputusan ekonomi tetapi dikawal oleh kerajaan • barang awam akan dikeluarkan oleh kerajaan
PILIHAN	<ul style="list-style-type: none"> • Hanya kerajaan yang menentukan pilihan • Individu dan firma tiada hak untuk membuat pilihan 	<ul style="list-style-type: none"> • Individu dan firma bebas membuat pilihan 	<ul style="list-style-type: none"> • Individu dan firma bebas membuat pilihan tetapi dikawal oleh kerajaan
PENENTUAN HARGA	<ul style="list-style-type: none"> • Harga stabil kerana ditentukan oleh kerajaan 	<ul style="list-style-type: none"> • Harga ditentukan oleh mekanisme harga iaitu interaksi antara permintaan dan penawaran 	<ul style="list-style-type: none"> • Harga ditentukan oleh mekanisme harga tetapi dikawal oleh kerajaan.
PERSAINGAN	<ul style="list-style-type: none"> • Tidak wujud persaingan antara pengeluar 	<ul style="list-style-type: none"> • Wujud persaingan yang kuat antara firma / firma bebas bersaing 	<ul style="list-style-type: none"> • Persaingan antara pengeluar digalakkan tetapi dikawal kerajaan.
MOTIF PENGELUARAN	<ul style="list-style-type: none"> • Motif untuk memaksimumkan kebajikan rakyat 	<ul style="list-style-type: none"> • Firma bermotif keuntungan semata-mata / maksimum • Individu bertujuan untuk memaksimumkan kepuasan 	<ul style="list-style-type: none"> • Individu bertujuan untuk memaksimumkan kepuasan • Firma untuk mendapat keuntungan yang maksimum • Kerajaan untuk sumber kebajikan kepada rakyat
CONTOH	China, Cuba, Korea Utara	A. Syarikat, Hong Kong, Switzerland	Malaysia, Thailand, Indonesia

LATIHAN OBJEKTIF

- 1 Antara berikut yang manakah paling tepat mengenai definisi ekonomi ?
 - A Sains praktikal tentang pengeluaran dan pengagihan
 - B Satu kajian bagaimana manusia dapat memenuhi kehendak yang tidak terhad
 - C Sains kekayaan yang mengkaji keadaan dan sebab terdapatnya kekayaan negara
 - D Satu kajian tentang cara bagaimana manusia bekerjasama untuk mencapai keperluan kebendaan

- 2 Kajian ekonomi berkaitan tentang..
 - A agihan sumber ekonomi terhad untuk memenuhi kehendak yang tidak terhad
 - B bagaimana individu menggunakan barang dan perkhidmatan
 - C aktiviti firma memaksimumkan keuntungan
 - D bagaimana firma mengeluarkan produk

- 3 Masalah utama ekonomi berlaku disebabkan oleh
 - A sumber ekonomi yang terhad dengan kehendak yang terhad
 - B sumber ekonomi yang tidak terhad dan kehendak yang terhad
 - C sumber ekonomi yang terhad dengan kehendak yang tidak terhad
 - D sumber ekonomi yang tidak terhad dengan kehendak yang tidak terhad

- 4 Ilmu ekonomi mengkaji tentang bagaimana manusia
 - A menggunakan wang bagi meningkatkan tabungan masa depan
 - B menyeimbangkan pelbagai kehendak dengan sumber ekonomi yang ada
 - C mengurangkan jurang perbezaan antara golongan kaya dengan golongan miskin
 - D menghasilkan keluaran dengan menggunakan faktor pengeluaran secara maksimum

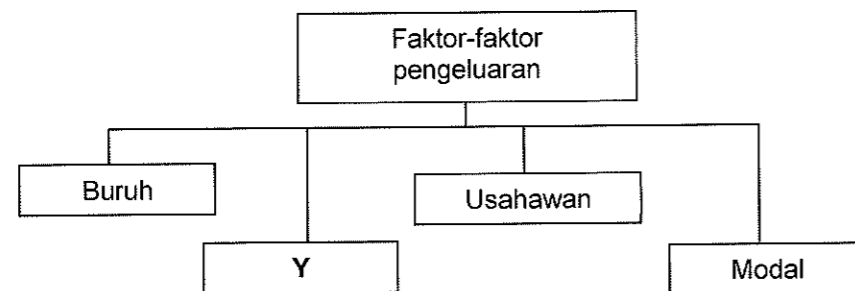
- 5 Ekonomi adalah kajian tentang
 - A bagaimana manusia mengatasi masalah kos lepas
 - B bagaimana manusia memperuntukkan sumber ekonomi
 - C tindakan manusia untuk memenuhi kehendak yang terhad
 - D tindakan manusia untuk mengurangkan pembaziran sumber

- 6 Pernyataan manakah benar tentang modal?
 - I Mempunyai mobiliti geografi
 - II Tidak mempunyai mobiliti tempat
 - III Kuantiti penawarannya tidak terhad
 - IV Alat ciptaan manusia yang digunakan untuk menghasilkan keluaran
 - A I dan II
 - B I dan IV
 - C II dan III
 - D III dan IV

7 Pasangan manakah yang benar tentang buruh dan usahawan.

	Buruh	Usahawan
A	Bebas membuat keputusan	Tidak bebas membuat keputusan
B	Terima ganjaran upah	Terima ganjaran untung
C	Penawaran terhad	Penawaran tidak terhad
D	Bekerja sendiri	Bekerja dengan orang lain


8 Rajah berikut menunjukkan sumber-sumber ekonomi yang perlu untuk mengeluarkan barang-barang dan perkhidmatan.



Y adalah satu daripada sumber tersebut.
Apakah ganjaran yang diberi kepada penyumbang Y?

- A Upah
- B Sewa
- C Faedah
- D Untung

9 Gambar berikut menunjukkan sejenis faktor pengeluaran.



Pernyataan manakah yang menggambarkan faktor pengeluaran tersebut?

- A Input produktif yang dicipta oleh manusia yang membantu dalam proses pengeluaran
- B Berperanan menyelaras dan menggabungkan faktor pengeluaran
- C Sumber semulajadi yang mempunyai penawaran terhad
- D membenarkan orang lain menguruskan untungnya


10 Gambar berikut menunjukkan sejenis faktor pengeluaran.



Pernyataan manakah yang menggambarkan sumber ekonomi tersebut?

- A Input produktif yang dicipta oleh manusia yang membantu dalam proses pengeluaran
- B Sumber semulajadi yang mempunyai penawaran terhad
- C Membenarkan orang lain menguruskan untungnya
- D Mempunyai mobiliti geografi yang tinggi


11 Gambar berikut menunjukkan faktor pengeluaran.



Pernyataan manakah yang menggambarkan sumber ekonomi A?

- A Mempunyai mobiliti geografi yang tinggi
- B Mempunyai penawaran yang tidak terhad
- C Menggabungkan faktor pengeluaran yang lain
- D Mencapai pengeluaran output yang maksimum

12 Gambar berikut menunjukkan sejenis faktor pengeluaran.



Pernyataan manakah yang menggambarkan sumber ekonomi tersebut?

- A Mendapat ganjaran dalam bentuk untung
- B Menggabungkan input-input pengeluaran bagi menghasilkan output
- C Menyumbangkan tenaga mental dan fizikal dalam proses pengeluaran
- D Merupakan alat ciptaan manusia untuk mengeluarkan barang dan perkhidmatan

- 13 Zaed bekerja di sebuah bank di Kuala Terengganu sebagai seorang Pengurus Kewangan. Beliau telah bekerja selama 7 tahun di bank tersebut.

Pernyataan yang manakah betul tentang Zaed?

- A Mendapat ganjaran dalam bentuk sewa
- B Merupakan sumber ekonomi yang melakukan inovasi
- C Menggabungkan faktor pengeluaran bagi menghasilkan output
- D Menyumbangkan tenaga mental dan fizikal dalam proses pengeluaran

- 14 Situasi berikut berkaitan dengan masalah ekonomi.

Syarikat JUN bercadang untuk mengeluarkan majalah dengan anggaran kos sebanyak RM160,000 dan novel bernilai RM180,000. Modal yang dimiliki oleh syarikat sebanyak RM 190,000.

Apakah masalah ekonomi yang dihadapi oleh syarikat tersebut?

- A Kekurangan pendapatan
- B Kekurangan sumber hasil
- C Pilihan yang dibuat berdasarkan kepuasan maksimum dan kos yang minimum
- D Kos lepas yang dihadapi ialah keluaran kedua terbaik yang terpaksa dilepaskan

- 15 Firma membuat pilihan apabila mengeluarkan sesuatu keluaran bertujuan

- A memaksimumkan kepuasan pengguna
- B meminimumkan kos pengeluaran
- C mengurangkan output pengeluaran
- D memenuhi kehendak manusia

- 16 Masalah kekurangan berlaku kerana

- A kadar pertumbuhan penduduk yang tidak terkawal
- B kehausan dan kepupusan sumber alam semula jadi
- C faktor pengeluaran adalah tidak terhad dalam ekonomi
- D faktor pengeluaran adalah terhad berbanding dengan kehendak yang pelbagai

- 17 Kilang barangan elektrik ETON memiliki sumber-sumber yang terhad untuk mengeluarkan penghawa dingin dan periuk tekanan. Kombinasi keluaran kilang barangan elektrik adalah seperti berikut:

Kombinasi keluaran	Penghawa Dingin	Periuk Tekanan
A	0	100
B	20	85
C	60	55
D	75	0

Jika kombinasi keluaran berubah dari A ke C, berapakah kos lepas untuk mengeluarkan 60 buah penghawa dingin?

- A 5 buah periuk tekanan
- B 10 buah periuk tekanan
- C 40 buah periuk tekanan
- D 45 buah periuk tekanan

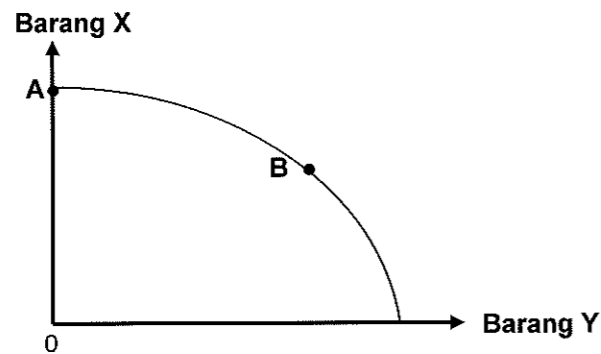
18 Jadual berikut menunjukkan pengeluaran Syarikat Ena Sdn. Bhd.

Baju Kurung (pasang)	Baju Melayu (pasang)
0	5000
1000	4000
2000	2500
3000	500
5000	0

Apakah kos lepas, jika syarikat tersebut menambah pengeluaran baju kurung dari 2000 unit ke 3000 unit?

- A 1 000 pasang baju kurung
- B 5 000 pasang baju kurung
- C 1 500 pasang baju melayu
- D 2 000 pasang baju melayu

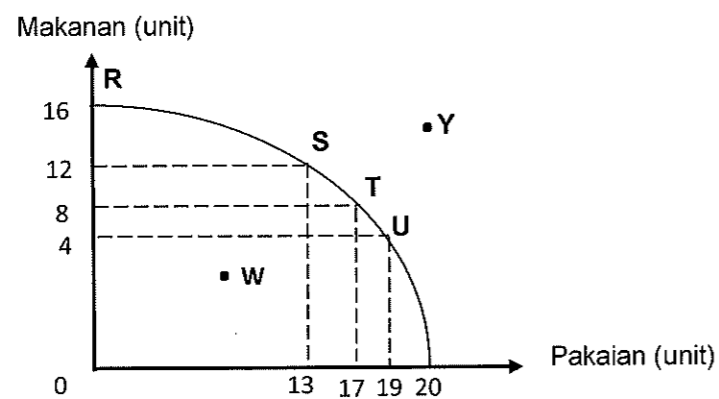
19 Rajah berikut menunjukkan sebuah keluk kemungkinan pengeluaran.



Pilih pernyataan yang tepat apabila kombinasi pengeluaran bergerak daripada titik A ke B.

- A Semakin banyak barang X dikeluarkan dalam ekonomi
- B Semakin banyak barang Y dikeluarkan dalam ekonomi
- C Kadar pengangguran adalah tinggi dalam ekonomi
- D Berlaku kemajuan tingkat teknologi pengeluaran

20 Rajah berikut adalah keluk kemungkinan pengeluaran bagi sebuah ekonomi.



Pernyataan yang manakah benar?

- A Titik R, S, T dan U menunjukkan kombinasi ketidakcekapan ekonomi
- B Titik Y menunjukkan masalah ketidakupayaan ekonomi
- C Firma akan mengeluarkan barang pada titik Y
- D Titik kecekapan ialah pada titik W

21 Jadual berikut menunjukkan kombinasi pengeluaran makanan dan pakaian sebuah ekonomi.

Kombinasi pengeluaran	Makanan (tan metrik)	Pakaian (ribu helai)
A	0	20
B	5	18
C	9	12
D	15	0

Apakah akan berlaku jika kombinasi pengeluaran 9 tan metrik makanan dan 16 ribu helai pakaian dipilih?

- A Ekonomi tidak berupaya mencapai kombinasi pengeluaran yang dipilih
- B Ekonomi akan beroperasi pada tahap guna tenaga penuh
- C Ekonomi akan mengalami pembaziran sumber
- D Ekonomi berlaku pengangguran yang serius

22 Maklumat berikut berkaitan dengan Firma Fafa.

Firma Fafa akan mengeluarkan baju melayu kanak-kanak sempena musim perayaan yang akan tiba pada bulan Mei nanti. Firma Fafa telah menambah 20 orang tukang jahit untuk menjahit baju melayu tersebut memandangkan permintaan yang tinggi menjelang musim perayaan nanti.

Antara berikut, masalah asas ekonomi manakah yang belum diselesaikan oleh Firma Fafa?

- I Apa yang hendak dikeluarkan
 - II Berapa yang hendak dikeluarkan
 - III Bagaimana hendak dikeluarkan
 - IV Untuk siapa hendak dikeluarkan
- A I dan II
 - B I dan III
 - C II dan IV
 - D III dan IV

23 Maklumat berikut berkaitan dengan penyelesaian masalah asas ekonomi oleh Syarikat A.

- Mengeluarkan barang dengan cara memaksimumkan keuntungan dan meminimumkan kos
- Bergantung kepada corak agihan pendapatan

Antara berikut, masalah asas ekonomi manakah yang dapat diselesaikan oleh Syarikat A?

- I Apa yang hendak dikeluarkan
 - II Bagaimana hendak dikeluarkan
 - III Untuk siapa hendak dikeluarkan
 - IV Berapa yang hendak dikeluarkan
- A I dan II
 - B I dan III
 - C II dan III
 - D III dan IV

24 Maklumat berikut berkaitan dengan Firma B

Firma B akan mengeluarkan pelbagai jenis pakaian sempena musim perayaan yang akan tiba pada bulan Mei nanti. Firma B telah menambah 20 orang tukang jahit memandangkan permintaan yang tinggi menjelang musim perayaan nanti.

Antara berikut, masalah asas ekonomi manakah yang telah diselesaikan oleh Firma B?

- I Apa yang hendak dikeluarkan
- II Bagaimana hendak dikeluarkan
- III Untuk siapa hendak dikeluarkan
- IV Berapa yang hendak dikeluarkan

- A I dan II
- B I dan III
- C II dan IV
- D III dan IV

25 Maklumat berikut berkaitan dengan satu sistem ekonomi.

- Pengguna dan pengeluar bebas bersaing
- Cara pengeluaran barang awam ditentukan oleh kerajaan

Apakah sistem ekonomi yang digambarkan dalam pernyataan berikut?

- A Islam
- B Kapitalis
- C Campuran
- D Perancangan pusat

26 Maklumat berikut berkaitan dengan Negara X dan Y.

Negara X	Negara Y
Barangan dan perkhidmatan dikeluarkan oleh kerajaan	Sebanyak 20 000 buah komputer dikeluarkan oleh firma

Apakah masalah asas ekonomi yang berkaitan dengan maklumat tersebut?

	Negara X	Negara Y
A	Berapakah hendak dikeluarkan	Untuk siapa dikeluarkan
B	Apakah barang yang dikeluarkan	Berapakah barang yang dikeluarkan
C	Berapakah barang hendak dikeluarkan	Untuk siapa dikeluarkan
D	Bagaimanakah hendak dikeluarkan	Apakah yang hendak dikeluarkan

27 Antara yang berikut, yang manakah kelebihan sistem ekonomi pasaran bebas?

- A Kecekapan penggunaan sumber
- B Kebajikan masyarakat diutamakan
- C Agihan pendapatan yang seimbang
- D Mewujudkan kuasa monopoli korporat besar

28 Pernyataan manakah yang betul tentang ekonomi Islam?

- A Pengeluar mengeluarkan barangan untuk memperoleh keuntungan
- B Wujudnya persaingan yang adil dan saksama antara individu
- C Mementingkan kebendaan dan kekayaan di dunia
- D Individu bebas memiliki sumber kekayaan

29 Maklumat berikut berkaitan dengan ciri sistem ekonomi sebuah negara.

- Persaingan bebas antara firma
- Kawalan oleh kerajaan melalui sistem cukai dan subsidi

Negara tersebut mengamalkan sistem ekonomi

- A perancangan pusat
- B campuran
- C kapitalis
- D Islam

30 Pernyataan manakah yang menggambarkan sistem ekonomi campuran?

- A Harga ditentukan oleh mekanisme harga
- B Sumber ekonomi dikawal sepenuhnya oleh kerajaan
- C Cara pengeluaran barang awam ditentukan oleh kerajaan
- D Hanya individu dan pihak swasta memiliki faktor pengeluaran

31 Maklumat berikut menunjukkan perbezaan antara dua jenis sistem ekonomi.

Negara A	Negara B
Pengeluar memaksimumkan keuntungan manakala pengguna dapat memaksimumkan kepuasan.	Pilihan barang dan perkhidmatan bagi individu adalah terhad.

Apakah sistem ekonomi yang diamalkan oleh kedua-dua negara tersebut?

	Negara A	Negara B
A	Sistem ekonomi pasaran bebas	Sistem ekonomi campuran
B	Sistem ekonomi sosialis	Sistem ekonomi pasaran bebas
C	Sistem ekonomi pasaran bebas	Sistem ekonomi sosialis
D	Sistem ekonomi campuran	Sistem ekonomi sosialis

32 Apakah faktor yang mendorong kerajaan untuk campur tangan dalam sistem ekonomi campuran?

- A Melaksanakan projek pembangunan yang berisiko tinggi
- B Memastikan pulangan keuntungan yang tinggi
- C Memaksimumkan kebajikan rakyat
- D Mengelakkan pembaziran sumber

LATIHAN ESEI

- 1 Jelaskan masalah kekurangan, pilihan dan kos lepas:
- (i) isi rumah [3 markah]
 - (ii) Kerajaan [3 markah]
- 2 Gambar berikut menunjukkan **dua** faktor pengeluaran yang digunakan dalam pengeluaran



Terangkan **tiga** perbezaan yang terdapat dalam faktor pengeluaran tersebut. [6 markah]

- 3 Maklumat berikut berkaitan dengan Encik Aidil.

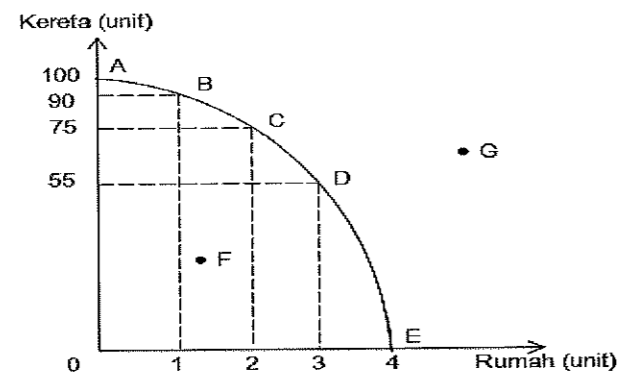
Encik Aidil merupakan pekebun kecil di Saujana, Setiu. Beliau mempunyai kebun seluas 20 hektar dan menggajikan lima orang pekerja. Beliau mempunyai modal sebanyak RM200,000. Dia telah memilih untuk menanam kelapa sawit yang berjumlah RM190,000 berbanding kelapa yang bernilai RM195,000.

- (i) Terangkan tiga faktor pengeluaran yang terdapat dalam petikan tersebut. [6 markah]
 - (ii) Nyatakan ciri-ciri yang ada pada Encik Aidil. [3 markah]
 - (iii) Terangkan masalah ekonomi yang dihadapi oleh Encik Aidil. [5 markah]
- 4 Jelaskan konsep masalah asas ekonomi berikut:
- (i) apa yang hendak dikeluarkan [3 markah]
 - (ii) berapa hendak dikeluarkan [3 markah]
 - (iii) bagaimana hendak dikeluarkan [3 markah]

(iv) untuk siapa hendak dikeluarkan

[3 markah]

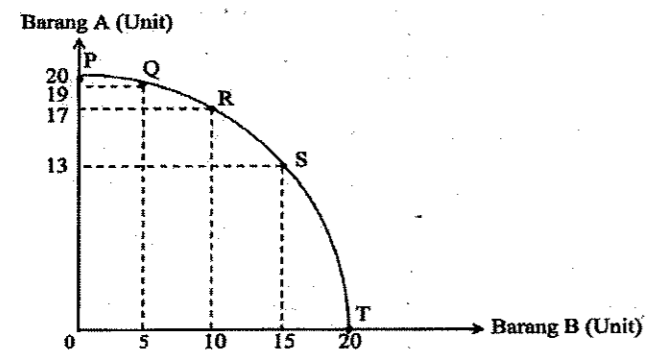
5 Rajah di bawah ini menunjukkan keluk kemungkinan pengeluaran.



(a) Berdasarkan rajah di atas, jelaskan titik yang menggambarkan ketidakcekapan pengeluaran. [3 markah]

(b) Hitung kos lepas jika kombinasi pengeluaran berubah dari titik B ke titik C. [2 markah]

6 Rajah menunjukkan keluk kemungkinan pengeluaran suatu firma.



(a) Jika firma menukar kombinasi pengeluaran dari R ke S, jelaskan implikasi pilihan tersebut. [2 markah]


(b) Jelaskan kombinasi pengeluaran pada titik. [2 markah]

(c) Beri **dua** andaian untuk menganalisis keluk tersebut. [2 markah]

7 Perbualan berikut berkaitan dengan sistem ekonomi di dua buah negara.

Faris, sudah tiga tahun kamu pindah ke negara baharu, saya dengar rakyat negara kamu bukan sahaja bebas mengumpul kekayaan sendiri, malah semua kemudahan awam lain disediakan oleh kerajaan. Betulkah ?

Memang betul Hafizi, kerajaan negara kamu pun juga sangat baik. Semua barang keperluan rakyat disediakan. Inilah kelebihan semua sumber dimiliki oleh kerajaan



(i) Apakah sistem ekonomi yang diamalkan oleh negara Faris dan negara Hafizi? [2 markah]

(ii) Bezakan bagaimana sistem ekonomi negara Faris dan negara Hafizi menyelesaikan masalah asas ekonomi berikut:
 (a) Berapa yang hendak dikeluarkan
 (b) Bagaimana hendak dikeluarkan
 (c) Untuk siapa hendak dikeluarkan [6 markah]

8 Jelaskan **tiga** kelebihan sistem ekonomi yang diamalkan oleh negara Hafizi selain daripada yang terdapat dalam petikan. [3 markah]

9 Jelaskan peranan kerajaan dalam sistem ekonomi campuran. [6 markah]

10 Huraikan ciri-ciri utama Ekonomi Islam. [6 markah]

11 Jadual berikut menunjukkan kombinasi pengeluaran barang X dan barang Y.

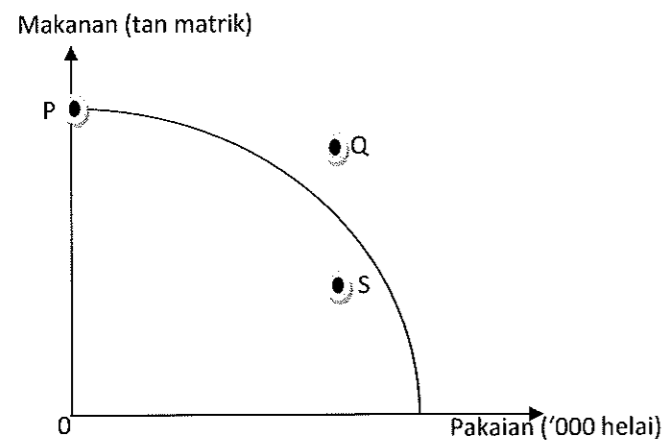
Pilihan kombinasi	Barang X	Barang Y
A	120	0
B	100	60
C	60	100
D	0	120

Hitung kos lepas untuk mengeluarkan:

(i) 100 unit barang X [2 markah]

(ii) 100 unit barang Y [2 markah]

12 Rajah menunjukkan keluk kemungkinan pengeluaran sebuah firma A.



Setujukah anda jika firma A berhasrat mengeluarkan barang pada kombinasi S?. Berikan alasan. [4 markah]

13 Maklumat berikut berkaitan dengan keinginan anda membeli dua barang di kantin sekolah.

Nasi Lemak Ayam	Mee Goreng
RM 4.00	RM 4.00

Bagaimana penyelesaian masalah tersebut jika anda hanya mempunyai wang saku RM 5.00? [5 markah]

14 Jelaskan empat peranan kerajaan dalam sistem ekonomi di Malaysia. [4 markah]

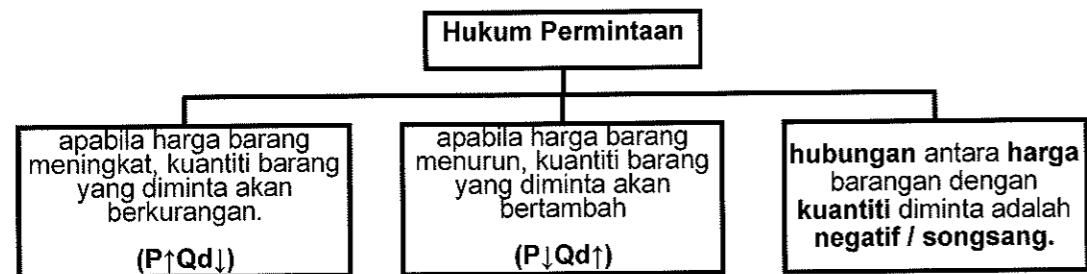
15 Terangkan kelebihan sistem ekonomi yang diamalkan di Amerika Syarikat. [5 markah]

BAB 2: PASARAN

PERMINTAAN (DD)

Permintaan ialah **keinginan dan kemampuan** seseorang individu untuk membeli sesuatu barang atau perkhidmatan pada suatu tingkat harga tertentu dan dalam jangka masa tertentu.

Hukum Permintaan



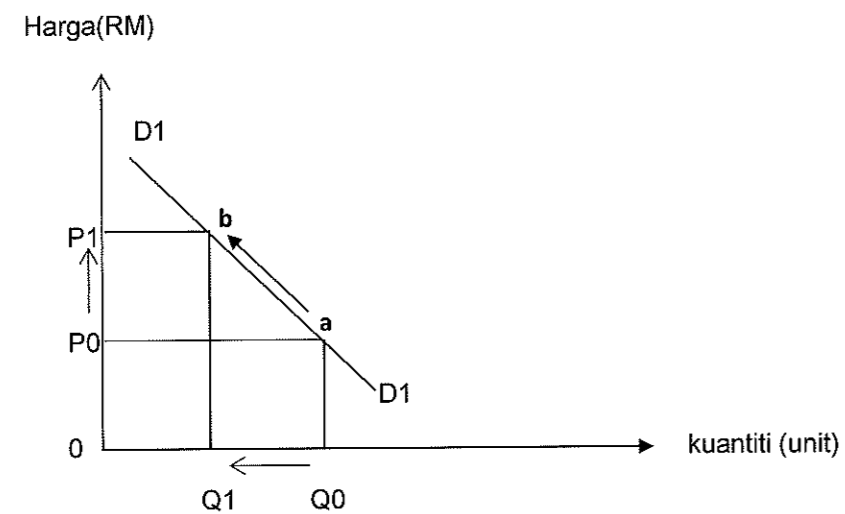
Permintaan Pasaran

- jumlah kuantiti barang tertentu yang diminta oleh **semua pengguna** dalam sesuatu pasaran pada suatu tingkat harga dalam tempoh masa tertentu

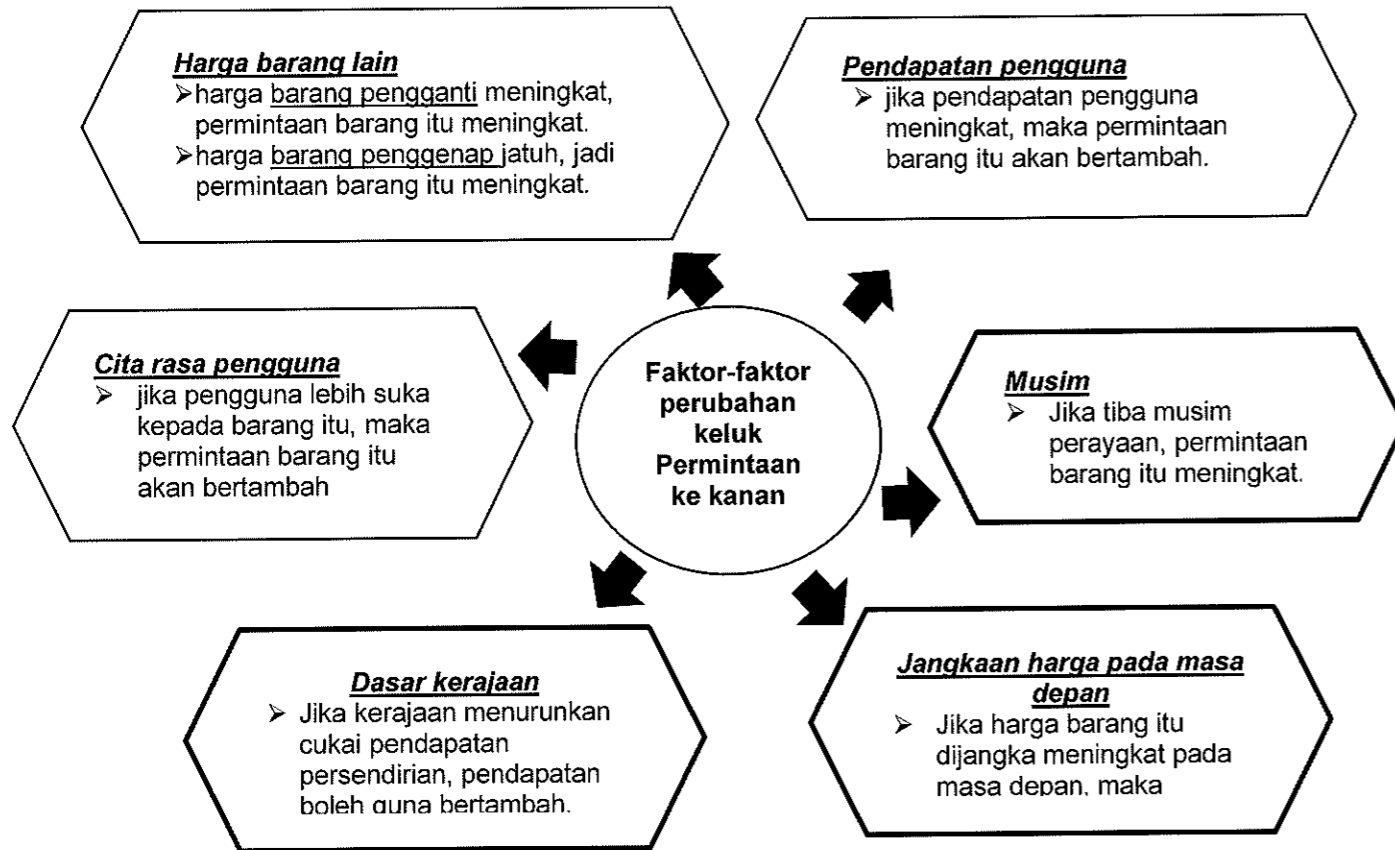
Faktor Yang Mempengaruhi Permintaan (Satu keluk Shi)

i. Harga barang itu sendiri

- jika harga sesuatu barang naik, maka kuantiti barang tersebut yang diminta akan berkurang
- jika harga sesuatu barang turun, maka kuantiti barang tersebut yang diminta akan bertambah



Faktor-faktor perubahan keluk Permintaan ke kanan
(huraian berubah jika keluk beralih ke kiri)

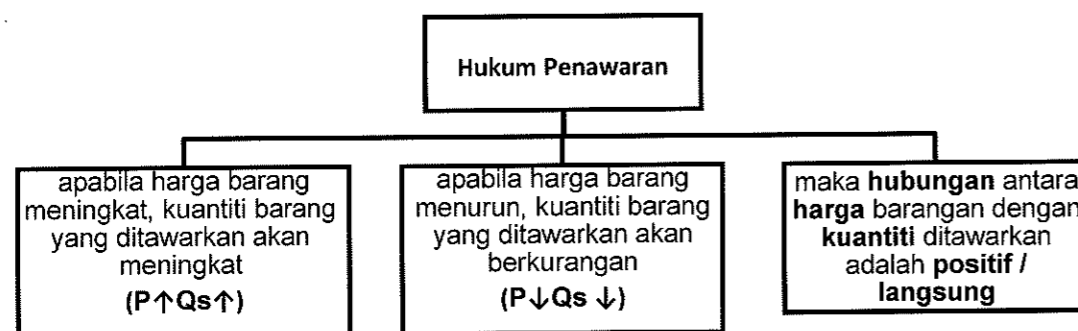


PENAWARAN (SS)

Maksud penawaran

- kuantiti sesuatu barang yang sanggup ditawarkan oleh sesebuah firma pada satu tingkat harga dalam tempoh masa tertentu

Hukum Penawaran (SS)

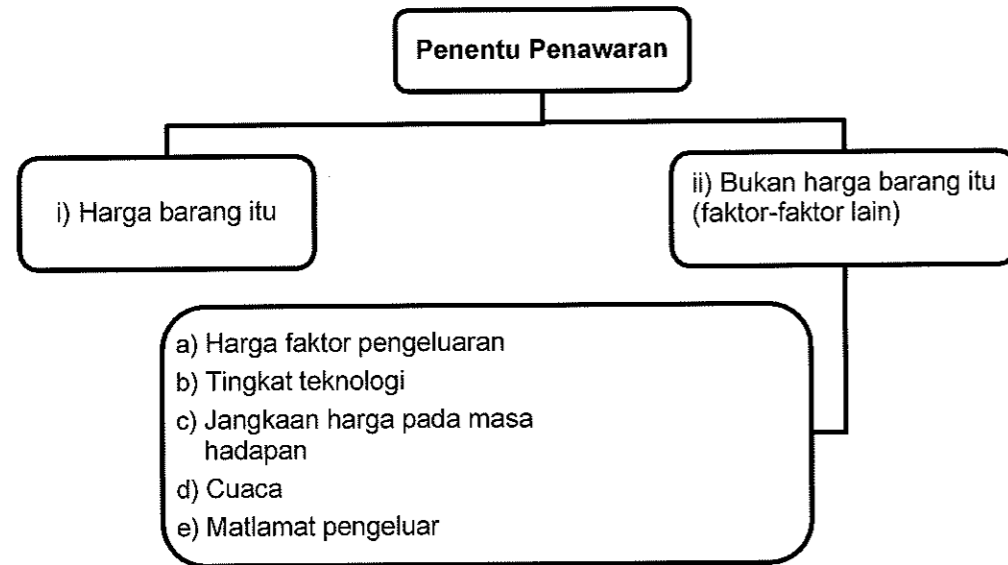


Penawaran Pasaran

- ❖ Jumlah kuantiti barang tertentu yang sanggup ditawarkan oleh semua firma dalam pasaran pada suatu tingkat harga dalam tempoh masa tertentu

Penentu Penawaran

(Andaian : faktor lain tidak berubah (Ceteris Paribus)




Faktor-faktor perubahan keluk penawaran ke kanan

(huraian berubah jika keluk beralih ke kiri)

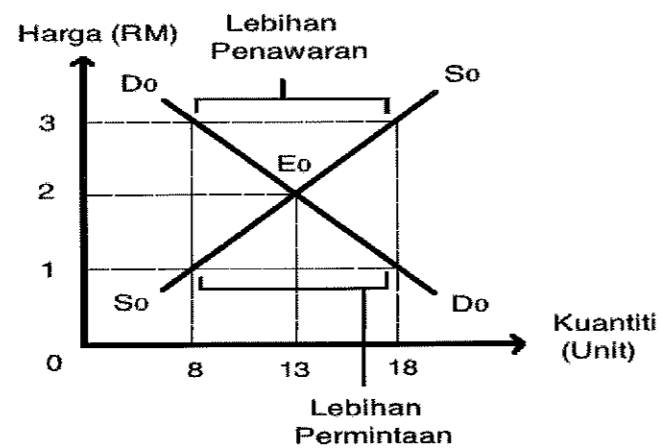
- (i) **Harga Barang Lain**
 - harga barang penggenap naik, maka penawaran barang X meningkat
 - harga barang pengganti jatuh, maka penawaran barang X meningkat.
- (ii) **Harga Faktor Pengeluaran**
 - harga faktor pengeluaran jatuh, menyebabkan kos pengeluaran berkurang, maka penawaran barang X meningkat.
- (iii) **Jangkaan Harga pada Masa Depan**
 - jika harga barang X dijangka turun pada masa depan maka penawaran barang X naik pada masa sekarang.
- (iv) **Tingkat Teknologi**
 - penggunaan teknologi moden/canggih akan mengurangkan kos pengeluaran dan meningkatkan daya pengeluaran. Maka penawaran barang X akan bertambah
- (v) **Cuaca**
 - pada cuaca baik, maka penawaran barang X akan bertambah
- (vi) **Matlamat Pengeluar**
 - jika firma ingin mendapatkan keuntungan yang maksimum, maka firma akan kurangkan kos dan naikkan penawaran barang X.
- (vii) **Dasar Kerajaan**
 - jika kerajaan memberi subsidi, maka kos pengeluaran akan berkurang, penawaran barang X meningkat.

Perubahan Dalam Kuantiti Ditawar (Δ dalam Q_s)	Perubahan Penawaran (ΔSS)
disebabkan harga barang itu sendiri	disebabkan oleh bukan harga barang itu sendiri / faktor-faktor lain selain harga barang itu (harga faktor pengeluaran, tingkat teknologi, cuaca dan lain-lain)
harga barang berubah	harga barang itu sendiri adalah tetap
berlaku pergerakan sepanjang keluk penawaran yang sama	berlaku peralihan keluk penawaran ke kiri atau ke kanan
pergerakan dari titik a ke titik c dikenal sebagai pengembangan penawaran	pergerakan dari keluk S₀ ke S₁ dikenal sebagai pertambahan penawaran
pergerakan dari titik a ke titik b dikenal sebagai penguncupan penawaran	pergerakan dari keluk S₀ ke S₂ dikenal sebagai pengurangan penawaran

Keseimbangan Pasaran



- ❖ apabila kuantiti diminta sama dengan kuantiti ditawarkan (**DD=SS**)
- ❖ keluk permintaan (DD) bersilang dengan keluk penawaran (SS) - titik E
- ❖ Pada tingkat keseimbangan, harga dan kuantiti keseimbangan dapat ditentukan



Penerangan Keluk

- E₀ = titik keseimbangan pasaran (RM2, 13 pasang kasut)
- P = RM3, DD pasaran = 8 pasang, SS pasaran = 18 pasang.
- Wujud lebihan SS sebanyak 10 pasang (18 - 8) .
- P cenderung ↓ hingga mencapai keseimbangan.
- P = RM1, DD pasaran = 18 pasang, SS pasaran = 8 pasang.
- Wujud lebihan DD sebanyak 10 pasang (18-8).
- P cenderung ↑ hingga mencapai keseimbangan

Keanjalan Harga Permintaan (Ed)

Keanjalan Harga Permintaan (Ed) = $\frac{\% \text{Perubahan dlm kuantiti diminta} / \% \Delta Q}{\% \text{Perubahan dlm harga} / \% \Delta P}$

$$1. \quad Ed = \frac{Q1 - Q0}{Q0} \times \frac{P0}{P1 - P0} \times 100$$

$$2. \quad Ed = \frac{Q1 - Q0}{Q0} \times \frac{P0}{P1 - P0}$$

Ciri-ciri	Anjal	Tidak Anjal
Tafsiran	Pekali keanjalan lebih daripada 1 (E _d > 1)	Pekali keanjalan kurang daripada 1 (E _d < 1)
	Peratus perubahan kuantiti lebih besar daripada peratus perubahan harga (% ΔQ > % ΔP)	Peratus perubahan kuantiti kurang daripada peratus perubahan harga (% ΔQ < % ΔP)
	Peratus perubahan harga (%ΔP) yang kecil menyebabkan peratus perubahan kuantiti (%ΔQ) permintaan yang lebih besar	Peratus perubahan harga (%ΔP) yang besar menyebabkan peratus perubahan kuantiti (%ΔQ) permintaan yang lebih kecil

Penentu Ed

Penentu	Anjal	Tidak anjal
Jenis barangan	Barang mewah (pengguna akan mengurangkan DD apabila harga ↑)	Barang keperluan (pengguna tetap membeli barang tersebut walaupun harga ↑)
Faktor jangka masa	Jangka masa panjang (mudah cari barang pengganti)	Jangka masa pendek (sukar cari barang pengganti)
Bilangan barang pengganti	Banyak barang pengganti – cth : minuman bergas	Barang yang kurang / tiada barang pengganti – cth : minyak petrol
Nisbah perbelanjaan pendapatan	Sebahagian besar pendapatan boleh guna dibelanjakan ke atas barang ini	Perbelanjaan terhadap barang keperluan adalah lebih kecil daripada jumlah pendapatan
Bilangan kegunaan	Banyak kegunaan – cth : tepung gandum	Penggunaan terhad – tepung attar
Ketagihan	Tahap ketagihan rendah	Tahap ketagihan yang tinggi – cth: rokok
Ketahanan barang	Barang tahan lama – cth : kereta (boleh disimpan lama)	Barang tidak tahan lama – cth : susu segar

Keanjalan Harga Penawaran (Es)

Keanjalan Harga Penawaran (Es) = $\frac{\% \text{Perubahan dlm kuantiti ditawarkan}}{\% \text{Perubahan dlm harga}} = \frac{\% \Delta Q}{\% \Delta P}$

$$1. \quad Es = \frac{Q_1 - Q_0}{Q_0} \times 100 \div \frac{P_1 - P_0}{P_0}$$

$$2. \quad Es = \frac{Q_1 - Q_0}{Q_0} \times \frac{P_0}{P_1 - P_0}$$

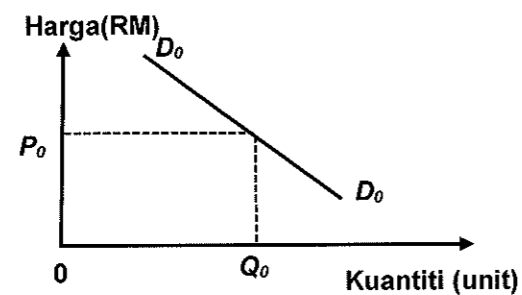
Ciri-ciri	Anjal	Tidak Anjal
Tafsiran	Pekali keanjalan lebih daripada 1 ($E_s > 1$)	Pekali keanjalan kurang daripada 1 ($E_s < 1$)
	Peratus perubahan kuantiti lebih besar daripada peratus perubahan harga ($\% \Delta Q > \% \Delta P$)	Peratus perubahan kuantiti kurang daripada peratus perubahan harga ($\% \Delta Q < \% \Delta P$)
	Peratus perubahan harga ($\% \Delta P$) yang kecil menyebabkan peratus perubahan kuantiti ($\% \Delta Q$) penawaran yang lebih besar	Peratus perubahan harga ($\% \Delta P$) yang besar menyebabkan peratus perubahan kuantiti ($\% \Delta Q$) penawaran yang lebih kecil

Penentu Es

Penentu	Anjal	Tidak anjal
Tambahan kos	Hanya memerlukan tambahan kos pengeluaran yang sedikit	Memerlukan tambahan kos pengeluaran yang sangat besar
Corak penggunaan faktor pengeluaran	Faktor pengeluaran mudah diperoleh dan ditambahkan	Memerlukan faktor pengeluaran tertentu atau sukar diperoleh
Faktor masa	Jangka masa panjang kerana faktor pengeluaran mudah diubah	Jangka masa pendek kerana penambahan pengeluaran adalah terhad
Bilangan firma dalam pasaran	Bilangan firma dalam pasaran banyak	Bilangan firma dalam pasaran adalah sedikit
Mobiliti faktor pengeluaran	Boleh dipindahkan dengan mudah dari 1 tempat ke tempat lain / dari 1 keluaran ke keluaran lain	Mobiliti faktor pengeluaran adalah rendah / tidak boleh dipindahkan dengan mudah
Ketersediaan stok atau inventori	Mempunyai stok yang banyak (bahan mentah / brg siap)	Stok kurang / tiada stok

LATIHAN OBJEKTIF

- Antara berikut yang manakah benar tentang keluk permintaan?
 - Hubungan antara harga dan kuantiti positif
 - Keluk permintaan mencerun ke atas dari kiri ke kanan
 - Peningkatan harga menyebabkan permintaan menurun.
 - Penurunan harga menyebabkan permintaan berkurangan
- Pernyataan yang manakah betul tentang permintaan berkesan?
 - Keperluan yang tidak terbatas
 - Kehendak yang mesti dipenuhi
 - Keinginan terhadap barang dan perkhidmatan
 - Keinginan dan kemampuan untuk memiliki barang dan perkhidmatan
- Rajah berikut menunjukkan keluk permintaan terhadap suatu barang



Antara berikut, pernyataan yang manakah benar berkaitan keluk permintaan D_0D_0 ?

- A Keluk menunjukkan hubungan positif antara harga dengan kuantiti
- B Keluk menunjukkan hubungan negatif antara harga dengan kuantiti
- C Keluk menunjukkan kejatuhan harga akan menyebabkan penurunan kuantiti diminta
- D Keluk menunjukkan kenaikan harga akan menyebabkan peningkatan kuantiti diminta

4 Maklumat berikut adalah berkaitan dengan keluk permintaan.

Keluk permintaan mencerun ke bawah dari kiri ke kanan

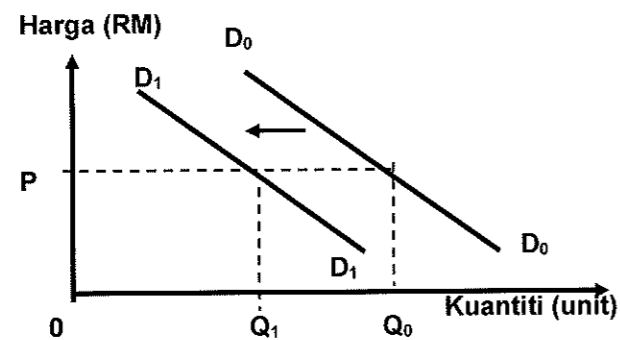
Antara berikut, yang manakah berkaitan dengan pernyataan tersebut?

	Harga asal (RM)	Permintaan Asal (Unit)	Harga baru (RM)	Permintaan Baru (Unit)
A	2.00	120	3.50	120
B	2.00	120	4.00	90
C	4.00	140	2.00	90
D	3.00	150	4.00	160

5 Keluk permintaan individu mencerun

- A ke atas dari kiri ke kanan
- B ke atas dari kanan ke kiri
- C ke bawah dari kiri ke kanan
- D ke bawah dari kanan ke kiri

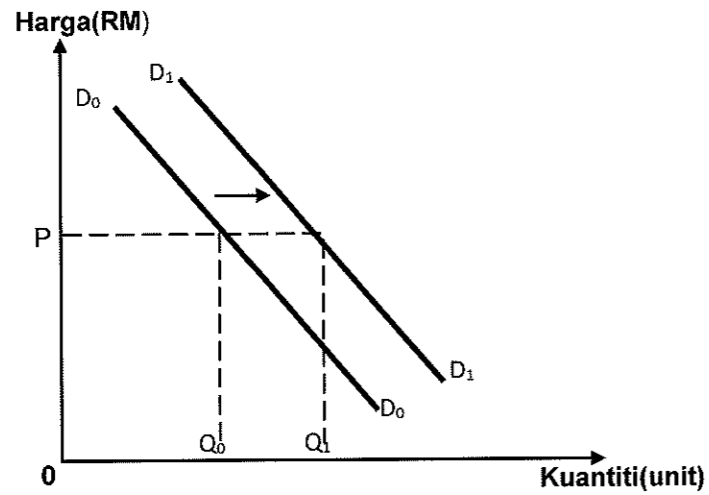
6 Rajah berikut menunjukkan keluk permintaan bagi motosikal tempatan.



Apakah faktor yang menyebabkan peralihan keluk dari D_0D_0 ke D_1D_1 ?

- A Harga motosikal menurun
- B Kadar cukai pendapatan menurun
- C Harga motosikal jenama import menurun
- D Jangkaan harga akan meningkat pada masa depan

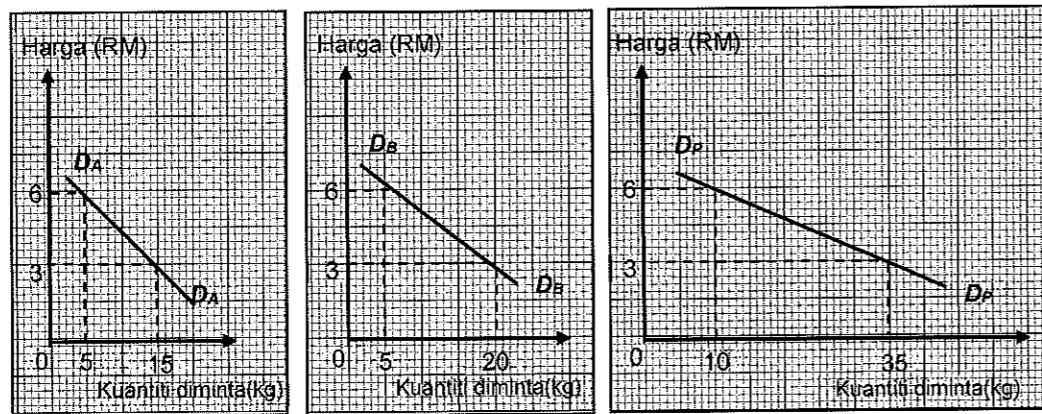
7 Rajah berikut menunjukkan keluk permintaan suatu barang.



Faktor manakah yang menyebabkan peralihan keluk dari D_0D_0 ke D_1D_1

- A Harga barang itu meningkat
- B Jangkaan harga masa depan naik
- C Pendapatan pengguna menurun
- D Harga barang pengganti meningkat

8 Rajah berikut menunjukkan pembentukan bagi keluk permintaan pasaran.



Jadual yang manakah sesuai menunjukkan pembentukan keluk di atas?

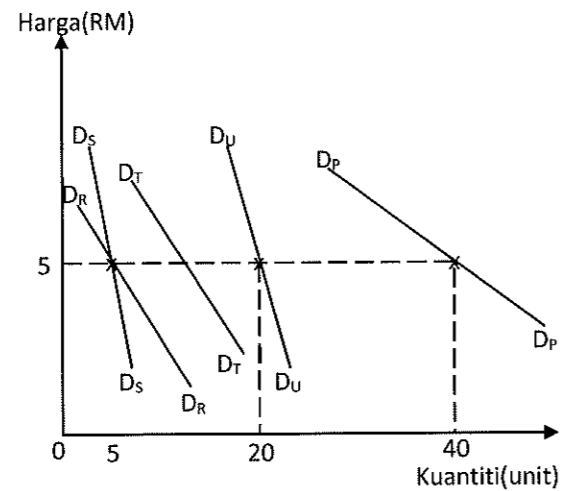
A	Harga (RM)	Kuantiti Diminta (kg)		Permintaan Pasaran (kg)
		Pengguna A	Pengguna B	
	6	20	15	35
	3	5	5	10

B	Harga (RM)	Kuantiti Diminta (kg)		Permintaan Pasaran (kg)
		Pengguna A	Pengguna B	
	6	10	15	25
	3	20	25	45

C	Harga (RM)	Kuantiti Diminta (kg)		Permintaan Pasaran (kg)
		Pengguna A	Pengguna B	
	6	5	5	10
	3	15	20	35

D	Harga (RM)	Kuantiti Diminta (kg)		Permintaan Pasaran (kg)
		Pengguna A	Pengguna B	
	6	15	20	35
	3	5	5	10

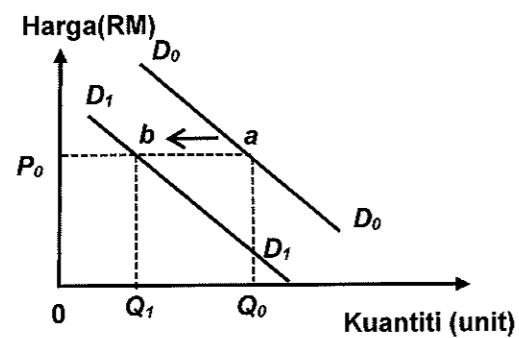
9 Rajah berikut menunjukkan keluk-keluk permintaan individu dan keluk permintaan pasaran suatu barang.



Berapakah kuantiti yang diminta oleh individu T pada tingkat harga RM5 jika D_P ialah keluk permintaan pasaran?

- A 10 unit
- B 15 unit
- C 20 unit
- D 35 unit

10 Rajah berikut menunjukkan keluk permintaan terhadap kereta tempatan.



Perubahan titik *a* ke titik *b* ialah

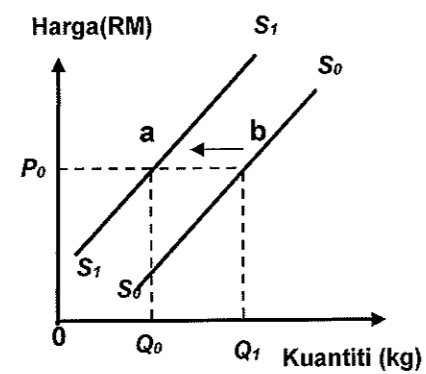
- A Peningkatan harga kereta import
- B Peningkatan harga kereta tempatan
- C Peningkatan pendapatan pengguna
- D Kerajaan meningkatkan cukai terhadap kereta tempatan

11 Pernyataan manakah yang menerangkan keluk penawaran pasaran?

- A Bentuk keluk adalah mencerun ke bawah dari kiri ke kanan
- B Menunjukkan hubungan negatif antara harga dengan kuantiti yang ditawarkan
- C Diperoleh dengan menggabungkan semua keluk penawaran individu secara menegak

D Menunjukkan jumlah kuantiti yang ditawarkan oleh semua firma pada setiap tingkat harga

12 Rajah berikut berkaitan dengan Barang Y



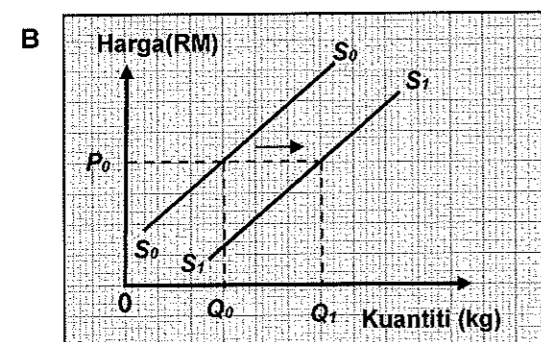
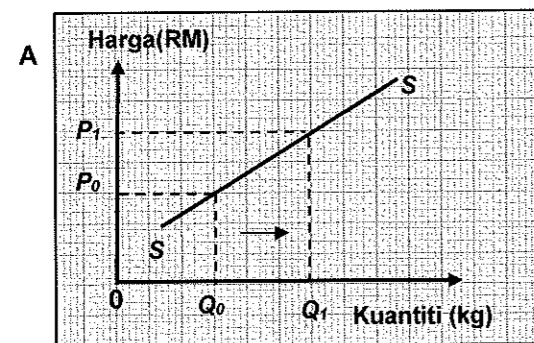
Pengurangan kuantiti titik a ke b disebabkan oleh

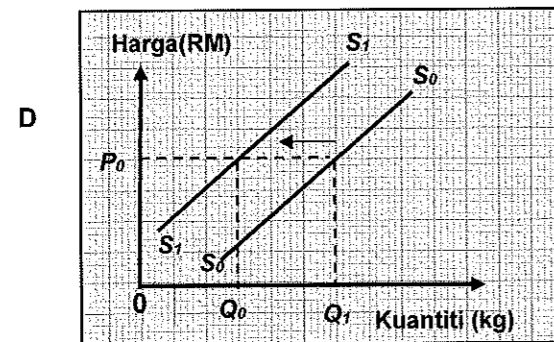
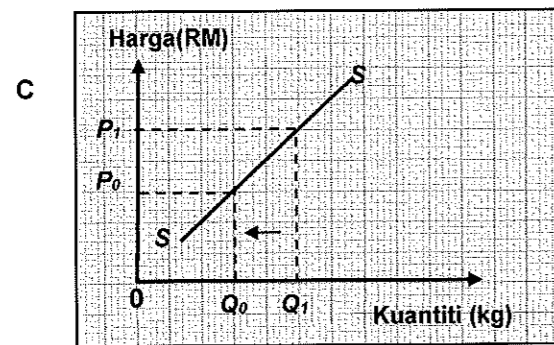
- A harga dijangka naik pada masa hadapan
- B peningkatan pendapatan pengguna
- C penurunan teknologi pengeluaran
- D pemberian subsidi oleh kerajaan

13 Situasi berikut berkaitan dengan satu penentu penawaran ikan.

Peningkatan jumlah hujan semasa musim tengkujuh

Rajah manakah yang menunjukkan kesan perubahan penawaran ikan tersebut?





14 Jadual berikut menunjukkan permintaan bagi barang Z.

Harga (RM)	Kuantiti Permintaan (kg)		
	Individu A	Individu B	Individu C
3	50	20	80
6	40	40	60
9	30	50	40

Kuantiti penawaran pasaran barang Z ialah 150 kg

Apakah yang akan berlaku dalam pasaran pada tingkat harga RM6?

- A Lebihan penawaran
- B Lebihan permintaan
- C Kurangan permintaan
- D Keseimbangan pasaran

15 Jadual berikut menunjukkan kuantiti diminta dan kuantiti ditawarkan sesuatu barang.

Harga (RM)	Kuantiti diminta (unit)	Kuantiti ditawarkan (unit)
70	100	180
60	110	160
50	120	140
40	130	130
10	140	120

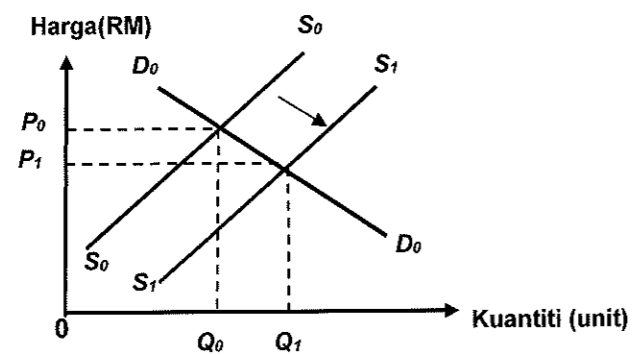
Pilih pernyataan yang betul tentang jadual tersebut

- A Harga cenderung naik pada tingkat RM10
- B Harga keseimbangan pasaran adalah pada RM50
- C Lebihan permintaan sebanyak 50 unit pada tingkat harga RM60
- D Kuantiti diminta melebihi kuantiti ditawarkan sebanyak 80 unit pada tingkat harga RM70

16 Pernyataan manakah yang betul tentang lebihan permintaan?

- A Kestabilan harga yang menunjukkan permintaan melebihi penawaran
- B Ketidakstabilan harga yang menunjukkan permintaan melebihi penawaran
- C Ketidakstabilan harga yang menunjukkan penawaran melebihi permintaan
- D Yang menunjukkan kestabilan dan ketidakstabilan harga tidak dapat ditentukan

17 Rajah berikut menunjukkan keseimbangan dalam pasaran barangan



Apakah kesan kepada pasaran jika berlaku peralihan keluk penawaran dari S_0S_0 ke S_1S_1

- A Harga dan kuantiti keseimbangan akan naik
- B Kuantiti keseimbangan akan meningkat
- C Harga keseimbangan akan meningkat
- D Kuantiti keseimbangan akan menurun

18 Jadual berikut menunjukkan harga dan kuantiti diminta suatu barang di pasaran.

Harga (RM)	Kuantiti Diminta (unit)
2	20
4	10

Berapakah nilai keanjalan harga permintaan apabila harga berubah dari RM2 ke RM4?

- A 0.50
- B 0.75
- C 1.00
- D 2.00

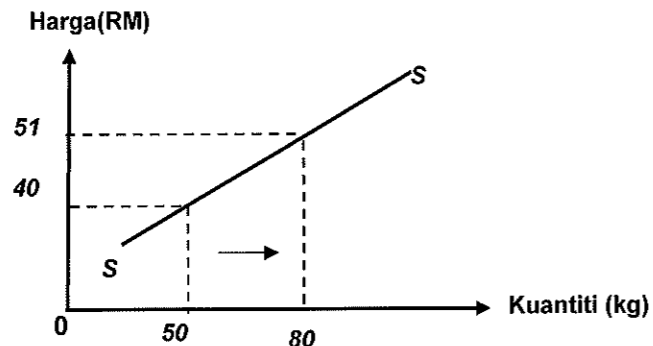
19 Pekali keanjalan harga permintaan ialah 1.2.

Tafsirkan nilai itu

- A Harga turun 1.2%, kuantiti diminta meningkat lebih daripada 1%
- B Harga naik 1%, kuantiti diminta menurun lebih daripada 1.2%
- C Harga turun 1.2%, kuantiti diminta meningkat 1%
- D Harga naik 1%, kuantiti diminta menurun 1.2%

- 20 Sesuatu barang cenderung menjadi tak anjal harga permintaan jika
- A barang itu ialah barang kehendak
 - B barang itu mempunyai banyak kegunaan
 - C barang itu mempunyai banyak barang pengganti
 - D perbelanjaan merupakan sebahagian kecil daripada pendapatan

21 Rajah berikut menunjukkan keluk penawaran suatu barang.



Berapakah nilai keanjalan harga penawaran jika harga naik daripada RM40 kepada RM51?

- A 0.24
- B 0.38
- C 2.18
- D 4.17

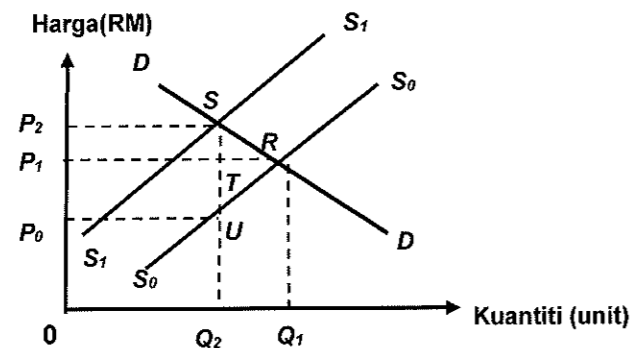
22 Jadual berikut menunjukkan peratus perubahan harga dan peratus perubahan kuantiti bagi penawaran **Barang A** dan **Barang B**.

Barang	Peratus Perubahan Kuantiti	Peratus Perubahan Harga
A	20%	60%
B	50%	30%

Maklumat manakah yang betul tentang **Barang A** dan **Barang B**?

	Barang A	Barang B
A	Peratus perubahan kuantiti sama dengan peratus perubahan harga	Peratus perubahan kuantiti lebih besar daripada peratus perubahan harga
B	Pekali keanjalan lebih besar daripada 1	Pekali keanjalan kurang daripada 1
C	Keluk penawaran lebih curam	Keluk penawaran lebih landau
D	Merupakan barang mewah	Merupakan barang mesti

23 Rajah berikut menunjukkan keluk permintaan (DD) dan keluk penawaran (SS) pasaran motosikal sebelum dan selepas pengenaan cukai oleh kerajaan.



Apakah kesan pengenaan cukai oleh kerajaan?

- I Cukai per unit ialah P_1P_2
 - II Beban pengguna sebanyak P_1P_2SR
 - III Beban pengeluar sebanyak P_0P_1TU
 - IV Jumlah cukai ialah sebanyak P_0P_2SU
- A I dan II
 - B I dan IV
 - C II dan III
 - D III dan IV

LATIHAN ESEI

1. Jelaskan hukum permintaan. [2 markah]

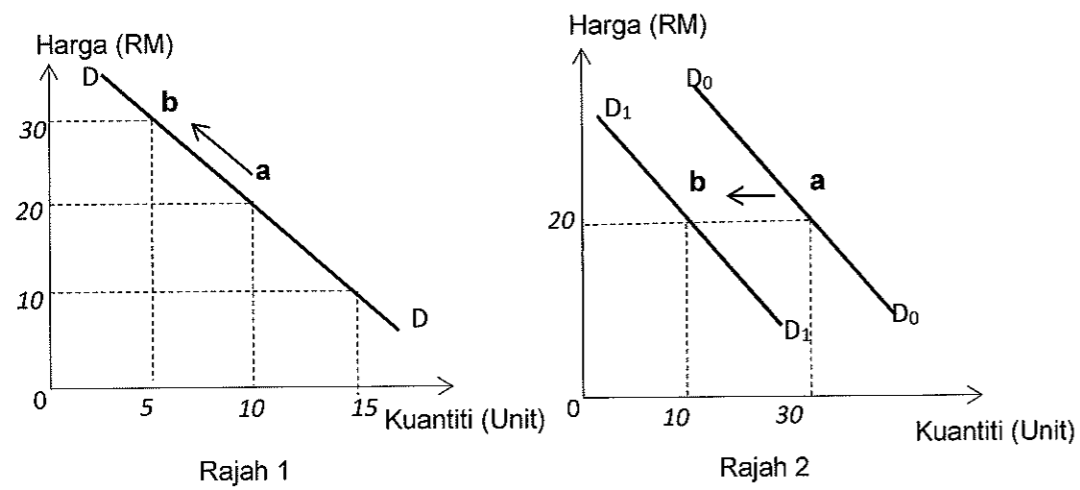
2. Jadual berikut menunjukkan permintaan bagi barang X.

Harga (RM)	Kuantiti diminta (kg)		Permintaan Pasaran (kg)
	Nabila	Syahira	
5	220	480	(iii)
4	(i)	500	750
3	300	550	850
2	400	(ii)	1050
1	500	900	(iv)

(i) Lengkapkan jadual tersebut. [4 markah]

(ii) Lukis keluk permintaan Nabila. [4 markah]

3 Rajah 1 dan 2 menunjukkan keluk-keluk permintaan bagi suatu barang.



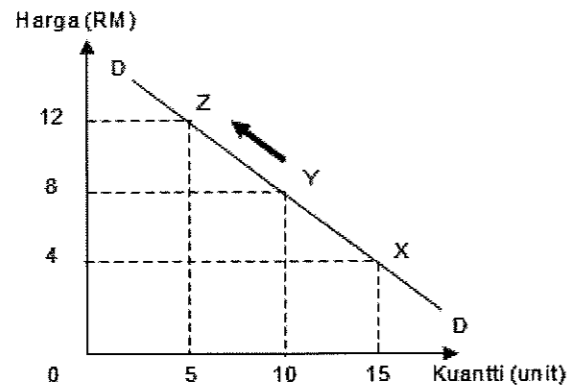
- (i) Bezakan rajah 1 dan 2 [6 markah]
 (ii) Senaraikan penentu-penentu penawaran. [4 markah]

4. Jadual berikut menunjukkan permintaan dan penawaran pasaran ikan kembung pada pelbagai tingkat harga.

Harga (RM/kg)	Kuantiti permintaan (kg)	Kuantiti penawaran (kg)
6	150	50
9	100	100
12	80	150
15	50	200
18	25	250

- (i) Kira keanjalan harga permintaan dan penawaran jika harga berubah dari RM9 ke RM15. [4 markah]
 (ii) Lukis keseimbangan pasaran pada graf di bawah. [5 markah]
 (iii) Berdasarkan soalan 2 (a)(ii), nyatakan harga dan kuantiti keseimbangan. [2 markah]
 (iv) Jelaskan keadaan pasaran pada harga RM 9 dan RM 18 [6 markah]

5 Rajah di bawah menunjukkan keluk permintaan suatu barang.



Berdasarkan rajah di atas, terangkan pergerakan dari titik Y ke titik Z. [5 markah]

6 Jadual 1 menunjukkan peratus perubahan kuantiti ditawarkan dan peratus perubahan harga bagi telefon pintar dan buah jambu.

Jenis Barang	% Perubahan Harga	% Perubahan Kuantiti
Telefon Pintar	15	25
Buah Jambu	20	10

(i) Kira nilai keanjalan harga penawaran bagi telefon pintar dan buah jambu. [2 markah]

(ii) Tafsirkan nilai keanjalan harga penawaran yang anda peroleh bagi buah jambu. [3 markah]

7 Jelaskan perbezaan antara keperluan dan kehendak. [4 markah]

8 Jadual di bawah menunjukkan hubungan antara harga Barang X dengan kuantiti permintaan Barang Y.

Harga Barang X (RM)	Kuantiti Diminta Barang Y (unit)
2	10
6	20

Dengan memberikan contoh, jelaskan hubungan antara Barang X dan Barang Y. [5 markah]

9 Jadual menunjukkan penawaran terhadap kereta Myvi 1.5 di Malaysia pada bulan Mac dan bulan April 2018.

Harga	Kuantiti (unit) Mac	Kuantiti (unt) April
RM 80 000	15 000	25 000

Jelaskan faktor peningkatan penawaran terhadap kereta Myvi 1.5 di Malaysia. [4 markah]

10 Terangkan penentu-penentu keanjalan permintaan [5 markah]

11 Jadual di bawah menunjukkan permintaan dan penawaran bagi susu lembu.

Harga (RM)	Kuantiti Diminta (unit)	Kuantiti Ditawar (unit)
5.00	200	110
5.25	175	130
5.50	150	150
5.75	125	170
6.00	100	190

(i) Nyatakan harga dan kuantiti keseimbangan [2 markah]

(i) Jelaskan keadaan pasaran susu lembu pada harga RM 5.75 [4 markah]

12 Pernyataan di bawah berkaitan dengan pasaran perabot di Malaysia.

Penurunan harga kayu sebanyak 20% memberi impak positif kepada industri perabot kayu.

Dengan menggunakan gambar rajah yang sesuai, jelaskan kesan peristiwa tersebut kepada industri perabot kayu. [5 markah]

13 Pernyataan di bawah berkaitan dengan suatu langkah kerajaan.

Mulai tahun taksiran 2017, kerajaan membenarkan pelepasan cukai sebanyak RM2500 untuk pembelian telefon pintar di bawah pelepasan cukai gaya hidup.

(i) Dengan menggunakan gambar rajah, jelaskan kesan tindakan tersebut terhadap pasaran telefon pintar. [5 markah]

(ii) Mengapakah kerajaan memberi pelepasan cukai gaya hidup kepada masyarakat? [4 markah]

14 Maklumat berikut berkaitan satu situasi yang berlaku di dalam negara.


KUALA LUMPUR: Mulai 1 Ogos ini, pelitup muka wajib dipakai dalam pengangkutan awam dan di kawasan sesak atau tumpuan umum.

Sumber : Petikan BH Online 23 Julai 2020

Jelaskan kesan situasi tersebut ke atas pasaran pelitup muka tempatan. [3 markah]

15

Gambar di bawah berkaitan satu jenis barang dalam ekonomi.



- (i) Permintaan barang tersebut sangat dipengaruhi oleh harganya. Jelaskan. [4 markah]
- (ii) Barang di atas lebih sesuai dimiliki dengan menggunakan kaedah pembayaran secara kredit. Jelaskan. [4 markah]

BAB 3: WANG & BANK PENDAPATAN INDIVIDU

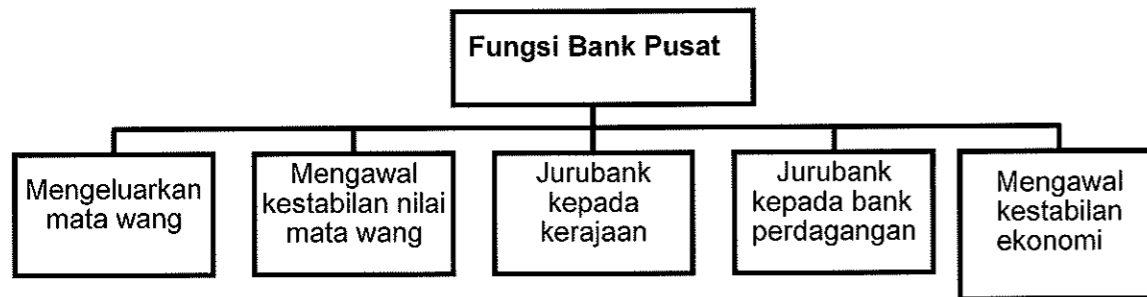
WANG

- Sebarang benda (komoditi) yang boleh diterima umum sebagai alat perantaraan pertukaran barang dan perkhidmatan

CIRI-CIRI WANG	
(i) Diterima umum ➢ Sebagai alat perantaraan pertukaran	(iv) Tahan lama ➢ Tahan lama dan tidak mudah rosak
(ii) Penawaran terhad ➢ Tidak terlalu banyak sehingga menjejaskan nilainya	(v) Mudah dibawa ➢ Mestilah bersaiz kecil dan ringan
(iii) Kestabilan nilai ➢ Nilainya tidak mudah berubah untuk jangka masa pendek atau panjang	(vi) Boleh dibahagikan kepada unit yang lebih kecil ➢ Membolehkan urusan niaga dijalankan dengan mudah dan tepat

FUNGSI WANG	
Alat bayaran tertunda • Barang boleh dibayar secara ansuran	Alat ukuran nilai • Membolehkan nilai sesuatu barang dinyatakan dalam harga
Alat perantaraan pertukaran • Melicinkan / memudahkan aktiviti jual beli	Alat simpanan nilai • Mempunyai nilai yang stabil

Fungsi Bank Pusat



1 **Mengeluarkan mata wang**

- mengeluarkan duit syiling dan wang kertas untuk pastikan jumlah penawaran wang sentiasa mencukupi dan sesuai dengan keperluan ekonomi semasa

2. **Mengawal kestabilan nilai mata wang**

- merupakan badan rasmi bertanggungjawab mengawal kestabilan mata wang negara
- kawal melalui beberapa cara iaitu :
 - (i) Mewujudkan sandaran minimum**
 - iaitu sebanyak 80.59% untuk setiap unit mata wang dalam bentuk rizab antarabangsa
 - terdiri daripada stok emas, pertukaran asing, hak pengeluaran istimewa Tabung Kewangan Antarabangsa(IMF) dan kedudukan rizab di IMF.
 - (ii) Campur tangan dalam pasaran pertukaran asing**
 - bertindak membeli dan menjual pertukaran asing bagi mempengaruhi nilai Ringgit Malaysia di pasaran pertukaran asing
 - (iii) Mengawal inflasi**
 - Bank pusat kawal inflasi berada pada paras terkawal dengan menggunakan alat dasar kewangan

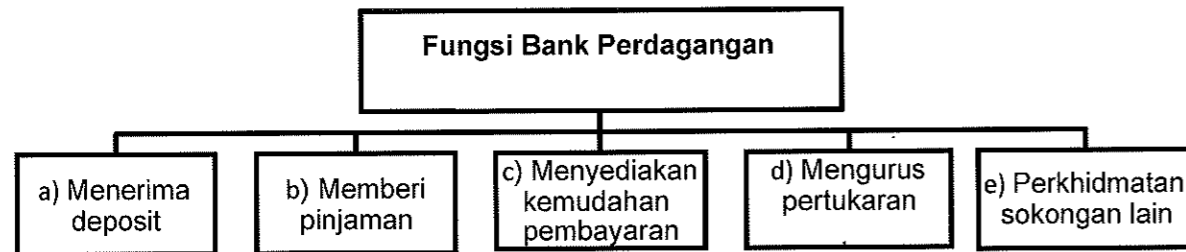
3. **Jurubank kepada kerajaan**

- menyediakan perkhidmatan kewangan kepada kerajaan
- mentadbir akaun kerajaan dengan membuat dan menerima pembayaran bagi pihak kerajaan serta menguruskan sumber dan pembayaran hutang negara

4. **Jurubank kepada bank perdagangan**

- menyimpan dan mengawal rizab tunai dan rizab berkanun bank-bank perdagangan
- menyediakan rumah penjelasan cek serta menjadi sumber pinjaman terakhir jika bank perdagangan mengalami masalah kewangan.

Fungsi Bank Perdagangan



b) Memberi Pinjaman / Pembiayaan

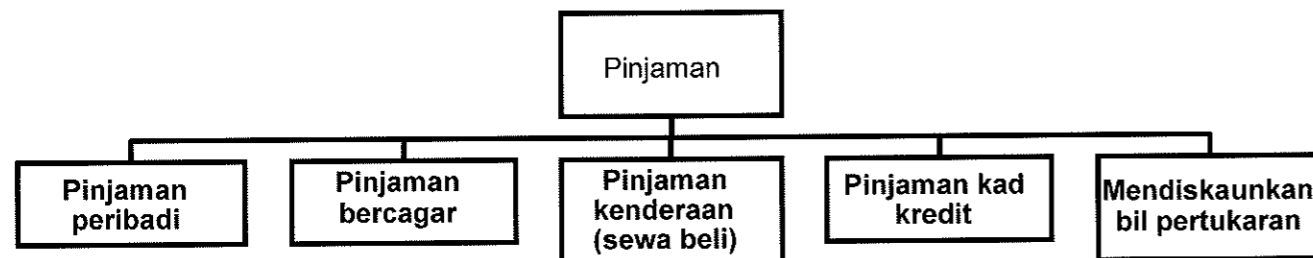
a) Perbezaan Ciri Akaun Tabungan, Akaun Simpanan tetap dan Akaun Semasa		
Akaun Simpanan	Akaun Simpanan Tetap	Akaun Semasa
Jumlah simpanan minimum lebih rendah	Jumlah simpanan minimum lebih tinggi	Jumlah simpanan minimum lebih tinggi daripada akaun simpanan
Faedah yang diberikan lebih rendah berbanding akaun simpanan tetap	Faedah yang diberi lebih tinggi mengikut tempoh simpanan	Tiada faedah simpanan (tetapi dikenakan caj perkhidmatan)
Boleh mengeluarkan wang simpanan bila-bila masa di kaunter bank, buku simpanan atau mesin ATM	Wang tidak boleh dikeluarkan sebelum tempoh matang simpanan / faedah tidak akan dibayar jika pemegang akaun mengeluarkan simpanan lebih awal	Wang boleh dikeluarkan pada bila-bila masa menggunakan cek atau kad ATM
Pendeposit diberi dokumen Buku Bank atau penyata bank	Pendeposit diberi dokumen Sijil Simpanan Tetap. Sijil ini boleh dijadikan cagaran untuk mendapatkan pinjaman bank.	Pendeposit diberi dokumen Buku Cek
Kemudahan pembayaran bil, bayaran ansuran, GIRO, perbankan internet dan kad ATM disediakan	Tiada kemudahan disediakan	Kemudahan yang disediakan adalah sama dengan pemegang akaun simpanan, yang berbeza ialah Kemudahan overdraf dan cek

i. Overdraf

- Kemudahan yang disediakan kepada pemegang akaun semasa untuk mengeluarkan wang lebih daripada baki simpanannya berdasarkan had yang telah ditetapkan oleh bank.
- Boleh dipohon oleh pemegang akaun semasa sahaja
- Pinjaman jangka pendek

Kelebihan	Kekurangan
<ul style="list-style-type: none"> • Kebiasaannya tidak memerlukan cagaran atau penjamin • Boleh mengeluarkan wang mengikut keperluan • Dikenakan faedah untuk jumlah yang digunakan sahaja • Boleh digunakan oleh peniaga yang menghadapi masalah aliran tunai untuk membayar gaji, sewa atau membeli stok 	<ul style="list-style-type: none"> • Dikenakan faedah yang tinggi • Bukan semua pemegang akaun semasa yang ditawarkan kemudahan ini • Ada had tertentu yang telah ditetapkan

ii. Pinjaman



a) Pinjaman peribadi

- Boleh dimohon oleh individu berumur 18 tahun ke atas yang mempunyai sumber pendapatan yang tetap
- Merupakan pinjaman jangka pendek untuk membiayai kos pendidikan, pembelian barang tahan lama seperti perabot dan komputer
- Tidak memerlukan cagaran tetapi memerlukan seorang penjamin
- Kadar faedah dikenakan ke atas keseluruhan pinjaman yang diluluskan

b) Pinjaman bercagar

- Pinjaman untuk membeli aset tetap/hartanah seperti rumah dan tanah
- Merupakan pinjaman jangka panjang
- Peminjam diminta mencagarkan hartanya kepada pihak bank untuk memperoleh pinjaman tersebut
- Kadar faedah dikenakan ke atas keseluruhan pinjaman yang diluluskan
- Kegagalan membayar balik pinjaman akan mengakibatkan harta yang dicagarkan akan dilelong

c) Pinjaman kenderaan (kemudahan sewa beli)

- Kemudahan ini digunakan untuk membiayai pembelian kenderaan baharu dan kenderaan terpakai
- Bank menawarkan pinjaman sehingga 90% harga kereta dan tempoh bayaran balik sehingga 9 tahun

- Peminjam dikenakan faedah dan boleh membayar balik secara ansur

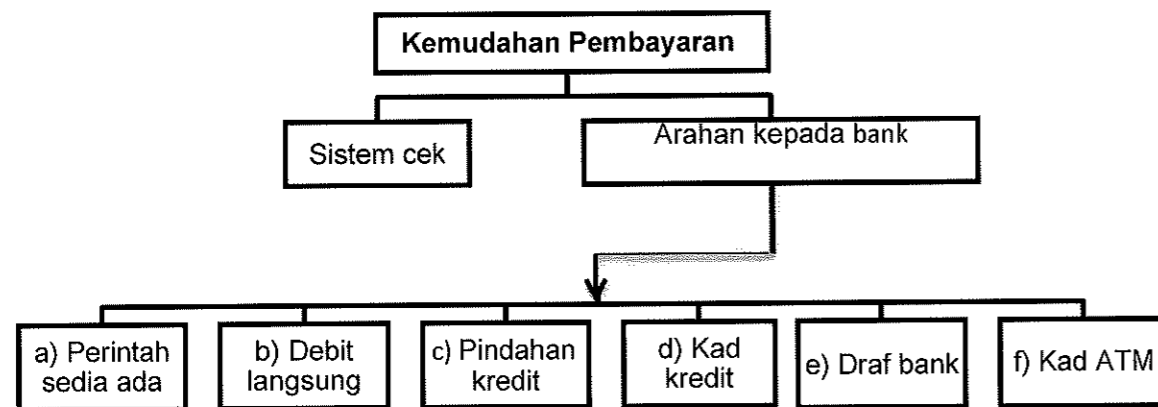
d) Pinjaman melalui kad kredit

- Membeli barang atau perkhidmatan secara kredit
- Bank akan membuat bayaran bagi pihak pengeluar kad kredit dan seterusnya bank akan menuntut bayaran daripada pemilik kad kredit
- Bayaran akan dibuat secara sepenuhnya atau secara ansuran setiap bulan oleh pemegang kad kredit
- Kadar faedah dikenakan ke atas jumlah yang belum diselesaikan

e) Mendiskaunkan bil pertukaran

- Bil pertukaran ialah perjanjian yang dilakukan oleh penghutang kepada pemberi hutang
- Bank membeli bil pertukaran pada harga yang lebih rendah daripada harga muka
- Apabila pemberi hutang memerlukan wang sebelum bil pertukaran matang, pemberi hutang boleh mendapatkan pinjaman daripada bank perdagangan
- Bank akan memberikan pinjaman kepada pemberi hutang dengan mendiskaunkan bil pertukaran tersebut
- Jumlah diskaun ke atas bil pertukaran merupakan kadar faedah yang dikenakan

c) Menerima dan Membuat Bayaran



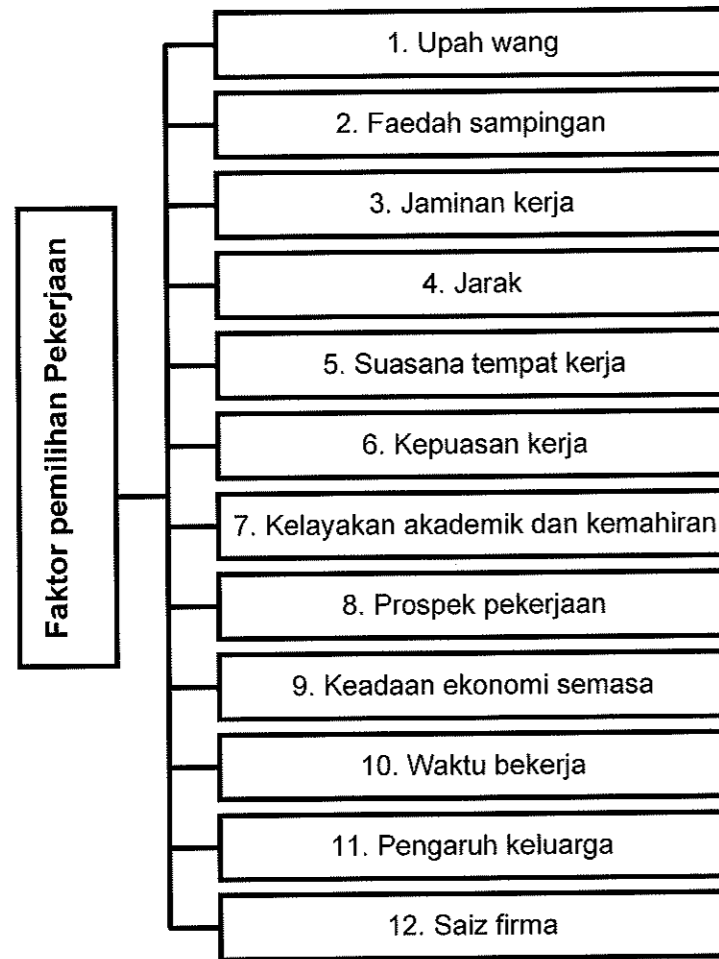
MENERIMA DAN MEMBUAT BAYARAN	
Sistem Cek	<ul style="list-style-type: none"> • Pemegang akaun semasa • Digunakan oleh peniaga untuk membayar gaji pekerja dan pembelian stok • Bank bertindak sebagai ejen pembayar dan penerima
ARAHAN KEPADA BANK	
Debit langsung	<ul style="list-style-type: none"> • Pelanggan boleh arahkan bank membuat bayaran yang tidak tetap jumlahnya pada tarikh tertentu • Bank akan memindahkan wang daripada akaun pelanggan untuk membayar kepada agensi yang diminta. • Contohnya: TNB, Maxis dan ASTRO
Pindahan kredit	<ul style="list-style-type: none"> • Pihak pengurusan syarikat guna pindahan kredit untuk membuat bayaran terus ke akaun penerima (bayar gaji pekerja)
Perintah sedia ada	<ul style="list-style-type: none"> • Akaun tabungan/akaun semasa • Buat bayaran tetap dan berulang pada tarikh yang ditetapkan • Contoh: bayaran sewa, premium insurans, ansuran sewa beli
Draf bank	<ul style="list-style-type: none"> • Cek yang dikeluarkan oleh bank apabila diminta oleh pelanggan • Membuat bayaran kepada pihak tertentu • Dikenakan caj perkhidmatan • Contoh: kiriman wang ke dalam atau luar negara, melanggan saham baharu
Kad juruwang elektronik (kad ATM)	<ul style="list-style-type: none"> • Urus niaga bank secara layan diri • Contoh: buat simpanan dan mengeluarkan wang, buat bayaran, semak baki, pindahan wang, tambah nilai perkhidmatan Touch' n Go, perkhidmatan telefon mudah alih • Kad debit-pembelian barang dan perkhidmatan di pasar raya, stesen minyak atau urus niaga melalui e-dagang
Kad Kredit	<ul style="list-style-type: none"> • Beli barang secara kredit • Bayar balik secara ansuran • Pelanggan gagal bayar balik mengikut tempoh yang telah ditetapkan akan dikenakan faedah yang tinggi • Ada jugak yang dikenakan yuran tahunan (sesetengah bank)
PERKHIDMATAN LAIN	
Perbankan Internet	<ul style="list-style-type: none"> • Buat transaksi perbankan menggunakan komputer, telefon pintar, peranti mudah alih • Perlukan sambungan Internet • Contoh: bayaran bil, semak baki, pindahan akaun, buat belian, cetak penyata

Perkhidmatan lain	<ul style="list-style-type: none"> • Pelaburan emas, urus niaga saham, unit amanah, penulisan wasiat, perkhidmatan insurans, urusan bayaran eksport dan import
-------------------	---

PRINSIP PERBANKAN ISLAM

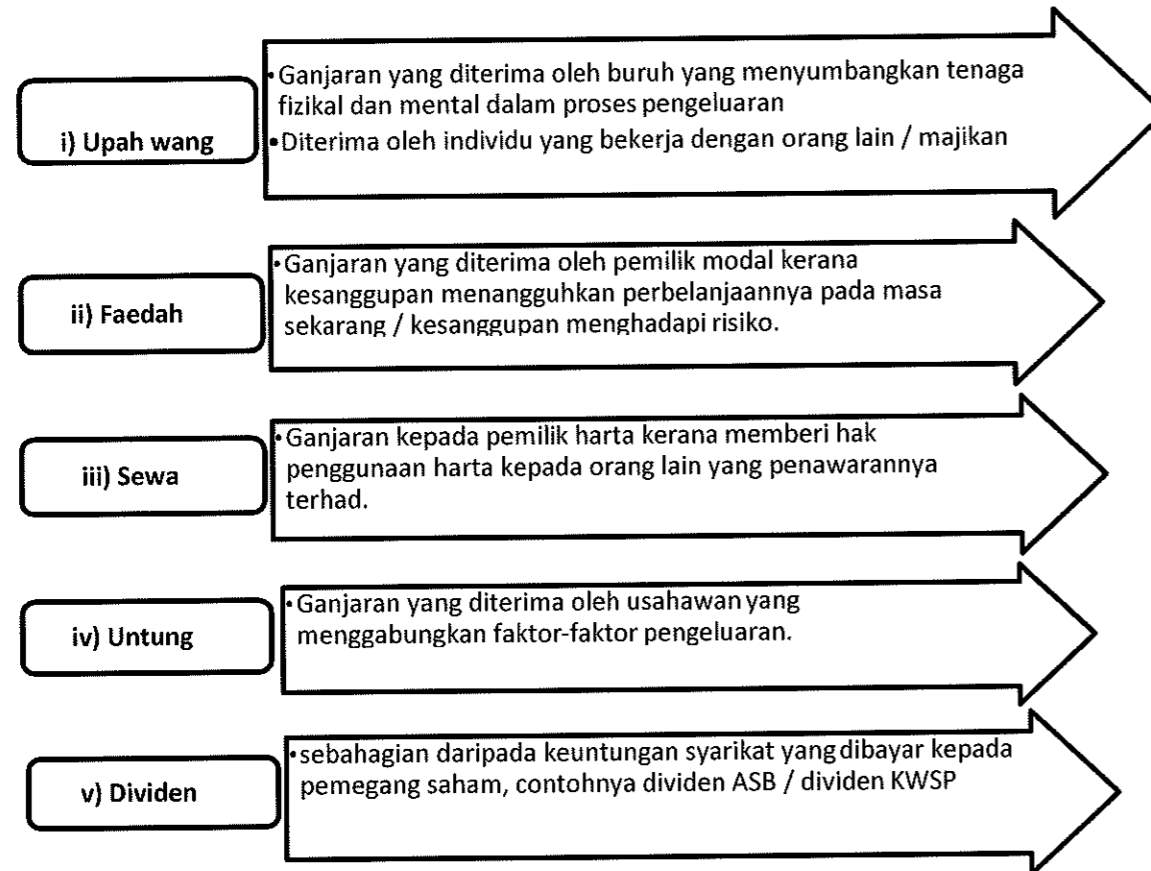
PRINSIP	WADIAH (PEMEGANG AMANAH)	MUDHARABAH (PERKONGSIAN UNTUNG)	BAI BITHAMAN AJIL (JUALAN SECARA ANSURAN)	TAKJIRI (PINDAH MILIK HARTA SEWA)
MAKSUD	<ul style="list-style-type: none"> • Menjaga harta pelanggan • Bank sebagai pemegang amanah • Bank tidak bayar sebarang pulangan • Pelanggan terima hadiah/ hibah daripada bank 	<ul style="list-style-type: none"> • Bank bertindak sebagai usahawan dan melabur wang pelanggan (pemodal) dalam bidang pelaburan yang untung • Untung dibahagi antara bank dan pelanggan 	<ul style="list-style-type: none"> • Bank jual barang kepada pelanggan dengan bayaran tertangguh • Harga tertentu, untung yang disetujui • Pelanggan bayar secara ansuran berdasarkan syarat ditetapkan 	<ul style="list-style-type: none"> • Bank beli aset yang diperlukan oleh pelanggan • Pelanggan bayar sewa untuk tempoh tertentu • Tamat tempoh, aset akan dipindah milik kepada pelanggan
PERKHIDMATAN LAIN	<ul style="list-style-type: none"> • Akaun semasa • Akaun simpanan 	<ul style="list-style-type: none"> • Akaun pelaburan am • Akaun pelaburan khas 	<ul style="list-style-type: none"> • Pembiayaan perumahan • Instrument deposit boleh niaga • Pembiayaan kad kredit • Pembiayaan umrah 	<ul style="list-style-type: none"> • Pembelian kenderaan, mesin atau bon

PEMILIHAN PEKERJAAN



JENIS-JENIS PENDAPATAN INDIVIDU

• Pendapatan Produktif



• Pendapatan Tidak Produktif

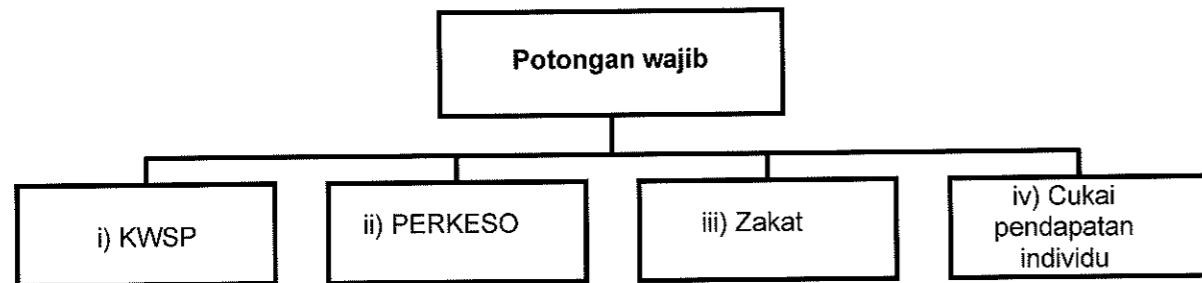
- ❖ Bayaran pindahan
 - Bayaran yang diterima oleh seseorang individu tanpa menyumbangkan apa-apa terhadap proses pengeluaran
 - Contoh : bayaran pencen, biasiswa, hadiah, bantuan kebajikan

PENDAPATAN INDIVIDU

upah + faedah + sewa + dividen + untung + bayaran pindahan

Pendapatan Boleh Guna

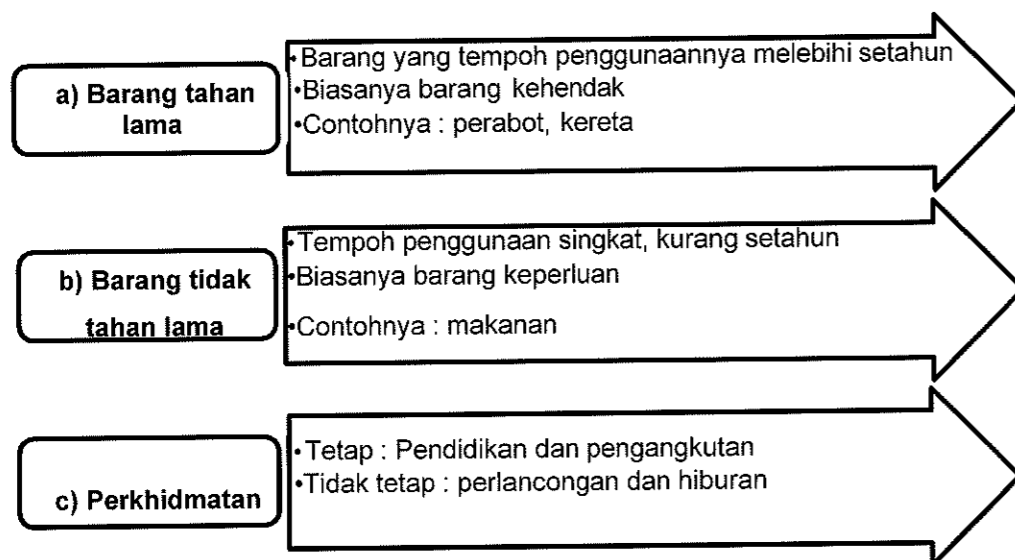
$$\text{Pendapatan boleh guna} = \text{Pendapatan Individu} - \text{Potongan wajib}$$



PERBEZAAN ANTARA KEPERLUAN DAN KEHENDAK

Perkara	Keperluan	Kehendak
Takrif	Barangan yang diperlukan untuk manusia hidup.	Barangan yang diinginkan oleh manusia untuk kesejahteraan hidup.
Jenis barang	Contohnya nasi.	Contohnya ayam goreng.
Harga barang	Harga lebih stabil kerana dikawal oleh kerajaan.	Harga tidak stabil kerana ditentukan oleh pasaran.
Penghidupan	Manusia tidak boleh hidup tanpa keperluan asas.	Tanpa kehendak manusia boleh meneruskan kehidupan.
Barang pengganti	Makanan, pakaian dan tempat tinggal tiada barang pengganti.	Barangan kehendak mempunyai banyak barang pengganti.
Bilangan barang	Barang keperluan terhad kpd 3 jenis sahaja.	Barangan kehendak tidak terhad dan sukar dipenuhi

Penggunaan Pendapatan Boleh Guna

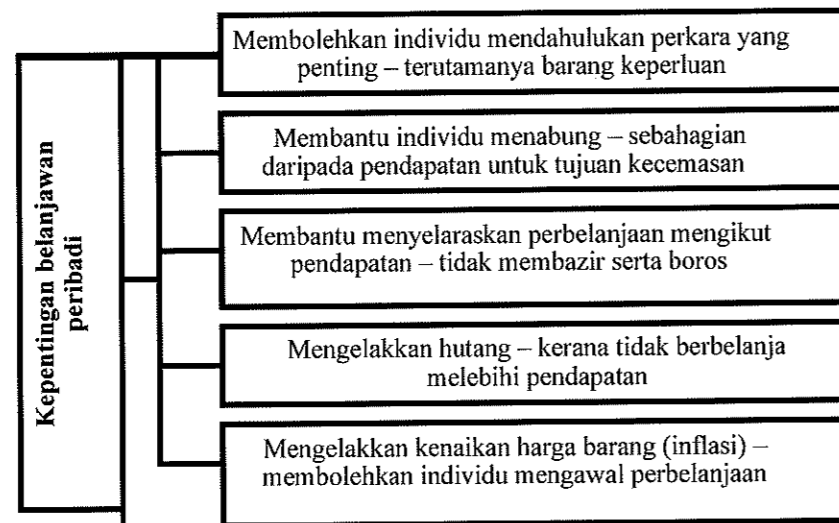


Faktor yang mempengaruhi corak perbelanjaan pengguna

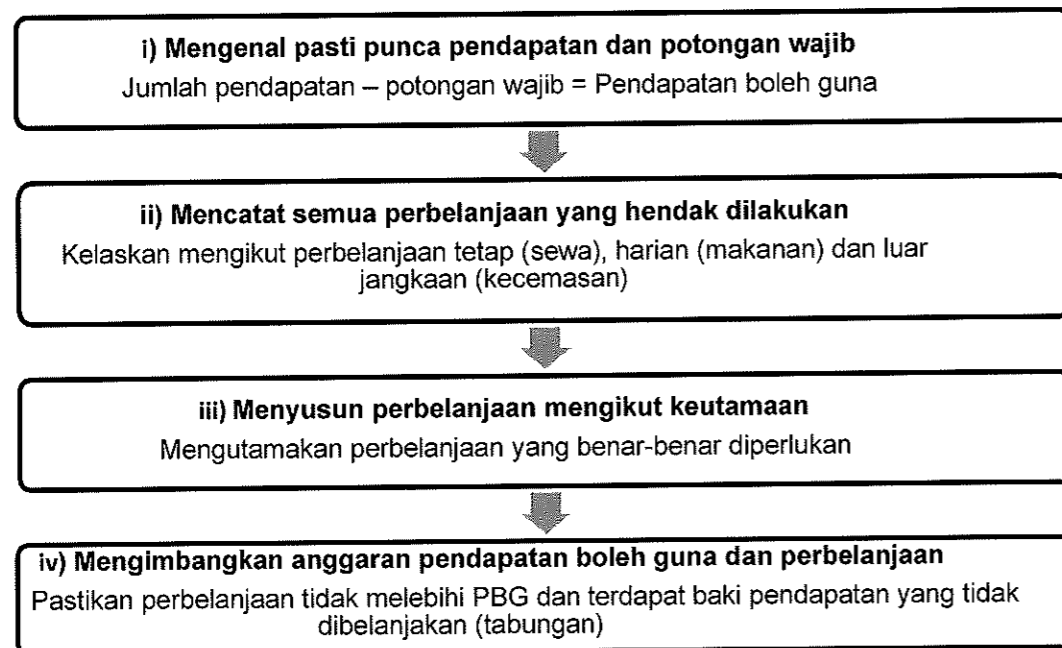
- (a) **Pendapatan**- pendapatan tinggi, kuasa beli tinggi.
- (b) **Harga**- harga murah, permintaan / perbelanjaan tinggi
- (c) **Pengiklanan dan pemasaran**- pengguna akan membeli barang yang diiklan dan mudah diperolehi dalam pasaran.
- (d) **Barang pengganti**- pengguna beralih kepada barang pengganti yang lain sekiranya harga barang meningkat. Contoh; minuman dll
- (e) **Citarasa dan segmen pasaran**- maklumat produk boleh mempengaruhi perbelanjaan pengguna.

Belanjawan Peribadi

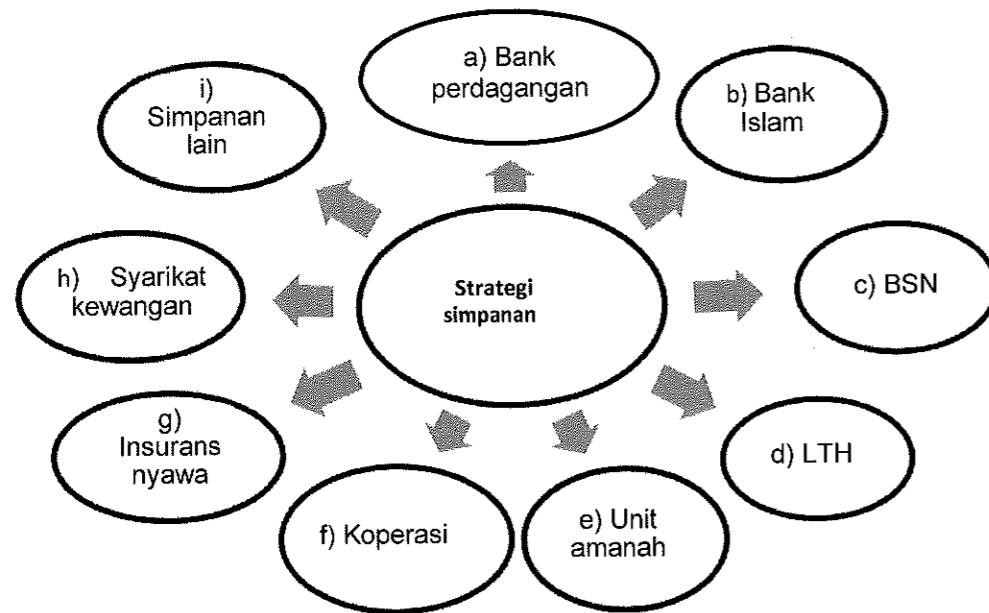
a) Kepentingan



b) Langkah-Langkah Membina Belanjawan Peribadi



Strategi Simpanan



LATIHAN OBJEKTIF

- 1 Seorang petani menjual hasil pertaniannya di sebuah pasar. Dengan pendapatan yang diperoleh, petani tersebut telah membeli lima kilogram beras.

Apakah fungsi wang tersebut?

- A Alat perantaraan pertukaran
 - B Alat bayaran tertunda
 - C Alat simpanan nilai
 - D Alat ukuran nilai
- 2 Situasi manakah yang menerangkan fungsi wang sebagai alat penyimpan nilai?
- A Puan Afiqah membeli kereta baru berharga RM98,000 secara tunai.
 - B Cik Fatimah membayar RM230 setiap bulan untuk motosikalnya selama dua tahun
 - C Setiap bulan, puan Emilia menyimpan wang sebanyak RM300 ke dalam Amanah Saham Nasional.
 - D Puan Nabilah mengunjungi lebih daripada 8 gerai komputer untuk membandingkan harga mesin pencetak sebelum membeli
- 3 Logo berikut menunjukkan sebuah institusi kewangan di Malaysia.



Fungsi manakah benar berkaitan logo tersebut?

- I Mengeluarkan mata wang
- II Memberi pinjaman kepada usahawan
- III Merupakan jurubank kepada kerajaan
- IV Menerima deposit daripada orang ramai

- A I dan II
- B I dan III
- C II dan IV
- D III dan IV


4 Gambar berikut menunjukkan logo sebuah institusi kewangan di Malaysia.



Pernyataan manakah yang betul tentang institusi kewangan tersebut?

- A Matlamatnya untuk mendapatkan keuntungan
- B Mengeluarkan mata wang negara
- C Mengawal kestabilan mata wang
- D Menguruskan akaun kerajaan

5 Gambar berikut merupakan suatu kemudahan deposit bank perdagangan.



Pilih ciri yang tepat berkaitan deposit tersebut.

- I Pemegang akaun boleh memohon kemudahan overdraf
- II Pendeposit tidak boleh memohon kad juruwang elektronik (ATM)
- III Hanya boleh mengeluarkan simpanan apabila sampai tempoh matang
- IV Hanya pemegang akaun semasa sahaja diberi keistimewaan menggunakannya

- A I dan II
- B I dan IV
- C II dan III
- D III dan IV

6 Maklumat berikut adalah kesan bagi sejenis pinjaman yang ditawarkan oleh bank perdagangan.

Kegagalan membayar balik pinjaman mengakibatkan aset yang dicagarkan akan dilelong.

Apakah jenis pinjaman tersebut?

- A Mendiskaunkan bil pertukaran
- B Pinjaman kenderaan
- C Pinjaman bercagar
- D Pinjaman peribadi

7 Maklumat berikut berkaitan dengan perkhidmatan yang disediakan oleh bank perdagangan.

Encik Aidil membuka akaun semasa di sebuah bank. Dia membeli polisi insurans nyawa dengan bayaran premium sebanyak RM220 sebulan. Dia mengarahkan pihak bank membuat bayaran tersebut bagi pihak dirinya pada setiap 28 hari bulan.

Apakah perkhidmatan bank tersebut?

- A Overdraf
- B Draf bank
- C Pindahan kredit
- D Perintah sedia ada


8 Maklumat berikut berkaitan dengan ciri-ciri bagi suatu prinsip perbankan Islam.

- Satu bentuk perkongsian antara usahawan dan pihak bank.
- Untung dibahagi mengikut nisbah yang dipersetujui bersama.

Pernyataan di atas merujuk kepada prinsip..

- A Bai Bithaman Ajil
- B Mudharabah
- C Wadiah
- D Takjiri

9 Gambar yang manakah merupakan pekerjaan bagi sektor utama.



10 Jenis pekerjaan yang manakah tergolong dalam sektor kedua?

- A Guru tadika
- B Pegawai bank
- C Operator kilang
- D Pengurus ladang sawit

11 Antara berikut, manakah merupakan faedah sampingan dalam faktor pemilihan pekerjaan?

- I Kemudahan penjagaan anak
- II Suasana tempat kerja
- III Rawatan perubatan
- IV Prospek pekerjaan

- A I dan II
- B I dan III
- C II dan IV
- D III dan IV

12 Maklumat berikut berkaitan dengan Puan Nina.

Puan Nina merupakan seorang jururawat di Hospital Keluargaku di sebuah bandar dan menerima pendapatan sebanyak RM3 500 sebulan. Namun begitu, beliau meletakkan jawatan dan kini mengambil upah menjahit pakaian di rumahnya.

Apakah faktor pemilihan pekerjaan yang mempengaruhi Puan Nina membuat keputusan tersebut?

- I Jarak
- II Minat
- III Prospek pekerjaan
- IV Kelayakan akademik

- A I dan II
- B I dan IV
- C II dan III
- D III dan IV

13 Maklumat berikut berkaitan dengan jenis pendapatan individu.

Pendapatan individu = Upah + X + Faedah + Dividen + Untung + Bayaran pindahan

Situasi manakah yang menerangkan X?

- A Cik Ayu menerima baucer Buku1Malaysia bernilai RM250
- B Encik Alias menerima RM6000 atas penggunaan rumah kedai miliknya
- C Puan Salmah memperoleh RM380 sebulan daripada perniagaan kerepek ubinya
- D Encik Salleh menerima RM5600 setahun bagi akaun Amanah Saham Bumiputera

14 Maklumat berikut berkaitan dengan Puan Rosnah.

Puan Rosnah memiliki sebuah kedai dua tingkat dan tiga buah rumah. Beliau bekerja sebagai kerani kewangan dengan gaji RM2 000 sebulan. Beliau menyewakan tiga buah rumah yang dimilikinya sebanyak RM400 sebuah rumah setiap bulan. Suaminya menguruskan perniagaan sendiri dan memperolehi keuntungan sebanyak RM5 700 sebulan. Setiap bulan juga, Puan Rosnah membayar polisi insuran nyawa untuk dirinya sebanyak RM450.

Berapakah pendapatan bulanan yang diterima oleh keluarga Puan Rosnah?

- A RM 6 900
- B RM 8 450
- C RM 8 900
- D RM 9 350

15 Maklumat berikut berkaitan dengan pendapatan individu.

Pendapatan diterima tanpa memberi apa-apa sumbangan dalam ekonomi.

Pendapatan manakah yang boleh dikaitkan dengan pernyataan di atas?

- I Pencen pesara kerajaan
- II Keuntungan perniagaan
- III Biasiswa
- IV Upah

- A I dan II
- B I dan III
- C II dan III
- D III dan IV

16 Apakah yang akan berlaku jika kerajaan menaikkan kadar cukai pendapatan individu?

- A Kuasa beli pengguna meningkat
- B Tabungan individu akan merosot
- C Pendapatan boleh guna akan meningkat
- D Individu mempunyai lebih pendapatan

17 Maksud pendapatan boleh guna ialah

- A pendapatan bersih yang boleh digunakan setelah ditolak potongan wajib
- B baki pendapatan yang boleh digunakan setelah ditolak jumlah perbelanjaan
- C jumlah pendapatan bersih yang boleh digunakan untuk membayar potongan wajib
- D jumlah pendapatan yang digunakan untuk membuat perbelanjaan penggunaan sahaja

18 Jadual berikut menunjukkan perbelanjaan dan potongan wajib Encik Fuad.

Butiran	RM
1. Zakat	150
2. Kumpulan Wang Simpanan Pekerja (KWSP)	200
3. Cukai pendapatan	55
4. Insuran nyawa	60
5. Sewa	400

Berapakah jumlah potongan wajib?

- A RM 405
- B RM 410
- C RM 455
- D RM 465

19 Jadual berikut menunjukkan pendapatan dan perbelanjaan yang dilakukan oleh Puan Aisyah.

Butiran	RM
Gaji sebulan	5 000
Tabungan	150
KWSP	70
Cukai Pendapatan	60
Bayar sewa rumah	800
Zakat (Setahun)	1 200

Berapakah pendapatan boleh guna Puan Aisyah untuk sebulan?

- A RM2 720
- B RM3 020
- C RM3 620
- D RM4 770

20 Apakah perbezaan antara makanan dengan rumah banglo

	Makanan	Rumah banglo
A	Pelbagai pilihan barangan	Pilihan barangan terhad
B	Tidak mempunyai unsur kemestian	Mempunyai unsur kemestian
C	Tidak dipengaruhi oleh pendapatan	Dipengaruhi oleh pendapatan
D	Harga barang tidak dikawal oleh kerajaan	Harga barang dikawal oleh kerajaan

21 Apakah kelemahan menggunakan tunai dalam sesuatu urusan niaga?

- A Diterima secara meluas dalam urusan niaga
- B Kurang sesuai membeli barang yang mahal seperti kereta
- C Memperolehi diskaun tunai mengikut syarat yang ditentukan
- D Menikmati harga yang murah kerana tidak melibatkan faedah

22 Apakah kebaikan pembelian secara kredit.

- A Menikmati tingkat harga yang lebih murah
- B Menggalak perancangan perbelanjaan bulanan
- C Menambah beban kewangan bulanan pengguna
- D Meningkatkan corak perbelanjaan secara terkawal

23 Gambar di bawah menunjukkan iklan kereta tempatan.

Syarikat Laju Ligat menawarkan pembelian kereta secara kredit

Hubungi Aiman : 011 9765345

Harga : RM 55 000

Tempoh pembayaran: 9 tahun

Kadar faedah : 3% setahun



Proton Saga 1500i

Jika Puan Aina membuat bayaran pendahuluan sebanyak 10%, berapakah ansuran bulanan kereta yang perlu dibayar mengikut syarat-syarat tersebut.

- A RM407.40
- B RM419.60
- C RM517.40
- D RM582.10

24 Pernyataan manakah yang menunjukkan Puan Hasnita membuat pelaburan?

- A Membeli insuran nyawa
- B Membuat sekuriti pinjaman
- C Membeli rumah untuk didiami
- D Membuat simpanan dalam akaun semasa

Pilihan jawapan bagi **Soalan 25** hingga **Soalan 30** berdasarkan jadual berikut:

Pilihan	Pernyataan I	Pernyataan II
A	Betul	Salah
B	Salah	Betul
C	Salah	Salah
D	Betul	Betul

25 I Sektor ketiga merupakan aktiviti menukar barang separuh siap menjadi barang siap

II Sektor ketiga dikenali juga sebagai sektor sekunder.

26 I Pendapatan faktor produktif terdiri daripada faedah, dividen dan bayaran pindahan.

II Untung ialah ganjaran kerana sanggup menanggung risiko.

27 I Pendapatan boleh cukai diperolehi dengan mendapatkan jumlah pendapatan tahunan ditolak dengan potongan wajib.

II Perbelanjaan penggunaan ialah sebahagian pendapatan boleh guna yang digunakan untuk membeli barang dan perkhidmatan.

28 I Potongan wajib akan mengurangkan pendapatan semasa individu.

II Tujuan Kumpulan Wang Simpanan Pekerja ditubuhkan adalah untuk mengurus kewangan dan perbelanjaan pesara.

- 29 I Kepentingan belanjawan peribadi ialah mengelakkan kenaikan harga barang atau inflasi.
- II Insuran nyawa merupakan antara strategi simpanan di samping melindungi pemegang polisi daripada risiko yang mungkin dihadapi.
- 30 I Pelaburan hartanah mempunyai tahap risiko yang rendah.
- II Individu akan menerima pendapatan berbentuk dividen melalui pelaburan hartanah.

LATIHAN ESEI

- 1 (a) Gambar 1 menunjukkan iklan kerusi sofa jati



SOFA JATI

Harga : RM 6000.00
 Ansuran sebulan : RM 250
 Tempoh Ansuran : 24 bulan

Gambar 1


Terangkan fungsi wang dalam iklan tersebut [6 markah]

- 1 (b) Terangkan tiga fungsi bank pusat sebagai jurubank kepada bank perdagangan. [6 markah]

- 2 (a) Terangkan bagaimana bank pusat mengawal kestabilan nilai mata wang. [6 markah]

- 2 (b) Bandingkan antara overdraf dengan pinjaman peribadi. [6 markah]

- 3 Gambar 2 menunjukkan kemudahan pembayaran yang disediakan oleh bank perdagangan kepada pelanggannya



Gambar 2

Terangkan kelebihan kaedah pembayaran tersebut. [6 markah]

- 4 Jadual 1 berkaitan dengan pendapatan dan perbelanjaan Encik Rosli pada suatu bulan tertentu.

Butiran	RM
Gaji	6,000.00
KWSP	660.00
Cukai Pendapatan	90.00
Insurans nyawa	130.00
Faedah simpanan	100.00
Zakat	70.00

Jadual 1

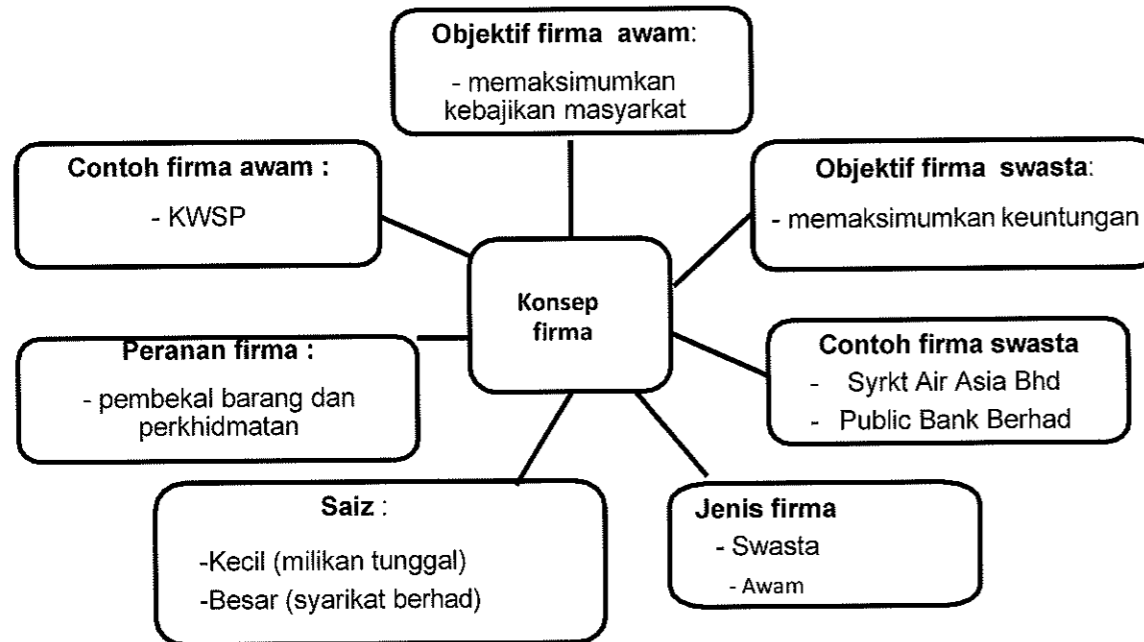
- (i) Hitung pendapatan boleh guna Encik Rosli pada bulan tersebut. [2 markah]
- (ii) Jelaskan bagaimanakah pendapatan individu dibelanjakan. [4 markah]

BAB 4: PENGELUARAN

KONSEP PENGELUARAN, KOS DAN HASIL

Firma

- Unit ekonomi yang produktif sama ada organisasi atau unit pengeluaran yang merancang dan menggabungkan faktor pengeluaran yang terhad untuk menghasilkan barang dan perkhidmatan



PENGELUARAN

- Suatu proses yang menggabungkan faktor pengeluaran (TUMB) untuk menghasilkan barang dan perkhidmatan

INPUT TETAP	INPUT BERUBAH
<ul style="list-style-type: none"> • Input yang kuantitinya tetap pada sebarang tingkat output • Apabila tingkat output meningkat/menurun, kuantiti input tetap yang digunakan adalah tetap • Pada tingkat output sifar, masih wujud input tetap • Input tetap hanya berlaku dalam jangka masa pendek • Contoh: mesin dan logi, bangunan kilang dan tanah 	<ul style="list-style-type: none"> • Input yang kuantitinya berubah mengikut tingkat output • Apabila tingkat output bertambah, kuantiti input berubah yang digunakan adalah akan bertambah/sebaliknya • Pada tingkat output sifar, tidak wujud input berubah • Input berubah hanya berlaku dalam jangka masa pendek dan jangka panjang • Contoh: bahan mentah dan buruh

KOS PENGELUARAN

KOS TETAP	PERSAMAAN	KOS BERUBAH
Bayaran untuk penggunaan input tetap	Merupakan kos pengeluaran	Bayaran untuk penggunaan input berubah
Wujud dalam jangka pendek sahaja	Beri kesan ke atas untung	Wujud dalam jangka pendek dan jangka panjang
Tidak berubah secara langsung dengan output	Diukur dalam unit wang	berubah secara langsung dengan output
Perlu dibayar walaupun tiada pengeluaran		Tidak perlu dibayar jika tiada pengeluaran

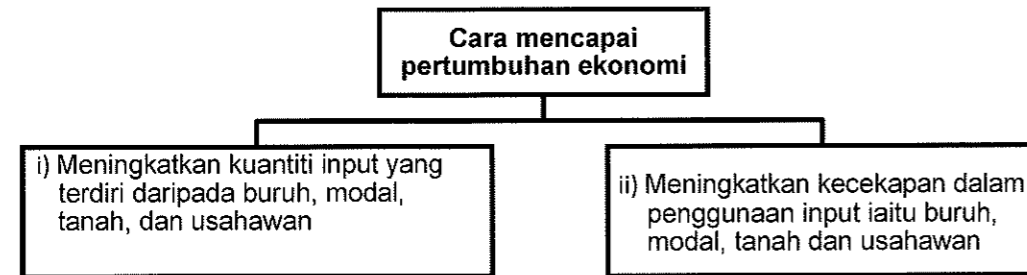
RUMUS PENGIRAAN:-

1. Jumlah Keluaran (TP) = keluaran purata X input berubah
2. Keluaran Purata (AP) = $\frac{\text{Jumlah keluaran}}{\text{Input berubah}}$
3. Keluaran Sut (MP)
MP = $\frac{\text{Perubahan Jumlah Keluaran}}{\text{Perubahan Jumlah Input berubah}}$
4. Jumlah kos = Kos Tetap + Kos Berubah
5. Kos Tetap = Jumlah Kos – Kos Berubah
6. Kos Berubah = Jumlah Kos – Kos Tetap
7. Kos Purata = $\frac{\text{Jumlah kos}}{\text{Output}}$
8. Kos Sut = $\frac{\text{Perubahan Jumlah Kos}}{\text{Perubahan Output}}$
@ = $\frac{\text{Perubahan Kos Berubah}}{\text{Perubahan output}}$

PRODUKTIVITI DAN EKSTERNALITI

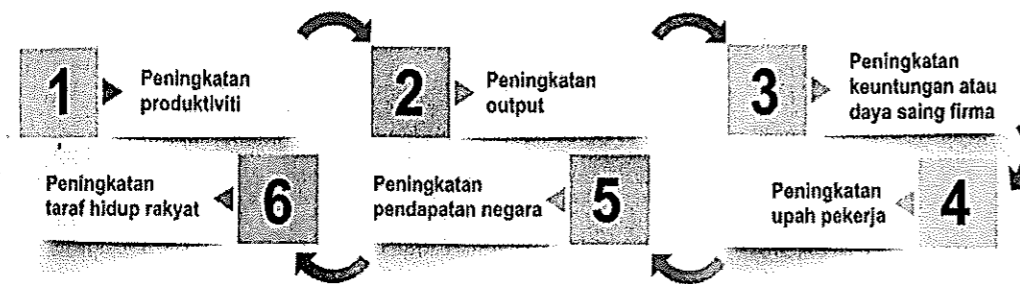
Konsep Produktiviti

❖ Pertumbuhan ekonomi sesebuah negara dapat dicapai melalui **dua** cara iaitu :



❖ Produktiviti atau daya pengeluaran

- keupayaan untuk meningkatkan penghasilan output daripada sejumlah input yang diberikan. Ini bermaksud produktiviti
- mengukur kecekapan dan keberkesanan dalam penggunaan input seperti tenaga buruh, teknologi, peralatan, sistem, dan pengurusan.
- menjelaskan perhubungan antara output yang dihasilkan dengan input yang digunakan.



Rajah 4.4 *Kepentingan produktiviti*

Faktor yang mempengaruhi produktiviti

Faktor	Huraian
i) Tenaga Manusia	<ul style="list-style-type: none">• Setiap tenaga kerja harus ditempatkan ke posisi kerja mengikut kebolehan dan kemahiran masing-masing• Tahap kemahiran individu boleh ditingkatkan melalui latihan dan program pembangunan diri• Pekerja boleh dimotivasikan melalui ganjaran secara kewangan atau bukan kewangan (contoh : anugerah kecemerlangan)
ii) Sistem dan prosedur	<ul style="list-style-type: none">• Sistem dan prosedur kerja harus ringkas dan selaras dengan matlamat organisasi• Sistem dan prosedur yang efektif mampu mengesan kelemahan dalam organisasi
iii) Struktur organisasi	<ul style="list-style-type: none">• Pengkhususan dalam unit masing-masing dapat meningkatkan produktiviti• Organisasi harus memilih struktur yang paling sesuai dengan operasinya
iv) Gaya kepimpinan	<ul style="list-style-type: none">• Pemimpin harus memiliki kemahiran membuat keputusan yang tepat dan sudi mengambil risiko dalam menjalankan kerjayanya• Pemimpin yang berwibawa mampu memimpin dan memotivasikan ahli-ahli organisasinya
v) Persekitaran kerja	<ul style="list-style-type: none">• Susun atur tempat kerja dapat memastikan operasi organisasi berjalan lancar dan persekitaran kerja kondusif dan selesa• Kemudahan yang disediakan di tempat kerja dapat membantu pekerja dalam tugas mereka
vi) Bahan-bahan	<ul style="list-style-type: none">• Bahan yang berkualiti dapat mengelakkan pembaziran dan kerosakan• Pengurusan inventori yang sistematik dapat mengelakkan penyimpanan stok yang berlebihan dan bekalan bahan sentiasa mencukupi untuk proses pengeluaran
vii) Teknologi	<ul style="list-style-type: none">• Penggunaan peralatan atau mesin moden dan pelaksanaan sistem automasi komputer dapat menjimatkan masa dan tenaga buruh• Aktiviti penyelidikan dan pembangunan (R&D) penting untuk membawa inovasi dan pemurnian dalam proses pengeluaran
viii) Kelengkapan modal	<ul style="list-style-type: none">• Bagi memastikan kelengkapan modal berfungsi baik, penyelenggaraan dan pemeriksaan harus dijalankan dari semasa ke semasa• Penggunaan kelengkapan modal harus dirancang supaya semuanya dapat digunakan dengan optimum

Eksternaliti

Eksternaliti ialah kos atau faedah yang tidak diambil kira dalam pengeluaran dan penggunaan sesuatu barang atau perkhidmatan. Ini bermaksud eksternaliti


- merupakan kesan yang berlaku kepada pihak ketiga iaitu selain pengeluar dan pengguna
- tidak dimasukkan dalam harga pasaran.

KOS SOSIAL – EKSTERNALITI NEGATIF	FAEDAH SOSIAL – EKSTERNALITI POSITIF.
<ul style="list-style-type: none"> Kos sosial iaitu kos kepada pihak ketiga yang tidak termasuk dalam harga pasaran. 	<ul style="list-style-type: none"> Faedah sosial iaitu faedah kepada pihak ketiga selain pengguna dan pengeluar.
<ul style="list-style-type: none"> Aktiviti pengeluaran minyak petroleum dan pembuangan sisa toksik kilang yang berleluasa 	<ul style="list-style-type: none"> Pelaksanaan program latihan kemahiran oleh sesebuah syarikat.
<ul style="list-style-type: none"> Aktiviti ini menyebabkan pencemaran alam sekitar yang merugikan nelayan dan negara 	<ul style="list-style-type: none"> Latihan yang diberi akan mendatangkan kebaikan kepada syarikat A sekiranya pekerja berpindah ke syarikat tersebut
<ul style="list-style-type: none"> Kos peribadi tidak menggambarkan kos sebenar yang ditanggung oleh sesebuah masyarakat Contoh: harga kereta, bayaran insurans, cukai jalan dan minyak petrol 	<ul style="list-style-type: none"> Faedah peribadi – kos pengangkutan rendah, faedah kesihatan, mengelakkan kesesakan lalu lintas dan menjimatkan masa Faedah Luaran – kadar kesesakan lalu lintas yang rendah, kadar pencemaran udara yang rendah Kos perubatan yang rendah kepada orang ramai
Kos sosial = kos peribadi + kos luaran	Faedah sosial = Faedah peribadi + Faedah luaran

LATIHAN OBJEKTIF

- Pernyataan yang manakah benar tentang firma.
 - Menghasilkan barang dan perkhidmatan
 - Memaksimumkan kebajikan pengguna
 - Memaksimumkan kos pengeluaran
 - Membekalkan faktor pengeluaran
- Pernyataan yang manakah yang betul tentang input berubah?
 - Contoh ialah mesin
 - Wujud pada output sifar
 - Wujud dalam dalam jangka masa pendek sahaja
 - Berubah secara langsung dengan tingkat pengeluaran
- Antara berikut, manakah benar tentang jumlah kos dalam pengeluaran jangka masa pendek sebuah firma?
 - Jumlah kos ialah kos seunit output yang dikeluarkan oleh firma
 - Jumlah kos adalah bersamaan dengan jumlah kos tetap apabila tingkat adalah sifar
 - Jumlah kos mempunyai hubungan yang negatif dengan tingkat output pengeluaran
 - Tambahan dalam jumlah kos adalah sama dengan tambahan dalam jumlah kos berubah.
 - I dan II
 - I dan III
 - II dan IV
 - III dan IV

4 Gambar berikut menunjukkan input yang digunakan dalam proses pengeluaran.



Pernyataan manakah yang benar tentang gambar tersebut?

- I Tetap wujud walaupun output sifar
- II Tidak wujud dalam jangka pendek
- III Tidak mempengaruhi keluaran sut
- IV Bilangan berubah apabila output bertambah

- A I dan II
- B I dan III
- C II dan IV
- D III dan IV

5 Pasangan maklumat yang manakah betul.

	Input Tetap	Input Berubah
A	Berubah secara langsung dengan perubahan output.	Tidak berubah mengikut perubahan output
B	Wujud pada tingkat keluaran sifar	Tidak wujud pada tingkat keluaran sifar
C	Pembayaran ke atas input dikenali sebagai kos berubah	Bayaran ke atas input sebagai kos tetap
D	Contoh input ialah Jurutera Binaan	Contoh input ialah insuran kebakaran

6 Jadual berikut menunjukkan pengeluaran sebuah firma.

Buruh (orang)	Jumlah Keluaran (unit)
8	60
10	70
12	85

Berapakah keluaran purata bagi buruh yang ke 10?

- A 2 unit
- B 5 unit
- C 7 unit
- D 10 unit

7 Pernyataan berikut berkaitan dengan pengeluaran jangka pendek.

Kilang X menggunakan 20 orang pekerja untuk mengeluarkan 280 pasang kasut sehari. Tambah 4 orang pekerja menyebabkan pengeluaran bertambah kepada 380 pasang sehari.

Berapakah keluaran marginal bagi pekerja yang ke 24?

- A 10
- B 15
- C 20
- D 25

- 8 Jumlah keluaran firma 60 unit apabila 10 orang buruh digunakan. Penambahan sebanyak 20% buruh telah meningkatkan jumlah keluaran sebanyak 25%.

Berapakah keluaran marginal akibat pertambahan buruh tersebut?

- A 0.10
- B 2.83
- C 3.00
- D 7.50

- 9 Maklumat berikut berkaitan dengan rumus kos purata.

Kos purata	=	$\frac{X + Y}{\text{Jumlah output}}$
------------	---	--------------------------------------

Apakah X dan Y?

	X	Y
A	Input tetap	Input berubah
B	Kos tetap	Kos berubah
C	Kos marginal	Jumlah kos
D	Jumlah kos	Kos berubah

- 10 Jadual berikut menunjukkan kos pengeluaran sebuah firma dalam jangka pendek.

Keluaran (Unit)	Jumlah Kos (RM)
0	100
1	180
2	250
3	300
4	440

Berapakah kos berubah untuk mengeluarkan 4 unit keluaran.

- A RM100
- B RM140
- C RM340
- D RM440

11 Maklumat berikut menunjukkan kos pengeluaran bagi firma kasut sukan.

Kos Perbelanjaan	Jumlah (RM)
Bahan mentah	25 000
Bil utiliti	2 000
Sewa kilang	3 000
Upah pekerja	10 000
Premium insuran	1 800

Berapakah kos berubah firma tersebut?

- A RM4 800
- B RM25 000
- C RM37 000
- D RM41 800

12 Maklumat berikut berkaitan dengan kos pengeluaran suatu barang.

Kos berubah	=	RM 60
Kos purata	=	RM 4
Jumlah output	=	25 unit

Berapakah kos tetap?

- A RM 15
- B RM 40
- C RM 64
- D RM 100

13 Maklumat berikut berkaitan kos pengeluaran suatu barang.

Kos berubah	=	RM170
Kos tetap	=	RM 80
Kos purata	=	RM 5

Berapakah jumlah output?

- A 50 unit
- B 85 unit
- C 250 unit
- D 255 unit

14 Maklumat berikut menunjukkan hasil dan kos syarikat PQR Sdn.Bhd.

Jumlah keluaran	=	2 000 unit
Harga seunit	=	RM15
Sewa kilang	=	RM3 000
Bahan mentah	=	RM10 000
Buruh	=	RM5 000

Berapakah untung yang diperoleh syarikat tersebut?

- A RM 8 000
- B RM 12 000
- C RM 15 000
- D RM 18 000

15 Maklumat berikut berkaitan rumus untung.

$$\text{Untung} = (T \times \text{kuantiti}) - S$$

T dan S ialah

- A Jumlah hasil dan kos tetap
- B Harga dan jumlah kos
- C Harga dan kos berubah
- D Jumlah hasil dan kos sut

16 Maklumat berikut berkaitan dengan pengeluaran firma.

Output : 1200 unit
Harga jualan seunit : RM18
Kos purata : RM8
Kos implisit : RM3 000

Berapakah untung ekonomi firma tersebut?

- A RM9 000
- B RM9 600
- C RM12 000
- D RM15 000

17 Rumus berikut berkaitan keuntungan.

$$\text{Untung ekonomi} = \text{Jumlah Hasil} - (\text{Kos eksplisit} + Z)$$

Kos yang manakah betul tentang Z?

- A Kos upah buruh
- B Kos bahan mentah
- C Sewa bangunan kilang
- D Sewa tapak perniagaan milikan sendiri

18 Pernyataan yang manakah benar tentang tahap pengeluaran?

- A Tahap II adalah pengeluaran yang tidak cekap
- B Tahap I berlaku pengeluaran yang paling cekap dalam pengeluaran
- C Tahap III apabila jumlah pengeluaran akan bertambah dan pulangan akan meningkat.
- D Tahap II apabila jumlah pengeluaran bertambah dengan perlahan akan menyebabkan keluaran marginal berkurang.

19 Antara berikut, yang manakah betul tentang produktiviti?

- I Keuntungan yang diperolehi oleh sesebuah firma
- II Kecekapan dan keberkesanan dalam penggunaan input
- III Kos maksimum yang digunakan dalam proses pengeluaran
- IV Perhubungan antara output yang dihasilkan dengan input yang digunakan

- A I dan II
- B I dan III
- C II dan IV
- D III dan IV

20 Antara berikut, yang manakah menunjukkan peningkatan produktiviti?

	Input	Output
A	Tambah 5%	Kurang 10%
B	Kurang 10%	Kurang 15%
C	Tetap	Kurang 10%
D	Tetap	Tambah 15%

21 Antara yang berikut, yang manakah menerangkan tentang eksternaliti?

- I Kos yang ditanggung oleh pengeluar
- II Kesan yang diterima oleh pihak ketiga
- III Kos yang terlibat dalam penggunaan barangan
- IV Kesan yang tidak dimasukkan dalam harga pasaran

- A I dan II
- B I dan III
- C II dan IV
- D III dan IV

22 Pernyataan yang manakah betul tentang kesan pelaksanaan cukai oleh kerajaan dalam mengawal selia eksternaliti negatif.

- A Menggalak pengkhususan pengeluaran barang bagi mengurang kos seunit
- B Meningkatkan beban pengeluaran barang yang membahayakan kesihatan
- C Menentu secara khusus kawasan perindustrian di lokasi yang sesuai
- D Mewarta barang penggunaan asas sebagai barang kawalan

23 Apakah faedah sosial daripada kempen berkongsi kereta?

- A Kadar pengangguran yang rendah
- B Kadar penggunaan petrol yang tinggi
- C Kadar kesesakan lalu lintas yang rendah
- D Kadar pencemaran alam sekitar yang tinggi

24 Pernyataan berikut berkaitan dengan aktiviti harian Encik Fuad.

Setiap hari Encik Fuad menaiki komuter untuk pergi bekerja.

Apakah faedah peribadi yang dinikmati oleh Encik Fuad?

- A Menjimatkan masa perjalanan
- B Menanggung kos pengangkutan yang tinggi
- C Meningkatkan kadar pencemaran udara di bandar
- D Meningkatkan kadar kesesakan lalu lintas di bandar

25 Maklumat berikut berkaitan pengeluaran kereta hybrid oleh sebuah syarikat automatif.

Jualan kenderaan plug-in hybrid mencatat rekod tinggi dalam tempoh empat bulan pertama tahun 2018, mendorong syarikat meningkatkan pengeluaran untuk memenuhi permintaan pengguna tempatan.

Apakah eksternaliti positif daripada situasi di atas?

- A Bonus pekerja syarikat pengeluaran kereta meningkat
- B Kualiti udara di kawasan pemandaran bertambah baik
- C Penjimatan penggunaan minyak dinikmati oleh pemilik kereta
- D Rangkaian pengedaran oleh syarikat pengeluar bertambah meluas

Pilihan jawapan bagi **Soalan 26** hingga **Soalan 30** berdasarkan jadual berikut:

Pilihan	Pernyataan I	Pernyataan II
A	Betul	Salah
B	Salah	Betul
C	Salah	Salah
D	Betul	Betul

- 26 I Jumlah kos ialah semua kos yang terlibat dalam suatu proses pengeluaran.
II Jumlah kos adalah sifar sekiranya proses pengeluaran tidak berlaku.
- 27 I Dalam pengeluaran jangka pendek, input tetap akan berubah secara langsung dengan tingkat keluaran.
II Contoh input tetap ialah buruh
- 28 I Produktiviti ialah keupayaan untuk meningkatkan penghasilan output daripada sejumlah input yang diberikan.
II Peningkatan produktiviti akan menggambarkan tingkat pertumbuhan ekonomi sesebuah negara.
- 29 I Penggunaan teknologi canggih dalam pengeluaran barang akan membazirkan masa dan kos.
II Gaya pengurusan pihak atasan yang berwibawa dan berdaya saing dapat meningkatkan produktiviti.
- 30 I Kos luaran berlaku apabila masyarakat menerima manfaat daripada program kerajaan.
II Contoh kos peribadi ialah membayar kos rawatan akibat pencemaran udara.

LATIHAN ESEI

1 Jadual berikut merupakan kos-kos pengeluaran jangka pendek bagi sebuah firma.

Keluaran/Output (unit)	Jumlah Kos (RM)	Kos Purata (RM)	Kos Marginal (RM)
0	100	-	-
1	150	150	50
2	190	95	Y
3	210	70	20
4	240	X	30
5	310	62	70
6	420	70	110

(a) Berapakah nilai X dan Y.

(b) Berdasarkan jadual di atas jelaskan hubungan antara keluaran dengan kos purata dan kos marginal.

- (i) Output 0 hingga 3 unit
- (ii) Output 4 hingga 6 unit

2 Jadual di bawah berkaitan dengan kos pengeluaran.

Output (unit)	Jumlah Kos (unit)	Kos Purata (unit)	Kos Marginal (unit)
0	100	-	-
1	150	150	50
2	190	95	40
3	210	X	20
4	240	60	Y
5	310	62	70
6	420	70	110

(a) Berapakah nilai X dan nilai Y?

(b) Jelaskan hubungan antara output dengan kos purata dan kos marginal pada tingkat output berikut:

- (i) Output 0 ke 3 unit
- (ii) Output 4 ke 6 unit

3 Maklumat berikut berkaitan dengan produktiviti.



Penggunaan jentera atau kaedah automasi dalam pengeluaran dapat mengurangkan kelalaian serta kesilapan manusia dan seterusnya meningkatkan produktiviti.

Selain faktor tersebut, jelaskan faktor-faktor lain yang mempengaruhi produktiviti.

4 (a) Maklumat di bawah menunjukkan hasil dan kos sebuah firma.

Syarikat ABD Sdn. Bhd. mengeluarkan 300 unit ketuhar elektrik yang dijual dengan harga RM130.00 seunit. Kos pengeluaran yang digunakan ialah bahan mentah RM12,000.00, upah pekerja RM3,000.00, sewa kilang RM1,500.00 dan bil utiliti RM2,000.00

Hitung jumlah untung yang diperolehi.

4 (b) Keratan akbar di atas berkaitan dengan eksternaliti negative



Pencemaran: Jabatan Alam Sekitar kesan empat bahan kimia dalam sampel air Sungai Kim Kim.

Sumber : Kosmo! Online 13 Mac 2019.

- (ii) Bagaimanakah kerajaan mengawalselia situasi di atas?
- (iii) Jelaskan kesan eksternaliti negatif yang wujud akibat masalah di atas.

4 (c) Maklumat berikut berkaitan dengan pelaksanaan suatu projek pembangunan.

KUALA LUMPUR: Kerajaan memberi jaminan meneruskan pelaksanaan projek Lebuhraya Pan Borneo, yang menelan belanja RM 29 bilion. Lebuhraya ini akan menghubungkan Sabah dan Sarawak melalui Brunei serta rangkaian jalan raya Lebuhraya Trans-Kalimantan, Indonesia.

Sumber : Ubahsuai BH
ONLINE, 2 November 2018

Bagaimanakah projek pembangunan di atas dapat memberikan faedah kepada rakyat?

5 Maklumat di bawah berkaitan dengan projek pembangunan kerajaan.

Projek ECRL disambung dengan Kos RM44 Bilion

PUTRAJAYA - Projek Laluan Rel Pantai Timur (ECRL) sejauh 688 kilometer yang menghubungkan Pelabuhan Klang di Selangor ke Kelantan akan disambung semula pada kos yang lebih rendah.

Kos pembinaan Fasa 1 dan 2 ECRL kini dikurangkan kepada RM44 bilion, pengurangan sebanyak RM21.5 bilion daripada kos asalnya RM65.5 bilion.

Projek ECRL dimulakan oleh kerajaan Barisan Nasional sebelum ini dan digantung tahun lepas oleh kerajaan Pakatan Harapan yang baru dipilih berikutan kosnya yang tinggi selain memberi impak kepada hidupan liar.

Jelaskan kos sosial yang wujud akibat pelaksanaan aktiviti pembinaan ECRL ini.

BAB 5 EKONOMI DAN KERAJAAN

PERANAN KERAJAAN DALAM EKONOMI

Peranan Kerajaan sebagai Pengeluar & Majikan

PERANAN KERAJAAN SEBAGAI PENGELUAR	PERANAN KERAJAAN SEBAGAI MAJIKAN
<ul style="list-style-type: none"> • Kerajaan berperanan pengeluar barang awam & barang sosial-tidak disediakan oleh pihak swasta kerana x menguntungkan • Kebajikan masyarakat akan terjejas sekiranya x disediakan • <u>BARANG AWAM</u> <ul style="list-style-type: none"> ➢ Barang yang dapat digunakan oleh seseorang individu tanpa mengurangkan faedah penggunaan individu lain dan tidak boleh menghalang individu lain daripada menggunakannya ➢ Tanpa bayaran/bayaran paling minimum ➢ Penawaran terhad ➢ Berkongsi penggunaannya ➢ Cth: jalan raya, padang awam, sekolah, klinik kerajaan • <u>BARANG SOSIAL</u> <ul style="list-style-type: none"> ➢ Barang/ perkhidmatan yang membawa manfaat terbesar kepada semua masyarakat ➢ Perlu perbelanjaan dan tindakan kerajaan utk keluarkannya ➢ Cth: air terawat dan rakyat celik huruf-yuran percuma, meningkatkan tahap kesihatan rakyat 	<ul style="list-style-type: none"> • Majikan terpenting di Malaysia – menawarkan peluang pekerjaan dlm sektor perkhidmatan awam kepada guna tenaga di negara kita. • Perkhidmatan awam tulang belakang ekonomi negara-melicinkan pengeluaran sektor ekonomi lain • <u>PELUANG PEKERJAAN</u> <ul style="list-style-type: none"> ➢ Menjana pendapatan kepada penjawat awam ➢ Meningkatkan taraf hidup ➢ Kuasa beli meningkat ➢ Permintaan terhadap barang n perkhidmatan tinggi ➢ Mempercepatkan pertumbuhan ekonomi • <u>FAEDAH SAMPINGAN KEPADA KAKITANGAN AWAM</u> <ul style="list-style-type: none"> ➢ Elaun perumahan dan elaun sara hidup (COLA) ➢ Kemudahan pinjaman perumahan dan kenderaan ➢ Imbuhan tetap khidmat awam ➢ Pencen selepas bersara ➢ Cuti tahunan mengikut kelayakan ➢ Cuti bersalin

Monopoli Semula Jadi Kerajaan

- Monopoli Kerajaan iaitu pengeluaran barang atau perkhidmatan dibenarkan untuk dikeluarkan oleh firma berkaitan kerajaan
- Perkhidmatan / barang awam yang penting yang memerlukan kos yang tinggi.
- Ciri-ciri:

- i) Satu firma sahaja – contoh TNB, pengangkutan awam (KTM) & telekomunikasi (TM)
- ii) Keluaran tiada pengganti – tidak boleh dikeluarkan oleh firma lain
- iii) Penentu harga pasaran- ditentukan oleh kerajaan
- iv) Tiada kebebasan keluar masuk industri – wujud halangan atas kebebasan firma lain seperti perlindungan undang-undang , pemilikan faktor pengeluaran dan kos modal tinggi

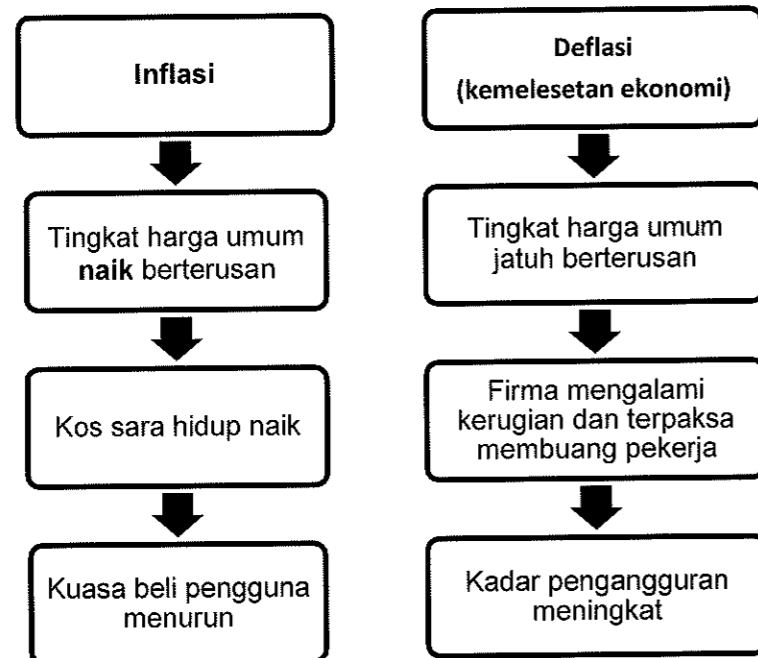
Peranan Kerajaan Untuk Mencapai Objektif Makroekonomi Negara

1. Guna Tenaga Penuh

- Merujuk kepada kadar pengangguran negara **kurang 4%**.
- **Guna tenaga** mengukur jumlah tenaga buruh yang digunakan oleh sesebuah negara dalam pengeluaran barang dan perkhidmatan
- **Pengangguran** mengukur jumlah tenaga buruh yang tidak digunakan / tidak terlibat dalam sebarang kegiatan ekonomi
- Guna tenaga tinggi menunjukkan kegiatan ekonomi banyak dijalankan
- Jumlah barang dan perkhidmatan yang dikeluarkan di pasaran adalah banyak

2. Kestabilan Harga

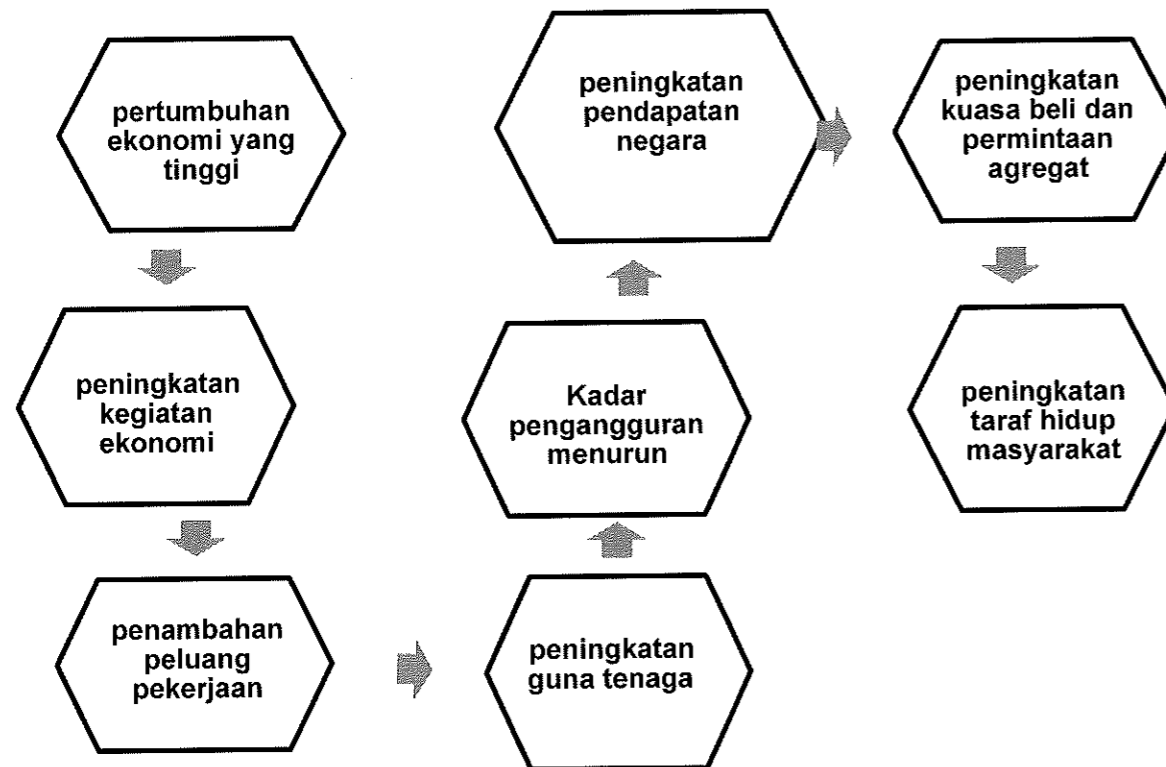
- Ketidakstabilan harga boleh **menjejaskan taraf hidup** masyarakat
- Apabila **harga meningkat** secara berterusan- **inflasi**
- Jika **harga turun** berterusan- **deflasi/ kemelesetan ekonomi**
- Kesan Inflasi dan deflasi:-



3. Pertumbuhan Ekonomi

Menunjukkan **peningkatan jumlah keluaran barang dan perkhidmatan** dalam sesebuah negara pada sesuatu tahun berbanding dengan tahun sebelumnya

- ❖ **Pertumbuhan ekonomi** berlaku apabila tingkat keluaran negara meningkat.
- ❖ Kesan pertumbuhan ekonomi negara :-



4. Ketidakstabilan Imbangan Pembayaran

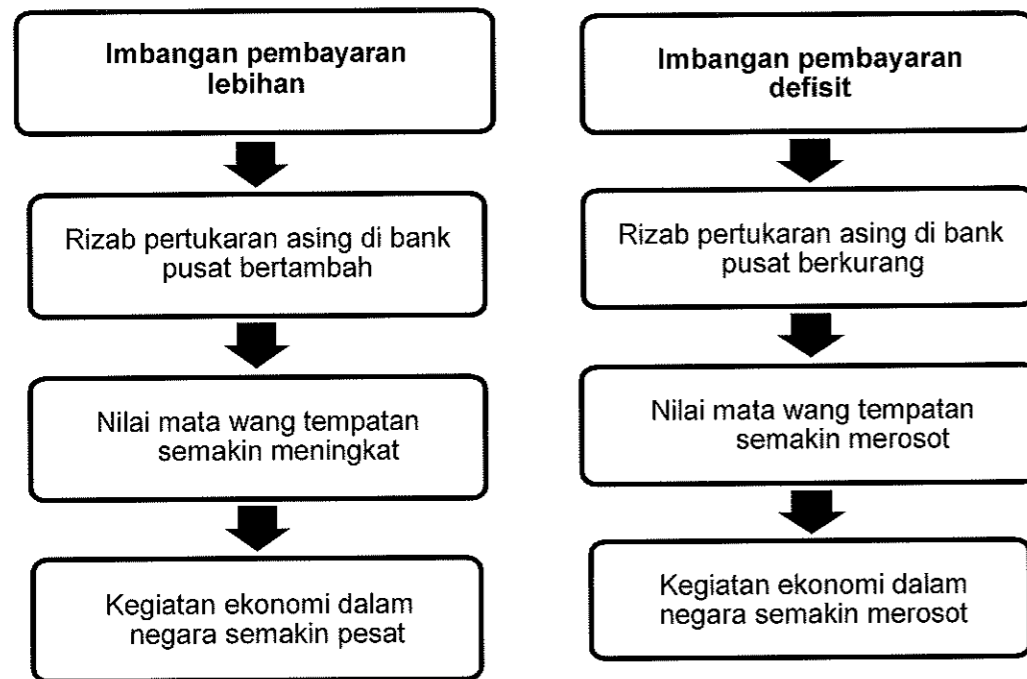
Satu penyata kewangan yang merekodkan **aliran wang masuk dan keluar** kesan daripada **perdagangan antarabangsa** dalam tempoh satu tahun

Jenis Imbangan Pembayaran

- Imbangan pembayaran terbahagi kepada 2:-

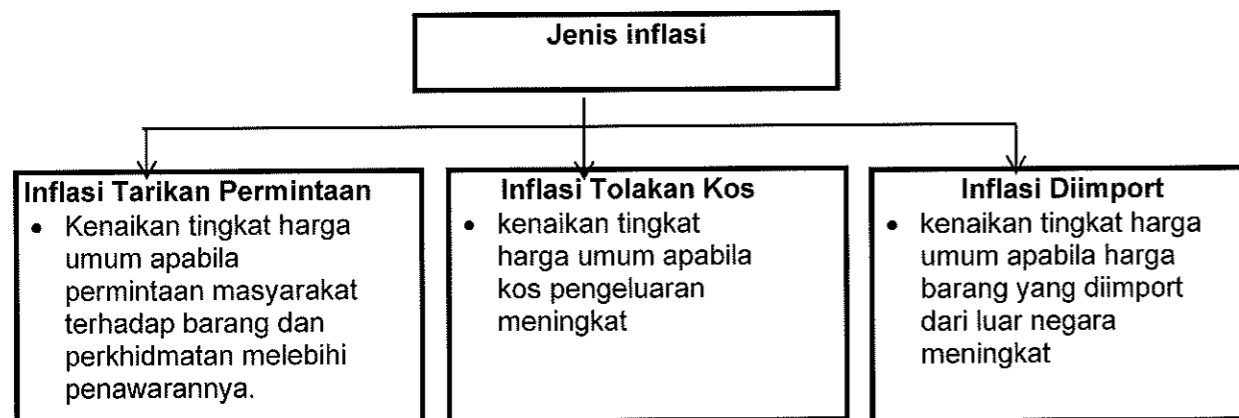
Imbangan pembayaran lebihan	Imbangan pembayaran defisit
Aliran wang yang masuk ke sesebuah negara lebih tinggi daripada aliran wang yang keluar ke negara lain	Aliran wang yang keluar ke luar negara melebihi aliran wang yang masuk ke dalam negara

- Kesan lebihan imbalan pembayaran dan imbalan pembayaran defisit



INFLASI

❖ Jenis Inflasi



❖ Kesan Inflasi

<p><u>Kesan Terhadap Harga Barang</u></p> <ul style="list-style-type: none"> • Kos sara hidup meningkat • Masyarakat kurang mampu membeli barang & perkhidmatan • Taraf kebajikan masyarakat akan terjejas 	<p><u>Kesan Terhadap Tabungan</u></p> <ul style="list-style-type: none"> • Masyarakat terpaksa mengeluarkan simpanan – untuk tampung kos hidup • Nilai wang yang dipegang oleh isi rumah semakin merosot • Isi rumah cenderung membelanjakan wang daripada menabung
<p><u>Kesan Terhadap Pendapatan</u></p> <ul style="list-style-type: none"> • Pendapatan benar masyarakat menurun dengan andaian pendapatan tunai tidak berubah • Menjejaskan kuasa beli masyarakat • Taraf hidup menurun • Tidak mampu membeli barang yang diinginkan 	<p><u>Kesan Terhadap Pengangguran</u></p> <ul style="list-style-type: none"> • Kesan positif terhadap pengangguran • Firma tambahkan keluaran – inflasi tarikan permintaan • Firma meningkatkan penggunaan tenaga buruh • Peluang pekerjaan bertambah • Kadar pengangguran menurun – inflasi sederhana
<p><u>Kesan Terhadap Eksport</u></p> <ul style="list-style-type: none"> • Infalsi tolakan kos – harga barang & perkhidmatan meningkat – lebih mahal • Kehilangan daya saing di pasaran antarabangsa • DD barang keluaran tempatan berkurangan dalam pasaran antarabangsa • Pendapatan Negara daripada sektor eksport merosot 	<p><u>Kesan Terhadap Kadar Faedah</u></p> <ul style="list-style-type: none"> • Terlalu banyak wang mengajar barang yang sedikit • Bagi mengawal bekalan wang dalam ekonomi – bank pusat meningkatkan kadar faedah • Kos pinjaman dan beban hutang peminjam meningkat • Masyarakat kurang membuat pinjaman kerana kos tinggi • Penawaran wang dalam ekonomi akan berkurang

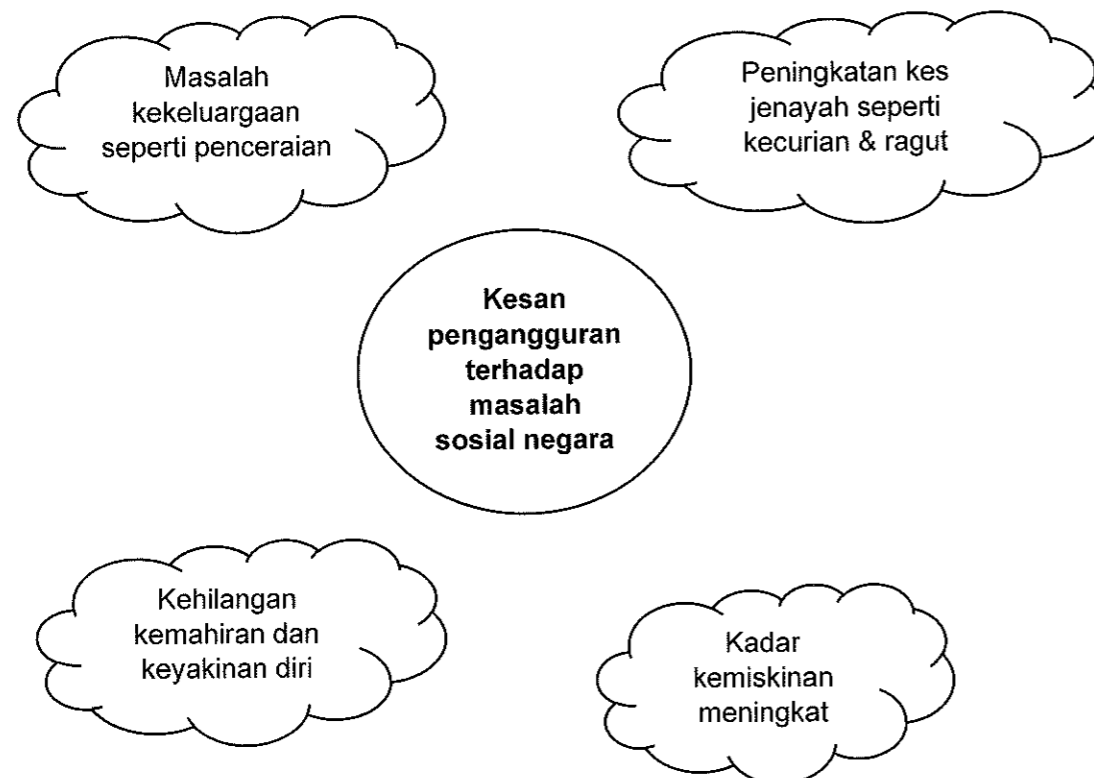
PENGANGGURAN

- Satu keadaan apabila terdapat tenaga buruh yang sanggup bekerja tetapi tidak dapat pekerjaan
- Kadar pengangguran dalam negara daripada 4%,
- Pengangguran menunjukkan lebih penawaran buruh-pembaziran faktor ekonomi-merugikan negara

i) Kesan pengangguran terhadap Ekonomi Negara

1. Pendapatan negara sebenar kurang daripada pendapatan negara potensi
- Disebabkan faktor buruh sedia ada tidak digunakan sepenuhnya
2. Hasil kerajaan berkurangan kerana kutipan cukai pendapatan kurang
- Penganggur tidak mempunyai pendapatan untuk membayar cukai
3. Ketidakekapan dalam pengeluaran dan pembaziran sumber ekonomi
4. Menghalang pertumbuhan ekonomi akibat pelbagai masalah sosial
- Wujud masalah sosial akibat pengangguran seperti rompakan
5. Taraf hidup masyarakat menurun kerana kuasa beli telah menurun

ii) Kesan pengangguran terhadap Masalah Sosial Negara



KELUARAN DALAM NEGARA KASAR (KDNK)

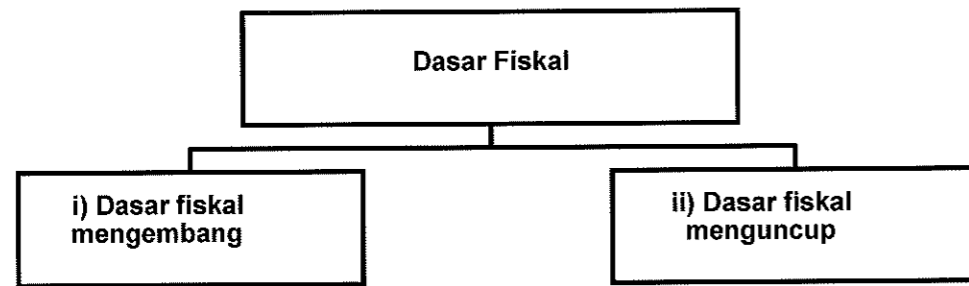
<p>Satu penunjuk ekonomi yang menggambarkan pendapatan negara iaitu <i>jumlah nilai barang dan perkhidmatan yang dihasilkan oleh sesebuah negara dalam tempoh setahun.</i></p>	<p>KDNK-menghitung nilai barang & perkhidmatan yang dihasilkan oleh faktor pengeluaran dalam sesebuah negara dalam tempoh setahun-<i>tanpa mengira faktor pengeluaran tersebut milik negara itu atau milik negara asing</i> – jurutera Jepun berkerja di syarikat Malaysia menyumbang kepada pendapatan negara.</p>
<p>Pendekatan Perbelanjaan</p> <ul style="list-style-type: none"> • KDNK – menjumlah semua perbelanjaan atas barang akhir dan perkhidmatan yang dihasilkan dalam ekonomi dalam tempoh setahun • Eksport – Import • Ambil kira perubahan stok akhir 	<p>Pendekatan Keluaran</p> <ul style="list-style-type: none"> • KDNK – menjumlah nilai ditambah yang dihasilkan oleh pelbagai sektor ekonomi dalam tempoh setahun • Nilai tambah – peningkatan nilai barang

SEBAB PERTUMBUHAN EKONOMI

<p>SUMBER ALAM SEMULA JADI</p> <ul style="list-style-type: none"> • Dianugerahkan sumber semula jadi yang banyak-boleh kembang ekonomi dengan mudah • Tarik pelabur asing 	<p>JUMLAH PENDUDUK DAN BEKALAN TENAGA</p> <ul style="list-style-type: none"> • Penduduk bertambah – jumlah tenaga buruh bertambah • Kemahiran&produktiviti buruh – ditingkatkan pendidikan & latihan
<p>KEMAJUAN TEKNOLOGI</p> <ul style="list-style-type: none"> • Teknologi canggih – tingkatkan kecekapan pengeluaran • Kurangkan kos pengeluaran • Tambahkan jumlah keluaran 	<p>PELABURAN DALAM AKTIVITI EKONOMI</p> <ul style="list-style-type: none"> • Semakin besar nilai pelaburan – semakin banyak brg dan perkhidmatan dikeluarkan • Sumber dana untuk membiayai barang modal-eksportasi sumber alam semula jadi @ meningkatkan produktiviti
<p>SISTEM SOSIAL DAN SIKAP MASYARAKAT</p> <ul style="list-style-type: none"> • Stabil-beri keyakinan kepada pelabur tempatan dan pelabur asing • Sikap keterbukaan masyarakat-pengaruh pertumbuhan ekonomi-terima perubahan teknologi-produktiviti meningkat-ekonomi pesat 	

ALAT DASAR EKONOMI

a) Dasar Fiskal



Aspek	Dasar fiskal mengembang	Dasar fiskal menguncup
Masalah ekonomi	Pengangguran	Inflasi
Tujuan	Meningkatkan permintaan agregat	Mengurangkan permintaan agregat
Kadar cukai	Menurunkan kadar cukai	Menaikkan kadar cukai
Perbelanjaan kerajaan	Meningkatkan perbelanjaan kerajaan	Mengurangkan perbelanjaan kerajaan

b) Hasil Kerajaan

Cukai Langsung	
<ul style="list-style-type: none"> - Sejenis cukai yang beban cukainya tidak boleh dipindahkan kepada pihak lain - Sumber hasil cukai langsung merupakan sumbangan terbesar hasil kerajaan - Cukai ini wajib dikenakan atas individu dan firma yang memperoleh sejumlah pendapatan tertentu 	
Jenis cukai langsung	Huraian
Cukai pendapatan individu	<ul style="list-style-type: none"> - Dikenakan ke atas individu di Malaysia yang memperoleh pendapatan lebih daripada satu amaun tertentu dalam tempoh setahun - Dikenakan atas pelbagai bentuk pendapatan individu termasuk upah, elaun, bonus, dividen, faedah dan sewa - Jenis-jenis elaun kakitangan awam yang dikecualikan cukai ialah imbuhan tetapperumahan, imbuhan tetap kerajaan, bantuan sara hidup dan bantuan khas kewangan - Tujuan kerajaan mengenakan cukai ini ialah : <ol style="list-style-type: none"> a) Sebagai sumber hasil kerajaan b) Merapatkan jurang pendapatan antara golongan kaya dan miskin c) Sebagai alat kawalan kerajaan untuk mengatasi masalah inflasi dan kemelesetan ekonomi

Cukai pendapatan syarikat	<ul style="list-style-type: none"> - Dikenakan atas keuntungan yang diperoleh oleh syarikat berhad - Kadar cukai pendapatan syarikat antara 19% - 24%
Cukai pendapatan koperasi	<ul style="list-style-type: none"> - Dikenakan atas keuntungan yang diperoleh oleh koperasi yang beroperasi di Malaysia kecuali koperasi sekolah - Cukai pendapatan koperasi merupakan sumbangan terendah dalam jumlah hasil cukai langsung kerajaan
Cukai pendapatan petroleum	<ul style="list-style-type: none"> - Dikenakan atas semua syarikat petroleum yang menjalankan operasi di Malaysia - Kadar cukai pendapatan petroleum pada tahun taksiran 2016 ialah 38%
Cukai keuntungan hartanah	<ul style="list-style-type: none"> - Dikenakan atas keuntungan yang diperoleh daripada penjualan sesuatu hartanah
Duti setem	<ul style="list-style-type: none"> - Bayaran yang dikenakan berdasarkan nilai sesuatu harta apabila dokumen harta yang dipindah milik disetamkan - Contoh proses pindah milik pembelian hartanah dan permohonan peminjam atau bantuan kewangan
Cukai tanah	<ul style="list-style-type: none"> - Dikenakan atas pemilik tanah pertanian, tanah perusahaan, dan tanah bangunan - Bayaran cukai tanah adalah berbeza mengikut lokasi dan jenis tanah
Cukai pintu	<ul style="list-style-type: none"> - Dikenakan atas pemilik rumah dengan tujuan untuk membiayai perbelanjaan penyediaan prasarana dan perkhidatan awam oleh kerajaan tempatan

Cukai Tak Langsung	
<ul style="list-style-type: none"> - Sejenis cukai yang beban cukainya boleh dipindahkan kepada pihak lain - Jenis cukai ini dikenakan atas barang dan perkhidmatan yang dikeluarkan oleh pihak firma - Pihak firma yang ingin mengekalkan margin keuntungan biasanya akan memindahkan sebahagian atau sepenuhnya beban cukai tersebut kepada pengguna dengan menaikkan harga jualan barang dan perkhidmatan 	
Jenis cukai tak langsung	Huraian
Duti eksais	<ul style="list-style-type: none"> - Dikenakan atas barang seperti rokok, tembakau, minuman keras dan kenderaan bermotor yang dikeluarkan dalam negara untuk dijual di pasaran tempatan - Tujuan kerajaan mengenakan duti eksais ialah : <ul style="list-style-type: none"> a) Sebagai hasil kerajaan b) Menyekat penggunaan orang ramai teradap barang tertentu seperti rokok dan minuman keras yang membahayakan kesihatan

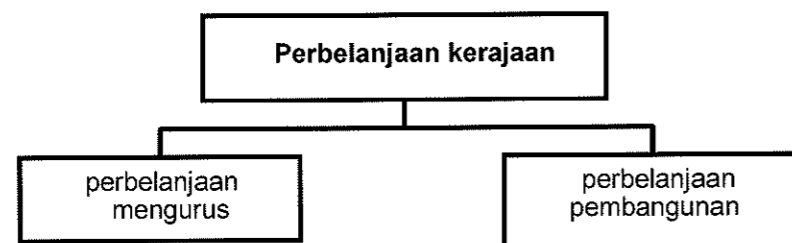
Duti import	<ul style="list-style-type: none"> a) Dikenakan atas barang penggunaan yang diimport dari luar negara seperti buah-buahan, rokok, minuman keras dan barang-barang mewah b) Tujuan kerajaan mengenakan duti import ialah : c) Sebagai sumber hasil kerajaan d) Melindungi industri tempatan kerana pengenaan duti import menyebabkan harga barang import naik e) Mewujudkan lebih banyak peluang pekerjaan kerana perkembangan industri tempatan f) Memperbaiki imbalan dagangan dan imbalan pembayaran negara g) Mengatasi masalah lambakan dalam perdagangan antarabangsa h) iaitu menjual barang dengan harga yang sangat murah di pasaran luar negara berbanding dengan harga di negara asalnya
Duti eksport	<ul style="list-style-type: none"> - Dikenakan atas komoditi utama seperti petroleum, kelapa sawit, kayu balak dan getah yang diekport ke luar negara - Tujuan kerajaan mengenakan duti eksport ialah : <ul style="list-style-type: none"> a) Sebagai hasil kerajaan b) Menyekat eksport barang komoditi mentah yang tidak diproses secara berlebihan dan menggalakkan pengeluaran memproses barang komoditi kepada barang siap atau separuh siap sebelum diekport keluar negara c) Memajukan industri yang berasaskan sumber tempatan kerana bahan mentah diproses dalam negara
Cukai barang dan perkhidmatan (GST)	<ul style="list-style-type: none"> - GST merupakan cukai yang dikenakan ke atas penggunaan barangan dan perkhidmatan yang mula berkuat kuasa pada 1 April 2015 - GST merupakan cukai penggunaan yang berasaskan konsep nilai ditambah - Golongan berpendapatan tinggi yang menggunakan lebih banyak barangan akan membayar lebih banyak cukai, manakala golongan berpendapatan rendah yang menggunakan sedikit barang membayar cukai yang rendah - Kadar GST pada tahun 2016 adalah 6%
Cukai perjudian	<ul style="list-style-type: none"> - Dikenakan atas firma yang menjalankan operasi perjudian berlesen di Malaysia
Levi	<ul style="list-style-type: none"> - Dikenakan atas majikan bagi membawa masuk barang dan perkhidmatan ke dalam negara - Cukai ini biasa digunakan terhadap pekerja asing yang datang ke sesebuah negara

d) Kesan Cukai Atas Agihan Pendapatan

CUKAI PROGRESIF	CUKAI REGRESIF	CUKAI BERKADAR MALAR
Bentuk cukai yang kadarnya semakin tinggi apabila pendapatan bertambah	Bentuk cukai yang kadarnya semakin menurun apabila pendapatan bertambah	Bentuk cukai yang kadarnya tetap walaupun pendapatan berubah
<ul style="list-style-type: none"> ➤ Berdasarkan agihan pendapatan individu ➤ Pendapatan individu meningkat ➤ Kadar cukai lebih tinggi ➤ Gol. pendapatan tinggi-bayar cukai lebih tinggi ➤ Gol. Pendapatan rendah-bayar cukai lebih rendah 	<ul style="list-style-type: none"> ➤ Konsep terbalik dengan cukai progresif ➤ Beban yang lebih besar atas golongan berpendapatan rendah berbanding dengan golongan berpendapatan tinggi 	<ul style="list-style-type: none"> ➤ Kadar cukai yang sama bagi semua pembayar cukai tanpa kira jumlah pendapatan syarikat
<ul style="list-style-type: none"> ➤ Contoh: Cukai pendapatan individu 	<ul style="list-style-type: none"> ➤ Contoh: cukai barang dan perkhidmatan -kerajaan dikenakan kadar cukai sama bagi semua pengguna 	<ul style="list-style-type: none"> ➤ Contoh: Cukai pendapatan syarikat -firma dikenakan cukai pada kadar yang sama tanpa mengira keuntungan syarikat pada tahun tersebut

e) Perbelanjaan Kerajaan

- Kerajaan akan membuat perbelanjaan dengan menggunakan sumber hasil cukai dan hasil bukan cukai
- Terbahagi kepada dua jenis



- Boleh dikelaskan berdasarkan ciri-ciri berikut:

Perbelanjaan mengurus	Perbelanjaan pembangunan
Perbelanjaan semasa kerajaan yang berulang pada setiap tahun	Perbelanjaan pelaburan kerajaan atas projek pembangunan sosial ekonomi negara
Membolehkan pengurusan dan pentadbiran harian kerajaan beroperasi dengan lancar	Meningkatkan pembedaan modal negara

Contohnya, bayaran emolumen, bayaran khidmat hutang negara, pencen dan ganjaran, serta bekalan dan perkhidmatan	Contohnya, perbelanjaan sektor perkhidmatan ekonomi sosial, keselamatan dan pentadbiran am
---	--

f) Belanjawan Negara

<p>BELANJAWAN NEGARA</p> <ul style="list-style-type: none"> Suatu penyata tentang anggaran jumlah hasil yang diperoleh dan anggaran jumlah perbelanjaan yang akan dilakukan untuk tahun kewangan akan datang Anggaran pendapatan yang diterima dibandingkan dengan segala perbelanjaan yang akan dibuat pada masa depan 		
<p>TUJUAN BELANJAWAN NEGARA</p>		
<ul style="list-style-type: none"> Pastikan peruntukan dikawal agar jumlah perbelanjaan tidak melebihi jumlah hasil negara 	<ul style="list-style-type: none"> Mempengaruhi aktiviti ekonomi untuk mencapai matlamat ekonomi yang diinginkan 	<ul style="list-style-type: none"> Mencapai pembangunan dan kadar pertumbuhan ekonomi yang mampan
<p>BELANJAWAN LEBIHAN</p>	<p>BELANJAWAN SEIMBANG</p>	<p>BELANJAWAN DEFISIT</p>
jumlah hasil kerajaan > jumlah perbelanjaan kerajaan	jumlah hasil kerajaan = jumlah perbelanjaan kerajaan	Jumlah hasil kerajaan < jumlah perbelanjaan kerajaan
<ul style="list-style-type: none"> > Masalah inflasi > <u>Menaikan kadar cukai</u> <ul style="list-style-type: none"> Pendapatan boleh guna Kuasa beli masyarakat Permintaan barang Tingkat harga umum Keadaan inflasi dapat dikawal-kos sara hidup > <u>Mengurangkan perbelanjaan kerajaan</u> <ul style="list-style-type: none"> Pertumbuhan aktiviti ekonomi perlahan Pendapatan Permintaan barang Tingkat harga umum 	<ul style="list-style-type: none"> > Dilaksanakan bagi mengukuhkan kedudukan kewangan sektor awam > Kestabilan ekonomi-capai guna tenaga penuh > Semua perbelanjaan kerajaan menggunakan hasil sepenuhnya > Tiada baki yang tertinggal > Tiada perbelanjaan dibayar dengan hutang > Kekalkan keadaan stabil dalam ekonomi 	<ul style="list-style-type: none"> > Masalah kemelesetan ekonomi > <u>Menurunkan kadar cukai</u> <ul style="list-style-type: none"> Pendapatan boleh guna Kuasa beli masyarakat Permintaan barang Tingkat harga umum Keadaan inflasi dapat dikawal-kos sara hidup > <u>Menambah perbelanjaan kerajaan</u> <ul style="list-style-type: none"> Pertumbuhan aktiviti ekonomi berkembang Peluang pekerjaan bertambah Kadar pengangguran menurun Tingkat harga umum Kemelesetan ekonomi dapat dipulihkan

• Keadaan inflasi dapat dikawal-kos sara hidup		
--	--	--

g) Kesan Kadar Faedah Sebagai Alat Kewangan Dalam Ekonomi

Kesan Kadar Faedah Sebagai Alat Kewangan Dalam Ekonomi		
Kesan Terhadap Pengguna	Kesan Terhadap Firma	Kesan Terhadap Ekonomi
<ul style="list-style-type: none"> ➤ Mempengaruhi kuasa beli pengguna ➤ Ubah corak perbelanjaan ➤ Pinjaman bank- pengguna berbelanja melebihi kemampuan-melalui bayaran secara kredit-dikenakan faedah ➤ Membiayai pembelian asset bukan semasa seperti rumah dan kenderaan, ➤ Membeli barang mewah-barang elektronik, perabot rumah, pakej pelancongan, belanja pelajaran, pelaburan kewangan 	<ul style="list-style-type: none"> ➤ Perubahan kadar faedah mempengaruhi modal kewangan firma ➤ Pinjaman bank -Sumber kewangan penting firmam untuk dapatkan modal tambahan dalam kembangkan operasi ➤ Modal pinjaman – digunakan dalam aktiviti pelaburan, R&D, latihan kemahiran pekerja-supaya daya saing dan produktivi firma dapat ditingkatkan 	<ul style="list-style-type: none"> ➤ Kadar cukai yang sama bagi semua pembayar cukai tanpa kira jumlah pendapatan syarikat

LATIHAN OBJEKTIF

1 Gambar berikut menunjukkan suatu barang dalam ekonomi.



Antara yang berikut, ciri yang manakah menggambarkan barang di atas?

- I Penawaran tidak terhad
- II Tidak melibatkan kos lepas
- III Menjaga kebajikan masyarakat
- IV Mana-mana individu tidak dikecualikan penggunaannya

- A I dan II
- B I dan IV
- C II dan III
- D III dan IV

2 Mengapakah kerajaan bukan sahaja menyediakan barang awam di bandar malah juga di luar bandar?

- A Kos pengeluaran yang murah
- B Meningkatkan tingkat kebajikan masyarakat
- C Meningkatkan pendapatan penduduk luar bandar
- D Memaksimumkan keuntungan bagi pihak kerajaan

3 Logo berikut merupakan salah satu syarikat berkaitan kerajaan.



Pilih ciri yang berkaitan dengan syarikat tersebut?

- A Lebih dari seorang pengeluar
- B Berkuasa untuk menentukan harga
- C Persaingan bukan harga amat penting
- D Kebebasan firma untuk masuk dan keluar pasaran

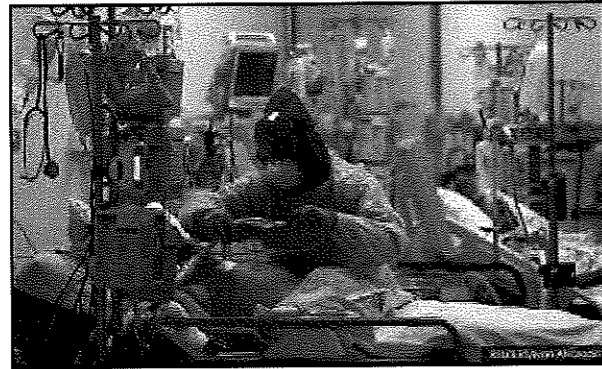
4 Gambar berikut menunjukkan satu jenis barang.



Antara berikut, yang manakah menggambarkan ciri barang tersebut?

- A Tiada kos lepas
- B Penggunaan tidak terhad
- C Tidak dikenakan bayaran
- D Disediakan oleh kerajaan

- 5 Gambar berikut berkaitan dengan perkhidmatan yang ditawarkan di Hospital Nur Zahirah, Kuala Terengganu.



Apakah ciri perkhidmatan berikut?

- A Penawarannya adalah tidak terhad
 - B Tidak melibatkan kos lepas untuk mengeluarkannya
 - C Memerlukan perbelanjaan yang tinggi untuk mengeluarkannya
 - D Apabila digunakan oleh seseorang akan mengurangkan faedah penggunaan individu lain
- 6 Gambar di bawah berkaitan dengan perkhidmatan kerajaan.



Apakah matlamat utama kerajaan menyediakan perkhidmatan tersebut?

- A Menjana pendapatan negara
- B Memonopoli pasaran negara
- C Memaksimumkan kebajikan masyarakat
- D Menjaga kestabilan harga barangan dipasaran

- 7 Barang awam ialah barang yang
- A penawarannya ada dimana-mana tanpa had
 - B tidak tertakluk kepada prinsip pengecualian
 - C kos pengeluarannya ditanggung sepenuhnya oleh pembayar cukai
 - D contoh barang awam ialah pembinaan loji pembersihan air untuk kegunaan rakyat
- 8 Keretapi Tanah Melayu (KTM) dianggap sebagai syarikat monopoli semula jadi kerana..
- A dimiliki oleh sektor swasta
 - B disenaraikan di Bursa Malaysia
 - C mengenakan harga yang tinggi
 - D menanggung kos modal yang tinggi
- 9 Pilih ciri yang berkaitan dengan monopoli semula jadi.
- A Lebih dari seorang pengeluar
 - B Berkuasa untuk menentukan harga
 - C Persaingan bukan harga amat penting
 - D Kebebasan firma untuk masuk dan keluar pasaran
- 10 TM Malaysia dianggap sebagai syarikat monopoli semula jadi kerana
- A dimiliki oleh sektor swasta
 - B disenaraikan di Bursa Saham
 - C mengenakan harga yang tinggi
 - D menanggung kos modal yang tinggi
- 11 Antara berikut, faedah sampingan yang manakah ditawarkan oleh pihak kerajaan kepada kakitangan awam?
- A Cuti melancong ke luar negara
 - B Menurunkan kadar cukai jalan
 - C Elaun perumahan
 - D Produk halal
- 12 Antara yang berikut, indikator makroekonomi yang manakah digunakan untuk mengukur pendapatan kegiatan ekonomi sebuah negara?
- A Faedah sosial
 - B Kos pengeluaran
 - C Pendapatan negara
 - D Guna tenaga penuh
- 13 Kerajaan berperanan dalam ekonomi sebagai...
- I mencapai objektif makro ekonomi
 - II mewujudkan monopoli semulajadi
 - III bertindak sebagai pengguna dan pengeluar
 - IV mengawal selia pengeluar dan eksternaliti negatif
- A I dan II
 - B I dan IV
 - C II dan III
 - D III dan IV

14 Pernyataan berikut berkaitan dengan objektif kerajaan.

Kerajaan perlu memastikan kadar inflasi dalam negara terkawal

Apakah objektif makroekonomi tersebut?

- A Kestabilan harga
- B Guna tenaga penuh
- C Pertumbuhan ekonomi
- D Kestabilan imbalan pembayaran

15 Antara berikut, yang manakah merupakan faktor pertumbuhan ekonomi?

- I Sumber alam semula jadi
- II Imbalan dagangan
- III Kemajuan teknologi
- IV Pertukaran asing

- A I dan II
- B I dan III
- C II dan IV
- D III dan IV

16 Peningkatan pertumbuhan ekonomi di Malaysia akan membawa kepada

- I peningkatan infrastruktur fizikal
- II peningkatan kadar pengangguran
- III peningkatan bilangan kakitangan awam
- IV peningkatan taraf pendidikan penduduk

- A I dan II
- B I dan IV
- C II dan III
- D III dan IV

17 Antara berikut, yang manakah tindakan pengeluar mengeksploitasi pengguna yang akan menjejaskan kebajikan masyarakat?

- A Menetapkan harga barang keperluan pada paras yang tinggi
- B Menjual barang yang selamat dan mendapat pengiktirafan logo halal
- C Mengeluarkan barang yang berkualiti tinggi dengan harga yang berpatutan
- D Mengeluarkan barang dan perkhidmatan dalam kuantiti yang banyak supaya dapat bersaing di peringkat antarabangsa

18 Antara berikut, pernyataan yang manakah berkaitan objektif makroekonomi?

- I Taraf hidup dan kos sara hidup masyarakat meningkat
- II Aliran wang keluar lebih tinggi daripada aliran wang masuk
- III Tenaga buruh digunakan dengan optimum dan jumlah keluaran negara adalah maksimum
- IV Tingkat harga umum tidak mengalami sebarang perubahan atau mengalami perubahan pada kadar yang rendah

- A I dan II
- B I dan IV
- C II dan III
- D III dan IV

19 Mengapakah kerajaan ingin mencapai objektif tingkat guna tenaga penuh?

- I Mencapai kecekapan peruntukan sumber ekonomi
- II Memaksimumkan jumlah kapasiti pengeluaran
- III Menurunkan kuasa beli masyarakat
- IV Mengurangkan daya saing negara

- A I dan II
- B I dan IV
- C II dan III
- D III dan IV

20 Maklumat berikut menunjukkan Keluaran Dalam Negara Kasar (KDNK) mengikut aktiviti ekonomi tahun 2017 dan 2018

Butiran	2017 (RM juta)	2018 (RM juta)
Pertanian, perhutanan, dan perikanan	39 828	39 992
Pembinaan	16 366	17 321
Perlombongan dan kuari	41 831	40 246
Pembuatan	153 171	138 809
Perkhidmatan	292 555	300 154

Pernyataan manakah yang betul tentang jadual dia atas?

- A Sumbangan sektor utama semakin berkurangan
- B Berlaku peningkatan pada sektor ketiga pada tahun 2018
- C Berlaku peningkatan pada aktiviti perlombongan dan kuari
- D Sektor kedua adalah sektor penyumbang KDNK tertinggi sepanjang tempoh tersebut

21 Maklumat berikut menunjukkan keadaan sesebuah ekonomi.

Harga input yang digunakan dalam proses pengeluaran barang X meningkat sebanyak 5% menyebabkan harga barang X yang dijual di pasaran meningkat sebanyak 4%.

Apakah jenis inflasi yang berlaku di atas?

- A Inflasi musim
- B Inflasi diimport
- C Inflasi tolakan kos
- D Inflasi tarikan permintaan

22 Pernyataan berikut menunjukkan satu situasi yang berlaku dalam ekonomi.

Perubahan struktur ekonomi negara daripada sektor utama kepada sektor kedua dan ketiga menyebabkan ramai pekerja ladang kehilangan pekerjaan.

Situasi di atas menggambarkan

- A pengangguran kitaran
- B pengangguran geseran
- C pengangguran bermusim
- D pengangguran berstruktur

23 Maklumat berikut menunjukkan suatu petunjuk ekonomi.

Tahun	Indeks Harga Pengguna (IHP)
2014	123.7
2015	116.1
	Perubahan = 7.6%

Apakah takrifan yang dapat dibuat?

- A Kos hidup menurun 7.6%
- B Nilai wang meningkat 7.6%
- C Kos hidup meningkat 7.6%
- D Nilai wang menurun 7.6%

24 Apakah kesan yang akan berlaku jika kadar inflasi berubah daripada 2.58% kepada 5%?

- I Peluang pekerjaan menurun
- II Kuasa beli masyarakat meningkat
- III Pendapatan benar masyarakat menurun
- IV Nilai wang yang dipegang oleh isi rumah merosot

- A I dan II
- B I dan III
- C II dan IV
- D III dan IV

25 Situasi manakah yang menyebabkan pengangguran kitaran?

- A Pekerja yang meletak jawatan untuk mengharapkan pekerjaan lain
- B Pekerja yang hilang pekerjaan kerana terlalu memilih pekerjaan
- C Pekerja yang hilang pekerjaan semasa kemelesetan ekonomi
- D Pekerja yang menghadapi kekurangan kemahiran

26 KDNK negara dijangka meningkat sebanyak 4.5% pada tahun 2019. Antara yang berikut, yang manakah mungkin menyebabkan keadaan di atas?

- A Penurunan dalam produktiviti
- B Penurunan dalam kadar inflasi

- C Penurunan dalam jumlah eksport
- D Penurunan kadar pengangguran

27 Manakah yang menyebabkan berlakunya inflasi tolakan kos?

- A Pertambahan kos bahan api
- B Pengembangan kredit bank perdagangan
- C Peningkatan dalam perbelanjaan kerajaan
- D Peningkatan dalam perbelanjaan penggunaan

28 73 000 pekerja diberhentikan. Bagaimanakah cara kerajaan atasi masalah tersebut?

- I Kadar cukai diturunkan
- II Melonggarkan syarat sewa beli
- III Perbelanjaan kerajaan diturunkan
- IV Tempoh bayaran balik pinjaman dipendekkan

- A I & II
- B I & IV
- C II & III
- D III & IV

29 Pilih pernyataan yang tepat tentang dasar fiskal mengembang dengan dasar fiskal menguncup.

	Dasar Fiskal Mengembang	Dasar Fiskal Menguncup
A	Meningkatkan kadar cukai	Menurunkan kadar cukai
B	Meningkatkan permintaan agregat	Menurunkan permintaan agregat
C	Menurunkan perbelanjaan kerajaan	Meningkatkan perbelanjaan kerajaan
D	Digunakan semasa berlaku inflasi	Digunakan semasa berlaku deflasi

30 Pernyataan yang manakah berkaitan dengan cukai tak langsung?

- A Encik Irsyad membayar duti setem apabila menandatangani surat perjanjian pembelian rumah
- B Syarikat Beauty Berhad membayar cukai sebanyak 28% daripada keuntungannya kepada kerajaan
- C Puna Selamah membayar tambahan 5% daripada jumlah harga makanan di restoran makanan segera
- D Petronas membayar 38% daripada jumlah pendapatan syarikat kepada kerajaan

31 Pemberian subsidi kepada pengeluar minyak masak menyebabkan...

- A harga kelapa sawit menurun
- B penawaran minyak masak menurun
- C permintaan minyak masak menurun
- D kos pengeluaran minyak masak menurun

32 Antara berikut, yang manakah merupakan barang kawalan?

- I Ayam
- II Lada hitam
- III Mee segera
- IV Tepung beras

- A I dan II
- B I dan IV
- C II dan III
- D III dan IV

33 Antara berikut, negara manakah mencatat kadar peningkatan pendapatan benar yang paling tinggi.

	Negara	% Peningkatan harga	% Peningkatan pendapatan
A	Singapura	2.8	2.9
B	Thailand	3.5	3.2
C	Malaysia	3.1	3.3
D	Indonesia	2.9	4.2

34 Berikut merupakan maklumat berkaitan dasar fiskal

- A Menaikkan cukai langsung – meningkatkan permintaan agregat
- B Menurunkan cukai tak langsung – menambahkan peluang pekerjaan
- C Menaikkan perbelanjaan pembangunan –menambahkan peluang pekerjaan
- D Mengurangkan perbelanjaan mengurus – mengurangkan pengangguran

35 Apakah kesan penurunan kadar faedah kepada ekonomi sesebuah negara?

- A Jumlah permintaan agregat berkurang
- B Pendapatan negara sebenar bertambah
- C Masalah pengangguran kitaran lebih serius
- D Kadar pertumbuhan ekonomi lebih perlahan

36 Jadual di bawah ini menunjukkan anggaran hasil kerajaan persekutuan bagi tahun 2016

Sumber Hasil	Jumlah (RM Juta)
Cukai pendapatan individu	27 566
Duti eksais	11 705
Lesen/permit	12 307
Cukai pendapatan syarikat	63 625
Cukai barang dan perkhidmatan	41 206
Cukai pendapatan petroleum	8 422
Duti import	2 905
Pendapatan pelaburan	21 425

[Sumber: Diubah suai daripada Laporan Ekonomi 2017/2018]

Berapakah hasil cukai langsung, hasil cukai tak langsung, dan hasil bukan cukai?

	Hasil Cukai Langsung	Hasil Cukai Tak Langsung	Hasil Bukan Cukai
A	11 318	77 241	12 307
B	121 038	52 912	20 729
C	91 191	43 510	21 425
D	99 613	55 816	33 732

37 Maklumat di bawah ini menunjukkan satu contoh komponen perbelanjaan pembangunan.

Kerajaan telah menyalurkan sebanyak RM1.3 bilion kepada Perbadanan Perumahan Rakyat Malaysia (PRIMA) untuk pembinaan rumah bagi isi rumah berpendapatan sederhana antara RM2 500 dan RM 10 000.

(Sumber Laporan Ekonomi 2015/2016)

Apakah komponen perbelanjaan tersebut?

- A Sektor keselamatan
 - B Sektor pentadbiran am
 - C Sektor perkhidmatan sosial
 - D Sektor perkhidmatan ekonomi
- 38 Dengan menggunakan dasar fiskal, kerajaan boleh menambahkan atau mengurangkan perbelanjaan dengan
- A menaikkan atau menurunkan cukai
 - B menaikkan atau menurunkan kadar bunga
 - C menaikkan atau menurunkan kadar inflasi
 - D menambahkan atau mengurangkan penawaran wang dalam ekonomi
- 39 Maklumat berikut menunjukkan tindakan bank pusat melalui dasar kewangan mengawal satu keadaan ketidakstabilan ekonomi

Keperluan rizab berkanun dinaikkan tiga kali ganda sebagai langkah awal mengurus peningkatan masalah tunai berlebihan yang membawa kepada peningkatan harga barangan

Apakah tindakan lain yang boleh dilakukan oleh bank pusat untuk mengawal keadaan tersebut?

- A Jual surat jaminan kerajaan
- B Turunkan nisbah rizab tunai
- C Longgarkan syarat sewa beli
- D Turunkan kadar faedah pinjaman

40 Jadual yang berikut menunjukkan kedudukan kewangan sektor awam pada tahun 2015

Butiran	Jumlah (RM Juta)
Hasil	211 989
Perbelanjaan Mengurus	241 075
Perbelanjaan Membangun	138 597

(sumber: diubah suai daripada Laporan Ekonomi 2016/2017)

- I Kerajaan menjalankan dasar belanjawan kurangan
 - II Contoh perbelanjaan pembangunan ialah emolumen
 - III Sumber hasil kerajaan terdiri daripada hasil cukai dan hasil bukan cukai
 - IV Belanjawan negara satunya cara untuk mengatasi kemelesetan ekonomi
- A I dan II
B I dan III
C II dan III
D III dan IV
- 41 Apakah kesan penurunan kadar faedah terhadap pengguna?
A Kos pinjaman meningkat
B Pengguna akan mengurangkan jumlah pinjaman
C Perbelanjaan pengguna dalam ekonomi meningkat
D Pengguna perlu menyediakan lebih wang semasa berbelanja
- 42 Pernyataan manakah yang berkaitan dengan cukai langsung?
A Koperasi AlJannah Berhad membayar cukai atas keuntungannya
B Puan Aina membayar cukai kepada Jabatan Kastam Diraja Malaysia
C Syarikat Maju Jaya Berhad dikenakan cukai jualan dan perkhidmatan
D Syarikat Suria Berhad dikenakan denda kerana melanggar undang-undang
- 43 Berikut adalah kesan daripada tindakan Bank Pusat untuk mengawal ketidakstabilan ekonomi
- | |
|--|
| - Penawaran wang berkurang
- Kuasa beli menurun |
|--|
- A Menurunkan kadar faedah
B Mengetatkan syarat sewa beli
C Menurunkan nisbah rizab berkanun
D Memanjangkan tempoh bayaran balik pinjaman
- 44 Bagaimanakah dasar kewangan mengatasi masalah “terlalu banyak wang mengejar sedikit barang” dalam ekonomi?
I Menaikkan kadar cukai
II Menaikkan kadar faedah
III Menjual surat jaminan kerajaan
IV Menaikkan perbelanjaan kerajaan

- A I dan II
- B I dan IV
- C II dan III
- D III dan IV

LATIHAN ESEI

- 1 (a) Jelaskan secara ringkas objektif makroekonomi yang berikut:
- (i) Guna tenaga penuh [3 markah]
 - (ii) Pertumbuhan ekonomi [3 markah]
- (b) Bagaimana peranan kerajaan dalam mengawal selia pengeluaran. [4 markah]
- 2 (a) Nyatakan jenis-jenis inflasi. [3 markah]
- (b) Jelaskan konsep-konsep yang berikut:
- (i) Pengangguran Kitaran [2 markah]
 - (ii) Pengangguran Berstruktur [2 markah]
- (c) Jelaskan kesan di 2(b)(i) terhadap:
- (i) Ekonomi negara [3 markah]
 - (ii) Masalah sosial negara [3 markah]
- 3 Maklumat berikut berkaitan dengan sebuah firma GLC.
- Tenaga Nasional Berhad (TNB) merupakan sebuah syarikat bekalan elektrik yang terbesar di Malaysia.
- Terangkan ciri-ciri monopoli semula jadi. [6 markah]

4 Jadual berikut menunjukkan kadar pertumbuhan ekonomi di Malaysia dari tahun 2011-2016.

***Pertumbuhan Ekonomi Malaysia
2011-2020***

Tahun	PENCAPAIAN						UNJURAN		
	2011	2012	2013	2014	2015	2016	2017	2018	2020
Pertumbuhan KDNK (%)	5.3	5.5	4.7	6.0	5.0	4.5	4.3	4.3	3.7

Sumber: Focus Economics

(a) Berdasarkan jadual berikut:

(i) Terangkan arah aliran kadar pertumbuhan ekonomi di Malaysia dari 2011 hingga 2016.

[4 markah]

(ii)Jelaskan kadar pertumbuhan ekonomi yang mampan mengurangkan kadar pengangguran.

[4 markah]

5 .Penyataan berikut berkaitan dengan suatu akta yang dikuatkuasakan di negara Malaysia

Akta Kawalan Harga dan Anti Pencatutan merupakan akta untuk mengawal harga barangan dan caj bagi perkhidmatan dan melarang pencatutan. Akta ini mula dikuatkuasa pada 2011.

(Dipetik dan disesuaikan daripada: www.bernama.com)

(a) Bezakan antara dasar harga maksimum dengan dasar harga minimum.

[4 markah]

6 . Maklumat berikut berkaitan dengan analisis unjuran ekonomi Malaysia.

Ekonomi Malaysia catat -5.6 peratus pada 2020 susulan Covid-19

KUALA LUMPUR - Keluaran Dalam Negara Kasar (KDNK) Malaysia mencatatkan penyusutan 3.4 peratus pada suku keempat 2020 dalam keadaan peningkatan ketara kes jangkitan Covid-19 sekali gus menjadikan prestasi keseluruhan tahun kepada -5.6 peratus berikutan perintah sekatan dan penutupan sempadan di peringkat global.

(Dipetik dan disesuaikan daripada: Sinar Harian)

(a) Jelaskan kesan pandemik covid-19 terhadap pertumbuhan ekonomi negara. [6 markah]

7 Maklumat di bawah ini menunjukkan beberapa komponen perbelanjaan kerajaan.

Perbelanjaan X	Perbelanjaan Y
Pembinaan sekolah	Pencen dan ganjaran

(a) Nyatakan Perbelanjaan X dan Perbelanjaan Y

[2 markah]

(b) Bandingkan kedua-dua jenis perbelanjaan kerajaan tersebut.

[5 markah]

8

Pernyataan berikut berkaitan dengan dasar ekonomi negara X.

Kerajaan negara X telah menjalankan belanjawan lebih semasa inflasi.

- (a) Bagaimanakah belanjawan lebih dapat mengatasi masalah tersebut? [5 markah]
- (b) Jelaskan kesan terhadap kestabilan ekonomi sekiranya Bank Negara menaikkan kadar faedah semasa ekonomi mengalami masalah inflasi. [5 markah]

BAB 6: MALAYSIA DAN EKONOMI GLOBAL

Maksud :

Globalisasi - proses interaksi dan integrasi antara manusia, firma dan kerajaan pelbagai negara.

- ☉ Globalisasi menyebabkan sempadan antara negara seolah-olah tidak wujud
- ☉ dunia dianggap sebagai satu unit.

Ciri-ciri Globalisasi	
<p>1. <u>Pasaran Baharu</u></p> <ul style="list-style-type: none"> ✓ perkhidmatan perbankan, insurans, pengangkutan ✓ Kelonggaran undang-undang ✓ Pasaran pengguna global dgn jenama global 	<p>3. <u>Kaedah Komunikasi Baharu</u></p> <ul style="list-style-type: none"> ✓ Cepat dan murah ✓ Internet dan komunikasi elektronik yang menghubungkan orang ramai secara serentak.
<p>2. <u>Peserta Baharu</u></p> <ul style="list-style-type: none"> ✓ Syarikat multi nasional mengintergrasikan pengeluaran dan pemasaran mereka, mendominasi pengeluaran dunia. 	<p>4. <u>Peraturan dan Norma Baharu</u></p> <ul style="list-style-type: none"> ✓ Peluasan dasar ekonomi kapitalis yg merebak ke seluruh dunia seperti swasta dn liberalisasi perdagangan ✓ Demokrasi – pilihan politik dll

Syarikat Multinasional – firma yang beroperasi di beberapa negara secara serentak

Dorongan Syarikat dalam Operasi Antarabangsa:

1. Meluaskan pasaran
2. Perlindungan perdagangan
3. Kos Pengangkutan yang Tinggi
4. Bahan Mentah atau Hasil Bumi yang Unik
5. Tenaga Buruh dengan Kemahiran Khusus

Faktor Penggalak Globalisasi

1. Peranan kerajaan
2. Infrastruktur teknologi maklumat dan komunikasi yang maju
3. Infstruktur Pengangkutan yang baik
4. Pelancongan

Pelaburan Langsung Asing- pelaburan yang dibuat oleh firma atau individu dari luar negara untuk mulakan operasi peniagaan atau membeli aset perniagaan di Malaysia

KESAN POSITIF PELABURAN LANGSUNG ASING	
<p>1. <u>Pertumbuhan Ekonomi</u></p> <ul style="list-style-type: none"> • meningkatkan keupayaan pengeluaran barang dan perkhidmatan • Guna teknologi canggih – meningkatkan upaya pengeluaran-guna sumber yang sedia ada. • Meningkatkan kemahiran + guna kaedah pengeluaran baru – meningkatkan produktiviti pekerja 	<p>2. <u>Pindahan Teknologi</u></p> <ul style="list-style-type: none"> • Bawa masuk teknologi canggih • Masuk mesin dan jentera, kaedah pengeluaran, kemahiran & tatacara baharu – meningkatkan pengeluaran dan produktiviti pekerja
<p>3. <u>Meningkatkan Kemahiran Modal Insan</u></p> <ul style="list-style-type: none"> • Meningkatkan firma asing yang melabur di Malaysia – bantu meningkatkan kemahiran pekerja tempatan dan produktiviti 	<p>4. <u>Meningkatkan Modal Pelaburan</u></p> <ul style="list-style-type: none"> • Pelaburan langsung asing –lebih banyak modal dibawa masuk ke negara Malaysia – galakkan pertumbuhan aktiviti pengeluaran + pendapatan negara

PERDAGANGAN ANTARABANGSA	
Sebab-sebab PAB	Kepentingan PAB
<ol style="list-style-type: none"> 1. Sumber semula jadi 2. Iklim dan jenis tanah 3. Tingkat Kecekapan Pengeluaran 4. Budaya Masyarakat 5. Harga Faktor 6. Cita rasa Pengguna 	<ol style="list-style-type: none"> 1. Memperoleh barang yang tidak dikeluarkan di dalam negara 2. Meluaskan pasaran 3. Menambah pendapatan negara 4. Menggalakkan pemindahan & penggunaan teknologi 5. Nikmati barang & harga yang lebih murah 6. Tawar pilihan pengguna yang pelbagai 7. Kecekapan pengeluaran tambah peluang pekerjaan 8. Galakkan mobiliti tenaga buruh 9. Galakkan pelaburan wujud hubungan baik dengan rakan dagang

Keburukan PAB

1. Merugikan negara membangun
2. Terlalu bergantung kepada industri import dan ekspor
3. Mengamalkan pengkhususan berlebihan
4. Kurang mobiliti sumber
5. Mengamalkan dasar perlindungan
6. Menimbulkan masalah lambakan
7. Menyebarkan budaya tidak sihat

BENTUK SEKATAN PERDAGANGAN ANTARABANGSA

1. TARIF

- Cukai yang dikenakan atas barang yang diimport dari luar negara
- Kesannya; harga barang import relatifnya lebih mahal berbanding barang tempatan.

- Jenis tarif:

Tarik Spesifik

- cukai tetap yang dikenakan atas setiap unit barang diimport

Tarif Ad Valorem

- cukai yang dikenakan ikut nilai barang yang diimport

2. SUBSIDI

- Bantuan kewangan diberikan oleh kerajaan kepada pengeluar tempatan & boleh bersaing dengan firma asing
- Kos pengeluaran relatifnya lebih murah
- barang keluaran tempatan meningkat
- DD barang tempatan meningkat
- Diberi kpd pengeluar barang eksport utama – harga barang murah - lebih berdaya saing di PAB

3. KUOTA

- Sekatan perdagangan terhadap **jumlah** barang yang boleh diimport
- Had maksimum bagi sesuatu barang yang boleh diimport
- Contoh: bilangan unit kereta yang boleh diimport dlm tempoh setahun
- SS barang import menurun
- DD pengguna terhadap barang tempatan meningkat

4. KAWALAN PERTUKARAN ASING

- Hadkan beli pertukaran asing oleh pengimport tempatan – ikut arahan bank pusat – kemasukan barang import dapat dikawal.
- Galakkan perkembangan industri pengganti import (barang dlm negara sama dgn barang yg diimport)

5. EMBARGO

- Perintah larangan @ pemuluan terhadap negara tertentu – alasan keselamatan & kepentingan negara
- Contoh: Malaysia tidak benar import buahan & alatan ketahanan drp negara Israel kerana Israel menindas Palestin

6. SEKATAN BUKAN EKONOMI

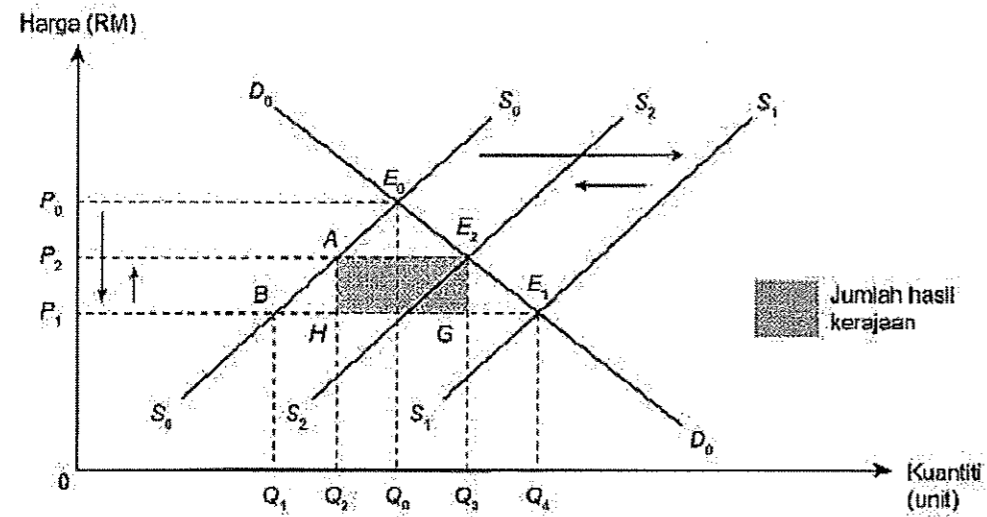
- Sekatan dalam bentuk undang-undang, peraturan @ syarat-syarat tertentu – bertujuan menjamin keselamatan dan kesihatan rakyat negara
- Contoh: buah/makanan; bebas penyakit/bahan kimia – bahaya kesihatan/keselamatan nyawa rakyat
- Contoh: elektik/elektronik ;yg diimport tepati piawaian & mutu ditetapkan oleh SIRIM agar selamat
- Contoh: ubatan/barang kesihatan diimport ;patuhi peraturan & undang-undang kesihatan digariskan oleh kerajaan

TUJUAN SEKATAN PERDAGANGAN ANTARABANGSA (PAB)	
<p>Melindungi industri muda tempatan</p> <ul style="list-style-type: none"> • Kenakan Tarif - harga barang import mahal & persaingan barang keluaran tempatan berkurang. • Industri muda & industri penting tempatan kembang maju – lebih kukuh & berdaya saing • Pengeluaran secara besar-besaran & nikmati kes pengeluaran seunit lebih rendah – harga murah 	<p>Menghadapi Persaingan</p> <ul style="list-style-type: none"> • Industri muda/tempatan dapat meningkatkan R&D; dapat hasilkan barang berkualiti • Industri gantian import; dapat kurang kebergantungan terhadap import barang kilang & penggunaan dari luar negara • Meningkatkan daya saing & upaya industri tempatan; galak eksport barang keluaran tempatan ke luar negara
<p>Sebagai sumber hasil kerajaan</p> <ul style="list-style-type: none"> • Kutipan tarif; sumber pendapatan bagi kerajaan • Hasil tarif; kerajaan dapat biayai perbelanjaan mengurus & perbelanjaan pembangunan 	<p>Wujud peluang pekerjaan</p> <ul style="list-style-type: none"> • Dapat kembangan industri tempatan (tarif, kuota & subsidi); meningkatkan SS, wujud peluang pekerjaan • Kurangkan kadar pengangguran • Meningkatkan pendapatan negara
<p>Baiki imbangan pembayaran</p> <ul style="list-style-type: none"> • Permintaan terhadap barang import akan berkurang akibat daripada tarif dan kuota yang dikenakan • Kejatuhan dalam nilai import mengurangkan pembayaran wang keluar negara • Baiki kedudukan imbangan dagangan & baiki imbangan pembayaran negara 	<p>Keselamatan</p> <ul style="list-style-type: none"> • Untuk melindungi industri penting dan strategik agar tidak terlalu bergantung pada bekalan import • Menghalang kemasukan barang yang haram spt dadah, makanan yang tercemar oleh penyakit & bahan kimia yang berbahaya
<p>Mengatasi masalah lambakan</p> <ul style="list-style-type: none"> • Aktiviti menjual barang negara asing- kos pengeluaran jatuh /harga di pasaran dalam negara • Lambakan – tujuan untuk habiskan lebih SS dalam negara/usir pesaing & wujud kuasa monopoli di pasaran dunia • Lambakan akan jejaskan industri muda tempatan – x dapat bersaing dengan pengeluar asing • Tarif – elak masalah lambakan • Antilambakan- sekat barang import – halang jual lebih barang di pasaran tempatan – elak kesan buruk terhadap ekonomi negara 	

KEBAIKAN SEKATAN PERDAGANGAN ANTARABANGSA (PAB)	
<p>1. <u>SS BARANG IMPORT JATUH</u></p> <ul style="list-style-type: none"> • Tarif & kuota – menyebabkan jumlah SS barang import jatuh dalam pasaran tempatan • Harga barang import relatif lebih mahal – berbanding barang keluaran tempatan- • DD barang import jatuh 	<p>2. <u>DD TERHADAP BARANG TEMPATAN NAIK</u></p> <ul style="list-style-type: none"> • DD barang import jatuh- harga lebih mahal • DD barang tempatan naik – harga lebih murah
<p>3. <u>KURANGKAN PENGANGGURAN</u></p> <ul style="list-style-type: none"> • DD barang tempatan meningkat-pengeluar tambah keluaran barang • Meningkatkan keluaran firma – wujudkan peluang pekerjaan kepada rakyat tempatan • bertambah guna tenaga – kurangkan pengangguran – meningkatkan pendapatan • meningkatkan taraf hidup 	<p>4. <u>MENINGKATKAN PENDAPATAN NEGARA</u></p> <ul style="list-style-type: none"> • Tarif – hasil kerajaan • Subsidi – disalurkan kpd pengeluar – harga barang eksport murah, berdaya saing dlm pasaran dunia • DD barang eksport meningkat
<p>5. <u>BAIKI IMBANGAN PEMBAYARAN</u></p> <ul style="list-style-type: none"> • Tarif, kuota & kawalan pertukaran asing - • DD barang import jatuh • Subsidi diberikan kpd pengeksport – • DD eksport negara meningkat • kurangkan Import negara - eksport negara meningkat 	<p>6. <u>LINDUNGI INDUSTRI MUDA TEMPATAN</u></p> <ul style="list-style-type: none"> • Sekatan PAB-untuk lindungi industri muda yang belum kukuh daripada bersaing dgn firma asing yang lebih besar & cekap • DD industri tempatan meningkat - untung meningkat - berkembang maju - daya saing dan produktiviti dalam & luar negara meningkat

KEBURUKAN SEKATAN PERDAGANGAN ANTARABANGSA (PAB)	
<p>1. <u>SALAH AGIHAN SUMBER</u></p> <ul style="list-style-type: none"> • Dasar perlindungan dalam PAB – banyak sumber ekonomi beralih ke sektor @ industri dilindungi oleh tarif – bukan beralih ke industri lebih cekap • Hal ini merugikan negara dalam jangka masa panjang – agih sumber tidak lagi mengambil kira kecekapan sumber 	<p>2. <u>RUGIKAN PENGGUNA</u></p> <ul style="list-style-type: none"> • Harga barang import mahal yang X disertai oleh usaha meningkatkan kualiti barang tempatan – rugikan pengguna terpaksa guna barang berkualiti • Pengguna terpaksa bayar harga mahal untuk nikmati barang import akibat kesan duti import
<p>3. <u>AGIHAN PENDAPATAN YANG TIDAK ADIL</u></p> <ul style="list-style-type: none"> • Tindakan Malaysia – kurangkan import dari negara lain akan dibalas oleh negara - DD barang eksport negara jatuh • Apabila barang eksport jatuh, majikan & industri pengeluaran barang eksport - kurang tenaga buruh & keluaran barang eksport • Keadaan ini membawa kesan buruk kepada pendapatan pekerja dalam industri keluaran barang eksport negara. 	<p>4. <u>EKSPORT JATUH</u></p> <ul style="list-style-type: none"> • Rakan dagang Malaysia dikenakan sekatan PAB seperti tarif – cenderung ambil tindakan dengan kurangkan import dari Malaysia • Keadaan ini kurangkan jumlah & nilai eksport Malaysia
<p>5. <u>WUJUD MONOPOLI</u></p> <ul style="list-style-type: none"> • Industri tempatan dilindungi melalui dasar sekatan perdagangan berlebihan – cenderung bergabung & wujudkan monopoli dalam pasaran tempatan • Monopoli datangkan kesan negatif seperti harga barang & ketidakcekapan agihan sumber 	<p>6. <u>KETIDAKCEKAPAN DALAM INDUSTRI TEMPATAN</u></p> <ul style="list-style-type: none"> • Industri tempatan yang dilindungi – cenderung bergantung pada kerajaan & X inisiatif untuk tingkatkan tahap kecekapan pengeluaran & daya saing • Dalam jangka panjang – kebergantungan terhadap kerajaan akan wujudkan ketidakcekapan dalam operasi & agihan sumber negara

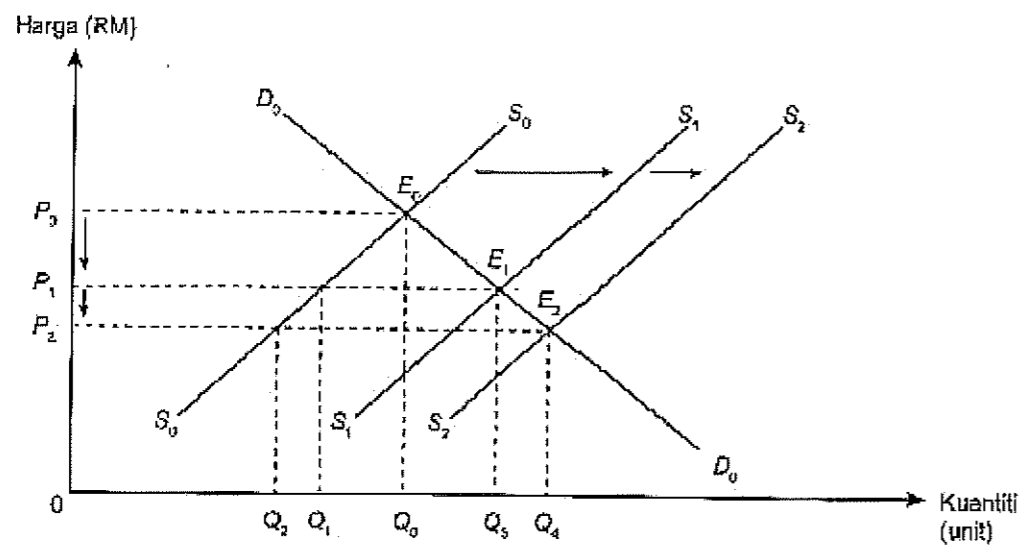
1. Kesan Pelaksanaan Tarif



- Sebelum perdagangan antarabangsa dijalankan, keseimbangan pasaran dicapai pada titik E_0 apabila keluk permintaan D_0D_0 bersilang dengan keluk penawaran S_0S_0 . Tingkat harga dan kuantiti keseimbangan dicapai pada P_0 dan Q_0 .
- Selepas perdagangan antarabangsa dijalankan, keluk penawaran S_1S_1 bersilang dengan keluk permintaan D_0D_0 pada titik keseimbangan E_1 . Tingkat harga dicapai pada P_1 , dan jumlah kuantiti permintaan adalah Q_4 .
- Pada tingkat harga P_1 , jumlah kuantiti penawaran dalam negara adalah sebanyak Q_1 dan jumlah kuantiti diimport adalah sebanyak Q_1Q_4 .
- Apabila tarif sebanyak P_1P_2 dikenakan, keluk penawaran S_2S_2 bersilang dengan keluk permintaan D_0D_0 pada tingkat harga P_2 dan jumlah kuantiti permintaan adalah Q_3 .
- Pada tingkat harga P_2 , jumlah kuantiti penawaran dalam negara adalah sebanyak Q_2 dan jumlah kuantiti diimport adalah sebanyak Q_2Q_3 .
- Jumlah hasil cukai import yang diperoleh oleh kerajaan adalah sebanyak AE_2GH .

Kesan Positif Tarif	Kesan Negatif Tarif
<ul style="list-style-type: none"> ● Harga kereta diimport akan meningkat kerana pengimport memindahkan beban tarif kepada pengguna dengan menaikkan harga jualan ● Permintaan kereta diimport akan menurun manakala permintaan terhadap kereta keluaran tempatan akan meningkat disebabkan harga yang secara relatifnya lebih rendah ● Penawaran kereta oleh pengeluar tempatan akan meningkat ● Jumlah kereta diimport akan berkurang, perbelanjaan negara atas kereta import juga menurun ● Kerajaan tempatan memperoleh hasil daripada kutipan tarif ● Peningkatan guna tenaga dalam negara dan kadar pengangguran menurun 	<ul style="list-style-type: none"> ● Herotan(distortion) dalam peruntukan sumber berlaku apabila sumber yang mungkin boleh digunakan dengan lebih cekap dalam industri lain dialihkan ke industri penggantian import ● Pengguna terpaksa menanggung perbelanjaan yang lebih besar Menggunakan barangan yang kurang bermutu ● Mengurangkan daya saing industri penggantian import untuk meningkatkan kecekapan pengeluaran ● Menghadapi tindak balas yang sama daripada negara yang dikenakan tarif

2. Kesan Pelaksanaan Subsidi



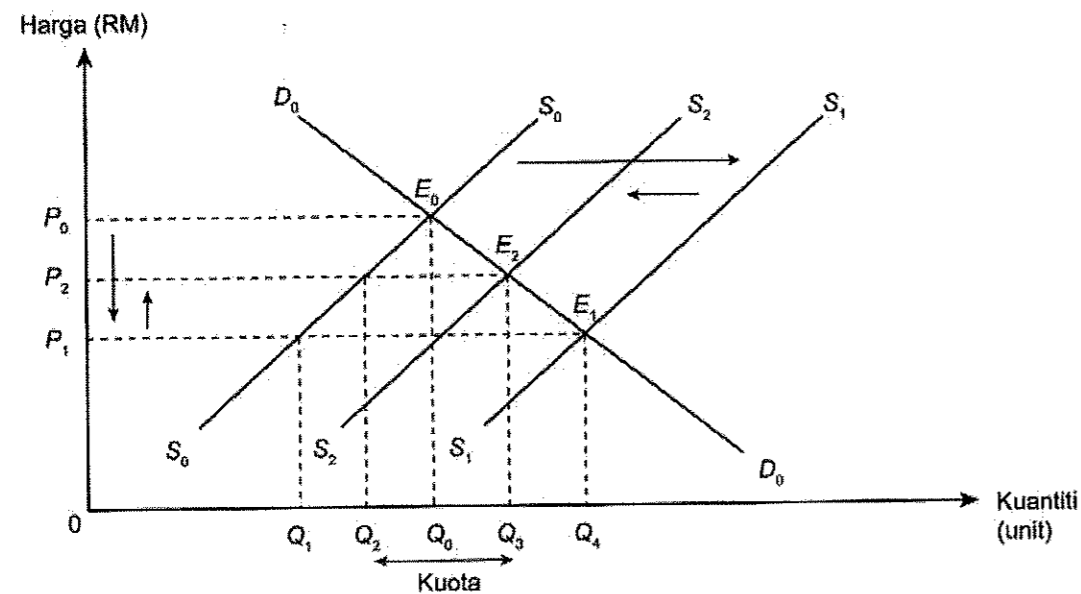
- a) Sebelum perdagangan antarabangsa dijalankan, keseimbangan pasaran dicapai pada titik E_0 apabila keluk permintaan D_0D_0 bersilang dengan keluk penawaran S_0S_0 . Tingkat harga dan kuantiti keseimbangan dicapai pada P_0 dan Q_0 .
- b) Selepas perdagangan antarabangsa dijalankan, keluk penawaran S_1S_1 bersilang dengan keluk permintaan D_0D_0 pada titik keseimbangan E_1 . Tingkat harga dicapai pada P_1 dan jumlah kuantiti permintaan adalah $0Q_3$.

- c) Pada tingkat harga P_1 , jumlah kuantiti penawaran dalam negara adalah sebanyak Q_1 dan jumlah kuantiti diimport adalah sebanyak $Q_3 - Q_1$
- d) Selepas kerajaan memberikan subsidi, keluk penawaran S_2S_2 bersilang dengan keluk permintaan D_0D_0 pada tingkat harga P_2 dan jumlah kuantiti permintaan adalah Q_4
- e) Pada tingkat harga P_2 , jumlah kuantiti penawaran dalam negara adalah sebanyak $Q_2 + Q_3$ dan jumlah kuantiti diimport adalah sebanyak $Q_4 - Q_2$.
- f) Jumlah kuantiti yang diimport selepas pemberian subsidi $Q_4 - Q_2$ adalah lebih kecil jika dibanding dengan sebelum pemberian subsidi iaitu sebanyak $Q_3 - Q_1$.

Kesan pemberian subsidi

1. Harga barang keluaran tempatan akan menurun.
2. Permintaan terhadap barang keluaran tempatan akan meningkat kerana harganya secara relatif lebih rendah daripada barang import.
3. Penawaran barang oleh pengeluar tempatan akan meningkat kerana permintaan terhadap barang keluaran tempatan telah meningkat.
4. Jumlah barang diimport akan berkurang. Oleh itu, perbelanjaan negara atas barang import akan menurun.
5. Guna tenaga dalam negara akan meningkat kerana aktiviti pengeluaran tempatan yang meningkat memerlukan lebih banyak tenaga buruh.
6. Oleh itu, kadar pengangguran dalam negara dapat diturunkan.

3. Kesan Pelaksanaan Kuota



- a) Sebelum perdagangan antarabangsa dijalankan, keseimbangan pasaran dicapai pada titik E_0 apabila keluk permintaan D_0D_0 bersilang dengan keluk penawaran S_0S_0 . Tingkat harga dan kuantiti keseimbangan dicapai pada P_0 dan Q_0 .

- b) Selepas perdagangan antarabangsa dijalankan, keluk penawaran S1S1 bersilang dengan keluk permintaan D0D0 pada titik keseimbangan E1. Tingkat harga dicapai pada P1 dan jumlah kuantiti permintaan adalah 0Q4.
- c) Pada tingkat harga P1, jumlah kuantiti penawaran dalam negara adalah sebanyak 0Q1 dan jumlah kuantiti diimport adalah sebanyak Q1 Q4
- d) Selepas kuota import dikenakan, keluk penawaran S2S2 bersilang dengan keluk permintaan D0D0 pada tingkat harga P2 dan jumlah kuantiti permintaan adalah 0Q3
- e) Pada tingkat harga P2, jumlah kuantiti penawaran dalam negara adalah sebanyak 0Q2 dan jumlah barang diimport adalah sebanyak Q2Q3.

Kesan kuota import

1. Harga barang diimport akan meningkat kerana penawaran barang import dalam pasaran tempatan telah berkurang.
2. Permintaan barang diimport akan menurun manakala permintaan terhadap barang keluaran tempatan akan meningkat kerana harga yang secara relatifnya lebih rendah.
3. Penawaran barang oleh pengeluar tempatan akan meningkat kerana permintaan terhadap barang keluaran tempatan telah meningkat.
4. Jumlah barang diimport akan berkurang. Perbelanjaan negara atas barang import juga menurun.
5. Guna tenaga dalam negara akan meningkat kerana aktiviti pengeluaran tempatan yang meningkat memerlukan lebih banyak tenaga buruh. Kadar pengangguran dalam negara dapat diturunkan.

KESAN POSITIF BLOK EKONOMI & PERJANJIAN PERDAGANGAN	
<p>1. GALAK PINDAH TEKNOLOGI & KEPAKARAN</p> <ul style="list-style-type: none"> • Masuk teknologi moden – pindah kepakaran dari negara maju spt Amerika, Jepun dpt bangunkan ekonomi & teknologi di negara membangun • Penduduk tempatan- dapat pelajari & kuasai kaedah kendali teknologi baharu – melalui latihan lanjut – R&D tenaga manusia 	<p>2. LUAS PASARAN</p> <ul style="list-style-type: none"> • Beri peluang kpd produk negara membangun –tembusi pasaran negara maju dgn hak sama rata • Globalisasi – beri kuasa mutlak kepada kuasa pasaran dlm urus niaga barang & perkhidmatan
<p>3. MOBILITI MODAL & TENAGA KERJA</p> <ul style="list-style-type: none"> • Kerjasama & pakatan blok ekonomi – aliran modal secara bebas – galak persaingan – luas pasaran –berlaku aliran buruh mahir & separa mahir 	<p>4. TINGKATKAN PELABURAN LANGSUNG ASING</p> <ul style="list-style-type: none"> • Bawa masuk pelaburan langsung asing & teknologi baharu • R&D – sedia peluang pekerjaan kpd tenaga buruh tempatan – pelajari &kuasai teknologi yang terkini & moden • Corak perniagaan moden – sidang video, e- dagang, e –perbankan

<p>5. <u>MENINGKATKAN PELUANG PEKERJAAN</u></p> <ul style="list-style-type: none"> • Suntikan modal pelabur asing – industri di negara membangun berkembang pesat – wujud peluang pekerjaan – kadar pengangguran jatuh - taraf hidup naik – hapus lingkaran kemiskinan (negara-negara membangun) 	<p>6. <u>MENINGKATKAN DAYA SAING NEGARA & KUALITI BARANGAN</u></p> <ul style="list-style-type: none"> • Persaingan kuasai pasaran terbuka – dorong pengeluar untuk meningkatkan mutu barang – kurangkan kos-harga jatuh – SS banyak pilihan barang
<p>7. <u>KONGSI SUMBER TENAGA & BAHAN MENTAH</u></p> <ul style="list-style-type: none"> • Xmempunyai bekalan tenaga yang cukupi • Bergantung pada negara luar bagi peroleh sumber kuasa • Hubungan perdagangan & sistem ekonomi terbuka – keadaan saling bergantung 	<p>8. <u>PENJAGAAN ALAM SEKITAR</u></p> <ul style="list-style-type: none"> • Wujud penjagaan alam sekitar secara bersama – tangani permasalahan alam sekitar – pencemaran laut, jerebu, isu berkaitan marin • Jalankan usaha sama dalam buat pengesanan, rondaan, kawal selia, pengawasan & pemuliharaan – masalah pengurusan & penjagaan alam sekitar

KESAN NEGATIF BLOK EKONOMI & PERJANJIAN PERDAGANGAN	
<p>1. <u>KEGAWATAN EKONOMI</u></p> <ul style="list-style-type: none"> • Aliran masuk modal antarabangsa yang banyak ke negara rantau Asia Pasifik – akibatnya sistem kewangan negara mudah ubah & Xstabil • Dasa asing keluar masuk secara mudah dalam negara • Tarikan keluar modal asing secara mendadak dari sebuah negara – menyebabkan ekonomi negara terjejas, gugat operasi industri, kadar pengangguran naik, beban hutang luar negara naik secara mendadak 	<p>2. <u>TEKANAN EKONOMI & BEBANAN HIDUP GOLONGAN MISKIN</u></p> <ul style="list-style-type: none"> • Harga barang naik & kos sara hidup naik • Contoh: kenaikan harga ubatan dan barang farmasi – akibat syarikat farmaseutikal dan genetik milik Amerika Syarikat secara bebas tanpa kawalan - kos perubatan kalangan masyarakat tempatan naik
<p>3. <u>CORAK PENJAJAHAN BAHARU EKONOMI</u></p> <ul style="list-style-type: none"> • Buka pintu ekonomi – dedahkan pasaran tempatan kpd kuasa monopoli syarikat multinasional • Kekayaan sumber ekonomi – dikaut oleh pemodal asing- untung semata-mata • Eksploitasi tenaga kerja tempatan –upah jatuh - beban kerja meningkat • Kuasa monopoli bank perdagangan tempatan oleh syarikat gergasi & kawalan ekonomi oleh pelabur asing 	<p>4. <u>MASALAH LAMBAKAN BARANG</u></p> <ul style="list-style-type: none"> • Lebihan SS barang, hapus pesaing terdekat & kuasai pasaran • Lambakan barang import yang dijual dengan harga murah & kurang berkualiti

<p>5. <u>PENCEMARAN TERHADAP BUDAYA TEMPATAN</u></p> <ul style="list-style-type: none"> • budaya Xsesuai dengan budaya setempat • Budaya tempatan yang murni terhakis • Hilang identiti diri & runtuh nilai akhlaknya 	<p>6. <u>ANCAMAN KEPADA INDUSTRI MUDA TEMPATAN</u></p> <ul style="list-style-type: none"> • Pengeluar tempatan terpaksa bersaing dengan produk luar negara • Industri kecil dan sederhana (IKS) tempatan terpaksa gulung tikar kerana Xmampu bersaing
---	--

<p align="center">SEBAB LEBIHAN AKAUN SEMASA -jumlah penerimaan wang > jumlah pembayaran wang</p>	
<p>1. <u>DD EKSPORT MENINGKAT</u></p> <ul style="list-style-type: none"> • Jumlah terima wang meningkat • Disebabkan faktor meningkatkan daya saing, nilai mata wang jatuh • Pendapatan meningkat di negara yang import barang & perkhidmatan 	<p>2. <u>DD IMPORT MENURUN</u></p> <ul style="list-style-type: none"> • Pembayaran kewangan ke luar negara jatuh • Cenderung rakyat tempatan utamakan barang & perkhidmatan tempatan • Nilai mata wang sesebuah negara jatuh-harga import naik • Berlakukan inflasi di negara lain – harga import mahal - turunkan DD import oleh rakyat Malaysia
<p>3. <u>PENINGKATKAN PRODUKTIVITI</u></p> <ul style="list-style-type: none"> • Pengeluaran barang eksport meningkat - terima wang meningkat • Faktor: meningkatkan kemahiran buruh, guna kaedah pengeluaran lebih efisien - tingkatkan pengeluaran, kos purata jatuh 	<p>4. <u>TINGKATKAN TERIMA PENDAPATAN PRIMER & SEKUNDER</u></p> <ul style="list-style-type: none"> • Mendorong lebih akaun semasa – untung Daripada pelaburan di luar negara – kiriman wang daripada rakyat Malaysia bekerja di luar negara
<p align="center">IMPLIKASI LEBIHAN AKAUN SEMASA</p>	
<p>1. <u>PENDAPATAN NEGARA MENINGKAT</u></p> <ul style="list-style-type: none"> • DD untuk eksport barang & perkhidmatan naik • Pengeluaran barang & perkhidmatan naik 	<p>2. <u>GUNA TENAGA MENINGKAT</u></p> <ul style="list-style-type: none"> • DD untuk eksport barang & perkhidmatan meningkat • Peluang pekerjaan meningkat • Kadar pengangguran jatuh
<p>3. <u>TARAF HIDUP MENINGKAT</u></p> <ul style="list-style-type: none"> • Peluang pekerjaan meningkat • Pendapatan masyarakat meningkat • Kuasa beli meningkat 	<p>4. <u>INFLASI</u></p> <ul style="list-style-type: none"> • DD barang & perkhidmatan meningkat • Harga & perkhidmatan mahal

5. NAIK KADAR PERTUKARAN ASING

- DD untuk eksport barang & perkhidmatan naik
- DD mata wang RM di pasaran luar negara naik

SEBAB DEFISIT AKAUN SEMASA
-jumlah penerimaan wang > jumlah pembayaran wang

1. DD EKSPORT MENURUN

- Jumlah terima wang berkurangan.
- Disebabkan faktor daya saing berkurangan, nilai mata wang jatuh,
- Pendapatan di negara yang import barang & perkhidmatan menurun

2. DD IMPORTMENINGKAT

- Pembayaran kewangan ke luar negara meningkat
- Cenderung rakyat tempatan utamakan barang & perkhidmatan import
- Nilai mata wang jatuh sesebuah negara-harga import meningkat
- Berlakukan inflasi di negara lain – harga import naik -DD import jatuh oleh rakyat Malaysia

3. PRODUKTIVITI JATUH

- Pengeluaran barang eksport jatuh - terima wang kurang
- Faktor: buruh berkurangan, guna kaedah pengeluaran kurang efisien

4. BAYARAN PENDAPATAN PRIMER & SEKUNDER MENURUN

- Mendorong defisit akaun semasa – untung berkurangan
Pelabur asing bekerja di malaysia
berkurangan

5. INOVASI & AKTIVITI R&D MENURUN

- Ciptaan barang & perkhidmatan yang baharu berkurangan
 - Tahap inovasi menurun, daya saing berkurangan
 - DD eksport barang & perkhidmatan menurun

IMPLIKASI DEFISIT AKAUN SEMASA

1. PENDAPATAN NEGARA MENURUN

- DD untuk eksport barang & perkhidmatan berkurangan
- Pengeluaran barang & perkhidmatan berkurangan

2. GUNA TENAGA MENURUN

- DD untuk eksport barang & perkhidmatan berkurangan
- Peluang pekerjaan berkurangan
- Kadar pengangguran berkurangan

3. TARAF HIDUP MENURUN

- Peluang pekerjaan berkurangan
- Pendapatan masyarakat berkurangan
- Kuasa beli berkurangan

4. KADAR PERTUKARAN ASING JATUH

- DD untuk eksport barang & perkhidmatan berkurangan

- DD mata wang RM di pasaran luar negara berkurangan

Akaun semasa

Butiran	RM juta
Akaun Dagangan (X Nampak – M Nampak)	+
Akaun Perkhidmatan (X T Nampak – M T Nampak)	+
Akaun Pendapatan (terima – bayar)	+
Akaun Pindahan Semasa Bersih (terima – bayar)	+
Jumlah Akaun Semasa	

Formula:	
Imbangan Dagangan	Eksport brg nampak – Import brg nampak
Imbangan Perkhidmatan	Ekport brg tak nampak – Import brg tak nampak (Eksport perjalanan + Pengangkutan + Urusniaga Kerajaan + Perkhidmatan Lain – Import perjalanan + Pengangkutan + Urusniaga Kerajaan + Perkhidmatan Lain)
Imbangan Akaun Semasa	Imbangan dagangan + Imbangan perkhidmatan + Imbangan Pendapatan + Pindahan Semasa
Imbangan Keseluruhan	Imbangan Akaun Semasa + Akaun Modal + Kesilapan dan ketinggalan.

PERTUKARAN ASING

Maksud

- mata wang negara lain yang dimiliki oleh sesebuah negara
- Contoh : Yen Jepun, Dolar Amerika

Kepentingan Pertukaran Asing

(i) **Membiayai import**

- pengimport tempatan perlu menukarkan mata wang tempatan kepada mata wang negara pengeksport untuk membayar barang yang diimport

- (ii) **Membuat pelaburan di luar negara**
- pelabur-pelabur tempatan memerlukan mata wang asing untuk membeli saham/modal di luar negara
- (iii) **Membayar balik pinjaman luar negara**
- hutang luar negara dalam bentuk mata wang asing, maka negara perlu membayar kembali hutang mengikut mata wang negara pemberi pinjaman
- (iv) **Mempertahankan nilai mata wang**
- bank pusat menggunakan pertukaran asing bagi menjaga nilai mata wang
 - jika nilai RM merosot, bank pusat akan membeli RM maka permintaan RM akan meningkat. Oleh itu nilai RM akan naik.
 - jika nilai RM meningkat, bank pusat akan menjual RM maka penawaran RM meningkat. Oleh itu nilai RM akan jatuh

Kesan Perubahan Kadar Pertukaran Asing

Permintaan RM	Penawaran RM
Apabila mengeksport barangan	Apabila mengimport barangan
warga asing perlukan RM	negara tawarkan RM

Kesan Perubahan Kadar Pertukaran Asing ke atas Eksport dan Import Malaysia

Nilai RM meningkat Contoh KPA: Mac: US\$1.00 = RM3.80 April: US\$1.00 = RM3.50 KPA naik (kesan negatif)	
Kesan eksport (X)	Kesan import (M)
Harga barangan eksport mahal	Harga barangan import murah
Permintaan eksport berkurang	Permintaan import meningkat
Jumlah eksport jatuh	Jumlah import meningkat
Nilai eksport rendah	Nilai import tinggi
Jumlah import ≥ eksport	
Nilai import melebihi nilai eksport	
Imbangan Dagangan Malaysia kurangan / Defisit / Negatif	
Imbangan Pembayaran Malaysia kurangan / Defisit / Negatif	

Nilai RM turun	
Contoh KPA: Jun: US\$1.00 = RM3.80 Julai: US\$1.00 = RM4.00	
KPA jatuh (kesan positif)	
Kesan eksport (X)	Kesan import (M)
Harga barangan eksport murah	Harga barangan import mahal
Permintaan eksport bertambah	Permintaan import berkurang
Jumlah eksport bertambah	Jumlah import berkurang
Nilai eksport tinggi	Nilai import rendah
Jumlah eksport \geq import	
Nilai eksport melebihi nilai import	
Imbangan Dagangan Malaysia lebih / surplus / positif	
Imbangan Pembayaran Malaysia lebih / surplus / positif	

Kesan Perubahan Import dan Eksport Malaysia ke atas Kadar Pertukaran Asing

Kesan perubahan eksport ke atas KPA

Eksport meningkat	Eksport menurun
Permintaan RM meningkat	Permintaan RM jatuh
Permintaan RM > Penawaran RM	Penawaran RM > Permintaan RM
Lebih permintaan RM	Lebih penawaran RM
KPA RM meningkat	KPA RM jatuh

Kesan perubahan import ke atas KPA

Import meningkat	Import menurun
Penawaran RM meningkat	Penawaran RM menurun
Penawaran RM > Permintaan RM	Permintaan RM > Penawaran RM
Lebih penawaran RM	Lebih permintaan RM
KPA RM menurun	KPA RM meningkat

Pengiraan kadar pertukaran asing

a. Menukarkan matawang asing kepada RM

- i. Andaikan kadar pertukaran antara RM dengan US\$ seperti berikut:

$$\text{US\$1} = \text{RM3.80.}$$

Jika firma dari Malaysia ingin mengimport sebuah kamera berharga US\$ 900 dari Amerika, hitung harga kamera itu dalam sebutan RM?

$$\text{US\$1} = \text{RM3.80}$$

$$\text{US\$1 500} = \text{RM3.80} \times 900 = \text{RM3 420}$$

b. Menukarkan RM kepada matawang asing

- i. Andaikan kadar pertukaran antara RM dengan US\$ seperti berikut:

$$\text{US\$1} = \text{RM3.80.}$$

Jika seorang pengimport Amerika Syarikat mengimport kereta yang berharga RM75 000 dari Malaysia, berapakah harga kereta itu dlm sebutan US\$?

$$\text{RM3.80} = \text{US\$1}$$

$$\text{RM1} = \text{US\$1/3.80} = \text{US\$0.2632}$$

$$\text{Maka RM60 000} = \text{US\$0.2632} \times 75\ 000 = \text{US\$19 736.84}$$

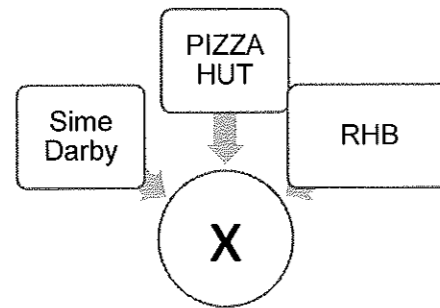
LATIHAN OBJEKTIF

1 Apakah faktor yang menggalakkan globalisasi?

- I Sekatan perdagangan antarabangsa
- II Rangkaian pengangkutan yang cekap
- III Kemajuan Internet dan ekonomi digital
- IV Liberalisasi perdagangan tidak digalakkan

- A I dan II
- B I dan IV
- C II dan III
- D III dan IV

2 Rajah berikut merupakan beberapa buah syarikat di dunia



Apakah X ?

- A Syarikat Sendirian Berhad
- B Syarikat Multinasional
- C Syarikat Kerajaan
- D Syarikat Koperasi

3 Antara berikut, yang manakah merupakan faktor yang mempengaruhi globalisasi?

- A kenaikan taraf perintis
- B perkembangan ekonomi
- C perkembangan teknologi maklumat
- D kenaikan kadar pertukaran mata wang asing

4 Mengapakah sesebuah firma mengembangkan operasi perniagaannya ke peringkat antarabangsa?

- A Kos upah yang lebih rendah
- B Pasaran tempatan yang tepu
- C Kenaikan harga bahan mentah di pasaran antarabangsa
- D Kadar pertukaran asing yang berubah dari semasa ke semasa

5 Pernyataan manakah yang menerangkan tujuan kuota dikenakan dalam perdagangan antarabangsa?

- A Meningkatkan penawaran barangan import
- B Menambahkan hasil kerajaan
- C Menjamin keselamatan negara
- D Melindungi industri tempatan

6 Maklumat yang berikut berkaitan dengan sebab wujudnya perdagangan antarabangsa.

Australia mengeluarkan dan mengeksport anggur ke Malaysia.

Apakah faktor tersebut?

- A Harga faktor
- B Iklim dan tanah
- C Sumber semula jadi
- D Tingkat kecekapan pengeluaran

7 Antara yang berikut manakah merupakan tujuan kerajaan mengenakan kuota terhadap barang import?

- A Menggalakkan penawaran barang import
- B Memperbaiki imbang pembayaran
- C Meningkatkan kadar pengangguran
- D Menambahkan pendapatan negara

8 Maklumat berikut berkaitan dengan perdagangan antarabangsa Malaysia

Syarikat Sparkle di Perak menyewa kapal dagang dari Korea untuk mengeksport barangan elektronik ke negara Singapura

Antara yang berikut, yang manakah urus niaga yang terlibat?

- I Eksport barang nampak
- II Eksport barang tak nampak
- III Import barang nampak
- IV Import barang tak nampak

- A I dan II
- B II dan III
- C III dan IV
- D I dan IV

9 Perdagangan antarabangsa mendatangkan kesan-kesan positif ke atas negara yang terlibat. Antara berikut yang manakah kesan-kesan tersebut?

- I Pengguna mempunyai pelbagai pilihan
- II Menambahkan peluang pekerjaan
- III Imbangan perdagangan positif
- IV Menggalakkan pinjaman

- A I dan II
- B II dan III
- C III dan IV
- D I dan IV

10 Antara berikut, yang manakah kesan imbangan pembayaran defisit?

- A Nilai mata wang tempatan semakin meningkat
- B Kegiatan ekonomi dalam negara semakin pesat
- C Rizab pertukaran asing di bank pusat berkurang
- D Nilai eksport barang tempatan semakin bertambah

11 Maklumat berikut menunjukkan arus niaga antarabangsa Negara X.

Eksport Nampak	RM300 juta
Import Nampak	RM170 juta

Apakah kesan daripada arus niaga tersebut?

- A Imbangan dagangan positif
- B Imbangan dagangan negatif
- C Imbangan pembayaran positif
- D Imbangan pembayaran negatif

15 Berikut adalah tentang perdagangan antarabangsa.

Zuliana dan Fauziah bercuti ke Vietnam dan membeli koleksi cenderamata untuk keluarganya di Malaysia

Nyatakan komposisi perdagangan yang terlibat

- i) Eksport barang Nampak
- ii) Eksport barang tak Nampak
- iii) Import barang Nampak
- iv) Import barang tak Nampak

- A. i & ii
- B. ii & iii
- C. iii & iv
- D. iv & i

16 Maklumat berikut berkaitan dengan kadar pertukaran asing antara Ringgit Malaysia dengan Dolar Singapura.

$$\text{RM3.50} = \text{S\$1.00}$$

Berapakah nilai barang dalam Ringgit Malaysia jika harga barang ialah S\$8 750.00?

- A RM31 700
- B RM31 670
- C RM30 625
- D RM29 300

17 Jadual berikut menunjukkan perubahan kadar pertukaran Ringgit Malaysia (RM) berbanding Pound Sterling (£)

Tahun	Kadar Pertukaran Asing
2015	£1 = RM6.00
2016	£1 = RM6.80

Apakah kesan yang berlaku ke atas Malaysia pada tahun 2015 berbanding tahun 2016?

- A Harga barang Britain di Malaysia lebih murah
- B Harga eksport Malaysia ke Britain lebih murah
- C Jumlah import Malaysia dari Britain akan meningkat
- D Imbangan dagangan Malaysia dengan Britain cenderung menjadi negatif

- 18 Jadual berikut menunjukkan kadar pertukaran antara Ringgit Malaysia (RM) dengan beberapa mata wang negara asing.

Mata wang	Harga belian (RM)	Harga jualan (RM)
1 Euro	4.9258	4.9795

Seorang pelancong Eropah ingin menukarkan 400 Euro kepada Ringgit Malaysia. Berapakah Ringgit Malaysia yang diterima oleh pelancong tersebut?

- A RM80.33
- B RM81.21
- C RM1 970.32
- D RM1 991.80

Pilihan jawapan bagi **Soalan 1** hingga **Soalan 11** berdasarkan jadual berikut:

Pilihan	Pernyataan I	Pernyataan II
A	Betul	Salah
B	Salah	Betul
C	Salah	Salah
D	Betul	Betul

- 1
 - I Subsidi yang diberikan oleh kerajaan bertujuan untuk meningkatkan kos pengeluaran
 - II Kerajaan mengenakan cukai yang tinggi ke atas barang yang membahayakan kesihatan masyarakat.
- 2
 - I Contoh faedah sosial ialah pencemaran air.
 - II Contoh kos sosial ialah menawarkan peluang pekerjaan kepada penduduk sekitar
- 3
 - I Kerajaan mengenakan cukai yang tinggi untuk mengawal eksternaliti negatif.
 - II Cukai barang dan perkhidmatan (GST) merupakan cara kerajaan mengawal eksternaliti negatif.

- 4 I Dasar harga minimum yang ditetapkan oleh kerajaan yang ditetapkan oleh kerajaan adalah lebih tinggi daripada harga keseimbangan pasaran.
- II Kerajaan mengenakan dasar harga minimum bertujuan untuk meningkatkan kebajikan pengguna.
- 5 I Perhitungan Keluaran Dalam Negara Kasar (KDNK) Malaysia merangkumi pendapatan yang diterima oleh warga Malaysia sama ada berada di dalam atau di luar negara.
- II Perhitungan Keluaran Dalam Negara Kasar (KDNK) Malaysia menggunakan pendekatan keluaran, pendekatan perbelanjaan dan pendekatan pendapatan.
- 6 I Belanjawan lebihan berlaku apabila jumlah perbelanjaan melebihi jumlah hasil kerajaan.
- II Belanjawan lebihan digunakan untuk mengatasi inflasi.
- 7 I Penawaran terhadap Ringgit Malaysia berhubung secara langsung dengan import negara.
- II Apabila nilai import menurun, nilai Ringgit Malaysia cenderung meningkat.
- 8 I Inflasi tarikan permintaan disebabkan oleh peningkatan permintaan agregat dalam ekonomi.
- II Cukai progresif menunjukkan semakin rendah pendapatan semakin tinggi cukai yang dibayar.
- 9 I Pengangguran merupakan penunjuk ekonomi yang mengukur peratus penganggur dalam kalangan tenaga buruh yang sedia ada dalam sesebuah negara.
- II Pengangguran menyebabkan pendapatan negara sebenar lebih daripada pendapatan negara potensi
- 10 I Inflasi tarikan permintaan disebabkan oleh peningkatan permintaan agregat dalam ekonomi.
- II Cukai progresif menunjukkan semakin rendah pendapatan semakin tinggi cukai yang dibayar.
- 11 I Pengangguran merupakan penunjuk ekonomi yang mengukur peratus penganggur dalam kalangan tenaga buruh yang sedia ada dalam sesebuah negara.
- II Pengangguran menyebabkan pendapatan negara sebenar lebih daripada pendapatan negara potensi
- 12 I Pertambahan barang eksport berubah secara langsung dengan nilai mata wang
- II Peningkatan nilai eksport menyebabkan nilai mata wang menaik

LATIHAN ESEI

1. (a) Apakah globalisasi? [2 markah]
(b) Terangkan dua faktor yang menggalakkan globalisasi. [4 markah]

2. Maklumat berikut berkaitan dengan firma luar negara yang beroperasi di Malaysia

" Syarikat Sony Jepun berkerjasama dengan Sony Malaysia untuk mengeluarkan pelbagai jenis elektronik"

- (a) Syarikat tersebut merupakan Pelaburan Langsung asing bagi Malaysia. [5 markah]
Jelaskan
(b) Kehadiran syarikat tersebut memberi kesan kepada ekonomi negara ini. [6 markah]

3. Maklumat berikut menunjukkan dua sekatan perdagangan antarabangsa.

Sekatan A	Sekatan B
Malaysia mengenakan cukai sebanyak RM250 ke atas setiap unit pemotong daging yang diimport	Malaysia menghadkan kuantiti beras yang diimport sebanyak 70 000 tan sebulan.

- (a) Kenal pasti kedua-dua sekatan antarabangsa tersebut: [2 markah]
(b) Bezakan antara Sekatan A dengan Sekatan B [4 markah]
4. Jadual berikut berkaitan dengan akaun semasa negara A dan negara B.

Butiran	Negara A (RM juta)	Negara B (RM juta)
Akaun barangan	750	590
Akaun perkhidmatan	-490	225
Akaun pendapatan primer	-310	-400
Akaun pendapatan sekunder	-245	-210

- (a) Hitungkan imbalan akaun semasa bagi negara A dan negara B. [4 markah]
(b) Jelaskan tiga implikasi kedudukan imbalan akaun semasa negara A terhadap negaranya. [3 markah]

5. Jadual menunjukkan kadar pertukaran antara Ringgit Malaysia berbanding dengan setiap Dolar Sweden.

Bulan/Mata wang	€1.00
April	RM2.40
Mei	RM2.60

- (a) Jika warga Sweden ingin melabur sebanyak RM60 000 di Malaysia pada bulan April, berapakah Dolar Sweden perlu disediakan untuk tujuan tersebut? [3 markah]

6. (a) Maklumat berikut berkaitan dengan globalisasi.

KUALA LUMPUR 3 Feb. - Globalisasi diunjurkan akan meningkat di Malaysia dalam tempoh beberapa tahun akan datang dipacu oleh keterbukaan budaya yang diukur melalui peningkatan pelancongan, penggunaan telefon, jalur lebar mudah alih dan internet, kata Unit Pakar Ekonomi Ernst & Young.


Dipetik dan diubah suai daripada petikan "Proses Globalisasi Malaysia Dijangka Meningkat", 4 Februari 2011

- Pada pendapat anda, apakah kebaikan yang diterima oleh peniaga tempatan berdasarkan isu tersebut? [6 markah]

7. (a) Berikut merupakan kadar pertukaran antara Ringgit Malaysia(RM) berbanding dengan Dolar Amerika Syarikat (USD) pada bulan Mac 2020.

Tarikh	USD	MYR
9 Mac 2020	USD 1	RM3.91
20 Mac 2020	USD 1	RM3.89

- Adakah masa tersebut sesuai untuk anda melancong ke Amerika Syarikat? Jelaskan. [6 markah]



KEMENTERIAN
PENDIDIKAN
MALAYSIA
Jabatan Pendidikan Negeri Terengganu



**MODUL
INTERVENSI PEMBELAJARAN
SPM 2021**

SKEMA

EKONOMI

JAWAPAN

**MODUL INTERVENSI PEMBELAJARAN (MIP)
EKONOMI TAHUN 2021**

BAB 1 : PENGENALAN KEPADA EKONOMI

LATIHAN OBJEKTIF

No. Soalan	Jawapan	No. Soalan	Jawapan	No. Soalan	Jawapan	No. Soalan	Jawapan
1.	B	9.	A	17.	D	25.	C
2.	A	10.	B	18.	D	26.	B
3.	C	11.	A	19.	B	27.	A
4.	B	12.	C	20.	B	28.	B
5.	B	13.	D	21.	A	29.	B
6.	B	14.	D	22.	D	30.	A
7.	B	15.	B	23.	C	31.	C
8.	B	16.	D	24.	A	32.	C

LATIHAN ESEI

1	(a)	- Ilmu ekonomi ialah satu bidang sains sosial yang mengkaji cara manusia mengurus sumber ekonomi yang terhad - untuk memenuhi kehendak manusia yang tidak terhad.	1 1 [2m]
	(b)	- Faktor pengeluaran tersebut ialah tanah. - Tanah ialah sumber anugerah alam semulajadi. - Penawarannya adalah terhad. - Tanah merangkumi sumber-sumber yang boleh diperbaharui (seperti hasil hutan dan sumber laut) - Sumber-sumber yang tidak boleh diperbaharui (seperti bijih timah, besi, petroleum dan jenis logam lain	1 1 1 1 1 [4m]
	(ci)	Masalah kekurangan, pilihan dan kos lepas: Isirumah Kekurangan - pendapatan terhad Pilihan – barang dan perkhidmatan yang memaksimumkan kepuasan Kos lepas – barang kedua terbaik yang terpaksa dilepaskan akibat memilih barang yang lebih baik.	1 1 1 [3m]
	(cii)	Kerajaan	

		Kekurangan - sumber hasil negara/ pendapatan negara		1
		Pilihan - projek yang memaksimumkan kebajikan masyarakat		1
		Kos lepas - projek kedua terbaik yang terpaksa dilepaskan akibat memilih projek yang memaksimumkan kebajikan masyarakat.		1
				[3m]
(di)	Tiga faktor pengeluaran			
		- Usahawan		1
		- Individu yang menggabungkan faktor-faktor pengeluaran untuk menghasilkan barang dan perkhidmatan.		1
		- Sanggup menanggung risiko/tidak mudah putus asa		1
		- Ganjaran: untung		1
		- Buruh		1
		- Mengeluarkan tenaga dari segi fizikal dan mental dalam proses pengeluaran.		1
		- Ganjaran: mendapat upah		1
		- Modal		1
		- Alat yang digunakan dalam proses pengeluaran		1
		- Ganjaran: faedah		1
				[mak 6m]
(dii)	Ciri-ciri yang ada:			
		- Berani menanggung risiko		1
		- Tidak mudah putus asa		1
		- Pandai membuat keputusan		1
		- Rajin		1
				[mak 3m]
(diii)	Masalah yang dihadapi:			
		- Kekurangan		1
		- sumber ekonomi yang terhad		1
		- Pilihan :		1
		- keluaran yang memaksimumkan keuntungan dan meminimumkan kos,		1
		- Kos lepas:		1
		- keluaran kedua terbaik yang terpaksa akibat memilih keluaran yang lebih baik.		1
				[mak 5m]
2	(ai)	Wandy	Sistem Ekonomi Campuran	1
		Razif	Sistem Perancangan Pusat	1
				[2m]
	(aii)			
		Sistem Ekonomi Campuran (WANDY)	Masalah Asas Ekonomi	Sistem Ekonomi Perancangan Pusat (RAZIF)
		Jumlah kuantiti barang ekonomi yang dikeluarkan oleh pengeluar ditentukan melalui interaksi permintaan dan penawaran pasaran/ mekanisme pasaran	Berapa yang hendak dikeluarkan	Kuantiti barang yang hendak dikeluarkan ditentukan oleh kerajaan sepenuhnya melalui badang perancang ekonomi
				1+1

	<p>jenis pekerjaan yang ingin diceburi.</p> <p>H8-Pengeluar bebas bersaing dalam pengeluaran barangan untuk memperoleh keuntungan.</p> <p>H9-Kerajaan akan mengawal kebebasan pengguna dan pengeluar melalui undang-undang dan peraturan.</p> <p>F3- Keseimbangan antara kepentingan individu dan masyarakat.</p> <p>H10-Kepentingan awam diutamakan.</p> <p>H11-Kerajaan akan membuat keputusan ekonomi dalam pengeluaran barang awam untuk memastikan kestabilan ekonomi dan kebajikan masyarakat terjamin.</p> <p>H12-Sasaran pengeluaran adalah untuk semua masyarakat.</p> <p>H13-Setiap individu dijamin memperoleh barang keperluan asas.</p> <p>H14-Prinsip kesederhanaan amat dipentingkan dalam aspek penggunaan dan pengeluaran sesuatu barang dan perkhidmatan.</p> <p>H15-individu yang cukup syarat dikehendaki membayar zakat untuk diagihkan kekayaan mereka kepada golongan yang kurang kemampuan.</p>	<p>1</p> <p>1</p> <p>1</p> <p>1</p> <p>1</p> <p>1</p> <p>1</p> <p>1</p> <p>[mak 6m]</p>										
(di)	<p>Kos lepas 100 unit barang X</p> $\frac{100-120}{60-0} = -0.333$	<p>1+1</p> <p>[2m]</p>										
(dii)	<p>100 unit barang Y</p> $\frac{100-60}{60-100} = 1$	<p>1+1</p> <p>[2m]</p>										
3	<table border="1"> <thead> <tr> <th>Gambar 1</th> <th>Gambar 2</th> </tr> </thead> <tbody> <tr> <td><i>Buruh</i></td> <td><i>Modal</i></td> </tr> <tr> <td><i>Menyumbangkan tenaga fizikal atau mental dalam proses pengeluaran</i></td> <td><i>Alat ciptaan manusia digunakan untuk mengeluarkan barang dan perkhidmatan</i></td> </tr> <tr> <td><i>Mendapat ganjaran upah</i></td> <td><i>Mendapat ganjaran faedah</i></td> </tr> <tr> <td><i>Contoh: doktor, guru, operator kilang</i></td> <td><i>Contoh: bangunan, kilang, peralatan, jentera, mesin</i></td> </tr> </tbody> </table>	Gambar 1	Gambar 2	<i>Buruh</i>	<i>Modal</i>	<i>Menyumbangkan tenaga fizikal atau mental dalam proses pengeluaran</i>	<i>Alat ciptaan manusia digunakan untuk mengeluarkan barang dan perkhidmatan</i>	<i>Mendapat ganjaran upah</i>	<i>Mendapat ganjaran faedah</i>	<i>Contoh: doktor, guru, operator kilang</i>	<i>Contoh: bangunan, kilang, peralatan, jentera, mesin</i>	<p>1+1</p> <p>1+1</p> <p>1+1</p> <p>1+1</p> <p>[mak 4m]</p>
Gambar 1	Gambar 2											
<i>Buruh</i>	<i>Modal</i>											
<i>Menyumbangkan tenaga fizikal atau mental dalam proses pengeluaran</i>	<i>Alat ciptaan manusia digunakan untuk mengeluarkan barang dan perkhidmatan</i>											
<i>Mendapat ganjaran upah</i>	<i>Mendapat ganjaran faedah</i>											
<i>Contoh: doktor, guru, operator kilang</i>	<i>Contoh: bangunan, kilang, peralatan, jentera, mesin</i>											
(b)	<p>Sumber ekonomi yang terlibat ialah:</p> <p>F1 Usahawan</p> <p>H1a Encik Hazman yang mengusahakan penternakan ayam kampung</p> <p>H1b Menggabungkan semua faktor pengeluaran dengan cekap dan berkesan</p> <p>F2 Buruh</p> <p>H2a 8 orang pekerja asing yang bekerja dengan Encik hazman</p> <p>H2b Menyumbangkan tenaga fizikal dan mental dalam proses pengeluaran</p> <p>F3 Tanah</p> <p>H3a Encik hazman menggunakan tanah pusaka di Telok Kanan Kedah untuk mengusahakan ternakannya</p>	<p>1</p> <p>1</p> <p>1</p> <p>1</p> <p>1</p> <p>1</p> <p>1</p> <p>1</p>										

	H3b Sumber semulajadi yang penawarannya terhad	1 [mak 6m]
(c)	- Tidak setuju - Tahap pengeluaran tidak cekap - Sumber / faktor pengeluaran tidak digunakan sepenuhnya - Berlaku pengangguran /pembaziran sumber	1 1 1 1 [4m]
(d)	Cara saya menyelesaikan masalah ekonomi: H1 Saya kekurangan wang / hanya mempunyai RM 5.00 H2 Saya perlu memilih samada membeli nasi lemak ayam atau mee goreng H3 Saya memilih untuk membeli nasi lemak ayam H4 Untuk memaksimumkan kepuasan H5 Kos lepas bagi nasi lemak ayam ialah mee goreng H6 Iaitu barang kedua terbaik yang terpaksa dilepaskan untuk mendapatkan barang yang terbaik	1 1 1 1 1 1 [5m]
(e)	Peranan kerajaan dalam sistem ekonomi di Malaysia: H1 Menyediakan barang awam seperti sekolah dan hospital H2 Mewujudkan kestabilan ekonomi H3 Merapatkan jurang pendapatan masyarakat H4 Mengurangkan kesan eksternaliti negatif H5 Mengawal harga barang dan perkhidmatan H6 Melaksanakan program ekonomi awam	1 1 1 1 1 1 [4m]

BAB 2 : PASARAN

LATIHAN OBJEKTIF

No. Soalan	Jawapan	No. Soalan	Jawapan	No. Soalan	Jawapan	No. Soalan	Jawapan
1.	C	8.	C	15.	A	22.	C
2.	D	9.	A	16.	B	23.	D
3.	B	10.	D	17.	B		
4.	B	11.	D	18.	A		
5.	C	12.	C	19.	D		
6.	C	13.	D	20.	D		
7.	B	14.	A	21.	C		

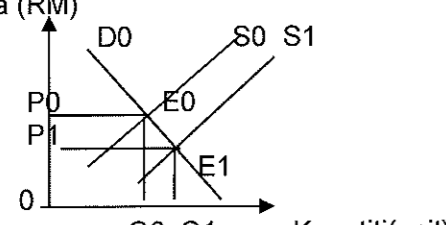
LATIHAN ESEI

1	(a)	H1 Hukum permintaan menyatakan semakin tinggi harga, semakin kurang kuantiti diminta sebaliknya semakin rendah harga, semakin banyak kuantiti diminta dengan andaian ceteris paribus H2 Hubungan antara harga dan kuantiti diminta adalah negatif / songsang	1 1 [2m]																									
	(b)	<table border="1"> <thead> <tr> <th rowspan="2">Harga (RM)</th> <th colspan="2">Kuantiti diminta (kg)</th> <th rowspan="2">Permintaan Pasaran (kg)</th> </tr> <tr> <th>Rabiah</th> <th>Amir</th> </tr> </thead> <tbody> <tr> <td>5</td> <td>220</td> <td>480</td> <td>(iii) 700</td> </tr> <tr> <td>4</td> <td>(i) 250</td> <td>500</td> <td>750</td> </tr> <tr> <td>3</td> <td>300</td> <td>550</td> <td>850</td> </tr> <tr> <td>2</td> <td>400</td> <td>(ii) 650</td> <td>1050</td> </tr> <tr> <td>1</td> <td>500</td> <td>900</td> <td>(iii) 1400</td> </tr> </tbody> </table>	Harga (RM)	Kuantiti diminta (kg)		Permintaan Pasaran (kg)	Rabiah	Amir	5	220	480	(iii) 700	4	(i) 250	500	750	3	300	550	850	2	400	(ii) 650	1050	1	500	900	(iii) 1400
Harga (RM)	Kuantiti diminta (kg)			Permintaan Pasaran (kg)																								
	Rabiah	Amir																										
5	220	480	(iii) 700																									
4	(i) 250	500	750																									
3	300	550	850																									
2	400	(ii) 650	1050																									
1	500	900	(iii) 1400																									
	(ci)	<table border="1"> <thead> <tr> <th>Rajah 1</th> <th>Rajah 2</th> </tr> </thead> <tbody> <tr> <td>Perubahan dalam kuantiti diminta</td> <td>Perubahan permintaan</td> </tr> <tr> <td>Perubahan disebabkan oleh harga barang itu</td> <td>Perubahan disebabkan oleh selain harga barang itu</td> </tr> <tr> <td>Diandaikan faktor-faktor lain selain daripada harga barang itu tidak berubah</td> <td>Diandaikan harga barang itu tidak berubah</td> </tr> <tr> <td>Pergerakan diatas keluk yang sama</td> <td>Perubahan ini menyebabkan peralihan keluk ke kiri</td> </tr> </tbody> </table>	Rajah 1	Rajah 2	Perubahan dalam kuantiti diminta	Perubahan permintaan	Perubahan disebabkan oleh harga barang itu	Perubahan disebabkan oleh selain harga barang itu	Diandaikan faktor-faktor lain selain daripada harga barang itu tidak berubah	Diandaikan harga barang itu tidak berubah	Pergerakan diatas keluk yang sama	Perubahan ini menyebabkan peralihan keluk ke kiri	1+1 1+1 1+1 1+1 [mak6m]															
Rajah 1	Rajah 2																											
Perubahan dalam kuantiti diminta	Perubahan permintaan																											
Perubahan disebabkan oleh harga barang itu	Perubahan disebabkan oleh selain harga barang itu																											
Diandaikan faktor-faktor lain selain daripada harga barang itu tidak berubah	Diandaikan harga barang itu tidak berubah																											
Pergerakan diatas keluk yang sama	Perubahan ini menyebabkan peralihan keluk ke kiri																											
	(cii)	<p>Penentu-penentu penawaran</p> <ul style="list-style-type: none"> - Harga barang itu - Jangkaan harga pada masa hadapan - Teknologi - Dasar kerajaan - Matlamat pengeluar - Cuaca 	1 1 1 1 1 1																									

		- Harga faktor pengeluaran	1 [mak4m]
2	(ai)	<p>Keanjalan harga permintaan $E_d = \frac{\% \text{ perubahan kuantiti}}{\% \text{ perubahan harga barang}} \times \frac{Q_1 - Q_0}{Q_0} \times \frac{P_0}{P_1 - P_0}$</p> $E_d = \frac{50 - 100}{100} \times \frac{9}{15 - 9}$ $= 0.75$ <p>Keanjalan harga penawaran $E_s = \frac{\% \text{ perubahan kuantiti}}{\% \text{ perubahan harga barang}} \times \frac{Q_1 - Q_0}{Q_0} \times \frac{P_0}{P_1 - P_0}$</p> $E_s = \frac{200 - 100}{100} \times \frac{9}{15 - 9}$ $= 1.5$	1 1 1 1 [4m]
	(aii)	<p>Soalan 2(a)(ii): Kekuk Keseimbangan Pasaran</p> <p>Paksi harga: 1 m Paksi kuantiti: 1 m Keluk SS: 1 m (1 m setiap satu) Keluk DD: 1 m Koordinat: 1 m Titik E: 1 m Jumlah: 8 markah</p>	
	a(iii)	<p>Harga keseimbangan: RM10.20 Kuantiti keseimbangan: 105 kg</p>	1 1

			[2m]					
2b	<p>Pergerakan dari titik Y ke Z:</p> <p>H1 Dikenali sebagai penguncupan permintaan [1m]</p> <p>H2 Berlakunya perubahan dalam kuantiti diminta [1m]</p> <p>H3 Disebabkan oleh perubahan harga barang itu sendiri [1m]</p> <p>H4 Faktor-faktor lain adalah tetap / ceteris paribus [1m]</p> <p>H5 Harga barang itu naik menyebabkan kuantiti diminta menurun [1m]</p> <p>H6 Berlaku pergerakan titik di sepanjang keluk permintaan yang sama [1m]</p>	<p>1</p> <p>1</p> <p>1</p> <p>1</p> <p>1</p> <p>1</p> <p>[mak5m]</p>						
2c	<p>(i) Rumus Keanjalan Harga Penawaran (Es)</p> <p style="text-align: center;">Keanjalan harga penawaran $Es = \frac{\% \text{ perubahan kuantiti}}{\% \text{ perubahan harga barang}}$</p> <p style="text-align: center;">Telefon pintar</p> <p style="text-align: center;">$Es = \frac{25\%}{15\%}$</p> <p style="text-align: center;">$Es = 1.67$</p> <p style="text-align: center;">Buah jambu</p> <p style="text-align: center;">$Es = \frac{10\%}{20\%}$</p> <p style="text-align: center;">$Es = 0.50$</p>	<p>1</p> <p>1</p> <p>1</p> <p>1</p> <p>1</p> <p>[mak4m]</p>						
(cii)	<p>H1- Nilai keanjalan harga penawaran adalah kurang daripada satu.</p> <p>H2- penawaran buah jambu tidak anjal.</p> <p>H3- peratus perubahan harga barang adalah lebih besar daripada peratus perubahan kuantiti ditawarkan.</p> <p>H4- apabila harga berubah sebanyak 1%, kuantiti ditawarkan akan berubah sebanyak 0.50%.</p> <p>H5- buah jambu adalah barang pertanian yang biasanya mempunyai keanjalan harga penawaran yang tidak anjal.</p> <p>H6- barang pertanian adalah kurang responsive terhadap perubahan harga kerana petani tidak dapat mengubah pengeluaran dengan cepat apabila berlaku perubahan harga.</p>	<p>1</p> <p>1</p> <p>1</p> <p>1</p> <p>1</p> <p>1</p> <p>[mak3m]</p>						
(d)	<table border="1" style="width: 100%;"> <thead> <tr> <th style="width: 50%;">Keperluan</th> <th style="width: 50%;">Kehendak</th> </tr> </thead> <tbody> <tr> <td>Merupakan perkara asas yang perlu dipenuhi oleh setiap individu.</td> <td>Perkara yang tidak semestinya dipenuhi oleh setiap individu.</td> </tr> <tr> <td>Perbelanjaan ke atas barang keperluan adalah tidak dipengaruhi oleh saiz pendapatan individu.</td> <td>Perbelanjaan ke atas barang kehendak adalah dipengaruhi oleh saiz pendapatan individu.</td> </tr> </tbody> </table>	Keperluan	Kehendak	Merupakan perkara asas yang perlu dipenuhi oleh setiap individu.	Perkara yang tidak semestinya dipenuhi oleh setiap individu.	Perbelanjaan ke atas barang keperluan adalah tidak dipengaruhi oleh saiz pendapatan individu.	Perbelanjaan ke atas barang kehendak adalah dipengaruhi oleh saiz pendapatan individu.	<p>1+1</p> <p>1+1</p>
Keperluan	Kehendak							
Merupakan perkara asas yang perlu dipenuhi oleh setiap individu.	Perkara yang tidak semestinya dipenuhi oleh setiap individu.							
Perbelanjaan ke atas barang keperluan adalah tidak dipengaruhi oleh saiz pendapatan individu.	Perbelanjaan ke atas barang kehendak adalah dipengaruhi oleh saiz pendapatan individu.							

		Barang keperluan digunakan untuk meneruskan kehidupan.	Barang kehendak digunakan untuk hidup lebih selesa.		1+1 [mak4m]
3	(a)	Hubungan antara barang X dan barang Y: - Merupakan barang pengganti - Iaitu barang yang mempunyai fungsi penggunaan yang sama - Contohnya ayam dan daging - Mempunyai hubungan yang positif - Apabila harga ayam naik, kuantiti diminta terhadap daging meningkat - Contohnya, apabila harga barang X (ayam) naik dari RM2 ke RM6, kuantiti diminta terhadap barang Y (daging) akan meningkat dari 10 unit kepada 20 unit			1 1 1 1 1 1 1 [mak5m]
	(b)	Faktor-faktor peningkatan permintaan: H1 Peningkatan dalam pendapatan individu akan meningkatkan kuasa beli pengguna sekaligus permintaan terhadap kereta Vios 1.5 meningkat H2 Citarasa individu yang semakin menggemari kereta import menyebabkan berlakunya peningkatan dalam permintaan kereta Vios 1.5 H3 Harga kereta Vios 1.5 dijangka meningkat pada masa depan, maka permintaan kereta tersebut pada masa kini semakin meningkat H4 Dasar kerajaan yang mengurangkan duti import telah menyebabkan harga kereta Vios 1.5 menjadi murah sekaligus menyumbang kepada peningkatan dalam permintaan H5 Kerajaan mengumumkan pengurangan cukai pendapatan individu telah menyebabkan pendapatan boleh guna individu bertambah sekaligus permintaan terhadap kereta Vios 1.5 meningkat			1 1 1 1 1 [mak4m]
	(c)	Penentu keanjalan permintaan yang menyebabkan permintaan anjal: F1 Jenis barangan H1a barang mewah lebih anjal H1b harga meningkat sedikit, pengguna akan mengurangkan kuantiti dengan banyak F2 Faktor Jangka masa H2a permintaan lebih anjal untuk jangka masa panjang H2b jika harga sesuatu barang itu meningkat, pengguna sempat mencari barang pengganti F3 Bilangan barang pengganti H3a barang yang mempunyai banyak barang pengganti F4 Nisbah perbelanjaan dengan pendapatan H4 semakin besar bahagian / peruntukan pendapatan untuk perbelanjaan F5 Bilangan kegunaan H5 barang yang banyak kegunaan F6 Ketagihan H6 sesuatu barang yang punyai tahap ketagihan yang rendah F7 Ketahanan barang H7 barang yang tahan lama			1 1 1 1 1 1 1 1 1 1 1 1

			[mak6m]
	(di)	Impilikasi pilihan tersebut: H1 Harga keseimbangan RM5.50 H2 Kuantiti keseimbangan 150 unit	1 1 [2m]
	(dii)	Jelaskan keadaan pasaran Susu Kambing pada harga RM 5.75 - Pada harga RM 5.75, berlaku ketidakseimbangan pasaran - Kuantiti permintaan dan kuantiti penawaran tidak sama . - Wujud lebih penawaran sebanyak 52 unit apabila kuantiti di tawar lebih dari kuantiti diminta (170-125) - Harga cenderung jatuh	1 1 1 1 [4m]
4	(a)	<p>Harga (RM)</p>  <p>Kuantiti(unit)</p> <ul style="list-style-type: none"> - Penurunan harga kayu menyebabkan pengeluar menanggung kos pengeluaran yang lebih rendah. - Penawaran pasaran perabot meningkat dan DD pasaran perabot adalah tetap. - Berdasarkan rajah, penurunan harga kayu menyebabkan keluk SS beralih ke kanan dari S0S0 ke S1S1. - Harga keseimbangan menurun dari P0 ke P1 dan kuantiti keseimbangan meningkat dari Q0 ke Q1. - Pasaran mencapai keseimbangan baharu di E1. 	1 1 1 1 1 [5m]
	(bi)	<ul style="list-style-type: none"> - Lukis rajah keseimbangan yang menunjukkan permintaan meningkat, penawaran tetap. Ada harga yang menunjukkan peningkatan dan permintaan meningkat. - Pelepasan cukai menyebabkan DD telefon pintar meningkat. - Keluk DD beralih ke kanan iaitu dai D0Do ke D1D1. - Harga keseimbangan meningkat dari P0 ke P1 dan kuantiti keseimbangan meningkat dari Q0 ke Q1. - Pasaran mencapai keseimbangan baharu di E1. 	1 1 1 1 1 [5m]
	(bii)	- Untuk mengurangkan beban cukai individu.	1

	<ul style="list-style-type: none"> - Menggalakkan orang ramai supaya meluangkan lebih banyak masa untuk meningkatkan kemahiran ilmu pengetahuan. - Memperkembangkan industry telefon pintar, telekomunikasi - Meningkatkan taraf hidup rakyat. - Meningkatkan DD telefon pintar 	1 1 1 1 [mak4m]
	Terima jawapan yang munasabah.	
(ci)	<ul style="list-style-type: none"> - DD pasaran kereta tempatan meningkat manakala SS adalah tetap. - Berlaku lebihan DD dlm pasaran tempatan. - Harga kereta tempatan meningkat. 	1 1 1 [3m]
(cii)	<ul style="list-style-type: none"> - DD pasaran kereta tempatan menurun manakala SS adalah tetap. - Berlaku lebihan SS dlm pasaran tempatan. - Harga kereta tempatan menurun. 	1 1 1 [3m]
d(i)	<ul style="list-style-type: none"> - Tidak wajar - Barang tersebut barang keperluan - Diperlukan oleh semua masyarakat - Kenaikan harga akan menjejaskan pengguna - Firma bertanggungjawab dalam berusaha untuk mengekalkan harga barang. 	1 1 1 1 1 [mak4m]
d(ii)	<ul style="list-style-type: none"> - Mengawal harga barang keperluan. - Menjadikan barang tersebut barang kawalan. - Mengadakan pemeriksaan mengejut. - Menganakan tindakan tegas ke atas peniaga yang menaikkan harga barang keperluan. 	1 1 1 1 [mak3m]

BAB 3: WANG DAN PENDAPATAN INDIVIDU

No. Soalan	Jawapan	No. Soalan	Jawapan	No. Soalan	Jawapan
1.	A	11.	B	21.	B
2.	C	12.	A	22.	B
3.	B	13.	B	23.	D
4.	A	14.	C	24.	B

5.	B	15.	B	25.	C
6.	C	16.	B	26.	B
7.	D	17.	A	27.	B
8.	B	18.	A	28.	D
9.	A	19.	D	29.	D
10.	C	20.	C	30.	A

LATIHAN ESEI

Soalan		Jawapan	Markah
1 (a)	F1	- Alat ukuran nilai	1
	H1a	- Harga tunai RM6000	1
	F2	- Alat bayaran tertunda	1
	H2a	- Bayaran boleh dilakukan secara insuran iaitu RM250 sebulan.	1
	F3	- Alat simpanan nilai	1
	H3a	- Bayaran boleh dilakukan dalam tempoh 24 bulan	1
			[6M]
1 (b)	F1	- Menyediakan akaun penjelasan antara bank	1
	H1a	- Setiap bank perdagangan mempunyai sebuah akaun penjelasan di bank pusat	1
	H1b	- Akan digunakan untuk membayar hutang antara bank akibat pengeluaran cek.	1
	F2	- Menjaga rizab berkanun	1
	H2	- Bank perdagangan wajib membuat simpanan di bank pusat pada kadar tertentu.	1
	F3	- Sumber pinjaman terakhir kepada bank perdagangan	1

	H3	- Bank perdagangan yang mengalami masalah kekurangan tunai boleh mendapatkan pinjaman daripada bank pusat.	1 1 Mak [6M]
2 (a)	F1	- Mewujudkan sandaran minimum	1
	H1a	- Ordinan Bank Negara Malaysia memperuntukkan sandaran minimum 80.59% dalam bentuk emas dan rizab antarabangsa	1
	H1b	- Rizab antarabangsa termasuklah emas, pertukaran asing, milikan hak pengeluaran khas, dan rizab kumpulan wang antarabangsa	1
	H1c	- Sekiranya bank pusat ingin mencetak RM100, sandaran minimum yang perlu dimiliki ialah RM80.59	1
	F2	- Campur tangan dalam pasaran pertukaran asing (FOREX)	1
	H2a	- Bank Negara Malaysia akan membeli Ringgit Malaysia dengan menjual Dolar Amerika Syarikat apabila nilai Ringgit Malaysia adalah rendah	1
	H2b	- Kesannya jumlah Ringgit Malaysia di dalam pasaran akan berkurangan dan nilai Ringgit Malaysia akan meningkat berbanding dengan Dolar Amerika Syarikat	1
	H2c	- Walaupun tindakan ini mengurangkan rizab antarabangsa yang dipegang oleh Bank Negara Malaysia, nilai Ringgit Malaysia dapat distabilkan	1
	F3	- Mengawal inflasi	1
	H3a	- Bank pusat akan memastikan kadar inflasi dalam negara berada pada paras terkawal dengan menggunakan alat dasar kewangan	1
			Mak [6M]
2 (b)		Persamaan	
	H1	- Kedua-duanya merupakan bentuk pinjaman	1
	H2	- Kedua-duanya ditawarkan oleh bank perdagangan	1
	H3	- Kedua-duanya dikenakan faedah	1
	H4	- kedua-duanya tidak memerlukan cagar	1

		Perbezaan		
		Overdraif	Pinjaman Peribadi	
		H5a Untuk pemegang akaun semasa sahaja.	H5b Boleh dipohon oleh individu berumur 18 tahun ke atas / berpendapatan tetap	1 + 1
		H6a Pengeluaran wang melebihi baki dalam akaun semasa	H6b Pengeluaran wang bergantung kepada amaun yang dipinjam	1 + 1
		H7a Dikenakan faedah yang tinggi	H7b Kadar faedah lebih rendah	1 + 1
		H8a Pinjaman jangka masa pendek /faedah dikira mengikut bilangan hari	H8b Pinjaman jangka masa Panjang/ maksimum 10 tahun	1 + 1
		H9a Digunakan oleh peniaga untuk mengatasi masalah aliran tunai/ bayaran gaji/ sewa/ beli stok	H9b Digunakan untuk tujuan peribadi/ membiayai kos Pendidikan/ beli barang tahan lama.	1 + 1
				Mak [6M]
3	H1	- Boleh membuat bayaran pada bila-bila masa dan dimana-mana sahaja asalkan ada capaian internet		1
	H2	- Pemegang akaun membayar bil dari akaun semasa atau akaun simpanan		1
	H3	- Kaedah pembayaran yang cepat dan menjimatkan kos		1
	H4	- Pengguna tidak perlu menyimpan resit bil		1
	H5	- Kaedah pembayaran yang selamat/ mengurangkan risiko kecurian		1
	H6	- Kerana pembayaran tanpa membawa tunai		1
	H7	- Bank perdagangan membuat bayaran dahulu kepada pihak lain		1
	H8	- Pengguna mungkin menikmati diskaun tunai kerana membayar secara tunai		1
	H9	- Harga barang lebih murah		1
	H10	- Kerana tidak melibatkan unsur faedah		1
	H11	- Pengguna akan berbelanja secara berhemat		1

	H12	- Bergantung kepada baki wang yang ada didalam akaun pengguna	1																																	
	H13	- Pengguna akan lebih berdisiplin semasa berbelanja dan mengelakkan berbelanja pada barang yang tidak penting	1																																	
			Mak [6M]																																	
4 (i)		<table border="1"> <thead> <tr> <th></th> <th>RM</th> <th>RM</th> </tr> </thead> <tbody> <tr> <td>Pendapatan</td> <td></td> <td></td> </tr> <tr> <td>Gaji</td> <td></td> <td>6,000.00</td> </tr> <tr> <td>Faedah simpanan</td> <td></td> <td>100.00</td> </tr> <tr> <td>Jumlah Pendapatan</td> <td></td> <td>6,100.00</td> </tr> <tr> <td>Potongan Wajib</td> <td></td> <td></td> </tr> <tr> <td>KWSP</td> <td>660.00</td> <td></td> </tr> <tr> <td>Cukai Pendapatan</td> <td>90.00</td> <td></td> </tr> <tr> <td>Zakat</td> <td>70.00</td> <td></td> </tr> <tr> <td>Jumlah Potongan Wajib</td> <td></td> <td>820.00</td> </tr> <tr> <td>Pendapatan Boleh Guna</td> <td></td> <td>5,280.00</td> </tr> </tbody> </table> <p>(Jawapan beserta jalan kerja = markah penuh) (Jawapan sahaja = 1M)</p>		RM	RM	Pendapatan			Gaji		6,000.00	Faedah simpanan		100.00	Jumlah Pendapatan		6,100.00	Potongan Wajib			KWSP	660.00		Cukai Pendapatan	90.00		Zakat	70.00		Jumlah Potongan Wajib		820.00	Pendapatan Boleh Guna		5,280.00	[MAK 2M]
	RM	RM																																		
Pendapatan																																				
Gaji		6,000.00																																		
Faedah simpanan		100.00																																		
Jumlah Pendapatan		6,100.00																																		
Potongan Wajib																																				
KWSP	660.00																																			
Cukai Pendapatan	90.00																																			
Zakat	70.00																																			
Jumlah Potongan Wajib		820.00																																		
Pendapatan Boleh Guna		5,280.00																																		
4 (ii)	F1	- Perbelanjaan terhadap barang tahan lama	1																																	
	H1	- Tempoh penggunaan biasanya melebihi satu tahun	1																																	
	H2	- Melibatkan perbelanjaan yang besar	1																																	
	H3	- Contoh : perabot, telefon bimbit dan televisyen	1																																	
	F2	- Perbelanjaan terhadap barang tidak tahan lama	1																																	
	H4	- Tempoh penggunaan biasanya kurang daripada satu tahun	1																																	
	H5	- Melibatkan perbelanjaan yang kecil	1																																	
	H6	- Contoh : makanan, ubat gigi dan alat tulis	1																																	
	F3	- Perbelanjaan terhadap perkhidmatan	1																																	
	H7	- Ada perbelanjaan perkhidmatan yang mempunyai nilai yang hampir	1																																	

	H8	<p>sama setiap bulan seperti bayaran sewa rumah dan premium insurans.</p> <p>- Perbelanjaan perkhidmatan yang nilainya berubah seperti bil utiliti dan bayaran perlancongan</p> <p>(Minima 2 isi beserta huraian atau contoh yang sesuai)</p>	<p>1</p> <p>[MAK 4M]</p>
--	----	---	--------------------------

BAB 4 : PENGELUARAN

<i>No. Soalan</i>	<i>Jawapan</i>	<i>No. Soalan</i>	<i>Jawapan</i>	<i>No. Soalan</i>	<i>Jawapan</i>
1.	A	11.	C	21.	C
2.	D	12.	B	22.	B
3.	B	13.	A	23.	C
4.	B	14.	B	24.	A
5.	B	15.	B	25.	B
6.	C	16.	C	26.	A
7.	D	17.	D	27.	C
8.	D	18.	D	28.	D
9.	B	19.	C	29.	B
10.	C	20.	D	30.	B

LATIHAN ESEI

4 (a)	<p>Faedah sosial pembinaan Pan Borneo:</p> <p>H1 Menjimatkan masa perjalanan / mengurangkan jarak perjalanan</p> <p>H2 Mengurangkan kos tambang pengangkutan</p> <p>H3 Menghubungkan penduduk di pedalaman dengan kawasan bandar</p> <p>H4 Menggalakkan industri pelancongan / mengembangkan kegiatan ekonomi di Sabah dan Sarawak</p> <p>H5 Mewujudkan bandar satelit</p> <p>H6 Memudahkan pemasaran hasil pertanian dari luar bandar / meluaskan pasaran perniagaan</p> <p>H7 Menyediakan peluang pekerjaan baru</p> <p>H8 Meningkatkan pendapatan rakyat</p>	<p>1</p> <p>1</p> <p>1</p> <p>1</p> <p>1</p> <p>1</p> <p>1</p> <p>1</p> <p>[mak 6m]</p>
4 (b)	<p>Kos sosial pembinaan ECRL:</p> <p>H1 Menjejaskan ekosistem</p> <p>H2 Kemusnahan hutan simpan dan anak-anak sungai</p> <p>H3 Memusnahkan habitat hidupan liar</p> <p>H4 Pergerakan hidupan liar semakin terbatas</p> <p>H5 Berlaku konflik antara manusia dan hidupan liar</p> <p>H6 Risiko kemalangan jalan raya yang melibatkan haiwan liar</p> <p>H7 Pemburuan haram akan berleluasa</p> <p>H8 Kerajaan terpaksa menanggung kos yang tinggi untuk urusan memindahkan hidupan liar yang terancam</p> <p>H9 Risiko banjir kilat atau tanah runtuh</p> <p>H10 Pencemaran sungai</p> <p>H11 Menimbulkan keresahan penduduk kampung kerana tanah mereka akan diambil</p>	<p>1</p> <p>1</p> <p>1</p> <p>1</p> <p>1</p> <p>1</p> <p>1</p> <p>1</p> <p>1</p> <p>1</p> <p>1</p> <p>1</p> <p>[mak 6m]</p>

BAB 5 : EKONOMI DAN KERAJAAN

LATIHAN OBJEKTIF

No. Soalan	Jawapan	No. Soalan	Jawapan	No. Soalan	Jawapan	No. Soalan	Jawapan
1.	D	12.	D	23.	D	34.	D
2.	B	13.	B	24.	A	35.	B
3.	B	14.	A	25.	D	36.	B

4.	D	15.	B	26.	D	37.	D
5.	C	16.	B	27.	D	38.	C
6.	C	17.	A	28.	A	39.	A
7.	B	18.	D	29.	B	40.	A
8.	D	19.	A	30.	C	41.	B
9.	B	20.	A	31.	C	42.	C
10.	D	21.	B	32.	D	43.	A
11.	C	22.	C	33.	A	44.	C

LATIHAN ESEI

1	a.i	Guna Tenaga penuh - Keadaan apabila semua tenaga buruh dalam ekonomi telah digunakan - Kadar pengangguran berada dalam lingkungan 4% - tenaga buruh yang digunakan dengan optimum - jumlah keluaran negara yang maksimum - pendapatan negara akan meningkat - taraf hidup masyarakat meningkat	1 1 1 1 1 1 [mak3m]
	a.ii	Pertumbuhan ekonomi - Diukur melalui perubahan dalam tingkat keluaran barang dan perkhidmatan iaitu perubahan dalam tingkat keluaran negara pada sesuatu tahun berbanding dengan tahun sebelumnya. - Pertumbuhan ekonomi yang baik di sesebuah negara akan mencipta banyak peluang pekerjaan kepada masyarakat. - Kurangkan kadar pengangguran - Taraf hidup meningkat	1 1 1 1 [mak 3m]
	(b)	Peranan kerajaan dalam kawal selia pengeluaran - Kuatkuasa undang-undang - Pemberian Subsidi - Naikkan cukai - Istiyhar sesetengah barang pengguna sebagai barang kawalan	1 1 1 1 [4m]
2	(a)	- Pengangguran berstruktur - Pengangguran geseran - Pengangguran kitaran	1 1 1 [3 m]
	(b)	Pengangguran Kitaran - Berlaku apabila ekonomi lembab - Pengurangan permintaan agregat menyebabkan pengurangan dalam pengeluaran	1 1 [2m]

		Pengganggu berstruktur - Berlaku apabila struktur ekonomi negara berubah - Contoh : Perubahan sektor Utama ke Sektor Kedua	1 1 [2m]						
	(c.i)	Kesan ekonomi - Pendapatan negara menurun - Hasil negara berkurang - Halang pertumbuhan ekonomi	1 1 1 [3m]						
	(c.i)	Sosial - Taraf hidup menurun - Kadar kemiskinan meningkat - Masalah kekeluargaan timbul - Jenayah	1 1 1 1 [max 3m]						
3.	(a)	Ciri-ciri monopoli - Satu firma sahaja, - Keluaran tiada pengganti – dikeluarkan oleh firma lain - Penentu harga pasaran – kerajaan tentukan harga - Tiada kebebasan keluar masuk industri-perlindungan undang-undang, pemilikan faktor pengeluaran tertentu, kos modal tinggi	1+1 1+1 1 +1 1+1 3F + 3H [max 6m]						
4	(a)	- 2011 hingga 2012 : Pertumbuhan ekonomi meningkat - 2012 hingga 2013 : Pertumbuhan ekonomi menurun - 2013 hingga 2014 : Pertumbuhan ekonomi meningkat - 2014 hingga 2016 : Pertumbuhan ekonomi menurun	1 1 1 1 [maks 4m]						
	ii	- Pelaburan meningkat - Sebabkan peluang kerja meningkat - Taraf hidup meningkat - Pendapatan meningkat - Merapatkan juarag pendapatan - Kurangkan pengganggu	1 1 1 1 1 1 [maks 4m]						
5	(a)	<table border="1" style="width: 100%; border-collapse: collapse;"> <thead> <tr> <th style="width: 50%;">Dasar Harga Maksimum</th> <th style="width: 50%;">Dasar Harga Minimum</th> </tr> </thead> <tbody> <tr> <td>H1a Penetapan harga yang lebih rendah daripada harga keseimbangan [1m]</td> <td>H2a Penetapan harga yang lebih tinggi daripada harga keseimbangan [1m]</td> </tr> <tr> <td>H1b Bertujuan untuk menjaga kebajikan pengguna supaya dapat membeli barang pada harga yang berpatutan [1m]</td> <td>H2b Bertujuan untuk menjaga kebajikan pengeluar agar memperoleh keuntungan yang lebih tinggi [1m]</td> </tr> </tbody> </table>	Dasar Harga Maksimum	Dasar Harga Minimum	H1a Penetapan harga yang lebih rendah daripada harga keseimbangan [1m]	H2a Penetapan harga yang lebih tinggi daripada harga keseimbangan [1m]	H1b Bertujuan untuk menjaga kebajikan pengguna supaya dapat membeli barang pada harga yang berpatutan [1m]	H2b Bertujuan untuk menjaga kebajikan pengeluar agar memperoleh keuntungan yang lebih tinggi [1m]	
Dasar Harga Maksimum	Dasar Harga Minimum								
H1a Penetapan harga yang lebih rendah daripada harga keseimbangan [1m]	H2a Penetapan harga yang lebih tinggi daripada harga keseimbangan [1m]								
H1b Bertujuan untuk menjaga kebajikan pengguna supaya dapat membeli barang pada harga yang berpatutan [1m]	H2b Bertujuan untuk menjaga kebajikan pengeluar agar memperoleh keuntungan yang lebih tinggi [1m]								
6	(a)	H1 Aktiviti ekonomi pelbagai sektor terpaksa dihentikan [1m] H2 Menyebabkan keupayaan pengeluaran barang dan perkhidmatan menurun [1m] H3 Ramai pekerja yang diberhentikan / cuti tanpa gaji [1m] H4 Produktiviti pekerja menurun / stress kerana tidak dapat bekerja [1m]							

		H5 Kadar pengangguran meningkat [1m] H6 Masyarakat hilang sumber pendapatan [1m] H7 Kos sara hidup meningkat [1m] H8 Kuasa beli semakin menurun [1m] H9 Permintaan barang dan perkhidmatan berkurang [1m] H10 Tarah hidup menurun [1m] H11 Permintaan agregat yang merosot menyebabkan penawaran barang juga terpaksa dikurangkan [1m] H12 Firma mengalami kerugian kerana terpaksa menanggung kos pengeluaran [1m] H13 Sedangkan keuntungan semakin menyusut [1m] H14 Terdapat perniagaan / perusahaan kecil yang tidak mampu berdaya saing [1m] H15 Menyebabkan ada peniaga yang terpaksa gulung tikar [1m] H16 Pendapatan negara merosot akibat aktiviti ekonomi yang semakin lembap [1m]									
7	(a)	X - Perbelanjaan pembangunan mengurus Perbelanjaan Y : Perbelanjaan	[2m]								
	(b)	Persamaan : Perbelanjaan Kerajaan [1m]									
		<table border="1"> <thead> <tr> <th>Perbelanjaan X</th> <th>Perbelanjaan Y</th> </tr> </thead> <tbody> <tr> <td>H1 Merupakan perbelanjaan pembangunan [1m]</td> <td>H1 Merupakan perbelanjaan mengurus [1m]</td> </tr> <tr> <td>H2 Perbelanjaan pelaburan kerajaan dalam projek pembangunan ekonomi [1m]</td> <td>H2 Perbelanjaan semasa kerajaan yang berulang- ulang setiap tahun [1m]</td> </tr> <tr> <td>H3 Bertujuan meningkatkan taraf hidup rakyat [1m]</td> <td>H3 Bertujuan melancarkan pentadbiran kerajaan [1m]</td> </tr> </tbody> </table>	Perbelanjaan X	Perbelanjaan Y	H1 Merupakan perbelanjaan pembangunan [1m]	H1 Merupakan perbelanjaan mengurus [1m]	H2 Perbelanjaan pelaburan kerajaan dalam projek pembangunan ekonomi [1m]	H2 Perbelanjaan semasa kerajaan yang berulang- ulang setiap tahun [1m]	H3 Bertujuan meningkatkan taraf hidup rakyat [1m]	H3 Bertujuan melancarkan pentadbiran kerajaan [1m]	
Perbelanjaan X	Perbelanjaan Y										
H1 Merupakan perbelanjaan pembangunan [1m]	H1 Merupakan perbelanjaan mengurus [1m]										
H2 Perbelanjaan pelaburan kerajaan dalam projek pembangunan ekonomi [1m]	H2 Perbelanjaan semasa kerajaan yang berulang- ulang setiap tahun [1m]										
H3 Bertujuan meningkatkan taraf hidup rakyat [1m]	H3 Bertujuan melancarkan pentadbiran kerajaan [1m]										
8	(a)	<p>Pelaksanaan belanjawan lebih untuk mengatasi masalah inflasi:</p> <ul style="list-style-type: none"> - Meningkatkan cukai - Mengurangkan perbelanjaan kerajaan - Menyebabkan pendapatan boleh guna individu berkurangan - Kuasa beli / permintaan barang berkurang - Tingkat harga umum akan jatuh - Inflasi dapat distabilkan 	<p>1 1 1 1 1 1 1 [Mak 5m]</p>								
	(b)	<p>Kesan menaikkan kadar faedah semasa inflasi:</p> <ul style="list-style-type: none"> - Perbelanjaan agregat pengguna menurun - Pelaburan firma menurun - Penawaran barang dan perkhidmatan dalam ekonomi berkurang - Kekurangan permintaan sebabkan firma tidak bermotivasi - Firma juga tidak mempunyai modal untuk mengembangkan operasi 	<p>1 1 1 1 1</p>								

	- Masalah inflasi semakin pulih	1 [Mak 5m]
--	---------------------------------	---------------

BAB 6 : GLOBALISASI

LATIHAN OBJEKTIF

No. Soalan	Jawapan	No. Soalan	Jawapan	No. Soalan	Jawapan	No. Soalan	Jawapan
1.	C	6.	B	11.	C	16.	C
2.	B	7.	B	12.	C	17.	C
3.	C	8.	C	13.	D	18.	D
4.	A	9.	A	14.	B		
5.	D	10.	A	15.	C		

SOALAN BETUL SALAH

1.	B	2.	C	3.	C	4.	A	5.	B
6.	B	7.	D	8.	A	9.	C	10.	A
11.	A	12.	D						

LATIHAN ESEI

1.	(a)	Globalisasi ialah proses interkasi dan integrasi antara manusia, firma dan kerajaan pelbagai negara.	1 1 [2 m]
	(b)	F1 Peranan Kerajaan H1 pengaruhi pandangan masyarakat H2 Pelbagai insentif ; polisi/ visa	1 1 1
		F2 Infrastruktur ICT yang maju H1 mudah Komunikasi H2 Kawaln perniagaan mudah	1 1 1

	H3 Pemindahan maklumat	1
	F3 Infrastruktur pengangkutan yang baik	1
	H1 Pengangkutan yang cekap	1
	H2 aktiviti perniagaan .. cepat, murah dan mudah	1
	F4 Pelancongan	1
	H1 Pelbagai galakan ..insentif Kerajaan	1
	H2 Tempahan online	1
		[Mak 4m]
2.	(a)	
	- Firma / individu dari luar negara	1
	- Memulakan perniagaan / beli aset di Malaysia	1
	- Syarikat Multinasional pindah operasi ke negara membangun seperti Malaysia	1
	- Tujuan dapat sumber harga murah	1
	- FDI dalam bentuk membina kemudahan Pengeluaran	1
	- Atau buka Subsidiari seperti anak syarikat (Sony Malaysia)	1
		[mak 5m]
	(b)	
	<u>Kesan FDI – Ekonomi</u>	
	- Pertumbuhan ekonomi	1
	- Pindahan Teknologi	1
	- Meningkatkan kemahiran Modal Insan	1
	- Meningkatkan Modal Pelaburan	1
	- Peluang perkerjaan bertambah	1
	<u>Kesan FDI -Rakyat</u>	
	- Peluang pekerjaan bertambah	1
	- Pengangguran berkurang	1
	- Taraf Hidup rakyat meningkat	1
	- Pendapatan bertambah	1
	- Tabungan meningkat	1
		[mak 6m]