



# LATIHAN PDPR MEI-JUN 2021

## EKONOMI TINGKATAN 4

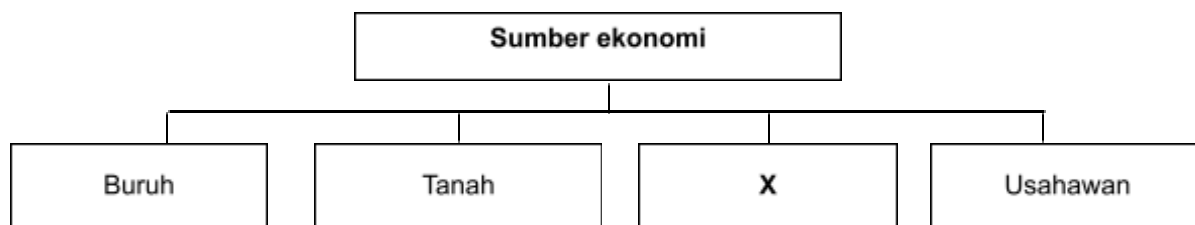
**100**soalan objektif (Kertas 1)

DISEDIAKAN OLEH:  
PANITIA EKONOMI  
SMK SUBANG

## TINGKATAN 4

### BAB 1: PENCENALAN KEPADA EKONOMI

1. Apakah yang dimaksudkan dengan ekonomi?
  - A Kajian tentang bagaimana manusia mengatasi masalah kos lepas
  - B Kajian tentang bagaimana manusia memaksimumkan keuntungan
  - C Kajian tentang tindakan manusia untuk memenuhi kehendak yang tidak terhad
  - D Kajian tentang tindakan manusia untuk mengurangkan pembaziran sumber alam
2. Masalah pilihan dalam ekonomi berlaku kerana
  - A faktor pengeluaran dalam ekonomi adalah terhad
  - B kadar pertumbuhan penduduk yang tidak terkawal
  - C kehausan dan kepupusan sumber alam semulajadi
  - D faktor pengeluaran adalah tidak terhad dalam ekonomi
3. Antara yang berikut, pilihan manakah yang tepat menggambarkan masalah kekurangan dalam ekonomi.
  - A Kerajaan berhasrat menyediakan semua kemudahan awam dengan kutipan hasil cukai yang diperoleh
  - B En. Husaini dapat membeli semua barang yang disukainya dengan pendapatan yang tinggi hasil daripada keuntungan perniagaannya
  - C Syarikat Ali Bhd mampu mengeluarkan semua barang yang diminta pengguna kerana mempunyai sumber ekonomi yang banyak
  - D Puan Aisyah hanya mampu membeli sepasang kasut sukan sahaja untuk anaknya setelah menerima wang Bantuan Sara Hidup (BSH) sebanyak RM300
4. Antara berikut yang manakah **betul**?
  - A Sebuah firma terpaksa membuat pilihan akibat kekurangan buruh mahir untuk mengeluarkan barang dan perkhidmatan
  - B Seorang suri rumah terpaksa membuat pilihan akibat kekurangan modal untuk berbelanja bagi keperluan keluarganya
  - C Seorang petani terpaksa membuat pilihan akibat kekurangan sumber pendapatan untuk menghasilkan keluaran pertanian
  - D Sebuah kerajaan negeri terpaksa membuat pilihan akibat kekurangan faktor pengeluaran untuk melaksanakan projek pembangunan
5. Rajah di bawah menunjukkan sumber-sumber ekonomi yang diperlukan firma untuk mengeluarkan barang dan perkhidmatan.



Apakah ganjaran bagi faktor pengeluaran **X**?

- |          |          |
|----------|----------|
| A Untung | C Upah   |
| B Sewa   | D Faedah |

6. Gambar berikut menunjukkan sejenis faktor pengeluaran.



Pernyataan manakah yang menggambarkan faktor pengeluaran tersebut?

- A Input produktif yang dicipta oleh manusia untuk meningkatkan pengeluaran
  - B Sumber semulajadi yang mempunyai penawaran terhadap
  - C Berperanan menyelaraskan dan menggabungkan faktor pengeluaran
  - D Membenarkan orang lain mengurus keuntungannya
7. Pernyataan di bawah menunjukkan satu masalah ekonomi.

Pendapatan yang diperoleh tidak mampu memaksimumkan kepuasan.

Siapakah yang mungkin menghadapi masalah ekonomi di atas?

- A Syarikat Silika Sdn Bhd
  - B Jabatan Pengangkutan Jalan
  - C Encik Zamarul
  - D Pemilik Amani Enterprise
8. Maklumat berikut berkaitan dengan satu unit ekonomi.

Unit ekonomi X membuat pilihan kerana kekurangan sumber ekonomi.

Pernyataan manakah yang betul tentang unit ekonomi X?

- A Meningkatkan keuntungan dengan meminimum kos pengeluaran
  - B Mengutamakan kebajikan rakyat daripada projek pembangunan
  - C Memaksimumkan kepuasan melalui perbelanjaan berhemah
  - D Membekalkan keperluan demi keselesaan pengguna
9. Pernyataan di bawah berkaitan faktor pengeluaran X.

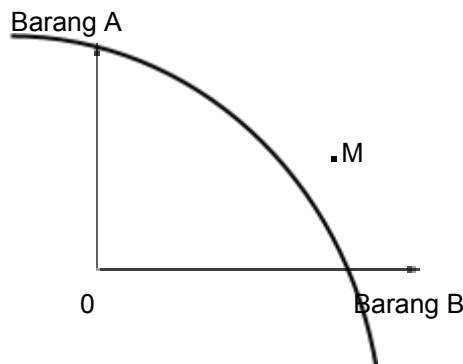
- Sesetengahnya mempunyai mobiliti contohnya mesin.
- Sesetengahnya lagi tidak mempunyai mobiliti seperti bangunan.

Apakah X?

- A Tanah
- B Usahawan
- C Buruh
- D Modal

## KOLEKSI KERTAS SOALAN PERCUBAAN 2020

10. Pernyataan manakah benar tentang faktor pengeluaran?
- Tanah merupakan sumber yang diekstrak dari bumi dan lautan
  - Modal mempunyai penawaran yang terhad yang menyebabkan harganya meningkat secara berterusan
  - Buruh merupakan individu yang menggabungkan faktor pengeluaran untuk menghasilkan output
  - Usahawan adalah individu yang memberikan hasil pengeluaran secara produktif sama ada secara fizikal dan mental
11. Antara berikut yang manakah **benar** tentang keluk kemungkinan pengeluaran?
- Pengeluaran kedua-dua barang di sepanjang keluk kemungkinan pengeluaran dapat ditambah secara serentak dengan menggunakan semua sumber ekonomi
  - Kombinasi pengeluaran yang tidak cekap berlaku pada salah satu titik di sepanjang keluk kemungkinan pengeluaran
  - Sumber ekonomi yang tidak digunakan sepenuhnya akan menyebabkan masalah ketidakupayaan ekonomi
  - Untuk menambah kuantiti pengeluaran suatu barang terpaksa mengorbankan kuantiti pengeluaran barang yang lain
12. Rajah di bawah menunjukkan satu keluk kemungkinan pengeluaran.



Firma dikatakan tidak dapat mengeluarkan produk pada titik M. Namun, pengeluaran masih boleh dicapai sekiranya

- Firma memaksimumkan guna tenaga penuh
  - Firma hanya mengeluarkan satu jenis barang sahaja
  - Firma memberi hadiah kepada pekerja yang paling produktif
  - Firma membawa masuk lebih banyak mesin dan teknologi baharu
13. Jadual di bawah menunjukkan dua barang yang dikeluarkan oleh satu firma.

Kaedah Pengeluaran	Meja (unit)	Kerusi (unit)
M	100	35
N	70	40
P	40	60
Q	20	75

Jika pihak pengurusan firma tersebut mengambil keputusan untuk mengubah kaedah pengeluaran daripada P kepada Q, berapakah unit meja yang terpaksa dilepaskan?

- 15 unit
- 20 unit
- 40 unit
- 75 unit



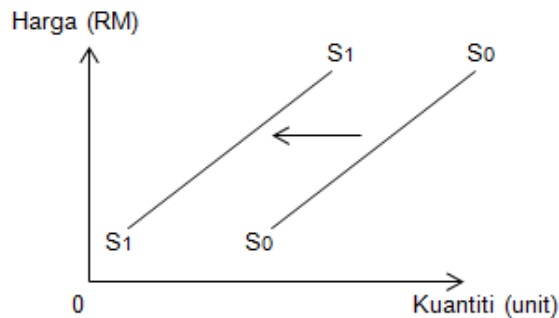




**TINGKATAN 4**

**BAB 2 : PASARAN**

26. Pernyataan manakah **benar** tentang hukum permintaan?
- A Sofea akan membeli lebih banyak barang apabila harga barang jatuh
  - B Fauzan akan membeli lebih banyak barang apabila harga barang meningkat
  - C Syarikat Amir akan mengeluarkan lebih banyak barang apabila harga barang jatuh
  - D Syarikat Wafi akan mengeluarkan lebih banyak barang apabila harga barang meningkat
27. Antara yang berikut, yang manakah mungkin menyebabkan pergerakan di atas keluk permintaan kereta?
- A Penurunan harga petrol
  - B Penurunan harga kereta
  - C Kenaikan tambang bas
  - D Kenaikan harga motosikal
28. Rajah di bawah menunjukkan keluk penawaran bagi kereta tempatan.



Pergerakan keluk dari  $S_0S_0$  ke  $S_1S_1$  adalah disebabkan

- A Pemberian subsidi oleh kerajaan
  - B Penurunan harga faktor pengeluaran
  - C Firma bermatlamat untuk memaksimumkan keuntungan
  - D Firma bermatlamat untuk memaksimumkan jualan
29. Maklumat di bawah berkaitan kuantiti permintaan dan penawaran bagi suatu barang.

Harga (RM)	Kuantiti diminta (unit)	Kuantiti ditawarkan (unit)
10	30	5
15	25	10
20	15	15
25	10	20
30	5	25

Pernyataan manakah yang **betul** tentang maklumat di atas?

- A Harga cenderung turun pada tingkat harga RM15
- B Harga cenderung naik pada tingkat harga RM20
- C Berlaku lebihan penawaran pada tingkat harga RM30
- D Keseimbangan pasaran tercapai pada tingkat harga RM25



KOLEKSI KERTAS SOALAN PERCUBAAN 2020

30. Maklumat di bawah berkaitan dengan hubungan dua jenis barang.

Apabila harga barang S meningkat, kuantiti permintaan terhadap barang T juga meningkat.

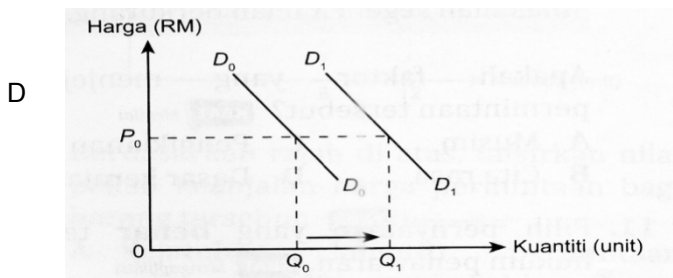
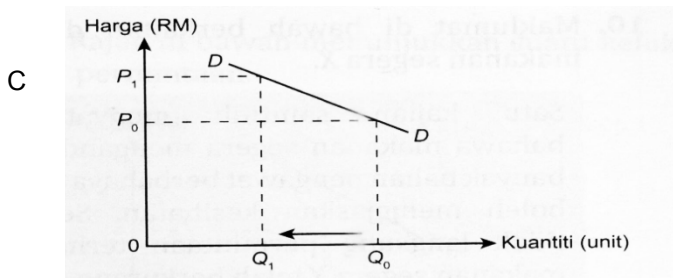
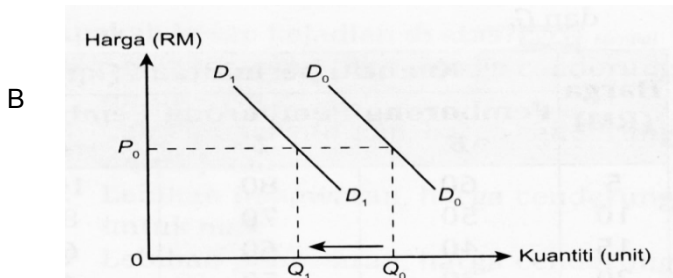
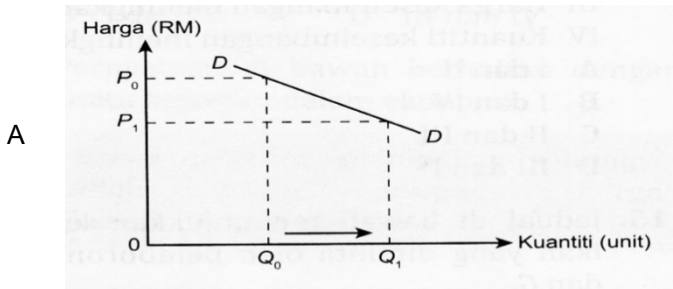
Apakah kemungkinan barang S dan barang T.

- A Bas dan petrol
- C Kereta Honda dan Kereta Vios
- B Gula dan garam
- D Mesin pencetak dan katrij dakwat

31. Maklumat di bawah menunjukkan penentu permintaan bagi barang P.

- Harga barang P dijangka meningkat pada masa depan.
- Kadar cukai pendapatan individu dikurangkan.

Keluk manakah yang menunjukkan perubahan permintaan bagi barang P?









KOLEKSI KERTAS SOALAN PERCUBAAN 2020

41. Jadual berikut menunjukkan permintaan empat individu bagi Barang Q.

Harga (RM)	Kuantiti Permintaan (unit)				Pasaran Barang Q
	Individu R	Individu S	Individu T	Individu U	
3	450	560	520	780	2 310
9	380	460	480	Y	1 990

Hitungkan jumlah permintaan Barang Q bagi Individu S dan Individu U pada harga RM9.

- A 1130 unit  
 B 1320 unit  
 C 1340 unit  
 D 1800 unit

42. Pernyataan berikut berkaitan satu situasi yang berlaku di dalam pasaran.

Kerajaan bersetuju menambah peruntukan subsidi kepada petani kepada RM13 juta berbanding RM5.9 juta sebelum ini. Perkara ini diumumkan oleh Perdana Menteri, Tan Sri Muhyiddin Yassin, menerusi Pakej Rangsangan Ekonomi Tambahan terutama kepada usahawan kecil dan sederhana.

*Ubahsuai BH Online, 6 April 2020*

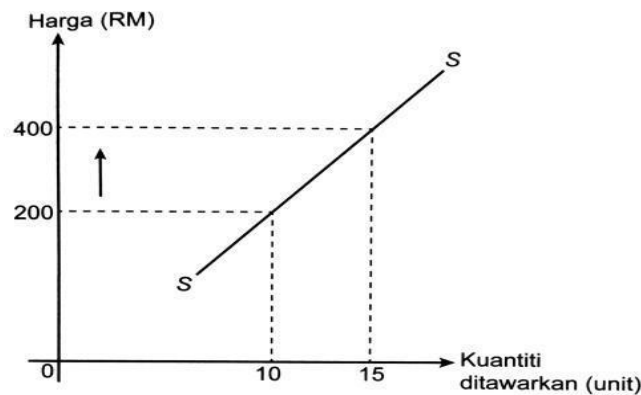
Apakah kesan terhadap keseimbangan pasaran akibat peristiwa di atas?

- I Harga keseimbangan cenderung untuk menurun  
 II Harga keseimbangan cenderung untuk meningkat  
 III Keluk permintaan beralih ke kanan  
 IV Berlaku pertambahan penawaran
- A I dan II  
 B I dan IV  
 C II dan III  
 D III dan IV

43. Penawaran biskut bertambah daripada 160 unit kepada 220 unit apabila harga biskut meningkat daripada RM 1.50 kepada RM 2.00. Berapakah nilai keanjalan harga penawaran untuk biskut tersebut?

- A 0.53  
 B 0.89  
 C 1.13  
 D 1.88

44. Rajah di bawah menunjukkan keluk penawaran barang W.



Berapakah nilai keanjalan penawaran barang W?

- A 0.3  
 B 0.5  
 C 1.0  
 D 3.0

## KOLEKSI KERTAS SOALAN PERCUBAAN 2020

45. Maklumat di bawah mengenai permintaan suatu majalah.

Harga (RM)	Kuantiti diminta (unit)
20	60
16	X

Sekiranya harga telah jatuh dan nilai keanjalan harga permintaan ialah 1.5, berapakah nilai X?

- |           |           |
|-----------|-----------|
| A 55 unit | C 72 unit |
| B 65 unit | D 78 unit |

46. Jadual di bawah ini menunjukkan harga dan kuantiti diminta bagi suatu barang.

Harga (RM)	Kuantiti Diminta (unit)
8	70
12	90

Berapakah nilai keanjalan harga permintaan apabila harga berubah dari RM8 ke RM12?

- |        |        |
|--------|--------|
| A 0.57 | C 0.80 |
| B 0.75 | D 2.50 |

47. Maklumat berikut merujuk kepada nilai pekali keanjalan harga permintaan bagi barang S dan M.

	Barang S	Barang M
Nilai pekali keanjalan	1.4	0.6

Apakah tindakan yang perlu dilakukan oleh peniaga untuk meningkatkan hasil jualan bagi barang berikut?

	Barang S	Barang M
A	Naikkan harga	Turunkan harga
B	Turunkan harga	Naikkan harga
C	Turunkan harga	Turunkan harga
D	Naikkan harga	Naikkan harga

48. Permintaan sesuatu barang itu cenderung menjadi tidak anjal jika

- A Perbelanjaan merupakan sebahagian kecil daripada pendapatan
- B Barang itu ialah barang kehendak
- C Barang itu mempunyai banyak kegunaan
- D Barang itu mempunyai banyak pengganti

49. Penawaran sesuatu barang menjadi anjal apabila

- A Berlaku tambahan kos pengeluaran yang sangat besar
- B Bilangan firma yang sedikit dalam pasaran
- C Mobiliti faktor pengeluaran yang rendah
- D Pengeluaran berlaku dalam jangka masa panjang



**TINGKATAN 4**

**BAB 3 : PENDAPATAN INDIVIDU**

51. Situasi manakah yang menerangkan fungsi wang sebagai alat ukuran nilai?
- A Encik Ali membayar RM5000 sebagai deposit untuk kereta baharu
  - B Cik Amri membayar RM250 setiap bulan untuk motosikalnya selama dua tahun
  - C En Azam mengunjungi lebih daripada 10 kedai komputer untuk membandingkan harga komputer sebelum membeli
  - D Puan Maimum membeli barang kemas pada harga diskaun 70% sempena jualan penghabisan stok oleh Intan Jewel Sdn Bhd
52. Mengapakah wang boleh digunakan sebagai alat bayaran tertunda?
- A Wang mempunyai nilai yang stabil
  - B Wang merupakan alat pertukaran yang sah
  - C Wang boleh digunakan untuk pembahagian nilai
  - D Wang dapat mengatasi masalah keperluan dan kehendak serentak
53. Maklumat yang berikut berkaitan dengan salah satu fungsi wang.

Encik Zahin membayar pendahuluan untuk rumah teres dua tingkat RM50 000 dan ansuran bulanan sebanyak RM3 500.

Apakah fungsi wang yang berkaitan dengan maklumat tersebut?

- I Alat perantaraan pertukaran
  - II Alat bayaran tertunda
  - III Alat ukuran nilai
  - IV Alat penyimpanan nilai
- A I dan II
  - B I dan IV
  - C II dan III
  - D III dan IV

54. Contoh manakah yang **betul** tentang fungsi wang sebagai alat simpanan nilai?
- A Pemilikan polisi insurans nyawa dari syarikat insurans Bersepadu Berhad
  - B Penetapan harga perabot jati yang diterima dari Indonesia
  - C Proses menjelaskan bayaran ansuran kereta dalam tempoh 9 tahun
  - D Pembelian komputer riba baru berharga mahal

55. Antara berikut, yang manakah menunjukkan perbezaan antara bank pusat dengan bank perdagangan?

	<b>Bank Pusat</b>	<b>Bank Perdagangan</b>
A	Menerima deposit daripada orang ramai	Menerima deposit daripada firma
B	Memberi kemudahan pinjaman kepada firma	Memberi pinjaman kepada masyarakat
C	Menguruskan akaun kerajaan	Menguruskan akaun semasa
D	Penasihat kewangan kepada syarikat korporat	Penasihat kewangan kepada agensi kerajaan









## KOLEKSI KERTAS SOALAN PERCUBAAN 2020

70. Maklumat berikut adalah mengenai Puan Aliya.

Pendapatan tahunan Puan Aliya ialah RM48 000. Daripada jumlah ini, RM5 280 dicarumkan kepada KWSP, RM600 untuk potongan cukai pendapatan dan RM300 untuk bayaran zakat.

Hitungkan perbelanjaan penggunaan Puan Aliya jika tabungan adalah RM 4 600.

- |            |            |
|------------|------------|
| A RM37 220 | C RM41 820 |
| B RM37 520 | D RM43 400 |

71. Maklumat di bawah berkaitan sejenis kaedah pembayaran.

Encik Malek telah membeli satu set perabot dengan bayaran ansuran RM200 sebulan selama 2 tahun.

Mengapakah Encik Malek memilih kaedah pembayaran tersebut?

- |   |              |
|---|--------------|
| I Harga lebih murah                                       |              |
| II Menikmati diskaun harga                                |              |
| III Meringankan beban kewangan                            |              |
| IV Menikmati barang walaupun harga penuh belum dijelaskan |              |
| A I dan II  | C II dan III |
| B I dan IV  | D III dan IV |

72. Maklumat manakah yang **betul** tentang kaedah pembayaran?

	Bayaran Tunai	Bayaran Kredit
A	Mudah mendapatkan perkhidmatan selepas jualan	Dapat menikmati barangan mewah
B	Tidak dapat melindungi diri daripada inflasi	Boleh menggunakan barang yang dibeli untuk menjana pendapatan
C	Menikmati harga yang lebih murah	Barang menjadi hak milik selepas membayar pendahuluan
D	Dapat meningkatkan taraf hidup	Mendorong pengguna berjimat cermat

73. Maklumat berikut berkaitan dengan pendapatan Cik Halimah.

Butiran	RM
Gaji	1 800
Dividen	350
PERKESO	8.50
KWSP	198
Bayaran sewa rumah	400

Berapakah pendapatan boleh guna Cik Halimah pada bulan tersebut?

- |               |               |
|---------------|---------------|
| A RM 1 193.50 | C RM 1 543.50 |
| B RM 1 243.50 | D RM 1 943.50 |



**TINGKATAN 4****BAB 4 : PENCELUARAN**

76. Pernyataan manakah yang **betul** tentang kos tetap?
- Kos yang ditanggung untuk mengeluarkan seunit output
  - Wujud dalam jangka masa pendek dan jangka masa panjang
  - Pembelian untuk mendapatkan bahan mentah dalam proses pengeluaran
  - Pembayaran yang perlu dilakukan walaupun pengeluaran belum bermula
77. Pilih pernyataan yang **benar** mengenai hukum pulangan berkurangan dalam pengeluaran firma.
- Berlaku kemajuan yang berterusan dalam tingkat teknologi pengeluaran
  - Jumlah keluaran firma semakin meningkat apabila penggunaan input bertambah
  - Jumlah keluaran semakin menurun jika input berubah ditambah berterusan ke atas input tetap
  - Gabungan yang paling cekap antara input berubah dan input tetap untuk menambah output
78. Pilih pernyataan yang **benar** mengenai pengeluaran jangka panjang.
- Semua input yang digunakan dalam pengeluaran ialah input tetap
  - Firma dapat mengubah tingkat output dengan menjalankan aktiviti R&D
  - Wujudnya sekurang-kurang satu input tetap dalam pengeluaran
  - Pertambahan output dapat dilakukan dengan menambah input tetap
79. Jadual di bawah menunjukkan input dan keluaran sebuah firma.

Input Tetap	Input Berubah	Jumlah Keluaran
15	3	1 100
15	6	1 500
15	9	2 100
15	12	2 400

Antara yang berikut, yang manakah **benar** tentang jadual tersebut?

- Proses pengeluaran adalah dalam jangka masa pendek
  - Proses pengeluaran adalah dalam jangka masa panjang
  - keluaran purata untuk input berubah ke-12 ialah 300 unit
  - keluaran marginal untuk input berubah ke-9 ialah 200 unit
- I dan II
  - I dan IV
  - II dan III
  - III dan IV

80. Jadual menunjukkan jumlah kos bagi sebuah firma.

Keluaran (unit)	0	2	4	6
Jumlah kos (RM)	80	110	150	180

Hitungkan kos sut untuk mengeluarkan 6 unit keluaran.

- RM15
- RM20
- RM30
- RM75







## KOLEKSI KERTAS SOALAN PERCUBAAN 2020

90. Puan Suraya telah meletakkan jawatannya sebagai pegawai bank yang diberi gaji RM3 000 sebulan dan memulakan perniagaan kedai bakeri dengan wang simpanan di bank RM12 000 dengan kadar faedah 4% setahun. Jumlah hasil perniagaan kedai bakeri dalam tempoh sebulan ialah RM10 000.

Berikut adalah kos-kos yang terlibat dalam tempoh sebulan:

Bahan mentah	RM3000
Gaji pembantu	RM900
Bil elektrik dan air	RM1000

Hitung jumlah untung ekonomi perniagaan kedai bakeri Puan Suraya dalm tempoh sebulan.

- A RM7000  
 B RM5100  
 C RM2100  
 D RM2060
91. Maklumat berikut berkaitan rumus untung.

$$\text{Untung} = (T \times \text{kuantiti}) - S$$

T dan S ialah

- A Jumlah hasil dan kos tetap  
 B Harga dan jumlah kos  
 C Harga dan kos berubah  
 D Jumlah hasil dan kos sut
92. Maklumat berikut berkaitan dengan pengeluaran sebuah firma.

Output	600 unit
Harga jualan seunit	RM12.00
Kos purata	RM7.00

Berapakah untung firma tersebut?

- A RM3 000  
 B RM4 200  
 C RM7 200  
 D RM11 200
93. Apakah kos implisit yang ditanggung oleh pengusaha dalam pengeluaran barang dan perkhidmatan?
- A Bayaran upah buruh  
 B Faedah atas pinjaman bank  
 C Bayaran perkhidmatan pengangkutan  
 D Bayaran sewa atas bangunan milik pengusaha
94. Antara yang berikut, faktor yang manakah akan meningkatkan produktiviti sesebuah organisasi?
- I Prosedur kerja yang fleksibel dan ringkas  
 II Proses membuat keputusan yang rumit  
 III Persekitaran kerja yang sempit dan berbahaya  
 IV Tenaga pekerja yang mahir dan berkebolehan
- A I dan II  
 B I dan IV  
 C II dan III  
 D III dan IV

## KOLEKSI KERTAS SOALAN PERCUBAAN 2020

95. Pilih faktor yang akan membantu meningkatkan tahap produktiviti sesebuah organisasi.
- A Gaya kepimpinan pengurusan yang autokratik
  - B Sistem dan prosedur kerja yang rumit
  - C Persekitaran kerja yang selesa dan kondusif
  - D Penggunaan kelengkapan modal yang membazir

96. Antara berikut, yang manakah menunjukkan peningkatan produktiviti?

	<b>Input</b>	<b>Output</b>
A	Tambah 5%	Kurang 10%
B	Kurang 10%	Kurang 15%
C	Tetap	Kurang 10%
D	Tetap	Tambah 15%

97. Apakah faedah sosial yang akan timbul apabila kerajaan negeri menggalakkan penggunaan lebih banyak basikal di Pulau Pinang?
- A Kos pengangkutan yang lebih tinggi
  - B Kadar pengangguran yang rendah
  - C Kadar kesesakan lalu lintas yang rendah
  - D Kadar pencemaran udara yang lebih tinggi

98. Pernyataan di bawah berkaitan dengan eksternaliti.

Penurunan harga kereta tempatan menyebabkan permintaan kereta meningkat secara mendadak.

Berdasarkan pernyataan diatas, apakah kos sosial yang wujud kesan daripada situasi tersebut?

- A Taraf hidup masyarakat meningkat
  - B Keuntungan syarikat pengedar kereta meningkat
  - C Masalah pencemaran udara semakin meningkat
  - D Pendapatan boleh guna masyarakat meningkat
99. Apakah faedah sosial jika kerajaan membina Pusat Zon Perdagangan Bebas di Padang Besar?
- A Peningkatan pendapatan kerajaan negeri
  - B Peluang pekerjaan yang tinggi
  - C Kos pengangkutan yang murah
  - D Kadar jenayah meningkat
100. Bagaimanakah pelaksanaan cukai oleh kerajaan dapat mengawal selia pengeluar?
- A Mngurangkan modal pengeluar
  - B Mengawal harga barang yang dijual
  - C Mengawal kualiti barang yang dikeluarkan
  - D Mengawal kadar pencemaran dalam pengeluaran

**TINGKATAN 5**

**BAB 1: EKONOMI DAN KERAJAAN**

101. Antara yang berikut, pilih pernyataan yang **tepat** menggambarkan barang awam yang disediakan oleh kerajaan.

- A Alip membeli sebuah motosikal berharga RM 9500
- B Puan Siti Noor menggunakan air mineral yang bersih untuk memasak gulai ikan
- C Ikhwan dimasukkan ke Hospital Sungai Buloh kerana dijangkiti virus Covid-19
- D Tandas di Pusat Red Gym hanya disediakan untuk ahli yang membayar yuran keahlian

102. Pernyataan manakah yang **benar** berkaitan peranan kerajaan?

	<b>Peranan Kerajaan</b>	<b>Matlamat</b>
A	Sebagai pengeluar	Mencipta peluang pekerjaan kepada masyarakat
B	Mencapai objektif pertumbuhan ekonomi	Merencanakan aktiviti pengeluaran dalam negara
C	Mencapai objektif imbalan pembayaran lebihan	Pengaliran keluar wang lebih tinggi daripada pengaliran wang masuk
D	Mengawal selia pengeluaran dan eksternaliti negatif	Memastikan guna tenaga penuh dapat dicapai

103. Indah Water Konsortium Sendirian Berhad di Malaysia dianggap sebagai syarikat monopoli semula jadi kerana

- A dimiliki oleh sektor swasta
- B mengenakan harga yang tinggi
- C disenaraikan di Bursa Malaysia
- D menanggung kos modal yang tinggi

104. Mengapakah pihak kerajaan menyediakan kemudahan asas di desa?

- A Meningkatkan taraf hidup
- B Meningkatkan kadar upah
- C Meningkatkan pendapatan negara
- D Meningkatkan peluang pekerjaan

105. Maklumat yang berikut berkaitan Keluaran Dalam Negara Kasar (KDNK) Malaysia.

<b>Tahun</b>	<b>Keluaran Dalam Negara Kasar (RM Juta)</b>
2015	1 063 355
2016	1 108 227

Apakah objektif makroekonomi tersebut?

- A Kestabilan harga
- B Guna tenaga penuh
- C Pertumbuhan ekonomi
- D Kestabilan imbalan pembayaran

106. Apakah kesan dasar harga maksimum terhadap pengguna?

- A Kebajikan pengguna dapat dijaga
- B Meningkatkan penawaran pengeluaran
- C Memaksimumkan pendapatan kerajaan
- D Memastikan semua rakyat mendapat barang kehendak

## KOLEKSI KERTAS SOALAN PERCUBAAN 2020

107. Peningkatan pertumbuhan ekonomi di Malaysia akan membawa kepada

- I peningkatan infrastruktur fizikal
  - II peningkatan kadar pengangguran
  - III peningkatan bilangan kakitangan awam
  - IV peningkatan taraf pendidikan penduduk
- A I dan II                                  C II dan III  
B I dan IV                                  D III dan IV

108. Manakah yang menyebabkan inflasi tolakan kos?

- A Pertambahan kos bahan api
- B Pengembangan kredit bank perdagangan
- C Peningkatan dalam perbelanjaan kerajaan
- D Peningkatan dalam perbelanjaan penggunaan

109. Situasi manakah yang menyebabkan pengangguran kitaran?

- A Pekerja yang hilang pekerjaan kerana terlalu memilih pekerjaan
- B Pekerja yang meletakkan jawatan untuk mengharap pekerjaan lain
- C Pekerja yang hilang pekerjaan semasa kemelesetan ekonomi
- D Pekerja yang menghadapi kekurangan kemahiran

110. Apakah kesan yang akan berlaku jika kadar inflasi meningkat daripada 1.2% kepada 2.0%?

- I Peluang pekerjaan menurun
  - II Kuasa beli masyarakat meningkat
  - III Pendapatan benar masyarakat menurun
  - IV Nilai wang yang dipegang oleh masyarakat merosot
- A I dan II                                  C II dan III  
B I dan IV                                  D III dan IV

111. Maklumat berikut berkaitan sejenis pengangguran.

Permintaan buruh bagi sesetengah sektor ekonomi mengalami kemerosotan.

Pernyataan yang manakah menggambarkan sebab berlakunya masalah tersebut?

- A Peningkatan dalam gaji pekerja
- B Isi rumah membuat kerja sambilan
- C Terlalu bergantung kepada bidang pertanian
- D Menggantikan penggunaan buruh kepada mesin dalam pengeluaran

112. Maklumat di bawah menunjukkan keadaan sesebuah ekonomi.

Harga input yang digunakan dalam proses pengeluaran produk karipap frozen meningkat sebanyak 7% menyebabkan harga karipap frozen di pasaran juga meningkat sebanyak 10%.

Antara yang berikut, jenis inflasi manakah yang berkaitan?

- A Inflasi bermusim                                  C Inflasi tolakan kos
- B Inflasi diimport                                  D Inflasi tarikan permintaan

## KOLEKSI KERTAS SOALAN PERCUBAAN 2020

113. Apakah ciri-ciri inflasi tarikan permintaan?
- I Kos pengeluaran meningkat
  - II Upah buruh meningkat
  - III Ekonomi mencapai guna tenaga penuh
  - IV Proses penciptaan kredit yang pesat
- A I dan II  
B I dan IV  
C II dan III  
D III dan IV
114. Bekalan wang dalam ekonomi berkurang sekiranya bank pusat
- I Menaikkan kadar faedah
  - II Melonggarkan syarat sewa beli
  - III Membeli surat jaminan kerajaan
  - IV Menaikkan nisbah rizab berkanun
- A I dan II  
B I dan IV  
C II dan III  
D III dan IV
115. Antara yang berikut, tindakan kerajaan yang manakah akan menyebabkan permintaan barang dan perkhidmatan berkurang?
- A Melonggarkan syarat sewa beli
  - B Membeli surat jaminan kerajaan
  - C Menambahkan perbelanjaan kerajaan
  - D Menaikkan kadar faedah
116. Bagaimanakah dasar kewangan mengatasi masalah pengangguran yang tinggi dan lambakan stok dalam ekonomi ?
- I Menurunkan kadar cukai
  - II Menurunkan kadar faedah
  - III Membeli surat jaminan kerajaan
  - IV Menurunkan perbelanjaan kerajaan
- A I dan II  
B I dan IV  
C II dan III  
D III dan IV
117. Dasar fiskal menggalakkan pertumbuhan ekonomi melalui
- I kenaikan cukai
  - II penurunan cukai
  - III pertambahan perbelanjaan kerajaan
  - IV pengurangan perbelanjaan kerajaan
- A I dan II  
B I dan IV  
C II dan III  
D III dan IV
118. Langkah kerajaan menurunkan kadar faedah dalam menangani kelembapan ekonomi akibat Covid-19 telah memberi impak kepada pengguna kerana
- A Kos pinjaman pengguna meningkat
  - B Pengguna akan mengurangkan jumlah pinjaman ke atas barangan mewah
  - C Perbelanjaan pengguna dalam ekonomi meningkat
  - D Pengguna perlu menyediakan lebih wang semasa membuat perbelanjaan
119. Antara yang berikut, yang manakah cukai progresif?
- A Cukai perjudian
  - B Cukai pendapatan individu
  - C Cukai pendapatan syarikat
  - D Cukai barang dan perkhidmatan

## KOLEKSI KERTAS SOALAN PERCUBAAN 2020

120. Dasar fiskal mengembang digunakan oleh kerajaan untuk
- Mengurangkan masalah inflasi
  - Mengurangkan permintaan agregat
  - Menambahkan peluang pekerjaan
  - Menambahkan permintaan wang
121. Manakah yang merujuk kepada perbelanjaan perkhidmatan ekonomi?
- Membina kuarters kediaman kesihatan
  - B** Membina pusat pelabuhan kapal
  - Membina pusat kegiatan guru
  - Membina ibu pejabat polis
122. Antara yang berikut, yang manakah **benar** tentang perbelanjaan mengurus?
- Puan Siti Hajar menerima pencen bulanan sebanyak RM2500
  - Kerajaan membesarkan pelabuhan perikanan di Tok Bali Kelantan
  - Kementerian Pendidikan membina sebuah sekolah menengah di Taiping, Perak
  - Encik Kumar yang bekerja sebagai pegawai polis menerima gaji setiap bulan sebanyak RM3500
- I dan II
  - I dan IV
  - II dan III
  - III dan IV
123. Antara yang berikut, yang manakah hasil bukan cukai?
- Tarif
  - Duti Setem
  - Bayaran denda dan penalti
  - Royalti petroleum
- I dan II
  - I dan IV
  - II dan III
  - III dan IV
124. Pernyataan manakah yang berkaitan dengan cukai langsung?
- Koperasi SMKS Berhad membayar cukai ke atas keuntungannya
  - Syarikat Anda Deebaak Berhad dikenakan cukai jualan dan perkhidmatan
  - Puan Nurul Iman membayar cukai kepada Jabatan Kastam Diraja Malaysia
  - Kedai Runcit Syafiqah dikenakan denda kerana melanggar undang-undang pematuhan SOP
125. Jadual di bawah menunjukkan sebahagian sumber hasil kerajaan pada tahun 2015.

Hasil cukai	RM juta
Cukai pendapatan individu	26 321
Duti eksport	1 039
Duti import	2 732
Cukai pendapatan koperasi	80
Cukai barang dan perkhidmatan	27 012
Cukai pendapatan syarikat	63 679

*(Sumber: Kementerian Kewangan Malaysia, tahun 2017)*

Hitung jumlah hasil cukai tak langsung kerajaan pada tahun tersebut.

- RM 29 773 juta
- RM 30 783 juta
- RM 89 990 juta
- RM 117 092 juta

**TINGKATAN 5**

**BAB 2 : MALAYSIA DAN EKONOMI GLOBAL**

126. Syarikat multinasional merujuk kepada
- A Firma yang terlibat dengan pelbagai aktiviti pengeluaran
  - B Firma yang menggunakan pekerja daripada pelbagai negara
  - C Firma yang beroperasi di beberapa buah negara pada masa yang sama
  - D Firma yang mengeluarkan pelbagai barang dan perkhidmatan di peringkat antarabangsa
127. Bagaimanakah kerajaan menggalakkan globalisasi?
- A Pengecualian visa untuk pelancong negara tertentu
  - B Pelupusan duti import untuk semua barang import
  - C Pengecualian levi untuk pekerja asing di Malaysia
  - D Pelupusan duti setem untuk rakyat asing yang membeli hartanah di Malaysia
128. Manakah yang merupakan kepentingan perdagangan antarabangsa?
- A Menimbulkan lambakan
  - B Mengurangkan mobiliti tenaga buruh
  - C Meneruskan kebergantungan terhadap sektor eksport
  - D Menggalakkan pemindahan dan penggunaan teknologi
129. Syarikat Multinasional Amerika Syarikat yang mengeluarkan peralatan komunikasi berpindah dari Malaysia ke China.
- Apakah faktor yang mendorong firma tersebut berpindah operasinya?
- I Tenaga buruh yang lebih banyak di China
  - II Saiz pasaran yang lebih luas di China
  - III Upah yang lebih rendah di Malaysia
  - IV Kecekapan kemudahan asas di Malaysia
- A I dan II
  - B I dan IV
  - C II dan III
  - D III dan IV
130. Apakah faktor yang menggalakkan globalisasi?
- I Menambahkan syarat permohonan visa
  - II Kemajuan internet dan ekonomi digital
  - III Rangkaian pengangkutan yang cekap
  - IV Sekatan perdagangan antarabangsa
- A I dan II
  - B I dan IV
  - C II dan III
  - D III dan IV
131. Maklumat yang berikut berkaitan dengan sebab wujudnya perdagangan antarabangsa.

New Zealand mengeluarkan dan mengeksport buah anggur ke Malaysia.

Apakah faktor tersebut?

- A Harga faktor
- B Iklim dan tanah
- C Sumber semulajadi
- D Tingkat kecekapan pengeluaran

## KOLEKSI KERTAS SOALAN PERCUBAAN 2020

132. Kesatuan Eropah (EU) merupakan blok ekonomi yang jumlah nilai urus niaganya adalah paling tinggi di dunia. Antara berikut, yang manakah objektif penubuhan Kesatuan Eropah?
- A Menghapuskan duti kastam untuk semua negara anggota
  - B Menyelaraskan dasar kewangan dan dasar fiskal negara luar
  - C Menggalakkan perkembangan aktiviti ekonomi antara negara luar
  - D Memberi kebebasan pengaliran modal dalam kalangan negara luar
133. Penglibatan sesebuah negara dalam blok ekonomi atau perjanjian perdagangan akan mempengaruhi ekonomi dalam negara. Antara berikut yang manakah memberikan keburukan kepada ekonomi dan sosial negara?
- A Menggalakkan pemindahan teknologi dan kepakaran
  - B Peluasan pasaran
  - C Corak penjajahan baharu ekonomi
  - D Perkongsian sumber tenaga dan bahan mentah
134. Apakah risiko yang dihadapi oleh syarikat multinasional?
- A Peningkatan modal insan
  - B Peningkatan eksternaliti negatif
  - C Kesukaran menghantar balik keuntungan
  - D Pembangunan dalam infrastruktur digital
135. Apakah kesan negatif daripada wujudnya pelaburan asing di Malaysia?
- A Negara yang menerima pelaburan asing senang mengawal aliran keluar untung
  - B Syarikat-syarikat gergasi akan menguasai sektor-sektor yang menguntungkan
  - C Penerokaan dan pengeluaran sumber alam yang boleh dikawal
  - D Imbangan pembayaran memberi kesan positif
136. Kuota memberi kebaikan kepada negara kerana dapat
- A meningkatkan pendapatan negara
  - B mempelbagaikan pilihan barangan kepada pengguna
  - C menggalakkan persaingan yang sihat
  - D memperbaiki imbangan pembayaran
137. Apakah tujuan kerajaan melaksanakan sekatan bukan ekonomi dalam perdagangan antarabangsa?
- A Menjamin keselamatan dan kesihatan rakyat Malaysia
  - B Sumber hasil negara
  - C Mengehadkan pembelian pertukaran asing
  - D Menggalakkan perkembangan industri penggantian import negara
138. Maklumat berikut berkaitan dengan dua jenis cukai yang dikenakan oleh kerajaan.

- ✓ Tarif spesifik sebanyak RM300 dikenakan ke atas setiap unit mesin pemotong daging yang diimport.
- ✓ Tarif ad valorem sebanyak 10% dikenakan ke atas kasut sukan yang diimport.

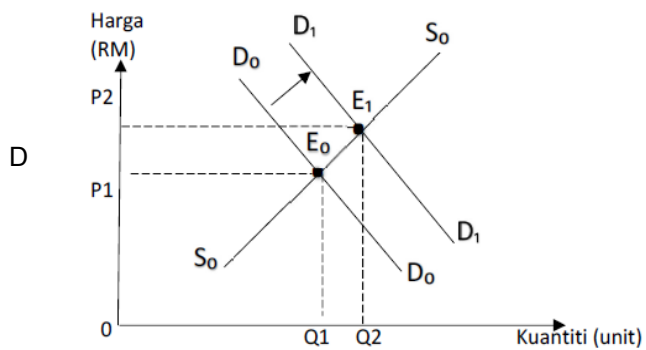
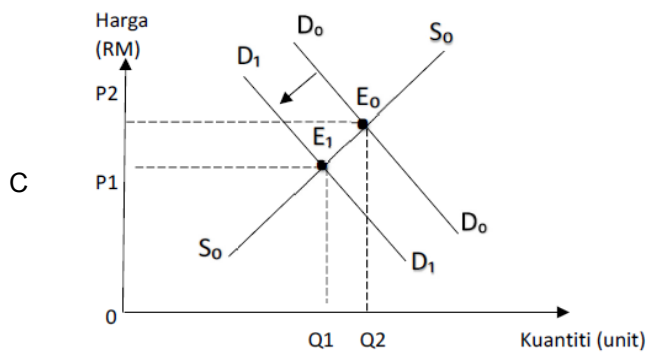
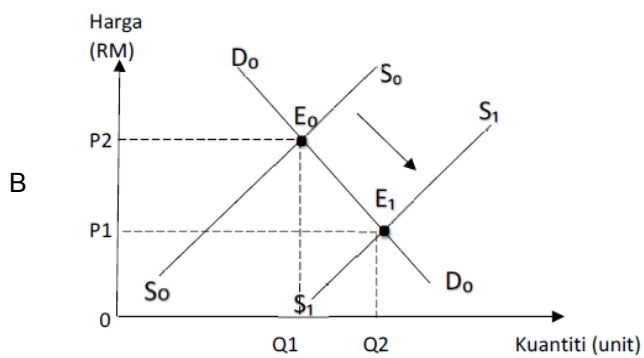
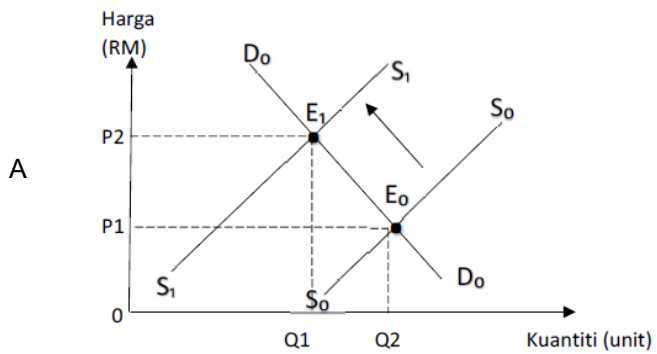
Antara yang berikut, yang manakah tujuan cukai tersebut dikenakan?

- I Melindungi industri muda tempatan
  - II Meningkatkan kecekapan pengeluaran
  - III Menggalakkan pemindahan teknologi
  - IV Meningkatkan sumber hasil kerajaan
- A I dan II
  - B I dan IV
  - C II dan III
  - D III dan IV



KOLEKSI KERTAS SOALAN PERCUBAAN 2020

139. Antara berikut, yang manakah menunjukkan kesan pelaksanaan kuota terhadap perdagangan antarabangsa?



## KOLEKSI KERTAS SOALAN PERCUBAAN 2020

140. Antara yang berikut, manakah yang menerangkan tentang akaun perkhidmatan?

- I Nilai import barang tak nampak
  - II Nilai import barang nampak
  - III Nilai eksport barang nampak
  - IV Nilai eksport barang tak nampak
- A I dan II    C II dan III  
 B I dan IV     D III dan IV

141. Situasi manakah merupakan komposisi eksport tak nampak Malaysia?

- A Syarikat NRS menghantar pekerjaanya berkursus dalam bidang elektrik di Jepun
- B Encik Albert dari United Kongdom membeli tiket untuk menonton perlumbaan kereta Formula One (F1) di Litar Antarabangsa Sepang
- C Syarikat TR Travel dari bandar Klang menyewa syarikat penerbangan Kuwait untuk membawa rombongan umrah ke Arab Saudi
- D Encik Ismail sekeluarga melancong sambil menonton pertandingan bola sepak piala dunia di Brazil

142. Situasi manakah yang direkod dalam Akaun Perkhidmatan?

- A Firma Bersatu Berhad mengeksport buah-buahan segar ke Timur Tengah
- B Pelabur Malaysia meningkatkan pelaburan dalam sektor pembinaan di India
- C Pasukan bola sepak Terengganu menggunakan khidmat jurulatih dari England
- D Kerajaan Malaysia memberi sumbangan kewangan kepada mangsa gempa bumi di Pakistan

143. Maklumat berikut berkaitan dengan perdagangan antarabangsa Malaysia.

Petronas menyewa kapal tangki Jepun untuk mengeksport petroleum ke Korea Selatan

Pasangan manakah yang betul?

	Eksport	Import
A	Eksport barang nampak	Import barang tak nampak
B	Eksport barang tak nampak	Import barang nampak
C	Eksport barang nampak	Import barang nampak
D	Eksport barang tak nampak	Import barang tak nampak

144. Situasi yang manakah dapat memperbaiki imbalan pembayaran Malaysia?

- A Atlet negara menyertai Temasya Sukan Sea di Thailand
- B Pekerja Malaysia di Singapura mengirim wang ke Malaysia
- C Firma Malaysia membuat pelaburan dalam bidang hartanah di Malaysia
- D Jabatan Perkhidmatan Awam Malaysia membiayai pelajar melanjutkan pelajaran ke luar negara

145. Situasi manakah yang menyebabkan berlaku permintaan ke atas Ringgit Malaysia?

- I Kemasukan pelaburan Australia ke Malaysia
  - II Jepun membeli petroleum mentah dari Malaysia
  - III Syarikat Malaysia melabur di China
  - IV Malaysia memberi bantuan kemanusiaan kepada pelarian Palestin
- A I dan II    C II dan III  
 B I dan IV     D III dan IV

## KOLEKSI KERTAS SOALAN PERCUBAAN 2020

146. Situasi manakah yang akan menyebabkan imbalan perkhidmatan menjadi bertambah baik?
- Persatuan Badminton Malaysia mengambil lebih ramai jurulatih dari luar negara
  - Syarikat pelancongan tempatan menggunakan kapal terbang Qatar untuk lawatan ke Abu Dhabi
  - Ramai pesakit dari Indonesia menggunakan pusat kesihatan di Pulau Pinang
  - Syarikat pengeksport Malaysia mengambil insurans perkapalan dari Jepun

147. Jadual di bawah menunjukkan imbalan dagangan Malaysia bagi tempoh empat tahun.

Tahun	Eksport (RM Juta)	Import (RM Juta)	Imbalan Dagangan (RM Juta)
2016	9.1	8.4	0.7
2017	0.8	5.5	- 4.7
2018	2.3	6.5	- 4.2
2019	8.4	6.7	1.7

Pernyataan manakah yang **betul** tentang jadual di atas?

- Eksport meningkat dari tahun 2017 hingga 2019
  - Nilai import melebihi nilai eksport pada tahun 2019
  - Berlaku imbalan dagangan lebihan pada tahun 2018
  - Import perlu ditambah pada tahun 2016 untuk memperbaiki keadaan
148. Jadual di bawah menunjukkan kadar pertukaran antara Ringgit Malaysia dengan negara asing.

Mata Wang	Harga Belian (RM)	Harga Jualan (RM)
1 Euro	4.9258	4.9795

Seorang pelancong dari Itali ingin menukarkan 400 Euro kepada Ringgit Malaysia. Berapakah Ringgit Malaysia yang diterima olehnya?

- RM1315.88
  - RM1596.00
  - RM1991.80
  - RM1970.32
149. Apakah faktor yang menyebabkan kejatuhan permintaan terhadap Ringgit Malaysia?
- Kenaikan kadar faedah dalam Malaysia
  - Pertambahan dalam jumlah eksport negara Malaysia
  - Nilai Ringgit Malaysia dijangka meningkat pada masa hadapan
  - Kegemaran rakyat Malaysia membeli barang buatan tempatan

150. Maklumat di bawah menunjukkan kadar pertukaran antara Ringgit Malaysia (RM) dengan Dollar Singapura (SGD).

RM 1.00 = SGD 0.40
--------------------

Berapakah nilai dalam Ringgit Malaysia jika seorang pelajar membeli sebuah buku berharga SGD120 melalui sebuah portal atas talian?

- RM200
- RM255
- RM265
- RM300