



KEMENTERIAN PENDIDIKAN MALAYSIA  
JABATAN PENDIDIKAN NEGERI SABAH

**SABAH  
HEBAT!**

Katakan Tidak Kepada No 16

# MODUL 360°

# EKONOMI TINGKATAN 5

| Guru Ekonomi Negeri Sabah | 2020 |

**SEKAPUR SIRIH SEULAS PINANG**

**Yang Berbahagia Datuk Dr. Mistirine Radin**  
**Pengarah Pendidikan Negeri Sabah**

Salam sejahtera kepada semua warga pendidikan dan calon SPM di negeri Sabah.

Sabah Hebat!  
Katakan Tidak Kepada Nombor 16.



Tahun 2020 merupakan tahun yang mencabar bagi warga pendidikan di Malaysia dan dunia amnya. Wabak Pandemik Covid 19 telah membawa perubahan ketara dalam sistem pembelajaran negara. Sesi persekolahan terpaksa ditangguhkan selama hampir 3 bulan. Oleh yang demikian, pihak Jabatan Pendidikan Negeri Sabah telah mencadangkan penghasilan modul pembelajaran yang dapat membantu murid terutamanya calon SPM 2020.

Bersyukur kita kepada Tuhan kerana dengan keizinan dan limpah-Nya, modul pembelajaran SPM berjaya dihasilkan. Panel penulis modul ini adalah terdiri daripada Guru Cemerlang, Pemeriksa Kertas SPM, Pegawai JPN Sabah, Sektor Pembelajaran, Pegawai SISC+ dan Ketua Bidang. Adalah diharapkan warga pendidik dan calon SPM di negeri Sabah dapat memanfaatkan modul-modul tersebut dalam PdP dan mampu memberi impak kepada murid untuk melakar keputusan cemerlang dalam SPM tahun ini.

Oleh itu, saya merakamkan sekalung penghargaan terima kasih dan tahniah kepada Sektor Pembelajaran, Jabatan Pendidikan Negeri Sabah dan semua panel pembina modul SPM atas komitmen dan usaha jitu dalam terhasilnya modul pembelajaran ini.

Akhir kata, saya mendoakan kesejahteraan buat semua warga pendidikan serta terus bersama-sama menjayakan agenda pendidikan Negara demi melahirkan generasi masyarakat Malaysia yang cemerlang dan gemilang.

Sekian. Selamat Maju Jaya.

## SEULAS KATA SETINTA BICARA

**Tuan Haji Abidin bin Marjan**  
**Timbalan Pengarah,**  
**Sektor Pembelajaran,**  
**Jabatan Pendidikan Negeri Sabah**



Assalamualaikum Warahmatullahi Wabaraktuh dan salam sejahtera.

Salam Sabah Hebat!  
 Katakan Tidak Kepada Nombor 16.

Bersyukur ke hadrat Ilahi kerana dengan izin-Nya, kita diberikan kekuatan dan kesihatan untuk menggalas tanggungjawab hakiki dengan penuh dedikasi. Alhamdulillah modul pembelajaran SPM dapat dizahirkan.

Ucapan setinggi-tinggi tahniah dan sekalung penghargaan kepada Jawatan kuasa Sektor Pembelajaran, Jabatan Pendidikan Negeri Sabah dan semua pembina modul yang telah bertungkus lumus untuk menyiapkan modul ini.

Besarlaha harapan saya agar warga pendidik diamanahkan sebagai pembentuk bangsa dan agama.

Setiap guru perlu ada “jiwa pendidik atau roh guru”. Guru bukanlah hanya menghabiskan sukatan dan rancangan mengajar semata-mata tetapi perlu mendidik dan membentuk jati diri murid tanpa rasa jemu. Hal ini selaras dengan Pelan Pembangunan Pendidikan Malaysia (PPPM) dalam tahun akhir Gelombang Ke-2(2016-2020) yang mengharapka murid berupaya bersaing pada peringkat global melalui 6 aspirasi murid.

Seiring dengan itu, adalah diharapkan warga pendidik mempelbagaikan teknik mengajar agar PdP lebih cemerlang dan berkesan serta memanfaatkan modul ini sebagai bahan latih tubi berfokus menjelang peperiksaan SPM pada tahun ini.

Akhir bicara, syabas dan tahniah kepada seluruh warga kerja dan panel penulis modul atas kegigihan dan kesungguhan sehingga terhasilnya buah tangan ini. Tiada yang lebih bermakna buat kita sebagai guru melihat anak didik kita berjaya dalam semua aspek yang diceburi. Jangan biarkan air mata kegagalan dalam diri murid kita tetapi siramilah mereka dengan air mata kejayaan.

Ayuh ! warga guru kita bangkit sederap, senada seirama melonjatkan prestasi murid dan mencapai kualiti kecemerlangan SPM 2020 Negeri Sabah.

Sekian. Terima Kasih.

## PENGHARGAAN

Alhamdulillah dengan izin-Nya, Modul Ekonomi Negeri Sabah akhirnya dapat diterbitkan . Penerbitan modul ini melibatkan banyak pengorbanan masa dan tenaga. Sekalung penghargaan kepada semua pihak yang terlibat :

1. Yang Berbahagia Datuk Dr. Mistirine Radin  
Pengarah Pendidikan Negeri Sabah
2. Tuan Haji Abidin bin Marjan  
Timbalan Pengarah,  
Sektor Pembelajaran,  
Jabatan Pendidikan Negeri Sabah
3. Tuan Zagina @ Sulaiman Bin Achmad  
Ketua Penolong Pengarah  
Unit TVET  
Sektor Pembelajaran  
Jabatan Pendidikan Negeri Sabah
4. Samsuddin Bin Ijum  
SMK Tawau
5. Masni Binti Tanra  
SMK Tawau
6. Marlina Binti Ismail  
SMK Tansau Penampang
7. Kamariah Binti Liashin  
SMK Tansau Penampang
8. Mohd. Ridzuan Bin Md. Shariff  
SMKA Tun Said Kota Belud
9. Kung Yen Fung  
SMK Agaseh Lahad Datu
10. Sapariah Binti Muhammad  
SMK Pasir Putih Tawau
11. Sabaruddin Bin Japar  
SM Islamiah Tawau

## **KANDUNGAN MATA PELAJARAN EKONOMI TINGKATAN 5**

### **5.0 Ekonomi dan Kerajaan**

#### **Standard Kandungan**

5.1 Peranan Kerajaan dalam Ekonomi

5.2 Penunjuk Ekonomi

5.3 Alat Dasar Ekonomi

### **6.0 Malaysia dan Ekonomi Global**

#### **Standard Kandungan**

6.1 Globalisasi

6.2 Perdagangan Antarabangsa

6.3 Imbangan Pembayaran

6.4 Kadar Pertukaran Asing

## GARIS PANDUAN MODUL

1. Pelajar wajib menguasai konsep ekonomi untuk memudahkan pelajar menjawab soalan Objektif dan soalan bahagian A.
2. Soalan Objektif adalah wajib untuk dikuasai oleh pelajar .
3. Soalan Objektif pastikan pelajar mendapat 30 markah ke atas daripada 40 soalan.
4. Bahagian A soalan Esei kebanyakan daripada soalan konsep ekonomi berbanding soalan KBAT.
5. Bahagian A soalan Esei pastikan pelajar mendapat 30 markah ke atas daripada 60 markah.
6. Bahagian B soalan Esei terdiri daripada soalan KBAT yang banyak membantu pelajar jika dikuasai dengan memberikan latihan yang berterusan.
7. Formula mudah untuk mendapat kepujian dalam ekonomi SPM
  - Pastikan soalan Objektif mendapat 30 markah ke atas.
  - Soalan Esei mendapat 40% markah daripada 100% markah.
8. Formula mudah untuk mendapat Gred A dalam ekonomi SPM
  - Pastikan soalan Objektif mendapat 30 markah ke atas.
  - Soalan Esei mendapat 60% markah daripada 100% markah.
9. Latihan yang berterusan dan komitmen semua guru pasti akan membawa kejayaan kepada para pelajar dalam Ekonomi SPM.

Ekonomi dan Kerajaan

# Bab Lima



## **5.1 PENGUKUHAN KONSEP**

1. Senaraikan 4 peranan kerajaan

- a- \_\_\_\_\_
- b- \_\_\_\_\_
- c- \_\_\_\_\_
- d- \_\_\_\_\_

2. Matlamat kerajaan mengawal monopoli semulajadi

- a- \_\_\_\_\_
- b- \_\_\_\_\_
- c- \_\_\_\_\_

3. Empat ciri pasaran monopoli semulajadi kerajaan

- a- \_\_\_\_\_
- b- \_\_\_\_\_
- c- \_\_\_\_\_
- d- \_\_\_\_\_

4. Objektif makroekonomi terdiri daripada \_\_\_\_\_ ,  
\_\_\_\_\_, \_\_\_\_\_ dan \_\_\_\_\_

5. Nyatakan tindakan kerajaan mengawal selia eksploitasi pengguna

- a- \_\_\_\_\_
- b- \_\_\_\_\_
- c- \_\_\_\_\_
- d- \_\_\_\_\_
- e- \_\_\_\_\_



6. Nyatakan jenis inflasi bagi punca-punca berikut

Punca	Jenis Inflasi
Kejatuhan nilai mata wang tempatan dan berlaku inflasi di negara pengimport	
Kos buruh naik	
Penawaran wang bertambah dan tingkat pendapatan naik	

7. Nyatakan jenis pengangguran berdasarkan pernyataan yang diberi.

Pernyataan	Jenis Pengangguran
Perubahan permintaan terhadap suatu kemahiran	
Peningkatan penggunaan automasi dalam sektor pembuatan	
Beratus-ratus graduan setiap tahun bersaing untuk mendapat pekerjaan yang terhad	
Jepun mengalami pengurangan pendapatan negara selama dua tahun	

8. Perbezaan dasar fiskal dan fiskal menguncup

Dasar fiskal mengembang	Perbezaan	Dasar fiskal menguncup
	Maksud	
	Tujuan	
	Masalah ekonomi diatasi	

9. Berdasarkan pernyataan di bawah ini, kenal pasti jenis cukai langsung

a- Encik Misbun perlu membayar cukai apabila menandatangani surat perjanjian pembelian rumah

\_\_\_\_\_

b- Syarikat Asdi berhad membayar cukai sebanyak 19% daripada keuntungannya kepada kerajaan

\_\_\_\_\_

c- Syarikat Shell membayar 38 % daripada jumlah pendapatannya

\_\_\_\_\_

d- Puan Aisyah membayar cukai untuk membolehkan pihak berkuasa tempatan membiayai kemudahan di tamannya.

\_\_\_\_\_

10. Nyatakan jenis dan bentuk cukai yang berikut

Komponen	Jenis Cukai	Bentuk Cukai
Cukai Pendapatan individu		
Cukai Jualan dan Perkhidmatan		
Cukai Pendapatan Petroleum		
Duti Eksais		

11. Kenal pasti bentuk cukai tersebut

a- Semakin tinggi pendapatan, semakin rendah kadar cukai

(\_\_\_\_\_)

b- Semakin tinggi pendapatan, semakin tinggi kadar cukai

(\_\_\_\_\_)

c- Semakin tinggi pendapatan, kadar cukai adalah tetap

(\_\_\_\_\_)

## 12. Perbezaan Perbelanjaan mengurus dan perbelanjaan pembangunan

Perbelanjaan Mengurus	Perbezaan	Perbelanjaan pembangunan
	Maksud	
	Jangka masa	
	Tujuan	
	Contoh	

## 13. Padankan mengikut perbelanjaan pembangunan yang sesuai



i- Diberikan oleh kerajaan untuk membantu firma kurangkan kos pengeluaran dan harga barang akan turun.

\_\_\_\_\_

ii- Bayaran sekali sahaja kepada kakitangan awam yang telah tamat perkhidmatan dan diberikan bayaran bulanan separuh daripada jumlah gaji.

\_\_\_\_\_

iii- Bayaran gaji atau upah.

\_\_\_\_\_

iv- Penyelenggaraan dan pembaikan harta jabatan kerajaan

\_\_\_\_\_

v- Bayaran faedah dan bayaran balik pokok kerana membuat pinjaman

\_\_\_\_\_

vi- Bantuan pakej rangsangan ekonomi sempena covid

\_\_\_\_\_

vii- Digunakan untuk membiayai kerja penyelenggaraan jalan raya

\_\_\_\_\_

14. Senaraikan 3 jenis belanjawan iaitu belanjawan \_\_\_\_\_, \_\_\_\_\_ dan \_\_\_\_\_

15. Lengkapkan jadual tersebut

Belanjawan lebihan	Ciri-ciri	Belanjawan Defisit
	Mengatasi Masalah	
	Perbelanjaan Kerajaan	
	Kadar Cukai	

16. Kesan tindakan dasar tersebut terhadap ekonomi

Menambahkan Perbelanjaan	Kesan	Mengurangkan Pebelanjaan
	Pertumbuhan ekonomi	
	Peluang Pekerjaan	
	Kadar Pengangguran	
	Pendapatan Masyarakat	
	Permintaan Barang Masyarakat	
	Dapat selesaikan masalah ekonomi	

17. Kesan tindakan dasar tersebut terhadap ekonomi

Menurunkan Kadar Cukai	Kesan	Menaikkan Kadar Cukai
	Pendapatan Boleh Guna	
	Kuasa beli	
	Permintaan Barang Masyarakat	
	Harga Barang	
	Pertumbuhan ekonomi	
	Dapat selesaikan masalah ekonomi	

18. Lengkapkan jadual dasar kewangan berikut

Dasar Kewangan Mengembang	Ciri ciri	Dasar Kewangan Menguncup
	Matlamat Dasar	
	Menyelesaikan Masalah ekonomi?	
	Penawaran wang	
	Aktiviti Pengeluaran Barang	
	Kesan Pertumbuhan ekonomi	
	Peluang Pekerjaan	
	Kadar Pengangguran	
	Pendapatan masyarakat	
	Kuasa beli masyarakat	
	Permintaan agregat	

19. Alat dasar kewangan yang dilaksanakan oleh \_\_\_\_\_ terdiri daripada :

- a- \_\_\_\_\_
- b- \_\_\_\_\_
- c- \_\_\_\_\_
- d- \_\_\_\_\_
- e- \_\_\_\_\_

20. Rizab tunai simpanan wajib disimpan di bank \_\_\_\_\_

21. Rizab kanun simpanan wajib disimpan di bank \_\_\_\_\_

22. Surat jaminan kerajaan adalah surat bertulis yang dikeluarkan oleh \_\_\_\_\_ untuk memperoleh \_\_\_\_\_ daripada masyarakat atau institusi kewangan.

23. Kadar faedah adalah \_\_\_\_\_ yang ditanggung oleh \_\_\_\_\_ semasa membuat pinjaman.

24. Menjual surat jaminan, bermakna kerajaan \_\_\_\_\_ kepada orang ramai.

25. Membeli surat jaminan, bermakna kerajaan \_\_\_\_\_ kepada orang ramai.

26. Perbandingan Rizab Tunai dan Rizab Berkanun

Rizab Berkanun/ Rizab Tunai dinaikkan	Ciri Ciri	Rizab Berkanun/ Rizab tunai diturunkan
	Keupayaan memberi pinjaman	
	Bekalan wang	
	Kuasa beli masyarakat	
	Tingkat harga barang	
	Digunakan semasa ekonomi?	

27. Lengkapkan jadual berikut dengan tindakan yang perlu dilakukan.

Keadaan	Inflasi	Deflasi/Kemelesetan
Rizab Berkanun		
Rizab Tunai		
Syarat Sewa Beli		
Surat Jaminan		
Kadar Faedah		

28. Lengkapkan Jadual berikut

Syarat Sewa Beli Diketatkan	Kesan	Syarat Sewa Beli Dilonggarkan
	Deposit Pinjaman	
	Tempoh Bayaran Balik	
	Kadar Faedah	
	Permintaan barang	
	Harga barang	
	Selesaikan masalah ekonomi?	

29. Lengkapkan jadual berikut

Menjual Surat Jaminan	Kesan	Membeli surat jaminan
	Tindakan orang ramai @ institusi kewangan	
	Aliran wang tunai	
	Keupayaan Bank Perdagangan memberi Pinjaman	
	Bekalan wang	
	Kuasa beli masyarakat	
	Tingkat Harga Barang	
	Sesuaikan selesaikan keadaan ekonomi?	

30. Sesuaikan keadaan tindakan tersebut kepada keadaan ekonomi.

Kadar Faedah Dinaikkan	Kesan	Kadar Faedah diturunkan
	Kos pinjaman	
	Beban hutang peminjam	
	Jumlah pinjaman	
	Bekalan wang	
	Kuasa beli masyarakat	
	Tingkat harga barang	
	Digunakan untuk keadaan ekonomi?	

31. Kadar faedah terapung \_\_\_\_\_ mengikut kadar rujukan sepanjang tempoh pinjaman manakala kadar faedah tetap \_\_\_\_\_ sepanjang tempoh pinjaman.

32. Kesan Alat Dasar Fiskal iaitu kadar cukai dan perbelanjaan Kerajaan terhadap objektif makroekonomi negara

Objektif Makroekonomi	1. Cukai Dinaikkan 2. Perbelanjaan Kurang	1. Cukai Diturunkan 2. Perbelanjaan bertambah
Guna tenaga		
Kestabilan Harga		
Pertumbuhan ekonomi		
Kestabilan imbangan pembayaran		



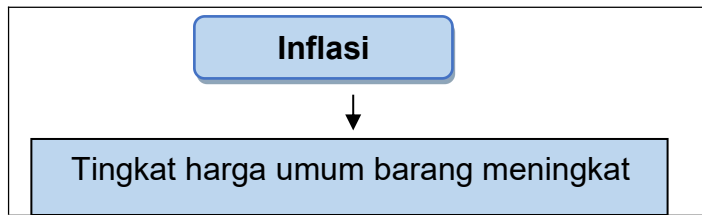
## 33. Kesan Alat Dasar Kewangan terhadap objektif makroekonomi negara

Objektif Makroekonomi	Rizab tunai turun Rizab berkanun turun Syarat sewa beli longgar Membeli surat jaminan	Rizab tunai naik Rizab berkanun naik Syarat sewa beli ketat Menjual surat jaminan
Guna tenaga		
Kestabilan harga		
Pertumbuhan ekonomi		
Kestabilanimbangan pembayaran		

## **5.2 SOALAN OBJEKTIF**

1. Apakah jenis barang yang dikeluarkan oleh kerajaan?
  - I Barang awam
  - II Barang sosial
  - III Barang ekonomi
  - IV Barang percuma
  - A I dan II
  - B I dan III
  - C II dan III
  - D III dan IV
  
2. Apakah kepentingan kerajaan dalam majikan?
  - A Menjana pendapatan
  - B Mengekang masyarakat
  - C Mengeluarkan barang sosial
  - D Mengehendkan bilangan penjawat awam
  
3. Guna tenaga penuh boleh dianggap sebagai
  - A taraf hidup menurun
  - B jumlah keluaran menurun
  - C kegiatan ekonomi berkurang
  - D tenaga buruh adalah maksimum

4. Maklumat di bawah berkaitan dengan kesan inflasi.



Apakah kesan lain akibat daripada inflasi ekonomi?

- I Firma mengalami kerugian
  - II Pengangguran meningkat
  - III Kos sara hidup meningkat
  - IV Kuasa beli menurun
- A I dan II  
 B I dan III  
 C II dan III  
 D III dan IV
5. Pertumbuhan ekonomi akan memberi kesan yang berikut, **kecuali**
- A pengurangan kuasa beli
  - B peningkatan guna tenaga
  - C kadar pengangguran menurun
  - D pertambahan peluang pekerjaan
6. Apakah tujuan kerajaan memberi subsidi?
- A Mengawal harga barang
  - B Meningkatkan kos pengeluaran
  - C Menampung pengeluaran modal
  - D Menggalakkan pengangguran maksimum
7. Apakah peranan kerajaan dalam mencapai objektif pertumbuhan ekonomi?
- A Mengawal kuasa pasaran
  - B Mengawal aliran wang negara
  - C Menguatkuasakan undang-undang dan peraturan
  - D Penyediaan kemudahan dan infrastruktur yang serba lengkap

8. Apakah faktor berlakunya inflasi tarikan permintaan?

- I Peningkatan harga barang import
  - II Peningkatan faktor pengeluaran
  - III Peningkatan tingkat pendapatan
  - IV Peningkatan penawaran wang
- A I dan II
  - B I dan III
  - C II dan III
  - D III dan IV

9. Apakah kesan inflasi terhadap eksport negara?

- A Pendapatan negara meningkat
- B Barangan eksport akan lebih murah
- C Permintaan barangan tempatan berkurangan
- D Barangan eksport dapat bersaing di pasaran

10. Berikut merupakan suatu situasi.

**Kadar Pengangguran bawah 4%**

Apakah yang dapat dikaitkan dengan situasi tersebut?

- A Guna tenaga seimbang
- B Guna tenaga kurangan
- C Guna tenaga lebihan
- D Guna tenaga penuh

11. Pengangguran kitaran merujuk kepada

- I ekonomi adalah stabil
  - II pengurangan pengeluaran
  - III firma meneruskan pengoperasian
  - IV buruh kehilangan pekerjaan
- A I dan II
  - B I dan III
  - C II dan IV
  - D III dan IV

12. Antara yang berikut, manakah kesan pengangguran terhadap sosial?
- I kehilangan kemahiran
  - II aktiviti eksport terjejas
  - III perbalahan dalam keluarga
  - IV pendapatan negara meningkat
- A I dan II
  - B I dan III
  - C II dan IV
  - D III dan IV
13. Apakah peranan kerajaan dalam mencapai objektif pertumbuhan ekonomi?
- A Mengawal aliran wang negara
  - B Menyediakan barang awam dan barang sosial
  - C Menguatkuasakan undang-undang dan peraturan
  - D Menyediakan kemudahan dan infrastruktur yang lengkap
14. Negara yang mempunyai guna tenaga yang tinggi
- A akan mengurangkan kadar inflasi
  - B mampu mencapai imbalan pembayaran seimbang
  - C berkeupayaan mencapai pertumbuhan ekonomi yang stabil
  - D mampu meningkatkan kuantiti barang dan perkhidmatan
15. Indeks harga pengguna (IHP) mengukur
- A perubahan tingkat harga umum dalam tempoh tertentu
  - B perubahan kuasa beli pengguna dalam tempoh tertentu
  - C harga purata sekumpulan barang dan perkhidmatan untuk tempoh tertentu
  - D harga sekumpulan barang yang digunakan oleh pengguna untuk tempoh setahun

16. Pernyataan di bawah berkaitan dengan indeks harga pengguna di Malaysia.

**Indeks harga pengguna (IHP) Malaysia pada tahun 2017 ialah 118.5 berbanding dengan 115.3 pada tahun 2016.**

Hitungkan kadar inflasi pada tahun 2017.

- A 2.53
- B 2.70
- C 2.78
- D 2.93

17. Sesebuah negara dianggap sudah mencapai guna tenaga penuh jika kadar pengangguran

- A kurang daripada 5%
- B kurang daripada 4%
- C antara 3% hingga 5%
- D antara 5% hingga 7%

18. Penurunan kadar pengangguran akan menyebabkan

- A kenaikan kadar upah buruh
- B peningkatan masalah sosial
- C pengurangan sumber kerajaan
- D ketidakcekapan dalam pengeluaran

19. Inflasi memberi kesan terhadap aspek berikut, **kecuali**

- A eksport
- B simpanan
- C pendapatan
- D syarat sewa beli

20. Inflasi akan mengurangkan tabungan masyarakat. Pernyataan manakah yang tepat berdasarkan pernyataan tersebut.

- A Terpaksa mengeluarkan simpanan
- B Peningkatan nilai mata wang negara
- C Kerugian dalam perniagaan
- D Menggalakkan simpanan

21. Apakah kesan inflasi terhadap eksport negara?

- A Hasil negara meningkat
- B Barang eksport menjadi lebih murah
- C Permintaan barang tempatan berkurang
- D Barang eksport dapat bersaing di pasaran luar

22. Berdasarkan maklumat berikut, **R** ialah

$$\text{Pengangguran} + \text{Guna tenaga} = \mathbf{R}$$

- A tenaga buruh
- B tenaga pekerja
- C sumber ekonomi
- D guna tenaga penuh

23. Faktor yang akan menyebabkan berlakunya inflasi tarikan adalah

- I peningkatan harga barang import
  - II peningkatan faktor pengeluaran
  - III peningkatan tingkat pendapatan
  - IV peningkatan penawaran wang
- A I dan II
  - B I dan III
  - C II dan IV
  - D III dan IV

24. Maklumat dibawah berkaitan dengan satu program yang dilaksanakan oleh pihak kerajaan Malaysia



Program tersebut dapat mengurangkan

- A pengangguran kitaran dan pengangguran geseran
- B pengangguran kitaran dan pengangguran bermusim
- C pengangguran geseran dan pengangguran berstruktur
- D pengangguran bermusim dan pengangguran berstruktur

25. Taraf hidup penduduk sesebuah negara dapat diukur berdasarkan

- A jumlah penduduk
- B pendapatan perkapita penduduk
- C jumlah pendapatan bulanan penduduk
- D bilangan firma yang beroperasi dalam ekonomi

26. Bagaimanakah kemajuan teknologi dapat membantu pertumbuhan ekonomi negara?

- A Meningkatkan modal negara
- B Meningkatkan kecekapan pengeluaran
- C meningkatkan penggunaan guna tenaga
- D Meningkatkan penggunaan sumber tempatan



27. Bagaimanakah pertumbuhan ekonomi mempengaruhi taraf pendidikan masyarakat?

- I Peningkatan firma pengeluaran
  - II Penyediaan institusi pendidikan
  - III Perkembangan badan bukan kerajaan
  - IV Peningkatan kemahiran dan pengetahuan
- A I dan II
  - B I dan III
  - C II dan IV
  - D III dan IV

28. Apakah tujuan kerajaan melaksanakan dasar fiskal?

- A Pengangguran yang positif
- B Kestabilan ekonomi dicapai
- C Jurang pendapatan dirapatkan
- D Menambah jumlah barang eksport

29. Sumber pendapatan kerajaan terdiri daripada

- I Levi
  - II Duti eksport
  - III Royalti petroleum
  - IV Bayaran denda dan penalti
- A I dan II
  - B I dan III
  - C II dan IV
  - D III dan IV

30. Cukai berkadar malar merujuk kepada

- A kadar cukai tetap
- B kadar cukai lebihan
- C kadar cukai seimbang
- D kadar cukai kurangan

31. Maklumat berikut berkaitan dengan perbelanjaan kerajaan.

**Perbelanjaan penyelenggaraan dan pembaikan harta,  
pembelian bekalan dan bahan.**

Kategori perbelanjaan kerajaan di atas adalah

- A Emolumen
- B Pemberian subsidi
- C Bayaran khidmat hutang
- D Bekalan dan perkhidmatan

32. Apakah alat dasar kewangan yang digunakan Bank Pusat untuk mengawal ekonomi negara?

- I Syarat jual beli
- II Kadar faedah
- III Bil perbendaharaan
- IV Nisbah rizab berkanun

- A I dan II
- B I dan III
- C II dan IV
- D III dan IV

33. Dasar kewangan menguncup boleh dilaksanakan melalui

- I menaikkan kadar faedah
- II menjual surat jaminan kerajaan
- III melonggarkan syarat sewa beli
- IV menurunkan nisbah rizab berkanun

- A I dan II
- B I dan III
- C II dan IV
- D III dan IV

34. Antara yang berikut, yang manakah menunjukkan dasar kewangan mengembang?

- A Penurunan kadar faedah
- B Peningkatan nisbah rizab berkanun
- C Peningkatan kadar cukai pendapatan syarikat
- D Penurunan kadar cukai barang dan perkhidmatan

Soalan 35 hingga soalan 40 berdasarkan pilihan seperti dibawah

Pilihan	Pernyataan 1	Pernyataan II
A	Betul	Salah
B	Salah	Betul
C	Betul	Betul
D	Salah	Salah

35. I Imbangan pembayaran defisit menyebabkan nilai mata wang tempatan jatuh.  
 II Imbangan pembayaran lebih menyebabkan rizab pertukaran asing bank pusat bertambah.
36. I Keadaan pengangguran dalam sesebuah negara menunjukkan pembaziran sumber ekonomi kerana faktor buruh tidak digunakan sepenuhnya.  
 II Sesebuah negara akan mencatat pendapatan sebenar yang lebih tinggi daripada pendapatan negara potensi apabila berlakunya pengangguran.
37. I Cukai jualan dan cukai perkhidmatan (SST) sejenis cukai langsung.  
 II Cukai jualan dan cukai perkhidmatan (SST) merupakan jenis cukai berkadar regresif.

38. I Inflasi tarikan permintaan merupakan kenaikan tingkat harga umum apabila permintaan agregat melebihi penawaran agregat.
- II Kadar pengangguran merujuk kepada nisbah antara 15 tahun hingga 64 tahun yang sedang bekerja dan aktif mencari pekerjaan.
39. I Bank perdagangan wajib menyimpan sejumlah wang pada kadar tetap di bank pusat.
- II Semakin tinggi rizab berkanun, semakin kurang keupayaan bank perdagangan memberikan pinjaman.
40. I Pengiraan Keluaran Dalam Negara Kasar (KDNK) Malaysia merangkumi pendapatan yang diterima oleh rakyat Malaysia tanpa mengira sama ada dalam atau luar negara.
- II Kerajaan mengawal eksternaliti negatif melalui Akta Kualiti Alam Sekitar.

**5.3 SOALAN BAHAGIAN A**

1. (a) Terangkan peranan kerajaan sebagai pengeluar.

.....  
.....  
.....  
.....  
.....  
.....  
.....  
.....

[6 markah]

(b) Nyatakan empat ciri pasaran monopoli semula jadi.

.....  
.....  
.....  
.....  
.....  
.....  
.....

[4 markah]

(c) Nyatakan empat peranan kerajaan untuk mencapai objektif makroekonomi negara.

.....  
.....  
.....  
.....  
.....  
.....

[4 markah]

2. Jelaskan barang awam dan barang sosial.

.....

.....

.....

.....


.....

.....

.....

[6 markah]

3. Gambar di bawah menunjukkan eksternaliti negatif.



(a) Nyatakan cara selain eksternaliti negatif yang dapat menjejaskan kebajikan masyarakat oleh firma.

.....

[1 markah]

(b) Bagaimanakah peranan kerajaan dalam mengawal selia pengeluaran tersebut.

.....

.....

.....

.....

.....

.....

.....

[6 markah]

4. (a) Terangkan jenis-jenis inflasi dalam ekonomi.

.....  
.....  
.....  
.....  
.....  
.....  
.....  
.....  
.....  
.....

[6 markah]

(b) Huraikan kesan-kesan inflasi.

.....  
.....  
.....  
.....  
.....  
.....  
.....  
.....  
.....  
.....

[6 markah]

5. (a) Takrifkan pengangguran.

.....  
.....  
.....

[2 markah]

(b) Terangkan jenis-jenis pengangguran dalam ekonomi.

.....  
.....  
.....  
.....  
.....  
.....  
.....  
.....

[6 markah]

(c) Jelaskan kesan-kesan pengangguran terhadap :

(i) Individu

.....  
.....  
.....  
.....

[3 markah]

(ii) Sosial

.....  
.....  
.....  
.....

[3 markah]

(iii) Ekonomi negara

.....  
.....  
.....  
.....

[3 markah]



6. (a) Maklumat di bawah berkaitan dengan penduduk Malaysia.

Jumlah penduduk Malaysia pada tahun 2019 ialah 32,500,000 orang. Kadar penyertaan buruh adalah 68.9 dan kadar tenaga buruh 48.77%. Bilangan penganggur pada jumlah 517,000 orang

Hitungkan:

(i) Bilangan tenaga buruh

.....  
.....  
.....  
.....  
.....

[2 markah]

(ii) Kadar pengangguran

.....  
.....  
.....  
.....  
.....

[2 markah]

(b) Apakah langkah kerajaan untuk menangani masalah pengangguran dalam masyarakat.

.....  
.....  
.....  
.....  
.....  
.....

[3 markah]

7. (a) Jelaskan kepentingan mencapai kadar pertumbuhan ekonomi yang mampan bagi Malaysia.

.....

.....

.....

.....

.....

.....

[4 markah]

- (b) Maklumat dibawah menunjukkan kadar pertumbuhan ekonomi Malaysia tahun 2014 hingga tahun 2019 (2014 = 100)

Tahun	Kadar pertumbuhan ekonomi (%)
2014	-
2015	5.09
2016	4.45
2017	5.74
2018	4.74
2019	4.33

(Sumber: Bank Dunia, 2020)

Terangkan pola arah aliran kadar pertumbuhan ekonomi Malaysia dari tahun 2014 hingga tahun 2019.

.....

.....

.....

.....

.....

.....

[4 markah]

8. Terangkan empat faktor yang mempengaruhi pertumbuhan ekonomi negara.

.....  
.....  
.....  
.....  
.....  
.....  
.....  
.....  
.....  
.....

[8 markah]

9. (a) Mengapakah pertumbuhan ekonomi antara negara sedang membangun dan negara maju berbeza? Berikan alasan anda.

.....  
.....  
.....  
.....  
.....  
.....  
.....  
.....

[6 markah]

(b) Nyatakan empat kemudahan infrastruktur fizikal yang kerajaan Malaysia sediakan akibat pertumbuhan ekonomi negara.

.....  
.....  
.....  
.....

[4 markah]

10. (a) Bandingkan dasar fiskal mengembang dengan dasar fiskal menguncup. [5 markah]

(i) Persamaan

.....  
.....  
.....  
.....

(ii) Perbezaan

.....  
.....  
.....  
.....  
.....  
.....

(b) Terangkan tiga komponen cukai langsung.

.....  
.....  
.....  
.....  
.....  
.....  
.....

[6 markah]

11. (a) Nyatakan **lima** komponen hasil bukan cukai.

.....  
.....  
.....  
.....  
.....

[5 markah]

(b) Huraikan **dua** komponen cukai tak langsung.

.....

.....

.....

.....

.....

.....

.....

.....

[6 markah]

12. (a) Takrifkan cukai berkadar malar.

.....

.....

.....

.....

[2 markah]

(b) Jelaskan kesan cukai progresif dan cukai regresif terhadap agihan pendapatan?

.....

.....

.....

.....

.....

.....

[4 markah]

13. (a) Terangkan jenis-jenis belanjawan berikut:

(i) Belanjawan defisit

.....  
.....  
.....  
.....  
.....

[2 markah]

(ii) Belanjawan lebihan

.....  
.....  
.....  
.....  
.....

[2 markah]

(b) Huraikan jenis-jenis perbelanjaan kerajaan.

.....  
.....  
.....  
.....  
.....  
.....  
.....  
.....  
.....

[6 markah]

14. Jelaskan bagaimana dasar kewangan mengatasi masalah inflasi.

.....  
.....  
.....  
.....  
.....  
.....  
.....

[6 markah]

15. Terangkan kesan-kesan berikut terhadap pengguna, firma dan kestabilan ekonomi

(i) Kadar faedah dinaikkan

.....  
.....  
.....  
.....  
.....  
.....

[3 markah]

(ii) Kadar faedah diturunkan

.....  
.....  
.....  
.....  
.....  
.....

[3 markah]

## **5.4 SOALAN BAHAGIAN B**

1. Maklumat di bawah berkaitan dengan sebuah projek pembangunan kerajaan Malaysia.

Projek Lebuhraya Pan Borneo sepanjang 1000 km merupakan projek mega kerajaan yang telah mula dibina pada tahun 2016 dengan kos perbelanjaan hampir RM27 billion. Projek ini akan melancarkan sistem pengangkutan darat antara Sarawak, Brunei dan Sabah serta menggalakkan pertumbuhan ekonomi.

- (a) Jelaskan peranan kerajaan berdasarkan maklumat di atas? [6 markah]
- (b) Bagaimanakah projek tersebut membantu mencapai objektif guna tenaga penuh. [5 markah]
- (c) Projek pembinaan lebuhraya ini melancarkan sistem pengangkutan dan menggalakkan pertumbuhan ekonomi. Bincangkan. [9 markah]
2. Petikan di bawah berkaitan dengan peranan kerajaan dalam mengawal selia pengeluar dan eksternaliti negatif.

Kepesatan pembangunan dan populasi sesebuah negara akan menyebabkan kadar permintaan dan gaya hidup turut berubah. Permintaan terhadap sumber semulajadi juga akan turut meningkat. Pengeluar juga akan mengeksploitasi pengguna. Pengurusan yang tidak terancang akan menyebabkan pencemaran serta menjejaskan kualiti hidup dan alam sekitar. Justeru itu, kerajaan sangat menggalakkan penggunaan teknologi hijau terhadap ekonomi.

- (a) Jelaskan cara eksploitasi pengeluar kepada pengguna. [5 markah]
- (b) Bagaimanakah tindakan kerajaan bagi mengatasi masalah eksternaliti negatif. [6 markah]
- (c) “Kerajaan menggalakkan teknologi hijau”.  
Jelaskan pernyataan tersebut. [9 markah]



3. Maklumat berikut berkaitan tentang cukai yang dikenakan oleh kerajaan.

Kemungkinan pengenalan Cukai Pusaka, Cukai Digital, Cukai Keuntungan Modal dan Cukai Soda serta menaikkan cukai rokok, alkohol dan judi akan diperkenalkan dalam belanjawan 2019.

*Sumber: "https://www.bharian.com.my/bisnes/lain-lain/2018/10/486134/cukai-baharu-apa-pandangan-pakar"*

- (a) Jelaskan jenis cukai di atas. [4 markah]
- (b) Dengan bantuan gambar rajah yang sesuai, jelaskan kesan kenaikan cukai terhadap pasaran rokok dan minuman beralkohol. [7 markah]
- (c) Bincangkan kesan perubahan kadar cukai terhadap objektif makroekonomi negara. [9 markah]

4. Maklumat berikut berkaitan dengan belanjawan negara

"Kerajaan membentangkan Belanjawan 2020 dalam memacu pertumbuhan ekonomi negara supaya hasil negara dapat dikecapi oleh semua rakyat tanpa menjejaskan usaha memulihkan keadaan fiskal negara."

*Sumber: "https://www.bharian.com.my/berita/nasional/"*

- (a) Mengapakah belanjawan negara penting bagi sesebuah negara? [4 markah]
- (b) Jelaskan dua bentuk dasar fiskal untuk menangani masalah ketidakstabilan ekonomi. [7 markah]
- (c) Bagaimanakah pertambahan peruntukan projek infrastruktur di Malaysia seperti Perkhidmatan Tren Elektrik (ETS), Lebuhraya Pan Borneo dapat memberi impak terhadap ekonomi negara. Bincangkan. [9 markah]

## 5. Maklumat di bawah berkaitan dengan pertumbuhan ekonomi Malaysia

KUALA LUMPUR: Ekonomi Malaysia mencatat pertumbuhan perlahan 0.7 peratus pada suku pertama 2020, namun mengatasi jangkaan umum sebahagian besar penganalisis yang mengunjurkan penguncupan antara -0.2 peratus hingga -4.2 peratus.

Pertumbuhan keluaran dalam negara kasar (KDNK) itu juga lebih rendah berbanding suku keempat 2019 iaitu 3.6 peratus, dan ia juga terendah sejak suku ketiga 2009 ketika krisis kewangan global.

*Sumber: <https://www.bharian.com.my/bisnes/lainlain/2020/05/688249/ekonomi-malaysia-berkembang-07-peratus-pada-suku-pertama-2020>*

- (a) Terangkan **tiga** kepentingan pertumbuhan ekonomi. [6 markah]
- (b) Jelaskan **dua** kaedah mengukur keluaran dalam negara kasar (KDNK) [5 markah]
- (c) Bagaimanakah peningkatan perbelanjaan penggunaan isi rumah Malaysia membawa faedah kepada ekonomi negara? [9 markah]

# Skema Pemarkahan

Ekonomi dan Kerajaan

# Bab Lima



## **SKEMA PEMARKAHAN 5.1 PENGUKUHAN KONSEP**

1. Senaraikan 4 peranan kerajaan (m/s 107)
  - a- **Sebagai pengeluar dan majikan**
  - b- **Mencapai objektif makroekonomi negara**
  - c- **Mengawal selia pengeluar dan eksternaliti negatif**
  - d- **Matlamat kerajaan untuk menjaga kebajikan masyarakat dan meningkatkan kemakmuran negara**
  
2. Matlamat kerajaan mengawal monopoli semulajadi (m/s 4)
  - a- **Mengurangkan kos pengeluaran**
  - b- **Mengawal harga barang keluaran**
  - c- **Menambahkan barang atau perkhidmatan awam untuk kebajikan masyarakat**
  
3. Empat ciri monopoli semulajadi kerajaan (m/s 4)
  - a- **Satu firma sahaja**
  - b- **Keluaran tidak ada pengganti**
  - c- **Penentu harga pasaran**
  - d- **Tiada kebebasan keluar masuk industri**
  
4. Objektif makroekonomi terdiri daripada **guna tenaga penuh, kestabilan harga, pertumbuhan ekonomi dan kestabilan imbalan pembayaran.**  
(m/s 7)
  
5. Nyatakan tindakan kerajaan mengawal selia eksploitasi pengguna  
(m/s 14-17)
  1. **Undang -undang dan peraturan**
    - a- **Menyenaraikan sesetengah barang penggunaan asas sebagai barang kawalan**
    - b- **Melaksanakan dasar harga maksimum**
    - c- **Mempamerkan bahan penyediaan makanan dan tarikh luput**
    - d- **Label SIRIM / Logo Halal**

## 2. Subsidi

a- Kerajaan memberi subsidi untuk kurangkan kos pengeluaran agar tiada kenaikan kos kepada pengguna

## 3. Cukai

a- Cukai tinggi dikenakan kepada barang yang membahayakan kesihatan pengguna

(mana-mana pilihan jawapan diatas)

6. Nyatakan jenis inflasi bagi punca-punca berikut (m/s 26 – 29)

Punca	Jenis Inflasi
Kejatuhan nilai mata wang tempatan dan berlaku inflasi di negara pengimport	<b>Inflasi diimport</b>
Kos buruh naik	<b>Inflasi tolak kos</b>
Penawaran wang bertambah dan tingkat pendapatan naik	<b>Inflasi tarikan permintaan</b>

7. Nyatakan jenis pengangguran berdasarkan pernyataan yang diberi.  
(m/s 43 – 45)

Pernyataan	Jenis Pengangguran
Perubahan permintaan terhadap suatu kemahiran	<b>Berstruktur</b>
Peningkatan penggunaan automasi dalam sektor pembuatan	<b>Berstuktur</b>
Beratus-ratus graduan setiap tahun bersaing untuk mendapat pekerjaan yang terhad	<b>Geseran</b>
Jepun mengalami pengurangan pendapatan negara selama dua tahun	<b>Kitaran</b>

## 8. Perbezaan dasar fiskal dan fiskal menguncup (m/s 62 – 63)

Dasar fiskal Mengembang	Perbezaan	Dasar Fiskal Menguncup
<b>Tindakan kerajaan turunkan kadar cukai dan menambahkan perbelanjaan kerajaan</b>	Maksud	<b>Menaikkan kadar cukai dan mengurangkan perbelanjaan kerajaan</b>
<b>Menambahkan permintaan agregat</b>	Tujuan	<b>Mengurangkan permintaan agregat</b>
<b>Kemelesetan</b>	Masalah ekonomi diatasi	<b>Inflasi</b>

## 9. Berdasarkan pernyataan di bawah ini, kenalpasti jenis cukai langsung. (m/s 66 – 67)

- a- Encik Misbun perlu membayar cukai apabila menandatangani surat perjanjian pembelian rumah . **Duti setem**
- b- Syarikat Asdi berhad membayar cukai sebanyak 19% daripada keuntungannya kepada kerajaan. **Cukai pendapatan syarikat**
- c- Syarikat Shell membayar 38 % daripada jumlah pendapatannya. **Cukai pendapatan petroleum**
- d- Puan Aisyah membayar cukai untuk membolehkan pihak berkuasa tempatan membiayai kemudahan di tamannya. **Cukai pintu**

## 10. Nyatakan jenis dan bentuk cukai yang berikut. (m/s 66 – 69)

Komponen	Jenis Cukai	Bentuk Cukai
Cukai Pendapatan individu	<b>Cukai langsung</b>	<b>Cukai progresif</b>
Cukai Jualan dan perkhidmatan	<b>Cukai Tak langsung</b>	<b>Cukai regresif</b>
Cukai Pendapatan Petroleum	<b>Cukai langsung</b>	<b>Cukai berkadar malar</b>
Dui Eksais	<b>Cukai tak langsung</b>	<b>Cukai regresif</b>

11. Kenalpasti bentuk cukai tersebut.. (m/s 72 – 75)

- a- Semakin tinggi pendapatan, semakin rendah kadar cukai. **Cukai regresif**
- b- Semakin tinggi pendapatan, semakin tinggi kadar cukai. **Cukai progresif**
- c- Semakin tinggi pendapatan, kadar cukai adalah tetap.

**Cukai berkadar malar**

12. Perbezaan perbelanjaan mengurus dan perbelanjaan pembangunan.  
(m/s 77- 81)

Perbelanjaan Mengurus	Perbezaan	Perbelanjaan pembangunan
<b>Perbelanjaan semasa kerajaan yang berulang-ulang</b>	Maksud	<b>Untuk membiayai pelaburan kerajaan</b>
<b>Jangka masa pendek</b>	Jangka masa	<b>Jangka masa panjang</b>
<b>Melicinkan pengurusan dan pentadbiran harian kerajaan</b>	Tujuan	<b>Meningkatkan pembentukan modal</b>
<b>Membayar emolumen, memberi subsidi</b>	Contoh	<b>Mengubah suai pejabat/ membeli peralatan tentera</b>

13. Padankan mengikut perbelanjaan pembangunan yang sesuai (m/s 78)

- i. **Pemberian subsidi**
- ii. **Pencen dan ganjaran**
- iii. **Emolumen**
- iv. **Bekalan dan perkhidmatan**
- v. **Bayaran khidmat hutang**
- vi. **Biasiswa, dermasiswa dan bantuan kerajaan**
- vii. **Pemberian dan serahan kepada kerajaan negeri**

14. Senaraikan 3 jenis belanjawan iaitu belanjawan **seimbang, defisit** dan **seimbang** (m/s 83)

15. Lengkapkan jadual tersebut m/s 84 - 85

Belanjawan lebihan	Ciri-ciri	Belanjawan Defisit
<b>Inflasi</b>	Mengatasi masalah	<b>Deflasi</b>
<b>Berkurangan</b>	Perbelanjaan kerajaan	<b>Bertambah</b>
<b>Bertambah</b>	Kadar cukai	<b>Berkurangan</b>

16. Kesan tindakan dasar tersebut terhadap ekonomi (m/s 84 – 85)

Menambahkan Perbelanjaan	Kesan	Mengurangkan Pebelanjaan
<b>berkembang</b>	Pertumbuhan ekonomi	<b>perlahan</b>
<b>bertambah</b>	Peluang pekerjaan	<b>berkurangan</b>
<b>berkurangan</b>	Kadar pengangguran	<b>Bertambah</b>
<b>Bertambah</b>	Pendapatan masyarakat	<b>Berkurangan</b>
<b>Bertambah</b>	Permintaan barang masyarakat	<b>Berkurangan</b>
<b>Deflasi</b>	Dapat selesaikan masalah ekonomi	<b>Inflasi</b>

17. Kesan tindakan dasar tersebut terhadap ekonomi (m/s 84 – 85)

Menurunkan Kadar Cukai	Kesan	Menaikkan Kadar Cukai
<b>Bertambah</b>	Pendapatan Boleh Guna	<b>Berkurangan</b>
<b>Bertambah</b>	Kuasa beli	<b>Berkurangan</b>
<b>Bartambah</b>	Permintaan Barang Masyarakat	<b>Berkurangan</b>
<b>Meningkat</b>	Harga Barang	<b>Menurun</b>
<b>Berkembang</b>	Pertumbuhan ekonomi	<b>Perlahan</b>
<b>Deflasi</b>	Dapat selesaikan masalah ekonomi	<b>Inflasi</b>



18. Lengkapkan jadual dasar kewangan berikut (m/s 87 – 88)

Dasar Kewangan Mengembang	Ciri ciri	Dasar Kewangan Menguncup
<b>Menambah bekalan wang</b>	Matlamat dasar	<b>Mengurangkan bekalan wang</b>
<b>Deflasi</b>	Menyelesaikan Masalah ekonomi?	<b>Inflasi</b>
<b>Bertambah</b>	Penawaran wang	<b>Berkurang</b>
<b>Meningkat</b>	Aktiviti pengeluaran barang	<b>Berkurangan</b>
<b>Berkembang</b>	Kesan Pertumbuhan ekonomi	<b>Perlahan</b>
<b>Bertambah</b>	Peluang pekerjaan	<b>Berkurangan</b>
<b>Berkurangan</b>	Kadar pengangguran	<b>meningkat</b>
<b>Bertambah</b>	Pendapatan masyarakat	<b>Berkurangan</b>
<b>Meningkat</b>	Kuasa beli masyarakat	<b>Berkurangan</b>
<b>Bertambah</b>	Permintaan agregat	<b>Berkurangan</b>

19. Alat dasar kewangan yang dilaksanakan oleh **bank pusat** terdiri daripada (m/s 89)

- a- **Rizab tunai**
- b- **Rizab berkanun**
- c- **Syarat sewa beli**
- d- **Surat jaminan kerajaan**
- e- **Kadar faedah**

20. Rizab tunai simpanan wajib disimpan di bank **perdagangan** (m/s 91)
21. Rizab kanun simpanan wajib disimpan di bank **pusat** (m/s 92)
22. Surat jaminan kerajaan adalah surat bertulis yang dikeluarkan oleh **kerajaan** untuk memperoleh **pinjaman** daripada masyarakat atau institusi kewangan. (m/s 93)
23. Kadar faedah adalah **kos** yang ditanggung oleh **peminjam** semasa membuat pinjaman (m/s 94)
24. Menjual surat jaminan, bermakna kerajaan **membuat pinjaman** kepada orang ramai. (m/s 93)
25. Membeli surat jaminan, bermakna kerajaan **menebus pinjaman** kepada orang ramai. (m/s 93)
26. Perbandingan Rizab Tunai dan Rizab Berkanun (m/s 90-91)

Rizab Berkanun/ Rizab Tunai dinaikkan	Ciri Ciri	Rizab Berkanun / Rizab tunai diturunkan
<b>Berkurangan</b>	Keupayaan memberi pinjaman	<b>Bertambah</b>
<b>Berkurangan</b>	Bekalan wang	<b>Bertambah</b>
<b>Berkurangan</b>	Kuasa beli masyarakat	<b>Bertambah</b>
<b>Menurun</b>	Tingkat harga barang	<b>Meningkat</b>
<b>Inflasi</b>	Digunakan semasa ekonomi?	<b>Deflasi</b>

27. Lengkapkan jadual berikut dengan tindakan yang perlu dilakukan.

(m/s 90 – 94)

Keadaan	Inflasi	Deflasi/Kemelesetan
Rizab Berkanun	<b>Dinaikkan</b>	<b>diturunkan</b>
Rizab Tunai	<b>Dinaikkan</b>	<b>diturunkan</b>
Syarat Sewa Beli	<b>Diketatkan</b>	<b>Dilonggarkan</b>
Surat Jaminan	<b>Menjual</b>	<b>Membeli</b>
Kadar Feadah	<b>Dinaikkan</b>	<b>Diturunkan</b>

28. Lengkapkan Jadual berikut (m/s 92)

Syarat Sewa Beli Diketatkan	Kesan	Syarat Sewa Beli Dilonggarkan
<b>Berkurangan</b>	Deposit Pinjaman	<b>Bertambah</b>
<b>Dipendekkan</b>	Tempoh Bayaran Balik	<b>Dipanjangkan</b>
<b>Meningkat</b>	Kadar Faedah	<b>dikurangkan</b>
<b>Berkurangan</b>	Permintaan barang	<b>Bertambah</b>
<b>Menurun</b>	Harga barang	<b>Meningkat</b>
<b>Inflasi</b>	Selesaikan masalah ekonomi?	<b>Deflasi</b>

29. Lengkapkan jadual berikut. (m/s 93)

Menjual surat Jaminan	Kesan	Membeli surat Jaminan
<b>membeli</b>	Tindakan orang ramai @ institusi kewangan	<b>menjual</b>
<b>berkurangan</b>	Aliran wang tunai	<b>bertambah</b>
<b>berkurangan</b>	Keupayaan Bank Perdagangan memberi Pinjaman	<b>bertambah</b>
<b>berkurangan</b>	Bekalan wang	<b>bertambah</b>
<b>berkurangan</b>	Kuasa beli masyarakat	<b>bertambah</b>
<b>menurun</b>	Tingkat Harga Barang	<b>meningkat</b>
<b>inflasi</b>	Sesuaikan selesaikan keadaan ekonomi?	<b>deflasi</b>

30. Sesuaikan keadaan tindakan tersebut kepada keadaan ekonomi. (m/s 94)

Kadar Faedah Dinaikkan	Kesan	Kadar Faedah diturunkan
<b>bertambah</b>	Kos pinjaman	<b>berkurangan</b>
<b>bertambah</b>	Beban hutang peminjam	<b>berkurangan</b>
<b>berkurangan</b>	Jumlah pinjaman	<b>bertambah</b>
<b>berkurangan</b>	Bekalan wang	<b>bertambah</b>
<b>berkurangan</b>	Kuasa beli masyarakat	<b>bertambah</b>
<b>menurun</b>	Tingkat harga barang	<b>meningkat</b>
<b>Inflasi</b>	Digunakan untuk keadaan ekonomi?	<b>deflasi</b>

31. Kadar faedah terapung **berubah** mengikut kadar rujukan sepanjang tempoh pinjaman manakala kadar faedah tetap **tidak berubah** sepanjang tempoh pinjaman. (m/s 96)

32. Kesan Alat Dasar Fiskal iaitu kadar cukai dan perbelanjaan Kerajaan terhadap objektif makroekonomi negara. (m/s 101-102)

Objektif Makroekonomi	1.Cukai Dinaikkan 2.Perbelanjaan kurang	1.Cukai Diturunkan 2.Perbelanjaan bertambah
Guna tenaga	<b>Pengangguran banyak berlaku</b>	<b>Peluang pekerjaan bertambah</b>
Kestabilan Harga	<b>Tingkat harga umum akan menurun</b>	<b>Tingkat harga umum akan meningkat</b>
Pertumbuhan ekonomi	<b>Perlahan (Keluaran negara dan pendapatan negara merosot)</b>	<b>Pesat (keluaran negara dan pendapatan negara meningkat)</b>
Kestabilan imbangan pembayaran	<b>Aliran masuk wang ke dalam negara merosot</b>	<b>Aliran masuk wang ke dalam negara meningkat</b>

33. Kesan Alat Dasar Kewangan terhadap objektif makroekonomi negara.  
(m/s 103 – 105)

Objektif Makroekonomi	Rizab tunai turun Rizab berkanun turun Syarat sewa beli longgar Membeli surat jaminan	Rizab tunai naik Rizab berkanun naik Syarat sewa beli ketat Menjual surat jaminan
Guna tenaga	<b>Peluang pekerjaan bertambah</b>	<b>Pengangguran banyak berlaku</b>
Kestabilan harga	<b>Tingkat harga umum akan meningkat</b>	<b>Tingkat harga umum akan menurun</b>
Pertumbuhan ekonomi	<b>Pesat (keluaran negara dan pendapatan negara meningkat)</b>	<b>Perlahan (Keluaran negara dan pendapatan negara merosot)</b>
Kestabilan imbangan pembayaran	<b>Aliran masuk wang ke dalam negara meningkat</b>	<b>Aliran masuk wang ke dalam negara merosot</b>

**SKEMA PEMARKAHAN 5.2 SOALAN OBJEKTIF**

1.	B	11.	C	21.	C	31.	D
2.	A	12.	B	22.	D	32.	C
3.	D	13.	D	23.	D	33.	A
4.	D	14.	D	24.	C	34.	A
5.	A	15.	C	25.	B	35.	C
6.	A	16.	C	26.	B	36.	A
7.	D	17.	B	27.	C	37.	B
8.	D	18.	A	28.	B	38.	C
9.	C	19.	D	29.	D	39.	A
10.	D	20.	A	30.	A	40.	A

**SKEMA PEMARKAHAN 5.3 SOALAN BAHAGIAN A**

Soalan	Butiran	Markah
1 (a)	H1 - memaksimumkan kebajikan masyarakat H2 - menyediakan barang awam H3 - menyediakan barang sosial H4 - meningkatkan taraf hidup H5 - meningkatkan taraf kesihatan rakyat H6 - menyediakan pendidikan yang berkualiti dan bertaraf tinggi	1 1 1 1 1 1 <b>[6m]</b>
(b)	H1 - wujud firma tunggal sahaja yang mengeluarkan barang/perkhidmatan H2 - barang yang dikeluarkan oleh firma kerajaan tidak dikeluarkan oleh firma lain H3 - harga barang/perkhidmatan ditentukan oleh kerajaan H4 - terdapat halangan untuk firma keluar dan masuk pasaran H5 - contoh perlindungan undang-undang	1 1 1 1 1 <b>[Mak 4m]</b>
(c)	H1 - mewujudkan guna tenaga penuh H2 - mewujudkan kestabilan harga agar dapat menjamin kestabilan kuasa beli masyarakat H3 - meningkatkan pertumbuhan ekonomi H4 - mewujudkan imbalan pembayaran lebihan	1 1 1 1 <b>[4m]</b>
2	Barang Awam H1 - individu dapat gunakan tanpa mengurangkan faedah penggunaan orang lain H2 - tidak boleh menghalang individu lain daripada menggunakannya H3 - penawaran terhad H4 - wujud kos lepas H5 - terdapat pengecualian penggunaannya H6 - dikenakan bayaran yang minimum/percuma H7 - disediakan oleh kerajaan H8 - bertujuan untuk memaksimumkan kebajikan masyarakat H9 - contoh - balai polis, hospital kerajaan sekolah, balai bomba	1 1 1 1 1 1 1 1 1

	Barang sosial H1 - barang/perkhidmatan yang memberi manfaat yang besar kepada masyarakat H2 - disediakan oleh pihak kerajaan dan pihak swasta H3 - penawaran terhad H4 - wujud kos lepas H5 - meningkatkan kebajikan masyarakat H6 - contoh - loji pembersihan air, Tenaga Nasional Berhad	1 1 1 1 1 1 <b>[Mak 6m]</b>
3 (a)	H1 - mengeksploitasi pengguna	<b>[1m]</b>
(b)	H1 - menguat kuasa undang-undang dan peraturan H2 - pemberian subsidi daripada pihak kerajaan H3 - menaikkan cukai H4 - kaedah pengeluaran mesra alam sebagai insentif kepada pengeluar H5 - kerajaan mengawal pemberian lesen H6 - mengisytiharkan sesetengah barang pengguna sebagai barang kawalan H7 - dasar harga minimum H8 - dasar harga maksimum H9 - kuota H10 - cukai	1 1 1 1 1 1 1 1 1 1 <b>[Mak 6m]</b>
4 (a)	F1 -Inflasi tarikan permintaan H1a - kenaikan tingkat harga umum akibat permintaan masyarakat melebihi penawaran dalam pasaran H1b - berlaku semasa ekonomi negara berada pada guna tenaga penuh F2 - Inflasi tolakan kos H2a - berlaku apabila tingkat harga umum naik kerana peningkatan kos pengeluaran H2b - beban kenaikan kos pengeluaran akan dipindahkan oleh pengeluar kepada pengguna F3 - Inflasi diimport H3a- kenaikan harga barang yang diimport dari luar negara meningkat H3b- berlaku akibat peningkatan kos pengeluaran di negara pengeluar H3c- negara pengimport akan terdedah dengan kesan inflasi dari negara asing H3d- berlaku akibat kejatuhan nilai mata wang sesebuah negara	1 1 1 1 1 1 1 1 1 1 <b>[Mak 6m]</b>



(b)	H1 - pendapatan negara sebenar kurang daripada pendapatan negara potensi H2 - hasil kerajaan kurang kerana hasil kutipan cukai kerajaan berkurang H3 - ketidakcekapan dalam pengeluaran dan pembaziran sumber ekonomi H4 - kehilangan kemahiran dan keyakinan diri H5 - kadar kemiskinan dalam negara meningkat H6 - wujud masalah sosial H7 - peningkatan kes jenayah dalam negara	1 1 1 1 1 1 1 <b>[Mak 6m]</b>
5 (a)	H1 - tenaga buruh yang ingin bekerja dan aktif mencari pekerjaan tetapi tidak mendapat pekerjaan H2 - wujud lebih penawaran buruh	1 1 <b>[2m]</b>
(b)	F1 - Pengangguran kitaran H1 - berlaku apabila keadaan ekonomi dalam keadaan lembap H2 - pengurangan permintaan agregat akibat pengurangan dalam pengeluaran F2 - Pengangguran berstruktur H3 - perubahan dalam struktur ekonomi H4 - kemerosotan dalam industri tertentu menyebabkan pembuangan pekerja seperti sektor perlombongan dan pertanian F3 - Pengangguran geseran H5 - berlaku akibat perpindahan kerajaan/bertukar kerja H6 - berlaku akibat kurang mendapat maklumat pekerjaan H7 - pengangguran berjangka pendek	1 1 1 1 1 1 1 1 1 1 <b>[Mak 6m]</b>
(c)	(i) Individu H1 - kehilangan kemahiran diri H2 - kehilangan keyakinan diri H3 - imej individu jatuh H4 – beban hutang/ hutang tertunggak  (ii) Sosial H5 - peningkatan kadar kemiskinan H6 - masalah kekeluargaan H7 - peningkatan kadar jenayah H8 - taraf hidup masyarakat merosot	1 1 1 1 <b>[Mak 3m]</b>  1 1 1 1 <b>[Mak 3m]</b>

	(iii) Ekonomi negara H9 - pengurangan keluaran negara dan pendapatan negara H10 - penurunan hasil/pendapatan kerajaan H11 - pembaziran sumber buruh/ketidakcekapan sumber H12 – penghalang pertumbuhan ekonomi negara	1 1 1 1 <b>[Mak 3m]</b>
6 (a)	(i) Bilangan tenaga buruh = $32,500,000 \times 48.77\%$ = 15,850,250 orang  (ii) Kadar pengangguran = $\frac{\text{Bilangan penganggur}}{\text{Tenaga buruh}} \times 100$ = $\frac{517,000 \text{ orang}}{15,850,250} \times 100$ = 3.26%	1 1 <b>[2m]</b>  1  1 <b>[2m]</b>
(b)	H1 - menyediakan peluang latihan/kemahiran H2 - mewujudkan lebih banyak peluang pekerjaan H3 - mewujudkan kawasan perindustrian di kawasan tumpuan tertentu H4 - membuka lebih banyak institusi pendidikan TVEK/vokasional/ ILP/Giat Mara/IKM/IKBN	1 1 1 1 <b>[Mak 3m]</b>
7 (a)	H1 - mewujudkan lebih banyak peluang pekerjaan H2 - meningkatkan taraf hidup masyarakat H3 - mengurangkan kadar kemiskinan H4 - menyediakan kemudahan perumahan H5 - merapatkan jurang pendapatan masyarakat H6 - menaik taraf kemudahan kesihatan H7 - menyediakan kemudahan pendidikan  Terima mana-mana jawapan lain yang relevan	1 1 1 1 1 1 1 <b>[Mak 4m]</b>
(b)	H1 - pada tahun 2015, kadar pertumbuhan ekonomi 5.09% H2 - pada tahun 2016, kadar pertumbuhan ekonomi 4.45% H3 - pada tahun 2017, kadar pertumbuhan ekonomi 5.74% H4 - pada tahun 2018, kadar pertumbuhan ekonomi 4.74% H5 - pada tahun 2019, kadar pertumbuhan ekonomi 4.33%	1 1 1 1 1

	<p>H6 - pada tahun 2016 menurun sebanyak 0.64% menjadi 4.45% berbanding tahun 2015.</p> <p>H7 - pada tahun 2017, kadar pertumbuhan ekonomi meningkat sebanyak 1.29%</p> <p>H8 - tertinggi antara lima tahun tersebut</p> <p>H9 - pada tahun 2018, menurun sebanyak 1.00%</p> <p>H10 - pada tahun 2019, terus menurun sebanyak 0.41%</p>	<p>1</p> <p>1</p> <p>1</p> <p>1</p> <p>1</p>
		<b>[Mak 4m]</b>
8	<p>F1 - Sumber alam semula jadi</p> <p>H1a - sumber alam daripada perut bumi sumber mineral/sumber hutan/sumber laut</p> <p>H1b - menjana pendapatan negara</p> <p>H1c - peningkatan kualiti sumber manusia dapat meningkatkan produktiviti dan keluaran negara</p> <p>F2 - Pelaburan dalam aktiviti ekonomi</p> <p>H2a - tingkat penggunaan, pelaburan, perbelanjaan kerajaan dan eksport meningkat</p> <p>H2b - pasaran buruh meningkat</p> <p>H2c - tingkat harga barang/perkhidmatan</p> <p>F3 - Peningkatan kecekapan teknologi / kemajuan teknologi</p> <p>H3a - peningkatan produktiviti</p> <p>H3b - penjimatan kos pengeluaran</p> <p>H3c - dapat meningkatkan keluaran negara</p> <p>F4 - Sistem sosial dan sikap masyarakat</p> <p>H4a - keadaan politik yang stabil</p> <p>H4b - masyarakat sedia menerima perubahan teknologi dan inovasi</p> <p>H4c - sikap keterbukaan masyarakat menggalakkan kreativiti</p> <p>F5 - Jumlah penduduk dan bekalan tenaga buruh</p> <p>H5a - penduduk yang ramai membekalkan tenaga buruh yang mencukupi</p> <p>H5b - menyediakan saiz pasaran yang besar</p> <p>H5c - meningkatkan permintaan barang/ perkhidmatan</p>	<p>1</p> <p>1</p> <p>1</p> <p>1</p> <p>1</p> <p>1</p> <p>1</p> <p>1</p> <p>1</p> <p>1</p> <p>1</p> <p>1</p> <p>1</p> <p>1</p> <p>1</p> <p>1</p> <p>1</p> <p>1</p> <p>1</p> <p>1</p> <p>1</p> <p>1</p> <p>1</p> <p>1</p> <p>1</p> <p>1</p> <p>1</p> <p>1</p> <p>1</p> <p>1</p> <p>1</p> <p>1</p> <p>1</p>
		<b>[Mak 8m]</b>
9 (a)	<p>H1 - Penggunaan tingkat teknologi yang berbeza</p> <p>H2 - Peningkatan kemudahan infrastruktur negara yang berbeza</p> <p>H3 - Peningkatan pelaburan langsung asing(FDI) yang berbeza</p> <p>H4 - Kemudahan pendidikan dan kesihatan antara sedang membangun dan negara maju berbeza</p> <p>H5 - Peningkatan insentif seperti cukai, subsidi eksport dan sebagainya</p>	<p>1</p> <p>1</p> <p>1</p> <p>1</p> <p>1</p>

	H6 – Faktor pengeluaran di negara maju digunakan sepenuhnya mengakibatkan peningkatan pengeluaran dan penggunaan/ pendapatan per kapita lebih tinggi	1
	H7 – Warga negara membangun mempunyai purata taraf hidup yang tinggi kerana pendapatan per kapita mereka masih berkembang dan keupayaan teknologi mereka berkembang	1
		<b>[Mak 6m]</b>
(b)	H1 - Pusat pendidikan	1
	H2 - Pusat Kesihatan	1
	H3 - Infrastruktur pengangkutan dan perhubungan/ Komunikasi	1
	H4 - Pusat Industri	1
		<b>[Mak 4m]</b>
10 (a)	Persamaan: H1 - Kedua-duanya digunakan untuk mengawal kestabilan ekonomi	1m
	Perbezaan: Dasar fiskal mengembang H1 - meningkatkan permintaan agregat melalui pengurangan cukai dan pertambahan perbelanjaan kerajaan	1
	H2 - ekonomi meleset/deflasi	1
	H3 - kadar cukai berkurangan supaya pendapatan boleh guna bertambah	1
	H4 - kuasa beli dan permintaan pengguna meningkat	1
	H5 - permintaan agregat meningkat akan menggalakkan pengeluaran	1
	Dasar fiskal menguncup H6 - mengurangkan permintaan agregat melalui peningkatan cukai dan pengurangan perbelanjaan kerajaan	1
	H7 - ekonomi inflasi	1
	H8 - kadar cukai dinaikkan supaya pendapatan boleh guna berkurang	1
	H9 - kuasa beli dan permintaan pengguna akan menurun	1
	H10 -permintaan agregat akan jatuh dan memperlahankan ekonomi negara serta menurunkan kuasa beli pengguna	1
	<b>Persamaa + Perbezaan</b>	<b>[Mak 5m]</b>

(b)	<p>F1 - Cukai pendapatan individu  H1 - dikenakan kepada individu di Malaysia yang memperoleh pendapatan lebih daripada jumlah tertentu</p> <p>F2 - Cukai pendapatan syarikat  H2 - Dikenakan ke atas keuntungan yang diperolehi syarikat berhad</p> <p>F3 - Cukai pendapatan koperasi  H3 - Dikenakan ke atas keuntungan yang diperolehi koperasi yang beroperasi di Malaysia kecuali koperasi sekolah</p> <p>Terima mana-mana jawapan lain yang relevan</p>	<p>1 1 1 1 1 1</p> <p><b>[Mak 6m]</b></p>
11 (a)	<p>H1 - Bayaran denda dan penalti  H2 - Bayaran lesen dan permit  H3 - Faedah dan pulangan pelaburan kerajaan  H4 - Bayaran sewa, harta atau aset kerajaan  H5 - Dividen, royalti petroleum dan gas asli  H6 - Dividen daripada saham dan syarikat berkaitan kerajaan (GLC)  H7 - Pemberian kerajaan luar negara dan agensi antarabangsa</p> <p>Terima mana-mana jawapan lain yang relevan</p>	<p>1 1 1 1 1 1 1</p> <p><b>[Mak 5m]</b></p>
(b)	<p>F1 - Duti eksais  H1- dikenakan ke atas barang-barang tertentu yang diimport ke Malaysia atau dikeluarkan dalam Malaysia</p> <p>H2 - contoh: minuman keras/rokok/tembakau dan keluaran tembakau/ kenderaan bermotor</p> <p>H3 - sebagai hasil kerajaan/mengurangkan penggunaan barang tertentu yang membahayakan kesihatan</p> <p>F2 - Duti import  H4 - dikenakan atas barang pengguna yang diimport dari luar negara</p> <p>H5 - contoh: perabot/buah-buahan/kereta</p> <p>H6 - untuk melindungi industri tempatan/ meningkatkan peluang pekerjaan/memperbaiki kedudukan imbang dagangan pembayaran negara/mengatasi masalah lambakan</p> <p>Terima mana-mana contoh lain yang relevan</p>	<p>1 1 1 1 1 1 1</p> <p><b>[Mak 6m]</b></p>

12 (a)	<p>H1 - cukai yang kadarnya tetap walaupun pendapatan berubah</p> <p>H2 - contoh: kadar cukai pendapatan syarikat ialah 28% yang perlu dibayar oleh semua syarikat tanpa mengira jumlah untung yang terima syarikat tersebut</p>	<p>1</p> <p>1</p> <p><b>[2m]</b></p>
(b)	<p>Cukai progresif</p> <p>H1 - golongan berpendapatan tinggi membayar kadar cukai yang tinggi/golongan berpendapatan rendah membayar kadar cukai yang rendah</p> <p>H2 - Pendapatan boleh guna merosot</p> <p>H3 - tabungan akan berkurangan</p> <p>Cukai regresif</p> <p>H4 - beban cukai yang lebih besar kepada golongan berpendapatan rendah/beban cukai yang lebih rendah kepada golongan berpendapatan tinggi</p> <p>H5 - golongan berpendapatan rendah menerima kesan yang lebih besar berbanding golongan berpendapatan tinggi</p> <p>H6 - perbelanjaan isi rumah menurun</p>	<p>1</p> <p>1</p> <p>1</p> <p>1</p> <p>1</p> <p>1</p> <p><b>[Mak 4m]</b></p>
13 (a)	<p>(i) Belanjawan defisit</p> <p>H1 - jumlah hasil kerajaan kurang daripada jumlah perbelanjaan kerajaan</p> <p>H2 - dilaksanakan semasa kemelesetan ekonomi/deflasi</p> <p>H3 - Kerajaan menambah perbelanjaan mengurus dan perbelanjaan pembangunan</p> <p>(ii) Belanjawan lebihan</p> <p>H4 - jumlah hasil kerajaan lebih daripada jumlah perbelanjaan kerajaan</p> <p>H5 - dilaksanakan semasa inflasi</p> <p>H6 - kerajaan meningkatkan cukai dan mengurangkan perbelanjaan kerajaan</p>	<p>1</p> <p>1</p> <p>1</p> <p><b>[Mak 2m]</b></p> <p>1</p> <p>1</p> <p>1</p> <p><b>[Mak 2m]</b></p>

(b)	F1 -Perbelanjaan mengurus H1a -perbelanjaan semasa yang ditanggung oleh kerajaan H1b -perbelanjaan yang bersifat berulang-ulang H1c -contoh: emolumen/pencen dan ganjaran/ pemberian subsidi F2 -Perbelanjaan pembangunan H2a -perbelanjaan pelaburan kerajaan/menambah fizikal modal negara H2b -mewujudkan peluang pekerjaan/meningkatkan pendapatan negara/meningkatkan taraf hidup masyarakat H2c- menerima lebih banyak pelaburan asing H2d -perbelanjaan yang melibatkan sektor perkhidmatan ekonomi/sektor perkhidmatan sosial/sektor keselamatan/sektor pentadbiran am	1 1 1 1 1 1 1 1 1 1 1 1 <b>[Mak 6m]</b>
14	F1 - menaikkan nisbah rizab berkanun H1a -kuasa beli masyarakat berkurang kerana sukar membuat pinjaman daripada pihak bank perdagangan H1b -permintaan menurun dan tingkat harga umum akan turut turun F2 - menaikkan rizab tunai H2 - keupayaan bank perdagangan untuk memberi pinjaman berkurangan F3 - Mengetatkan syarat sewa beli H3a -bank perdagangan mengurangkan had jumlah pinjaman maksimum H3b -meningkatkan kadar faedah/tempoh bayaran balik dipendekkan H3c -bekalan wang dalam ekonomi berkurang F4 - menjual surat jaminan kerajaan H4a -orang ramai/institusi kewangan membeli surat jaminan kerajaan dengan wang H4b -aliran wang tunai dalam ekonomi akan berkurang H4c -kuasa beli masyarakat berkurang F5 - menaikkan kadar faedah H5a -kos pinjaman dan beban pinjaman meningkat H5b -jumlah pinjaman masyarakat berkurang H5c -bekalan wang berkurangan	1 <b>[Mak 6m]</b>

15	<p>(i) Kadar faedah dinaikkan</p> <p><b>Pengguna</b>  H1 - Permintaan barang/perkhidmatan berkurang kerana kuasa beli menurun  H2 - jumlah bayaran ansuran bulanan meningkat</p> <p><b>Firma</b>  H3 - kos pinjaman syarikat meningkat  H4 - pelaburan terhad/berkurang</p> <p><b>Kestabilan ekonomi</b>  H5 - keadaan inflasi menyebabkan penawaran wang dalam ekonomi berkurang  H6 - kuasa beli pengguna menurun/tingkat harga umum turun</p>	<p>1</p> <p>1</p> <p>1</p> <p>1</p> <p>1</p> <p>1</p> <p>[Mak 3m]</p>
	<p>(ii) Kadar faedah diturunkan</p> <p><b>Pengguna</b>  H1 - Permintaan barang/perkhidmatan bertambah kerana kuasa beli meningkat  H2 - jumlah bayaran ansuran bulanan menurun</p> <p><b>Firma</b>  H3 - kos pinjaman syarikat berkurang  H4 - pelaburan meningkat</p> <p><b>Kestabilan ekonomi</b>  H5 - diturunkan ketika masalah kemelesetan ekonomi  H6 - kuasa beli pengguna meningkat/permintaan agregat meningkat  H7 - peningkatan peluang pekerjaan/penurunan kadar pengangguran</p>	<p>1</p> <p>1</p> <p>1</p> <p>1</p> <p>1</p> <p>1</p> <p>[Mak 3m]</p>



**SKEMA PEMARKAHAN 5.4 SOALAN BAHAGIAN B**

Soalan	Butiran	Markah
1 (a)	F1 - sebagai pengeluar H1 - mengeluarkan barang awam dan barang sosial H2 - barang awam tiada pengecualian dan tiada persaingan penggunaan H3 - dikeluarkan untuk faedah masyarakat H4 - percuma/bayaran yang minimum H5 - penawaran terhad H6 - ada kos lepas H7 - barang sosial barang yang memberi manfaat terbesar kepada masyarakat H8 - disediakan oleh pihak kerajaan dan swasta H9 - penawaran terhad H10 - bayaran minimum/percuma	1 1 1 1 1 1 1 1 1 1 1 1 1 <b>[Mak 6m]</b>
(b)	H1 - mewujudkan lebih banyak peluang pekerjaan H2 - memajukan bidang pembinaan H3 - meningkatkan keperluan guna tenaga H4 - mengurangkan kadar pengangguran H5 - mencapai guna tenaga penuh dalam ekonomi	1 1 1 1 1 <b>[5m]</b>
(c)	<b>****Rujuk SKEMA RUBRIK PENSKORAN</b>	<b>[Mak 9m]</b>
2 (a)	H1 - menjual barang yang kurang bermutu H2 - menjual barang yang tidak selamat digunakan H3 - meletakkan harga yang tinggi H4 - maklumat palsu H5 - iklan palsu  Terima mana-mana jawapan yang relevan	1 1 1 1 1  <b>[5m]</b>
(b)	H1 - menguatkuasakan undang-undang H2 - kompaun/denda H3 - mengawal aktiviti pembalakan H4 - mengawal aktiviti perkilangan di kawasan yang berpenduduk padat/kawasan tadahan air H5 - mengawal penggunaan plastik H6 - menggalakkan aktiviti kitar semula H7 - menggalakkan penggunaan teknologi hijau H8 - memberi insentif seperti pelepasan cukai H9 - memberi subsidi kepada pengeluar yang menggunakan teknologi hijau H10 - pengurusan sisa pepejal yang baik/teratur	1 1 1 1 1 1 1 1 1 1 1 <b>[Mak 6m]</b>

(c)	<b>****Rujuk SKEMA RUBRIK PENSKORAN</b>	<b>[Mak 9m]</b>
3 (a)	<p>H1 - cukai tak langsung</p> <p>H2 - cukai yang dikenakan ke atas barangan</p> <p>H3 - beban cukai boleh dipindahkan kepada orang lain</p> <p>H4- bersifat regresif/semakin tinggi tingkat pendapatan semakin rendah kadar cukai yang dikenakan</p> <p>H5 - contoh: duti eksport/duti import/SST</p>	<p>1</p> <p>1</p> <p>1</p> <p>1</p> <p>1</p> <p><b>[Mak 4m]</b></p>
(b)	<p>Rajah lengkap (Harga, Kuantiti, <math>P_0</math>, label DD dan SS)</p> <p>H1 - keluk <math>D^0D^0</math> bersilang dengan <math>S^0S^0</math></p> <p>H2 - kerajaan menaikkan cukai, keluk <math>D^0D^0</math> beralih ke <math>D^1D^1</math></p> <p>H3 - titik keseimbangan baharu <math>E_1</math></p> <p>H4 - harga akan turun dari <math>P_0</math> kepada <math>P_1</math></p> <p>H5 - Kuantiti permintaan menurun dari <math>Q_0</math> kepada <math>Q_1</math></p> <p><b>Rajah 4 M + Keterangan 5 M</b></p>	<p>4</p> <p>1</p> <p>1</p> <p>1</p> <p>1</p> <p>1</p> <p><b>[Mak 7m]</b></p>
(c)	<b>****Rujuk SKEMA RUBRIK PENSKORAN</b>	<b>[Mak 9m]</b>
4 (a)	<p>H1- menganggarkan jumlah hasil kerajaan dan perbelanjaan kerajaan</p> <p>H2 - Memastikan sumber kewangan yang mencukupi</p> <p>H3 - membuat perbelanjaan sistematik dan berkesan</p> <p>H4 - mencapai matlamat dasar-dasar ekonomi negara</p> <p>H5 - membaiki imbalan pembayaran</p> <p>H6 - menstabilkan kadar pertukaran asing</p> <p>H7 - mengekalkan kadar pertumbuhan ekonomi yang mampan</p> <p>H8 - merapatkan jurang pendapatan golongan kaya dengan golongan miskin</p> <p>H9 - menggalakkan tabungan dalam masyarakat</p> <p>H10 - mencapai kestabilan ekonomi</p> <p>H11 - mengawal pengangguran negara</p>	<p>1</p> <p>1</p> <p>1</p> <p>1</p> <p>1</p> <p>1</p> <p>1</p> <p>1</p> <p>1</p> <p>1</p> <p>1</p> <p><b>[Mak 4m]</b></p>

(b)	<p>F1 - dasar fiskal mengembang  H1a - untuk mengatasi kemelesetan ekonomi  H1b - menurunkan kadar cukai dan meningkatkan perbelanjaan kerajaan  H1c - permintaan agregat meningkat/pengeluaran meningkat/peluang pekerjaan meningkat/pengangguran berkurang  F2 - dasar fiskal menguncup  H2a - mengatasi masalah inflasi  H2b - menaikkan kadar cukai dan mengurangkan perbelanjaan kerajaan  H2c - permintaan agregat menurun/pengeluaran menurun/kuasa beli pengguna menurun/tingkat harga umum menurun</p>	<p>1 1 1 1 1 1 1 1 1</p> <p>[Mak 7m]</p>
(c)	<b>Rujuk SKEMA RUBRIK PENSKORAN</b>	<b>[Mak 9m]</b>
5 (a)	<p>F1 - merapatkan jurang pendapatan  H1a - kerajaan menggunakan tambahan hasil kerajaan untuk meningkatkan pendapatan golongan berpendapatan rendah  H1b - kerajaan menyediakan pelbagai bantuan-BSH/ pendidikan percuma sehingga Tingkatan Enam/perubatan percuma  F2 - meningkatkan taraf kebajikan masyarakat  H2a - peningkatan dalam pendapatan dan jumlah keluaran dalam negara  H2b - penyediaan pelbagai projek kemudahan awam seperti projek MRT di Lembah Klang bagi mengurangkan kesesakan lalu lintas  F3 - Mewujudkan lebih banyak peluang pekerjaan  H3a - perkembangan ekonomi memerlukan lebih ramai pekerja  H3b - peluang pekerjaan wujud bagi menampung peningkatan penawaran tenaga buruh  F4 - mengurangkan kadar kemiskinan  H4a - peningkatan pendapatan per kapita yang tinggi membolehkan individu mampu memenuhi keperluan dan kehendak  F5 - Mempercepatkan penyediaan kemudahan perumahan, perkhidmatan kesihatan, dan kemudahan asas  H5a - pertumbuhan ekonomi menyebabkan peningkatan pendapatan negara  H5b - kerajaan boleh melaksanakan pelbagai projek pembangunan seperti pembinaan hospital, kemudahan bekalan air dan elektrik</p>	<p>1 1 1 1 1 1 1 1 1 1 1 1 1 1 1 1</p> <p>[Mak 6m]</p>

(b)	F1 - Pendekatan perbelanjaan	1
	H1a -menjumlahkan semua perbelanjaan ke atas barang akhir dan perkhidmatan dalam ekonomi	1
	H1b -perbelanjaan dilakukan oleh sektor isi rumah/firma/kerajaan/luar negara	1
	H1c -perbelanjaan sektor isi rumah dikenali sebagai penggunaan/perbelanjaan sektor firma dikenali sebagai pelaburan/perbelanjaan sektor kerajaan dikenali penggunaan awam/ perbelanjaan sektor luar negara dikenali sebagai eksport dan import barang perkhidmatan	1
	H1d -perubahan stok pada akhir tahun juga diambil kira dalam pengiraan pendapatan negara	1
	F2 - Pendekatan keluaran	1
	H2a -nilai akhir sektor/jumlah nilai ditambah bagi setiap peringkat dalam proses pengeluaran	1
	H2b -nilai barang perantaraan tidak dimasukkan dalam pengiraan pendapatan negara bagi mengelakkan pengiraan dua kali/lebih	1
	H2c -hanya mengambil kira nilai barang akhir	1
		<b>[Mak 5m]</b>
(c)	<b>**** Rujuk SKEMA RUBRIK PENSKORAN</b>	<b>[Mak 9m]</b>

**RUBRIK SOALAN BAHAGIAN 9 MARKAH**

<b>Tahap</b>	<b>Keterangan</b>	<b>Markah</b>		<b>Catatan</b>
<b>Tahap 1</b>  <b>(Pengetahuan dan Pemahaman)</b> <b>[1-3m]</b>	Pernyataan / keterangan umum Menyenaikan fakta/isi sahaja tanpa huraian Penjelasan terhad kepada konsep sahaja Menyatakan pendirian secara umum/ tiada penilaian  <p align="center">√ <b>A</b></p>	<b>A1 – 1m</b> <b>A2 – 2m</b> <b>A3 – 3m</b>		
<b>Tahap 2</b>  <b>(Aplikasi)</b> <b>[4-6m]</b>	Fakta + huraian masih tepat / betul Keterangan yang bercampur – tepat dan kurang tepat Keterangan hanya satu sisi Rajah umum / asas / tidak lengkap Huraian rajah terhad Menyatakan pendirian  <p align="center">√ <b>B</b></p>	<b>B1</b> <b>B2</b> <b>B3</b>	<b>B1 – 4m</b> <b>B1a – 5m</b> <b>B1c – 6m</b>	
<b>Tahap 3</b>  <b>(Analisis / Penilaian)</b> <b>[7-9m]</b>	Fakta + huraian lengkap dan mendalam Keterangan betul, tepat, sangat jelas dan mendalam Mengemukakan idea yang bernas, kreatif dan rasional Keterangan dua sisi Rajah lengkap / tepat Huraian rajah lengkap Membuat kesimpulan, rumusan/ pandangan/ pendapat, cadangan/ memberi bukti / data yang relevan Menyatakan pendirian dengan jelas Menghubung kait teori ekonomi dengan pelbagai topik / tajuk (sintesis)  <p align="center">√ <b>C</b></p>	<b>C1</b>  <b>C2</b>	C1 } 7m } (2c) } C1a }	Kalau jawapan bercampur aduk antara tepat dan tidak tepat maksimum 7m walaupun jumlah C melebihi 2.
		<b>C3</b>  <b>C4</b>	C1b – 8m (3c atau lebih)	Cth: C1,C1a, C2/ C1, C1a, C1c, C2/ C1, C1a, C2a, C2b...
			C1c } C1d } 9m	9m jika calon diberi huraian lanjut / mendalam tentang sesuatu fakta. Cth: A1, B1, B1a, C1, C1a, C1b, C1c, C1d, C1e, C1f...

# Malaysia dan Ekonomi Global

## Bab Enam



## **6.1 PENGUKUHAN KONSEP**

1. 4 ciri globalisasi \_\_\_\_\_ , \_\_\_\_\_ ,  
\_\_\_\_\_ dan \_\_\_\_\_

2. Dorongan syarikat multinasional dalam operasi antarabangsa

a- \_\_\_\_\_ d- \_\_\_\_\_

b- \_\_\_\_\_ e- \_\_\_\_\_

c- \_\_\_\_\_

3. Lengkapkan jadual di bawah dengan menyatakan sebab-sebab wujudnya antara bangsa.

Situasi	Sebab
Itali mengeksport anggur dan oren ke negara di Asia Tenggara	
Vietnam mengeluarkan pakaian dan kasut kerana upah yang rendah	
Jepun mengkhusus dalam pengeluaran robot	
Rakyat Malaysia sukakan ikan Salmon	

4. Nyatakan 5 kepentingan perdagangan antarabangsa

a- \_\_\_\_\_

b- \_\_\_\_\_

c- \_\_\_\_\_

d- \_\_\_\_\_

e- \_\_\_\_\_

5. Senaraikan bentuk sekatan perdagangan antarabangsa

a- \_\_\_\_\_ d- \_\_\_\_\_

b- \_\_\_\_\_ e- \_\_\_\_\_

c- \_\_\_\_\_ f- \_\_\_\_\_

6. Nyatakan jenis sekatan perdagangan antarabangsa berdasarkan pernyataan diberi.

Situasi	Bentuk Sekatan
Kerajaan hendak melindungi petani dan meningkatkan hasil kewangan	
Kerajaan menghadkan jumlah barang import	
Kerajaan melarang kemasukan barang import Israel	
Bank Negara menghadkan penjual USD10 juta terhadap pengimport tempatan	
Kerajaan Malaysia menghentikan import daging lembu dari Australia kerana dikhuatiri tidak selamat dimakan.	
Cukai dikenakan terhadap barang dan perkhidmatan yang diimport	

7. Tujuan sekatan perdagangan antarabangsa

- a- \_\_\_\_\_
- b- \_\_\_\_\_
- c- \_\_\_\_\_
- d- \_\_\_\_\_
- e- \_\_\_\_\_
- f- \_\_\_\_\_
- g- \_\_\_\_\_

8. Eksport barang nampak terdiri daripada \_\_\_\_\_,  
\_\_\_\_\_ dan \_\_\_\_\_

9. Import barang nampak terdiri daripada barang \_\_\_\_\_,  
barang \_\_\_\_\_ dan barang \_\_\_\_\_



10. Berdasarkan urus niaga berikut, tentukan kategorinya ekport nampak / tak nampak atau import nampak / tak nampak

Ketibaan pelancong asing ke Malaysia	
Penghantaran dividen dan keuntungan oleh korporat multinasional asing	
Firma C&B menjual buah-buahan segar ke Timur Tengah	
Kerajaan Malaysia memberi sumbangan kewangan kepada mangsa gempa bumi di Indonesia	
Pasukan Badminton India menggunakan khidmat jurulatih dari Malaysia	
Syarikat Setia Rasa memesan jentera dari Jepun	
Malaysia menjual minyak sawit ke Korea selatan	

11. Lengkapkan jadual di bawah.

Tahun	Eksport (RM Juta)	Import (RM Juta)	Imbangan Dagangan (RM Juta)
2014	765 416.7	682 937.1	
2015	777 355.1		91 576.6
2016		698 818.7	8 845.5

12. Imbangan akaun semasa

= \_\_\_\_\_ + \_\_\_\_\_ + Imbangan pendapatan

13. Defisit akaun semasa Malaysia menyebabkan nilai RM \_\_\_\_\_ kerana wujud lebih penawaran \_\_\_\_\_ di pasaran pertukaran asing.

14. Nyatakan jenis akaun yang berkaitan dengan pernyataan yang diberi.

Pernyataan	Jenis akaun
Kerajaan Malaysia telah membelanjakan RM 10 juta untuk penginapan dan pengangkutan anggota rombongan di luar negara untuk mempromosikan Tahun Melawat Malaysia 2018	
Encik Tan yang bekerja di Singapura menghantar wang kepada ibu bapanya di Malaysia	
Syarikat T&R membayar upah pekerja dari Indonesia	
Firma R&Z tempatan memesan buah kurma dari Kuwait	

15. Menggunakan maklumat daripada jadual di bawah, kirakan:

Perkara	Nilai Bersih (RM juta)
Pengangkutan	385 668
Eksport kerajaan	14 124
Urusan kerajaan	33
Pindahan semasa	-8 728
Perkhidmatan lain	-17 178
Import barang nampak	313 840
Pendapatan	-30 490
Perjalanan	20 84

- i) Imbangan akaun dagangan
- ii) Imbangan akaun perkhidmatan
- iii) Imbangan akaun semasa

16. Empat sebab berlakunya lebih akaun semasa

- a- \_\_\_\_\_
- b- \_\_\_\_\_
- c- \_\_\_\_\_
- d- \_\_\_\_\_

17. Maksud pertukaran asing ialah mata wang \_\_\_\_\_ yang dimiliki oleh sesebuah negara.

18. Kepentingan pertukaran asing

- a- Membiayai \_\_\_\_\_
- b- Membayar \_\_\_\_\_
- c- Membuat \_\_\_\_\_
- d- Mempertahankan \_\_\_\_\_

19. Bagi rakyat Malaysia, mata wang Yen Jepun ialah \_\_\_\_\_ manakala bagi rakyat Jepun, Ringgit Malaysia merupakan \_\_\_\_\_ di negara Jepun.

20. Apabila nilai Ringgit Malaysia jatuh berbanding dengan dolar Singapura, bank pusat di Malaysia akan \_\_\_\_\_ ringgit Malaysia dan \_\_\_\_\_ dolar Singapura.

21. Encik Imran mengimport mesin robot dari Jepun dengan harga 30000 Yen sebuah. Kadar pertukaran asing 1 Yen = RM 4.00. Berapakah wang Malaysia yang digunakan jika Encik Imran ingin membeli mesin itu sebanyak 2 buah.

22. Syarikat US telah mengimport buah-buahan tempatan Malaysia dengan nilai RM40,000. Dengan kadar pertukaran asing US\$ 1 = RM 3.40, berapakah banyak dollar yang digunakan untuk mengimport buah-buahan itu.

23. Jadual di bawah menunjukkan kadar pertukaran Ringgit Malaysia dengan beberapa mata wang asing terpilih.

Unit	Mata wang Asing	Harga Belian (RM)	Harga Jualan (RM)
1	Pound United Kingdom	5.9000	6.0000
100	Renminbi China	46.000	47.000
1000	Yen Jepun	36.200	36.800

a- Nelly menukarkan RM 42000 kepada pound

b- Syeera hendak menukarkan RM 12000 kepada Renminbi China

c- Jai hendak menukarkan Yen 1 000 000 kepada RM

24. Faktor yang mempengaruhi permintaan dan penawaran mata wang Ringgit Malaysia

- i- \_\_\_\_\_
- ii- \_\_\_\_\_
- iii- \_\_\_\_\_
- iv- \_\_\_\_\_
- v- \_\_\_\_\_

25. Apabila nilai RM naik, harga barang eksport akan \_\_\_\_\_ dalam sebutan mata wang asing, maka jumlah barang eksport \_\_\_\_\_. Harga barang import \_\_\_\_\_, maka jumlah barang import \_\_\_\_\_. Nilai barang eksport \_\_\_\_\_ daripada nilai barang import. Kesan,imbangan dagangan \_\_\_\_\_ berlaku.

26. Permintaan RM wujud apabila berlakunya \_\_\_\_\_ dan penawaran RM wujud apabila berlakunya \_\_\_\_\_

27. Senaraikan 2 contoh yang menyebabkan permintaan Ringgit Malaysia bertambah.

- i- \_\_\_\_\_
- ii- \_\_\_\_\_

28. Maklumat yang berikut menunjukkan kadar asing Ringgit Malaysia (RM) dengan won Korea Selatan

W100=RM 0.3631 Julai 2019      W100=RM 0.3540 Ogos 2019

Lengkapkan jadual berikut apabila berlakunya nilai pertukaran tersebut berlaku.

Situasi	Kesan Ke Atas Malaysia	Kesan Ke atas Korea Selatan
Kadar Pertukaran Asing		
Harga Barang Eksport		
Harga Barang Import		
Imbangan dagangan		

29. Maklumat berikut menunjukkan pound sterling dengan RM dan Pound Sterling dengan Euro

Januari 2019	Ogos 2019
1 Pound =RM 5.3616	1 Pound =RM 5.2825
1 pound = Euro 1.1332	1 Pound = Euro 1.1520

Selepas perubahan kadar pertukaran asing, rakyat British mendapati bahawa...

- a- Pound sterling dapat membeli lebih \_\_\_\_\_ tetapi lebih sedikit \_\_\_\_\_
- b- Percutian di Peranchis menjadi lebih \_\_\_\_\_
- c- Percutian di Malaysia menjadi lebih \_\_\_\_\_
- d- \_\_\_\_\_ Euro pada bulan Januari 2019 dan \_\_\_\_\_ pada bulan ogos 2019, membolehkan mereka mendapat keuntungan.

- pilihan jawapan bagi soalan 29 -

Ringgit Malaysia   Euro mahal   murah   membeli   menjual
---

## **6.2 SOALAN OBJEKTIF**

1. Antara berikut, faktor manakah perlu diberi perhatian oleh kerajaan untuk memastikan proses globalisasi terus berlaku?

- I Penyediaan kemudahan infrastruktur.
- II Memberikan galakan pelaburan.
- III Meningkatkan sekatan perdagangan.
- IV Memperketatkan kemasukan buruh.

- A I dan II
- B I dan IV
- C II dan III
- D III dan IV

2. Maklumat berikut berkaitan dengan alat sekatan perdagangan antarabangsa.

<b>Kuota, Embargo, Tarif</b>
------------------------------

Kerajaan melaksanakan sekatan ke atas perdagangan antarabangsa untuk

- I Meningkatkan daya saing industri tempatan
- II Memperbaiki imbangan pembayaran defisit
- III Meningkatkan lambakan barang import
- IV Mengurangkan hutang negara

- A I dan II
- B I dan IV
- C II dan III
- D III dan IV

3. Antara berikut, yang manakah kebaikan liberalisasi perdagangan kepada ekonomi sesebuah negara?

- A Peningkatan pendapatan negara.
- B Berlaku pengkhususan yang berlebihan.
- C Pilihan pengguna yang lebih luas dan pelbagai.
- D Kebergantungan berlebihan kepada rakan dagang.

4. Maklumat berikut berkaitan dengan kadar pertukaran asing antara Ringgit Malaysia dengan Dolar Amerika

<b>RM 2.97 = USD1</b>
-----------------------

- Berapakah nilai sebuah kasut yang berharga USD 70 dalam Ringgit Malaysia?
- A RM 207.00
  - B RM 207.90
  - C RM 150.00
  - D RM 115.00
5. Antara yang berikut yang manakah merupakan ciri globalisasi?
- A Pasaran baharu
  - B Pelaburan baharu
  - C Undang-undang baharu
  - D Sistem percukaian baharu
6. Apakah sebab berlakunya lebihan akaun semasa?
- A Permintaan yang tinggi untuk eksport
  - B Permintaan yang tinggi untuk import
  - C Penurunan produktiviti
  - D Pengurangan penerimaan pendapatan primer dan sekunder
7. Antara yang berikut, yang manakah tujuan sekatan perdagangan antarabangsa?
- A Melindungi taraf hidup masyarakat
  - B Melindungi industri muda tempatan
  - C Melindungi industri berat
  - D Melindungi dasar Negara



8. Kerajaan telah mengharamkan import ayam dari negara China berikutan merebaknya virus Covid 19 yang melanda negara tersebut. Sekatan perdagangan yang manakah berkaitan dengan maklumat di atas?

- A Sekatan bukan ekonomi
- B Embargo
- C Kawalan pertukaran asing
- D Kuota

9. Maklumat yang berikut berkaitan dengan urus niaga Encik Samsuddin.

**Encik Samsuddin membeli sebuah jentera dari Amerika Syarikat yang berharga USD 40 000.**

Jika kadar pertukaran import Ringgit Malaysia dengan Dollar Amerika ialah  $RM1.00 = USD 0.40$ , berapakah yang perlu dibayar oleh Encik Samsuddin kepada pengeksport dari Amerika dalam Ringgit Malaysia?

- A RM 86 400
- B RM 273 600
- C RM 160 000
- D RM 100 000

10. Antara yang berikut yang manakah menunjukkan kesan defisit akaun semasa?

- A Permintaan terhadap barang tempatan adalah rendah menyebabkan pendapatan negara merosot
- B Peningkatan kepada guna tenaga Malaysia
- C Kekurangan sumber ekonomi akibat daripada bencana alam
- D Peningkatan dalam taraf hidup masyarakat

11. Maklumat berikut menunjukkan urus niaga antarabangsa di Negara Y.

<b>Eksport Nampak</b>	<b>RM</b>	<b>102.2 bilion</b>
<b>Import Nampak</b>	<b>RM</b>	<b>82.3bilion</b>

Antara yang berikut yang manakah menunjukkan imbangan pembayaran yang betul.

- A Imbangan pembayaran negatif
- B Imbangan pembayaran positif
- C Imbangan pembayaran seimbang
- D Imbangan pembayaran tidak seimbang

12. Antara faktor-faktor penggalak globalisasi sesebuah negara ialah

- I Ekonomi negara yang semakin liberal
  - II Kewujudan pelbagai syarikat multinasional
  - III Wujudnya blok perdagangan antara wilayah dan rantau
  - IV Pelbagai sekatan ekonomi diperkenalkan oleh sesebuah negara
- A I dan II
  - B I dan III
  - C II dan IV
  - D III dan IV

13. Faktor yang menyebabkan perdagangan antarabangsa antara Malaysia dan Jepun ialah

- A Mata wang negara yang berbeza
- B Anugerah alam semuladi yang sama
- C Kemahiran buruh mahir yang berbeza
- D Citarasa penduduk dan gaya hidup yang sama

14. Antara yang berikut, yang manakah kesan tarif ke atas ekonomi sesebuah negara?

- A Menurunkan harga barangan import
- B Meningkatkan kos pengeluaran tempatan
- C Menurunkan pengeluaran firma tempatan
- D Meningkatkan penggunaan keluaran tempatan

15. Komposisi ekport nampak Malaysia terdiri daripada
- A Jualan minyak sawit Malaysia di Australia
  - B Perkhidmatan Penerbangan MAS ke Vietnam
  - C Kereta Ferrari buatan negara Itali
  - D Konsert kumpulan K-Pop Super Junior dari Korea Selatan
16. Antara yang berikut, yang manakah merupakan butiran dalam akaun semasa
- I Akaun pelaburan langsung
  - II Akaun pindahan modal
  - III Akaun pendapatan primer
  - IV Pelaburan pendapatan sekunder
- A I dan II
  - B I dan III
  - C II dan IV
  - D III dan IV
17. Maklumat di bawah menunjukkan kadar pertukaran asing antara Ringgit Malaysia dengan Dollar Amerika.

<b>USD1 = RM4.50</b>
----------------------

Hitungkan jumlah Ringgit Malaysia yang diperlukan oleh Ikhwan yang ingin membeli sehelai baju yang bernilai USD 130 ketika melancong di Texas.

- A RM 30.84
- B RM 128.00
- C RM 132.15
- D RM 585.00

18. Peningkatan nilai Ringgit Malaysia berbanding Dollar Amerika Syarikat menyebabkan
- A Eksport Malaysia menyamai importnya
  - B Malaysia lebih banyak mengimport daripada mengeksport
  - C Malaysia lebih banyak mengeksport daripada mengimport
  - D Kuasa beli Ringgit Malaysia di pasaran antarabangsa menjadi rendah
19. Antara yang berikut manakah merupakan tujuan kerajaan mengenakan kuota terhadap barang import?
- A Menggalakkan penawaran barang import
  - B Memperbaiki imbalan pembayaran
  - C Meningkatkan kadar pengangguran
  - D Menambahkan pendapatan negara
20. Faktor manakah yang mempengaruhi permintaan dan penawaran mata wang asing?
- A Citarasa pengguna terhadap barangan import
  - B Membayar balik pinjaman luar negara
  - C Peluang pelaburan di negara lain
  - D Membiayai import
21. Maklumat yang berikut berkaitan dengan sebab wujudnya perdagangan antarabangsa.

Indonesia mengeluarkan dan mengeksport kain ke Malaysia.

Apakah faktor tersebut?

- A Harga faktor
- B Iklim dan tanah
- C Sumber semula jadi
- D Tingkat kecekapan pengeluaran

22. Jadual di bawah menunjukkan kadar pertukaran antara Ringgit Malaysia (RM) dengan beberapa mata wang negara asing.

Mata wang	Harga belian (RM)	Harga jualan (RM)
1 Euro	4.9370	4.9780

Seorang pelancong Eropah ingin menukarkan 400 Euro kepada Ringgit Malaysia. Berapakah Ringgit Malaysia yang diterima oleh pelancong tersebut?

- A RM 80.35
- B RM 81.02
- C RM 1 974.80
- D RM 1 991.20

23. Mengapakah perdagangan antarabangsa penting kepada Malaysia?

- I Pengkhususan yang berlebihan
  - II Meningkatkan peluang pekerjaan
  - III Menjalin hubungan sosial dan ekonomi
  - IV Mewujudkan persaingan kepada industri muda
- A I dan II
  - B I dan IV
  - C II dan III
  - D III dan IV

24. Antara berikut, yang manakah merupakan import barang nampak Malaysia

- A Barang pengguna
- B Barang pelaburan
- C Barang pembuatan
- D Barang perantaraan

25. Antara berikut, pernyataan manakah yang betul tentang peningkatan pelaburan langsung asing ke Malaysia?
- A Pengurangan peluang pekerjaan
  - B Pemilikan ekuiti asing bertambah
  - C Penawaran Ringgit Malaysia bertambah
  - D Keseimbangan upah pekerja firma tempatan dan asing
26. Situasi manakah yang menyumbang kepada lebihan akaun semasa?
- I Peningkatan kemahiran buruh
  - II Permintaan yang tinggi untuk eksport
  - III Kenaikan nilai mata wang Ringgit Malaysia
  - IV Barang eksport Malaysia kurang berdaya saing
- A I dan II
  - B I dan IV
  - C II dan III
  - D III dan IV
27. Antara berikut, yang manakah dicatatkan sebagai pendapatan sekunder?
- A Kiriman wang
  - B Pampasan pekerja
  - C Dividen daripada pelaburan
  - D Bayaran penggunaan aset kerajaan
28. Apakah kesan kejatuhan nilai Ringgit Malaysia?
- A Eksport Malaysia akan merosot
  - B Import Malaysia akan bertambah
  - C Imbangan dagangan boleh menjadi negatif
  - D Aliran masuk wang ke dalam negara bertambah

29. Maklumat berikut berkaitan dengan sekatan perdagangan antarabangsa.

Bank pusat mengehendkan jualan Euro dalam pasaran.

Manakah bentuk sekatan yang betul?

- A Tarif
- B Kuota
- C Subsidi eksport
- D Kawalan pertukaran asing

30. Maklumat di bawah menunjukkan kadar pertukaran antara Ringgit Malaysia (RM) dengan Dollar Singapura (SGD).

**RM 1.00 = SGD 0.3**

Berapakah nilai dalam Ringgit Malaysia jika seorang pelajar membeli sebuah buku berharga SGD120 melalui sebuah portal atas talian?

- A RM 200
- B RM 255
- C RM 300
- D RM 400

31. Situasi manakah yang menyebabkan imbalan dagangan cenderung menjadi positif?

- A Kemasukan pelaburan asing ke Malaysia.
- B Peningkatan pelancong asing ke Malaysia.
- C Peningkatan eksport getah asli ke Thailand
- D Bilangan pelajar Malaysia di luar negara meningkat.

32. Maklumat di bawah mengenai sebuah syarikat multinasional.

Nestlé merupakan pengilang terbesar dunia untuk produk makanan dan minuman. Beribu pejabat di Switzerland, Nestlé kini berada di 191 buah negara di seluruh dunia.

Manakah antara berikut merupakan faktor pendorong syarikat berkenaan membuka cawangan di luar negara?

- I Kekurangan pasaran di negara asal
  - II Kekurangan bahan mentah di negara asal
  - III Sekatan perdagangan oleh negara asal
  - IV Upah buruh rendah di negara asal
- A I dan II  
B I dan IV  
C II dan III  
D III dan IV

33. Manakah merupakan kesan positif blok ekonomi ke atas negara-negara membangun?

- A Perkongsian sumber tenaga dan bahan mentah tempatan dengan negara luar
- B Mobiliti modal dan tenaga kerja tempatan ke negara luar tanpa sekatan
- C Persaingan antara barang import berharga murah dengan keluaran tempatan
- D Peluasan pasaran keluaran tempatan menembusi pasaran negara luar



34. Seorang pelancong dari Amerika Syarikat ingin membeli seutas jam tangan yang berharga RM 2000 di sebuah pasar raya di Melaka. Berapakah harga jam tersebut dalam Dolar Amerika Syarikat sekiranya kadar pertukaran 1USD adalah seperti jadual di bawah.

Harga jualan (RM)	Harga belian (RM)
4.16	4.08

- A USD 8320  
 B USD 8160  
 C USD 480.76  
 D USD 490.19
35. Maklumat di bawah mengenai situasi yang berkaitan dengan akaun semasa.

**Jumlah pekerja asing di Malaysia telah menurun, dari tahun 2015 hingga 2017 daripada 2.1 kepada 1.7 orang**

Apakah implikasi situasi tersebut?

- I Pembayaran pendapatan sekunder meningkat  
 II Pembayaran pendapatan primer menurun  
 III Menyumbang kepada lebihan dalam akaun semasa  
 IV Menyumbang kepada defisit dalam akaun semasa
- A I dan II  
 B I dan IV  
 C II dan III  
 D III dan IV

36. Maklumat di bawah mengenai perdagangan antarabangsa.

Sabah: Kementerian Pertanian dan Industri Asas Tani menyasarkan pengeksporan durian sejuk beku dalam bentuk ulas dan pes ke China sebanyak 333,716 tan metrik dengan nilai eksport sebanyak RM 450 juta, tahun ini.

Apakah kepentingan eksport barang tersebut kepada rakyat negara China.

- A Dapat menikmati barang dengan harga yang lebih murah
- B Dapat memperoleh barang yang tidak dikeluarkan dalam negara
- C Dapat menggalakkan pemindahan dan penggunaan teknologi
- D Dapat meningkatkan pelaburan rakyat Malaysia di China

37. Maklumat berikut berkaitan suatu jenis sekatan perdagangan antarabangsa.

**Kementerian Kesihatan Bahagian Keselamatan dan Kualiti Makanan bertanggung jawab memastikan produk makanan di pasaran tempatan dan diimport mematuhi Akta Makanan 1983.**

Apakah bentuk sekatan perdagangan di atas?

- A Tarif
- B Kuota
- C Embargo
- D Sekatan bukan ekonomi

38. Manakah yang benar tentang imbalan pembayaran?
- I Satu rekod sistematik bagi jumlah urus niaga eksport dan import sesebuah negara dengan negara lain pada satu tahun kewangan
  - II Satu rekod sistematik bagi penerimaan dan pembayaran kewangan sesebuah negara dengan negara lain dalam tempoh satu tahun
  - III Pendapatan rakyat Malaysia yang bekerja di luar negara direkod sebagai kredit
  - IV Perbelanjaan pelancong asing yang melancong di Malaysia direkod sebagai debit
- A I dan II  
B I dan IV  
C II dan III  
D III dan IV
39. Manakah yang merupakan kesan negatif daripada globalisasi?
- A Kadar pengangguran berkurang
  - B Taraf hidup masyarakat menurun
  - C Kurang daya saing industri tempatan
  - D Kejatuhan nilai mata wang negara
40. Perjanjian Kawasan Perdagangan Asean (AFTA) dilakukan dengan tujuan untuk
- A Menarik pelaburan asing langsung ke negara anggota
  - B Mengurangkan pengangguran dalam kalangan negara anggota
  - C Memperoleh barang dagangan dari negara maju dengan lebih murah
  - D Mewujudkan monopoli dalam pengeluaran barang di negara anggota

Soalan 41 hingga soalan 50 berdasarkan pilihan jawapan seperti jadual berikut.

Pilihan	Pernyataan 1	Pernyataan 2
A	Betul	Salah
B	Salah	Betul
C	Betul	Betul
D	Salah	Salah

41. I Kuota dapat mengurangkan penawaran barang import.  
 II Kenaikan dalam kuota akan meningkatkan jumlah hasil kerajaan.
42. I Syarikat multinasional melabur di luar negara untuk menikmati tarif yang rendah.  
 II Pelaburan langsung asing akan meningkatkan stok modal dalam negara.
43. I Akaun Semasa terdiri daripada akaun barangan, akaun perkhidmatan dan akaun modal.  
 II Kesan akaun semasa lebih menyebabkan kenaikan mata wang negara tersebut.
44. I Penurunan nilai Ringgit Malaysia dapat memperbaiki imbangan dagangan defisit.  
 II Kenaikan nilai Ringgit Malaysia disebabkan oleh lebih penawaran Ringgit Malaysia.
45. I Permintaan yang tinggi terhadap import menyebabkan berlaku lebih akaun semasa.  
 II Akaun semasa merekodkan nilai eksport dan import barang serta perkhidmatan dan pendapatan.

46. I Perdagangan antarabangsa membantu masyarakat memperoleh barangan yang tidak dikeluarkan oleh negara.  
II Sekatan bukan ekonomi bertujuan menjamin keselamatan pengguna
47. I Entrepot bermaksud membeli barang dari luar negara dan menjual semula kepada negara lain  
II Entrepot berlaku disebabkan pengeluaran barang melebihi keperluan atau penggunaan rakyat tempatan
48. I Sekatan perdagangan antarabangsa dapat memperbaikiimbangan pembayaran Negara  
II Sekatan perdagangan antarabangsa berupaya meningkatkan permintaan terhadap barangan import.
49. I Pendapatan sekunder dalam akaun semasa terdiri daripada pendapatan pelaburan, pampasan pekerja dan derma  
II Pendapatan sekunder dalam akaun semasa adalah pendapatan dalam bentuk bayaran pindahan
50. I Import barang nampak, barang pengantara terdiri daripada barang bahan api dan alat ganti  
II Import barang nampak, barang modal terdiri daripada mesin dan jentera

**6.3 SOALAN BAHAGIAN A**

1. (i) Apakah maksud globalisasi?

.....  
.....  
.....  
.....

[2 markah]

(ii) Terangkan dua ciri globalisasi

.....  
.....  
.....  
.....  
.....  
.....  
.....  
.....

[4 markah]

2. Huraikan faktor peranan kerajaan dalam menggalakkan globalisasi di Malaysia.

.....  
.....  
.....  
.....  
.....  
.....  
.....  
.....

[4 markah]

3. Jelaskan kemajuan teknologi dalam mempengaruhi globalisasi di Malaysia.

.....  
.....  
.....  
.....  
.....  
.....  
.....  
.....  
.....

[5 markah]

4. (i) Apakah maksud syarikat multinasional ?

.....  
.....  
.....

[2 markah]

(ii) Jelaskan ciri-ciri syarikat multinasional?

.....  
.....  
.....  
.....

[3 markah]

(iii) Jelaskan sebab-sebab firma terlibat dalam operasi antarabangsa?

.....  
.....  
.....  
.....  
.....

[3 markah]

(iv) Terangkan tiga risiko yang dihadapi syarikat multinasional.

.....  
.....  
.....  
.....  
.....  
.....  
.....  
.....

[6 markah]

5. (i) Jelaskan bentuk pelaburan langsung asing yang boleh dilakukan?

.....  
.....  
.....  
.....  
.....  
.....

[3 markah]

(ii) Jelaskan implikasi negatif pelaburan langsung asing terhadap ketidakseimbangan pendapatan.

.....  
.....  
.....  
.....  
.....  
.....  
.....  
.....

[4 markah]



6. Mengapakah pindahan teknologi dianggap sebagai implikasi positif dalam pelaburan asing sesebuah negara.

.....  
.....  
.....  
.....  
.....  
.....  
.....

[4 markah]

7. Terangkan dua halangan bagi perdagangan antarabangsa yang menjejaskan industri berorientasikan eksport.

.....  
.....  
.....  
.....  
.....  
.....  
.....

[4 markah]

8. Terangkan tiga sebab wujud perdagangan antarabangsa.

.....  
.....  
.....  
.....  
.....  
.....  
.....  
.....  
.....

[6 markah]

9. Maklumat berikut berkaitan dengan perdagangan antarabangsa.

**Eksport Negara Lebih Kukuh**

Kuala Lumpur 30 Oktober – Eksport negara diunjur berkembang lebih tinggi sekitar 20% tahun ini terutama disokong oleh pertumbuhan ekonomi domestik yang dijangka tumbuh 8%. Dengan prospek global yang dijangka kekal sihat, peningkatan dalam perniagaan global dan keyakinan pengguna di negara membangun dan ekonomi baharu muncul, ia akan terus memberi kelebihan kepada eksport Malaysia.

*(Sumber : Utusan Online 12 Disember 2018)*

Jelaskan lima kepentingan perdagangan antarabangsa selain daripada kenyataan di atas kepada negara.

.....

.....

.....

.....

.....

.....

.....

.....

.....

.....

[5 markah]

10. Gambar di bawah menunjukkan suatu perjanjian blok ekonomi.



(i) Apakah tujuan perjanjian di atas ?

.....

.....

.....

.....

.....

[3 markah]

(ii) Jelaskan kesan negatif perjanjian tersebut.

.....

.....

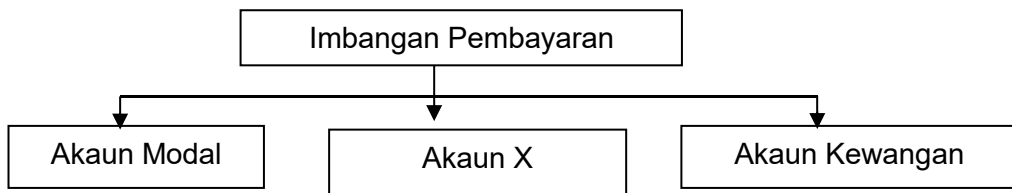
.....

.....

.....

[3 markah]

11. Rajah di bawah menunjukkan komponen dalam imbalan pembayaran.



(i) Apakah Akaun X dalam imbalan pembayaran?

.....

.....

[1 markah]

(ii) Terangkan butiran dalam Akaun X.

.....

.....

.....

.....

.....

.....

.....

[4 markah]

12. Maklumat berikut berkaitan dengan perdagangan antarabangsa.

Malaysia merupakan sebuah negara beriklim khatulistiwa dan sentiasa panas dan lembap. Dengan keadaan iklim yang sesuai ini dapat menggalakkan pelbagai aktiviti ekonomi di Malaysia.

Wajarkah negara Malaysia menjadi pusat perdagangan antarabangsa?  
Jelaskan.

.....

.....

.....

.....

.....

.....

.....

.....

.....

.....

[5 markah]

13. Mengapa lebihan akaun semasa memberi kesan positif terhadap ekonomi negara.

.....

.....

.....

.....

.....

.....

.....

.....

.....

.....

[4 markah]

14. Maklumat berikut berkaitan dengan kadar pertukaran asing di Pasaran Pertukaran Asing Malaysia.

Kemerosotan nilai Ringgit Malaysia melonjakkan pelancongan domestik apabila lebih ramai rakyat tempatan memilih untuk melancong di dalam negara daripada membuat perjalanan keluar negara, kata ketua Pegawai Eksekutif Persatuan Ejen-ejen Pelancongan dan Pengembaraan Malaysia (MATTA).

Sumber: <http://www.bernama.com/bernama/>

Jelaskan implikasi situasi tersebut kepadaimbangan dagangan Malaysia.

.....

.....

.....

.....

.....

.....

.....

.....

.....

[6 markah]

15. Jadual di bawah menunjukkan senarai komponenimbangan akaun semasa Malaysia pada tahun 2017

Butiran	Bersih (RM Juta)
Eksport	298 576
Import	185 685
Pengangkutan	-2 570
Kewangan	1 304
telekomunikasi	706
Pampasan Pekerja	15 385
Pendapatan Pelaburan	-8790
Pendapatan Sekunder	21 500

Hitungkan imbangan akaun pada tahun tersebut.

(i) Imbangan Dagangan

.....  
.....  
.....  
.....  
.....

[2 markah]

(ii) Imbangan Perkhidmatan

.....  
.....  
.....  
.....  
.....  
.....  
.....

[3 markah]

(iii) Pendapatan

.....  
.....  
.....  
.....  
.....  
.....  
.....

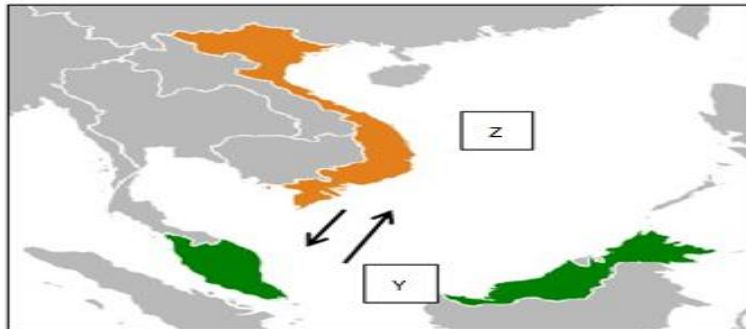
[3 markah]

(iv) Akaun Semasa

.....  
.....  
.....  
.....  
.....  
.....  
.....

[3 markah]

16. Rajah di bawah menunjukkan suatu urus niaga di antara dua buah negara.



(i) Apakah urus niaga antara Negara Y dan Negara Z di atas?

.....

[1 markah]

(i) Nyatakan faktor berlakunya urus niaga di (i).

.....  
.....  
.....  
.....  
.....  
.....  
.....

[3 markah]

17. Berikut merupakan pernyataan tentang satu urusan niaga dan kadar pertukaran asing.

Unit	Mata wang	Harga Belian (RM)	Harga Jualan (RM)
1	Dolar Singapura	10. 8	3.7

Seorang pengimport dari Malaysia telah mengimport perabot yang bernilai RM 50 000 dari Singapura.

(i) Berapakah jumlah Dolar Singapura yang diperlukan oleh pengimport Malaysia tersebut untuk membuat pembayaran kepada Singapura?

.....  
 .....  
 .....

[2 markah]

(ii) Jelaskan kesan perubahan pertukaran asing ini kepadaimbangan dagangan Malaysia?

.....  
 .....  
 .....  
 .....  
 .....  
 .....

[5 markah]

18. Kadar Ringgit Malaysia berbanding dolar Amerika berubah daripada USD1=RM 4.0520 kepada USD1 = RM 4.2000

(i) Hitung peratus perubahan nilai ringgit Malaysia berbanding dengan Dolar Amerika Syarikat.

.....  
 .....  
 .....

[2 markah]



(ii) Jelaskan kesan terhadap imbangan dagangan Malaysia.

.....  
.....  
.....  
.....  
.....

[4 markah]

19. Terangkan dua faktor yang menyebabkan pengurangan permintaan terhadap Ringgit Malaysia.

.....  
.....  
.....  
.....  
.....  
.....  
.....

[4 markah]

20. (i) Maklumat di bawah menunjukkan faktor yang mempengaruhi permintaan mata wang asing.

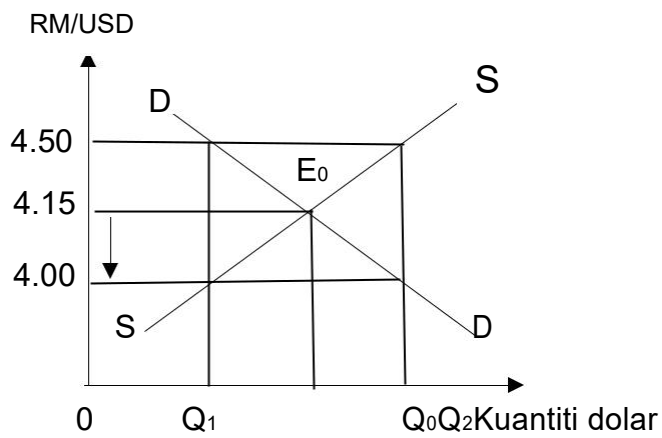
- Citarasa pengguna terhadap barang import
- Spekulasi mata wang

Selain faktor di atas, terangkan dua faktor yang lain mempengaruhi permintaan mata wang asing.

.....  
.....  
.....  
.....  
.....  
.....  
.....

[4 markah]

- (ii) Rajah di bawah menunjukkan kadar pertukaran Ringgit Malaysia (RM) dengan Dolar Amerika (USD).



Jelaskan keadaan pasaran pertukaran asing apabila berlaku perubahan dalam kadar pertukaran di atas.

.....

.....

.....

.....

.....

.....

.....

.....

.....

.....

.....

[5 markah]

## **6.4 SOALAN BAHAGIAN B**

1. Maklumat berikut berkaitan dengan operasi sebuah bank tempatan.



Pasaran utama meliputi Malaysia, Singapura dan Indonesia. Beroperasi di semua negara ASEAN dengan rangkaian 1,177 cawangan. Memiliki operasi di pusat kewangan antarabangsa di Hong Kong, Shanghai, London, New York dan Bahrain. Mencatat pendapatan operasi bersih sebanyak RM21.2 bilion dengan jumlah aset sebanyak RM708 bilion.

- (a) Wajarkah, syarikat tersebut dianggap sebagai sebuah syarikat multinasional? Kemukakan alasan anda. [4 markah]
- (b) Kemukakan alasan faktor yang mendorong bank tersebut beroperasi di semua negara ASEAN? [7 markah]
- (c) Bincangkan, tindakan syarikat ini bagi memastikan pendapatan operasinya sentiasa meningkat saban tahun. [9 markah]

## 2. Berdasarkan maklumat di bawah.

Dalam persekitaran globalisasi, pergerakan trafik maritim dalam kalangan negara-negara benua Asia telah meningkat dengan mendadak sejak kebelakangan ini. Jumlah dagangan Intra-Asia sahaja telah mengatasi dagangan di antara Asia dan negara-negara barat dalam dekad lalu. Pelabuhan-pelabuhan Asia memproses hampir 50% dari jumlah pergerakan kontainer dunia di mana 25% dari jumlah ini membabitkan China 7%. Dengan ini, peningkatan fenomena globalisasi, pembinaan dan kenaikan taraf pelabuhan, integrasi kejuruan dalam kalangan negara-negara Asia. Dengan keadaan ini, wujud lebih akaun semasa dalam negara.

*Sumber: Ubah suai daripada Insititut Martim Malaysia, 2017*

- (a) Jelaskan implikasi akaun semasa di atas. [5 markah]
- (b) Terangkan faktor-faktor yang mempengaruhi Malaysia terlibat dalam globalisasi [6 markah]
- (c) Ramalkan, impak pelaburan langsung asing terhadap negara. [9 markah]

3. Maklumat berikut berkaitan dengan industri automotif negara.

**Industri automotif negara perlu dilindungi - PM**

KUALA LUMPUR: Kerajaan akan melaksanakan kajian semula Dasar Automotif Negara (NAP) bertujuan melindungi industri terbabit agar kekal kompetatif. Perdana Menteri berkata kajian itu meliputi pembangunan industri automotif tempatan, aktiviti penyelidikan dan pembangunan serta peningkatan eksport. Kebanyakan negara pengeluar kereta mempunyai dasar dalam sekatan import kenderaan asing.

*Sumber: Ubahsuai BH Online, 30 Julai 2018*

- (a) Adakah anda bersetuju dengan pelaksanaan kajian semula tersebut? Kemukakan hujah anda. [4 markah]
- (b) Dengan bantuan gambar rajah yang sesuai, jelaskan satu jenis sekatan import yang boleh dilaksanakan oleh kerajaan. [7 markah]
- (c) Tindakan kerajaan pada **3(b)** telah memberi kesan terhadap ekonomi secara keseluruhan. Bincangkan. [9 markah]

4. Maklumat di bawah berkaitan dengan aktiviti dalam suatu sektor ekonomi.

Sektor pelancongan menyumbang RM84.1bilion kepada pendapatan negara melalui kunjungan kira-kira 25.8 juta pelancong antarabangsa dalam tahun 2018. Pelancongan merupakan tarikan utama pelancong dari Singapura, Indonesia dan China.

Levi penerbangan dikenakan ke atas semua pelancong yang berlepas dari Lapangan Terbang Malaysia. Levi sebanyak RM20 dikenakan untuk penerbangan ke negara ASEAN dan RM40 untuk ke negara lain.

*Sumber: Berita Nasional, 27 Februari 2019*

- (a) Huraikan komposisi dagangan di atas. [4 markah]
- (b) Mengapakah perjanjian perdagangan wujud antara negara-negara ASEAN. [7 markah]
- (c) Tindakan pengenaan levi tersebut adalah tidak wajar kerana banyak kesan negatif ke atas industri pelancongan negara. Huraikan alasan anda. [9 markah]

5. Maklumat berikut situasi penuntut Malaysia di luar negara.

**Ringgit merudum, pelajar Malaysia di luar negara tertekan**

- (a) Penuntut Malaysia di luar negara merupakan sebahagian komposisi dagangan Malaysia. Jelaskan. [4 markah]
- (b) Berdasarkan maklumat diatas, kadar pertukaran asing antara Dollar Amerika dengan Ringgit Malaysia  $1\text{USD} = \text{RM } 4.10$ .  
Terangkan berdasarkan gambar rajah yang sesuai kadar pertukaran tersebut ditentukan. [7 markah]
- (c) Kejatuhan Ringgit Malaysia yang berterusan, bukan sahaja memberi kesan kepada golongan pelajar di luar negara, malah kesannya juga kepada ekonomi negara. Bincangkan. [9 markah]

**SOALAN TAMAT**

## Skema Pemarkahan

Malaysia dan Ekonomi  
Global

# Bab Enam





## **SKEMA PEMARKAHAN 6.1 PENGUKUHAN KONSEP**

1. Empat ciri globalisasi **pasaran baharu, peserta baharu, kaedah komunikasi baharu** dan **peraturan dan norma baharu**. (m/s 121)
  
2. Dorongan syarikat multinasional dalam operasi antarabangsa
  - a- **Meluaskan pasaran**      d- **bahan mentah atau hasil bumi yang unik**
  - b- **perlindungan perdagangan** e- **tenaga buruh dengan kemahiran khusus**
  - c- **kos pengangkutan yang tinggi** (m/s 124-126)
  
3. Jadual di bawah dengan menyatakan sebab-sebab wujudnya antara bangsa. (m/s 141-144)

Situasi	Sebab
Itali mengeksport anggur dan oren ke negara di Asia Tenggara	<b>Iklim dan jenis tanah</b>
Vietnam mengeluarkan pakaian dan kasut kerana upah yang rendah	<b>Harga faktor</b>
Jepun mengkhusus dalam pengeluaran robot	<b>Kecekapan pengeluaran</b>
Rakyat Malaysia sukakan ikan Salmon	<b>Cita rasa pengguna</b>

4. Nyatakan 5 kepentingan perdagangan antarabangsa (m/s 145)
  - **memperoleh barang yang tidak dikeluarkan dalam negara**
  - **meluaskan pasaran**
  - **menambah pendapatan negara**
  - **menggalakkan pemindahan teknologi**
  - **menikmati barang dengan harga yang lebih murah**
  - **meningkatkan kecekapan pengeluaran**
  - **menawarkan pilihan pengguna yang pelbagai**
  - **menambah peluang pekerjaan**
  - **menggalakkan mobiliti tenaga buruh**
  - **menggalakkan pelaburan**
  - **mewujudkan hubungan baik dengan rakan dagang**

5. Senaraikan bentuk sekatan perdagangan antarabangsa (m/s 149)

- a- tarif
- b- subsidi
- c- kuota
- d- kawalan pertukaran asing
- e- embargo
- f- sekatan bukan ekonomi

6. Nyatakan jenis sekatan perdagangan antarabangsa berdasarkan pernyataan diberi. (m/s 149-151)

Situasi	Bentuk Sekatan
Kerajaan hendak melindungi petani dan meningkatkan hasil kewangan	<b>subsidi</b>
Kerajaan mengehadkan jumlah barang import	<b>kuota</b>
Kerajaan melarang kemasukan barang import Israel	<b>embargo</b>
Bank Negara mengehadkan penjual USD10 juta terhadap pengimport tempatan	<b>Kawalan pertukaran asing</b>
Kerajaan Malaysia menghentikan import daging lembu dari Australia kerana dikhuatiri tidak selamat dimakan.	<b>Sekatan bukan ekonomi</b>
Cukai dikenakan terhadap barang dan perkhidmatan yang diimport	<b>Tarif</b>

7. Tujuan sekatan perdagangan antarabangsa (m/s 152)

- a- melindungi industri muda tempatan
- b- menghadapi persaingan
- c- sebagai sumber hasil kerajaan
- d- mewujudkan peluang pekerjaan
- e- memperbaiki imbalanced pembayaran
- f- keselamatan
- g- mengatasi masalah lambakan

8. Eksport barang nampak terdiri daripada pertanian, perlombongan dan pembuatan (m/s 177)

9. Import barang nampak terdiri daripada barang **pengantara**, barang **modal** dan **barang pengguna** (m/s 180)
10. Berdasarkan urus niaga berikut, tentukan kategorinya ekport nampak / tak nampak atau import nampak / tak nampak (m/s 177-182)

Ketibaan pelancong asing ke Malaysia	<b>Eksport Tak nampak</b>
Penghantaran dividen dan keuntungan oleh korporat multinasional asing	<b>Import Tak Nampak</b>
Firma C&B menjual buah-buahan segar ke Timur Tengah	<b>Eksport nampak</b>
Kerajaan Malaysia memberi sumbangan kewangan kepada mangsa gempa bumi di Indonesia	<b>Import Tak Nampak</b>
Pasukan Badminton India menggunakan khidmat juru latih dari Malaysia	<b>Import Tak Nampak</b>
Syarikat Setia Rasa memesan jentera dari Jepun	<b>Import Nampak</b>
Malaysia menjual minyak sawit ke Korea selatan	<b>Eksport Nampak</b>

11. Lengkapkan jadual di bawah. (m/s 189)

Tahun	Eksport (RM Juta)	Import (RM Juta)	Imbangan Dagangan (RM Juta)
2014	765 416.7	682 937.1	<b>824796.1</b>
2015	777 355.1	<b>86893.17</b>	91 576.6
2016	<b>707 664.2</b>	698 818.7	8 845.5

12. Imbangan akaun semasa (m/s 189)

= **Akaun dagangan** + **Akaun perkhidmatan** + Imbangan pendapatan

13. Defisit akaun semasa Malaysia menyebabkan nilai RM **jatuh/susut nilai** kerana wujud lebihan penawaran **wang RM** di pasaran pertukaran asing.  
(m/s 199)

14. Nyatakan jenis akaun yang berkaitan dengan pernyataan yang diberi.

Pernyataan	Jenis akaun
Kerajaan Malaysia telah membelanjakan RM 10 juta untuk penginapan dan pengangkutan anggota rombongan di luar negara untuk mempromosikan Tahun Melawat Malaysia 2018	<b>Akaun Perkhidmatan</b>
Encik Tan yang bekerja di Singapura menghantar wang kepada ibu bapanya di Malaysia	<b>Akaun Pendapatan</b>
Syarikat T&R membayar upah pekerja dari Indonesia	<b>Akaun Pendapatan</b>
Firma R&Z tempatan memesan buah kurma dari Kuwait	<b>Akaun dagangan</b>

15. Menggunakan maklumat daripada jadual di bawah, kirakan: (m/s 189-191)

Perkara	Nilai Bersih (RM juta)
Pengangkutan	385 668
Eksport kerajaan	14 124
Urusan kerajaan	33
Pindahan semasa	-8 728
Perkhidmatan lain	-17 178
Import barang nampak	313 840
Pendapatan	-30 490
Perjalanan	20 784

(i) Imbangan akaun dagangan

**Eksport kerajaan - Import Barang Nampak**

**14 124 - 313 840 = RM - 299 716 juta**

(ii) Imbangan akaun perkhidmatan

**Pengangkutan + Urusan kerajaan - perkhidmatan lain + perjalanan**

**385 668 + 33 - 17 178 - 17 178 + 20 784 = RM 389 307 juta**

(iii) Imbangan akaun semasa

**Akaun dagangan + akaun perkhidmatan - pendapatan - pindahan semasa**

**- RM 299 716 + RM 389 307 - RM 304 90 - RM 8728 = RM 503 73 juta**

16. Empat sebab lebihan akaun semasa ialah (m/s 194)

- a- permintaan yang tinggi untuk eksport
- b- permintaan yang rendah untuk import
- c- peningkatan produktiviti
- d- peningkatan pendapatan primer /sekunder

17. Maksud pertukaran asing ialah mata wang negara lain yang dimiliki oleh sesebuah negara. (m/s 203)

18. Kepentingan pertukaran asing (m/s 204)

- a- Membiayai import
- b- Membayar balik pinjaman luar negara
- c- Membuat pelaburan di luar negara
- a- Mempertahankan nilai mata wang negara

19. Bagi rakyat Malaysia, mata wang Yen Jepun ialah pertukaran asing manakala bagi rakyat Jepun, Ringgit Malaysia merupakan pertukaran asing di negara Jepun. (m/s 203)

20. Apabila nilai Ringgit Malaysia jatuh berbanding dengan dolar Singapura, bank pusat di Malaysia akan membeli Ringgit Malaysia dan menjual dolar Singapura. (m/s 205)

21. Encik Imran mengimport mesin robot dari Jepun dengan harga 30000 Yen sebuah. Kadar pertukaran asing 1 yen = RM 4.00. Berapakah wang Malaysia yang digunakan jika Encik Imran ingin membeli mesin itu sebanyak 2 buah. (m/s 206)

**3000 yen X 4 X 2 = RM 24 000**

22. Syarikat US telah mengimport buah-buahan tempatan Malaysia dengan nilai RM40,000. Dengan kadar pertukaran asing US\$ 1 = RM 3.40, berapakah banyak dollar yang digunakan untuk mengimport buah-buahan itu. (m/s 206)

$$\text{RM } 40\,000 / 3.40 = \text{US\$ } 11764.705$$

23. Jadual di bawah menunjukkan kadar pertukaran Ringgit Malaysia dengan beberapa mata wang asing terpilih. (m/s 206)

Unit	Mata wang Asing	Harga Belian (RM)	Harga Jualan (RM)
1	Pound United Kingdom	5.9000	6.0000
100	Renminbi China	46.000	47.000
1000	Yen Jepun	36.200	36.800

- a- Nelly menukarkan RM 42000 kepada pound

$$\text{RM } 42\,000 / \text{Harga belian } 6.000 = \text{Pound } 7000$$

- b- Syeera hendak menukarkan RM 12000 kepada Renminbi China

$$\text{RM } 12\,000 / \text{Harga Belian } 47.000 = \text{Renminbi China } 255.319$$

- c- Jai hendak menukarkan Yen 1 000 000 kepada RM

$$\text{Yen } 1\,000\,000 \times \text{Harga Belian } 36.200 = \text{RM } 36\,200\,000$$

24. Faktor yang mempengaruhi permintaan dan penawaran mata wang Ringgit Malaysia (m/s 212)

i- Eksport negara

ii- Import negara

iii- Kadar faedah

iv- Cita rasa pengguna terhadap barangan import

v- Spekulasi mata wang

25. Apabila nilai RM naik, harga barang eksport akan **mahal** dalam sebutan mata wang asing, maka jumlah barang eksport **berkurangan** .Harga barang import **murah**, maka jumlah barang import **bertambah** .  
Nilai barang eksport **berkurangan/jatuh** daripada nilai barang import.  
Kesan, imbangan dagangan **defisit/kurangan** berlaku.
26. Permintaan RM wujud apabila berlakunya **eksport** dan penawaran RM wujud apabila berlakunya **import**
27. Senaraikan 2 contoh yang menyebabkan permintaan Ringgit Malaysia bertambah.
- i- Eksport kelapa sawit ke Thailand bertambah**
- ii- Pelancong asing bertambah di malaysia**  
**( atau contoh lain yang sesuai )**
28. Maklumat yang berikut menunjukkan kadar asing Ringgit Malaysia (RM) dengan won Korea Selatan

W100=RM 0.3631 Julai 2019      W100=RM 0.3540 Ogos 2019

Lengkapkan jadual berikut apabila berlakunya nilai pertukaran tersebut berlaku.

Situasi	Kesan Ke Atas Malaysia	Kesan Ke atas Korea Selatan
Kadar Pertukaran Asing	<b>Kenaikan</b>	<b>Turun</b>
Harga Barang Eksport	<b>Mahal</b>	<b>Murah</b>
Harga Barang Import	<b>Murah</b>	<b>Mahal</b>
Imbangan dagangan	<b>Defisit</b>	<b>Lebihan</b>

29. Maklumat berikut menunjukkan pound sterling dengan RM dan Pound Sterling dengan Euro

Januari 2019	Ogos 2019
1 Pound =RM 5.3616	1 Pound =RM 5.2825
1 pound = Euro 1.1332	1 Pound = Euro 1.1520

Selepas perubahan kadar pertukaran asing, rakyat British mendapati bahawa..

- a- Pound sterling dapat membeli lebih **Euro** tetapi lebih sedikit **Ringgit Malaysia**
- b- Percutian di Peranchis menjadi lebih **murah**
- c- Percutian di Malaysia menjadi lebih **mahal**
- d- **Membeli** euro pada bulan Januari 2019 dan **menjual** pada bulan ogos 2019, membolehkan mereka mendapat keuntungan.



**SKEMA PEMARKAHAN 6.2 SOALAN OBJEKTIF**

1.	A	11.	B	21.	D	31.	C	41.	A
2.	A	12.	A	22.	D	32.	A	42.	D
3.	C	13.	C	23.	C	33.	D	43.	B
4.	B	14.	D	24.	A	34.	D	44.	C
5.	A	15.	A	25.	B	35.	C	45.	B
6.	A	16.	D	26.	A	36.	B	46.	C
7.	B	17.	D	27.	A	37.	D	47.	A
8.	B	18.	B	28.	D	38.	C	48.	A
9.	D	19.	B	29.	D	39.	C	49.	B
10.	A	20.	A	30.	D	40.	A	50.	C

**SKEMA PEMARKAHAN 6.3 SOALAN BAHAGIAN A**

Soalan	Butiran	Markah
1 (i)	H1- Proses interaksi dan integrasi	1
	H2- antara manusia, firma dan kerajaan pelbagai negara	1 <b>[2m]</b>
1 (ii)	F1- Pasaran baharu	1
	H1a- Perkembangan pasaran global dalam perkhidmatan perbankan, insurans, pengangkutan	1
	H1b- Pasaran pengguna global dengan jenama global	1
	H1c- Kelonggaran undang-undang	1
	F2- Peserta baharu	1
	H2a- Syarikat multinasional yang mengintegrasikan pengeluaran dan pemasaran mereka, mendominasi pengeluaran dunia	1
	H2b- Pertubuhan Perdagangan Sedunia (WTO) organisasi pelbagai hala pertama yang mempunyai kuasa untuk memaksa kerajaan sesebuah negara mematuhi peraturan perdagangan bebas	1
	H2c- Kewujudan blok perdagangan seperti Kesatuan Eropah(EU), Pertubuhan Negara-negara Asia Tenggara (ASEAN), dan lain-lain	1
	H2d- Peningkatan dalam organisasi yang menyelaraskan dasar seperti G-7, G-8, OECD IMF dan Bank Dunia.	1
	F3- Kaedah Komunikasi Baharu	1
	H3a- Lebih cepat dan murah	1
	H3b- Internet dan komunikasi elektronik yang menghubungkan orang ramai secara serentak	1
	H3c- Reka bentuk bantuan komputer pembuatan	1
	H3d- Pengangkutan yang lebih cepat dan murah	1
	H3e- contoh telefon bimbit, mesin faks	1
	F4- Peraturan dan Norma Baharu	1
	H4a- Peluasan dasar ekonomi kapitalis yang merebak ke seluruh dunia seperti penswastaan dan liberalisasi perdagangan	1
H4b- Demokrasi sebagai pilihan politik	1	
H4c- Peningkatan kesedaran dalam hak asasi manusia	1	
H4d- Konvensyen dan perjanjian terhadap alam sekitar global –biodiversity, lapisan ozon, pelupusan sisa berbahaya, serta perubahan iklim	1	

	H4e- Perjanjian perdagangan pelbagai hala H4f- Perjanjian pelbagai hala untuk perkhidmatan, harta intelek, komunikasi H4g- Perjanjian pelbagai hala mengenai pelaburan	1 1 1
	<b>2F + 2H</b>	<b>[Mak 4m]</b>
2	H1- Kerajaan telah mengamalkan sikap terbuka terhadap kemasukan syarikat multinasional H2- Kerajaan melonggarkan kawalan terhadap aktiviti ekonomi melalui dasar kerajaan, undang-undang, H3- Pelaksanaan liberalisasi perdagangan dan blok perdagangan H4- seperti Kawasan Perdagangan Bebas ASEAN (AFTA) H5- Polisi mesra perniagaan yang dilaksanakan oleh kerajaan dan pelbagai insentif H6- seperti pelepasan cukai dan taraf perintis H7- Polisi kerajaan seperti pengecualian visa untuk rakyat tertentu H8- pemberian visa semasa ketibaan bagi mengalu-alukan kepakaran dari negara lain	1 1 1 1 1 1 1 1
		<b>[Mak 4m]</b>
3	H1- Kawalan perniagaan menjadi mudah walaupun mempunyai cawangan di negara lain melalui kemudahan ICT H2- seperti e-mail, sidang video yang dapat memudahkan komunikasi. H3- Masalah dapat diselesaikan dengan mudah H4- proses pemindahan maklumat juga dapat dibuat dengan mudah, pantas dan murah. H5- Penggunaan Internet menyebabkan aliran maklumat dan idea bergerak dengan pantas H6- menggalakkan inovasi, produktiviti, dan juga pertumbuhan ekonomi berlaku H7- Pengguna boleh membeli pelbagai barang dari negara lain melalui internet	1 1 1 1 1 1 1
		<b>[Mak 5m]</b>
4 (i)	Firma yang beroperasi di beberapa negara secara serentak	<b>[2m]</b>
4 (ii)	H1- Pemindahan teknologi yang canggih antara cawangan di negara yang berbeza H2- Firma besar yang mempunyai cawangan di beberapa buah negara H3- semua cawangan firma dikawal oleh firma induk di negara asal	1 1 1
		<b>[Mak 3m]</b>

4 (iii)	H1- Meluaskan Pasaran H2- Perlindungan perdagangan H3- Kos pengangkutan yang tinggi H4- Bahan mentah atau hasil bumi yang unik H5- Tenaga buruh dengan kemahiran yang khusus	1 1 1 1 1 <b>[Mak 3m]</b>
4 (iv)	F1- Risiko kehilangan aset H1- akibat peperangan dalaman atau luaran kerana perbezaan ideologi atau pandangan politik F2- Tenaga buruh H2- tidak berkemahiran atau tidak bermotivasi dalam pengeluaran F3- Risiko perubahan parti politik H3- kerajaan baharu mungkin melaksanakan polisi baharu yang akan merugikan syarikat multinasional F4- Menerima bantahan masyarakat tempatan H4- bayaran gaji yang rendah dianggap sebagai mengeksploitasi hak mereka F5- Kekurangan kemudahan asas di sesetengah negara kurang membangun H5- menyukarkan proses komunikasi antara negara dan melambatkan keputusan F6- Risiko kesukaran mendapat balik keuntungan H6- sesetengah negara menghadkan syarikat multinasional hanya boleh mengalirkan sebahagian keuntungan keluar daripada firma induk dan bakinya dikehendaki dilaburkan semula dalam pasaran tempatan <p style="text-align: right;"><b>3F+3H</b></p>	1 1 1 1 1 1 1 1 1 1 1 1 1 1 1 <b>[Mak 6m]</b>
5 (i)	H1- Membina kemudahan pengeluaran di negara lain H2- Pengambil alihan syarikat H3- Usaha sama dengan syarikat tempatan H4- Membuka subsidiari	1 1 1 1 <b>[Mak 3m]</b>
5 (ii)	H1- Firma asing menawarkan upah dan insentif yang lebih baik. H2- Pekerja di firma asing menerima pendapatan yang lebih tinggi dengan kemudahan dan insentif yang lebih baik berbanding pekerja di firma tempatan. H3- Syarikat multinasional seperti pasar raya besar memberi kesan buruk kepada peniaga kecil dalam perniagaan peruncitan.	1 1 1

	H4- Sektor-sektor yang membawa keuntungan yang tinggi dikuasai oleh syarikat-syarikat gergasi.	1
	H5- Persaingan sengit menyebabkan kesukaran firma tempatan bersaing dan menjejaskan pendapatan peniaga tempatan.	1
		<b>[Mak 4m]</b>
6	H1- membawa masuk teknologi yang canggih	1
	H2- meningkatkan pengeluaran dan produktiviti pekerja	1
	H3- Pengeluar tempatan meningkatkan mutu bahan mentah dan komponen	1
	H4- dapat meningkatkan daya saing dan imej barang	1
	H5- diberi bimbingan dan latihan oleh syarikat multinasional	1
		<b>[Mak 4m]</b>
7	F1- Tarif	1
	H1a- Cukai ke atas barang yang diimport dari luar negara	1
	H1b- Menyebabkan harga barang import menjadi lebih mahal	1
	F2- Kuota	1
	H2- Had maksimum bagi sesuatu barang yang boleh diimport	1
	F3- Kawalan pertukaran asing	1
	H3- Mengehadkan pembelian pertukaran asing oleh sesebuah negara	1
	F4- Sekatan bukan ekonomi	1
	H4- Sekatan dalam bentuk undang-undang, peraturan atau syarat tertentu.	1
	<b>2F + 2H</b>	<b>[Mak 4m]</b>
8	F1- Sumber semulajadi yang berlainan	1
	H1a- Negara yang kaya dengan sesuatu sumber semulajadi akan mengeksport ke negara lain.	1
	H1b- contoh: petroleum – Arab Saudi	1
	F2- Iklim dan jenis tanah	1
	H2a- Keluaran hasil pertanian/perhutanan berbeza	1
	H2b- contoh: buah-buahan hawa sederhana, iklim mediterranean- Australia	1
	F3- Tingkat kecekapan pengeluaran	1
	H3a- Pengkhususan yang lebih cekap dan efisien	1
	H3b- Barang dikeluarkan dengan kos pengeluaran yang lebih rendah daripada negara lain.	1
	H3c- Faedah berbanding/ harga relatif atau kos lepas yang lebih rendah	1
	H3d- contoh: Amerika Syarikat - pengeluaran kapal terbang	1

	F4- Budaya masyarakat	1
	H4a- Mempengaruhi kecenderungan pengeluaran sesuatu barang/melibat kemahiran dan minat pekerja.	1
	H4b- contoh: Korea penggunaan alat elektronik – telefon	1
	F5- Harga faktor	1
	H5a- Mempengaruhi teknik pengeluaran barang/ pengkhususan	1
	H5b- Buruh yang banyak	1
	H5c- kadar upah yang lebih murah	1
	H5d- Pengeluaran berintensifkan buruh/ modal	1
	H5e- contoh:Amerika Syarikat dan Jepun-barang modal	1
	F6- Citarasa pengguna	1
	H6a- Masyarakat pelbagai kaum mempunyai citarasa yang berbeza.	1
	H6b- contoh:import ubatan herba dari China untuk keperluan masyarakat Cina	1
	H6c- Eksport minyak kelapa sawit ke luar negara	1
	<b>3F+3H</b>	<b>[Mak 6m]</b>
9	H1- Memperoleh barang dan perkhidmatan yang tidak dikeluarkan di dalam negara	1
	H2- Meluaskan pasaran	1
	H3- Meningkatkan keuntungan firma tempatan	1
	H4- Menambah pendapatan negara melalui kutipan duti import / duti eksport / cukai keuntungan syarikat	1
	H5- Menggalakkan pemindahan dan penggunaan teknologi	1
	H6- Meningkatkan daya pengeluaran industri tempatan	1
	H7- Dapat menikmati barang pada harga yang lebih murah	1
	H8- Pengkhususan / pengeluaran barang secara besar- besaran	1
	H9- Mutu / kualiti barang tempatan meningkat akibat persaingan antara pengeluar	1
	H10- Menggalakkan usaha penyelidikan dan pembangunan	1
	H11- Menawarkan pelbagai pilihan barang dan perkhidmatan	1
	H12- Meningkatkan tingkat kepuasan/taraf hidup pengguna	1
	H13- Mewujudkan lebih banyak peluang pekerjaan / mengurangkan masalah pengangguran	1
	H14- Menggalakkan mobiliti tenaga buruh	1
	H15- Menggalakkan kemasukan pelaburan langsung asing	1

	H16- Mempercepat pertumbuhan ekonomi H17- Mewujudkan kerjasama dan persefahaman antara negara rakan dagang	1 1	<b>[Mak 5m]</b>
10 (i)	H1- Meningkatkan daya saing negara ASEAN. H2- Meluaskan pasaran ke luar negara. H3- Menarik kemasukan pelaburan langsung asing /teknologi baharu H4- Pengguna dapat memperoleh barang dagangan daripada pengeluar yang lebih cekap H5- Meningkatkan mutu keluaran apabila bersaing dengan negara lain H6- Meningkatkan kecekapan pengeluaran	1 1 1 1 1 1	<b>[Mak 3m]</b>
10 (ii)	H1- Kegawatan ekonomi H2- Harga barang naik H3- Kos sara hidup meningkat H4- Kekayaan sumber ekonomi dikaut oleh pemodal asing H5- Masalah lambakan barang import H6- Pencemaran terhadap budaya tempatan H7- Ancaman kepada industri muda tempatan	1 1 1 1 1 1 1	<b>[Mak 3m]</b>
11 (i)	Akaun semasa		<b>[1m]</b>
11 (ii)	F1- Akaun barangan H1- Merekodkan jumlah nilai eksport barang nampak dengan jumlah nilai import barang nampak F2- Akaun perkhidmatan H2- Merekodkan eksport dan import barang tak nampak F3- Akaun pendapatan primer H3- Merekodkan penerimaan dan pembayaran pampasan pekerja dan pendapatan pelaburan F4- Akaun pendapatan sekunder H4- Merekodkan penerimaan dan pembayaran bayaran pindahan	1 1 1 1 1 1 1	<b>[Mak 4m]</b>
	<b>2F+2H</b>		

12	<b>wajar</b>		1
	H1- kaya dengan sumber semula jadi seperti bijih timah, emas, getah, kelapa sawit dan sebagainya		1
	H2- mempunyai iklim khatulistiwa sesuai untuk pelbagai kegiatan ekonomi		1
	H3- terdiri daripada pelbagai jenis tanah seperti aluvium, laterit, gambut dan beris		1
	H4- tingkat kecekapan pengeluaran yang sistematik		1
	H5- pelbagai budaya masyarakat		1
	H6- citarasa pengguna yang berbeza		1
	<b>Atau</b>		
	<b>Tidak wajar</b>		1
	H6- terlalu bergantung kepada eksport dan import akan mendatangkan kesan negatif		1
	H7- mengamalkan pengkhususan yang berlebihan		1
	H8- menyebarkan budaya yang tidak sihat		1
H9- menimbulkan masalah lambakan		1	
H10- merugikan negara membangun		1	
H11- kurang mobiliti sumber		1	
H12- mengamalkan dasar perlindungan		1	
			<b>[Mak 5m]</b>
13	H1- Lebihan akaun semasa menggambarkan aliran wang dari luar negara melebihi aliran wang ke luar negara akibat perdagangan antarabangsa		1
	H2- Rizab mata wang asing dalam negara akan meningkat		1
	H3- Menunjukkan peningkatan dalam pendapatan negara		1
	H4- Peningkatan guna tenaga		1
	H5- Peningkatan taraf hidup		1
			<b>[Mak 4m]</b>
14	H1- harga import naik.		1
	H2- Jumlah nilai/permintaan import akan menurun.		1
	H3- Harga eksport jatuh/turun.		1
	H4- Jumlah/permintaan eksport akan naik.		1
	H5- Jumlah nilai eksport lebih besar daripada jumlah nilai import.		1
	H6- Berlaku imbalan semasa lebihan / positif.		1
			<b>[Mak 6m]</b>
15 (i)	Eksport	RM 298 576 juta	1
	(-) Import	<u>RM 185 685 juta</u>	1
		RM 112891 juta	1
			<b>[2m]</b>



15 (ii)	Pengangkutan - RM 2570 juta Per. Telekomunikasi RM 1304 juta Per. Kewangan <u>RM 706 juta</u> ( -RM 560 juta )	1 1 1 1 <b>[3m]</b>
15 (iii)	Pampasan pekerja RM 15 385 juta Pendapatan Pelaburan <u>-RM 8790 juta</u> RM 6595 juta Pendapatan Sekunder <u>RM 21 500 juta</u> RM 28095 juta	1 1 1 1 1 <b>[3m]</b>
15 (iv)	Imbangan dagangan + Imbangan Perkhidmatan + Akaun Pendapatan = RM 112891 juta - (RM560 juta) + RM 28 095 juta = RM 140 426 juta	1 1 1 <b>[3m]</b>
16 (i)	Perdagangan antarabangsa	<b>1m</b>
16 (ii)	F1- Sumber semula jadi F2- Iklim dan jenis tanah F3- Tingkat kecekapan pengeluaran F4- Budaya masyarakat F5- Harga faktor F6- Cita rasa pengguna	1 1 1 1 1 1 <b>[Mak 3m]</b>
17 (i)	RM 50 000 / 3.8 = USD 13157.894	1 1 <b>[2m]</b>
17 (ii)	H1- Pembelian akan menyebabkan DD US Dolar meningkat H2- kadar pertukaran asing akan jatuh kesan ke atas eksport H3- Harga barang eksport jadi lebih murah H4- pengimport akan beli barang dari Malaysia kesan ke atas import H5- Harga barang import menjadi lebih mahal import jatuh H6- Imbangan dagangan akan bertambah baik	1 1 1 1 1 1 <b>[Mak 5m]</b>
18 (i)	Nilai baru - Nilai lama/nilai lama X 100 = RM 4.0520- RM 4.2000/RM 4.0520 X 100 = -3.65%	1 1 1 <b>[2m]</b>
18 (ii)	H1- Harga eksport relatif lebih murah H2- jumlah eksport bertambah H3- Harga import relatif lebih mahal H4- Jumlah import berkurang H5- Nilai eksport melebihi nilai import H6- berlaku imbangan dagangan lebihan/positif	1 1 1 1 1 1 <b>[Mak 4m]</b>

19	F1- Eksport negara H1- eksport negara berkurang F2- Kadar Faedah H2- Kenaikan kadar faedah mengalakkan pemindahan modal ke Malaysia F3- Citarasa pengguna H3- Citarasa terhadap barang Malaysia telah bertambah dari luar negara F4- Spekulasi mata wang H4- Nilai mata wang RM diramal meningkat pada masa hadapan	1 1 1 1 1 1 1 1 <b>[Mak 4m]</b>
20 (i)	F1- Eksport negara H1a- jika sesebuah negara mengimport barang dan perkhidmatan dari Malaysia maka permintaan terhadap mata wang Malaysia meningkat H1b- jika sesebuah negara kurang mengimport barang dan perkhidmatan dari Malaysia maka permintaan terhadap mata wang Malaysia menurun F2- Kadar faedah H2a- kejatuhan dalam kadar faedah dan kadar pulangan pelaburan dalam pasaran kewangan sesebuah negara akan mendorong kepada pemindahan modal dari Malaysia ke luar negara H2b- Kenaikan dalam kadar faedah dan kadar pulangan pelaburan dalam pasaran kewangan sesebuah negara akan mendorong kepada kemasukan modal ke Malaysia daripada luar negara	1 1 1 1 1 1 1 <b>[Mak 4m]</b>
20 (ii)	H1- Nilai RM telah naik H2- Untuk mendapat 1 unit USD yang sama memerlukan RM yang kurang H3- Harga barang eksport Malaysia ke Amerika lebih mahal H4- Harga barang import dari Amerika lebih murah H5- Permintaan USD meningkat H6- Sebanyak Q0Q2 H7- Penawaran USD menurun H8- Sebanyak Q1Q0 H9- Berlaku lebih permintaan USD H10- Nilai USD naik/ nilai RM turun H11- 1 USD = RM4.15	1 1 1 1 1 1 1 1 1 1 1 <b>[Mak 5m]</b>

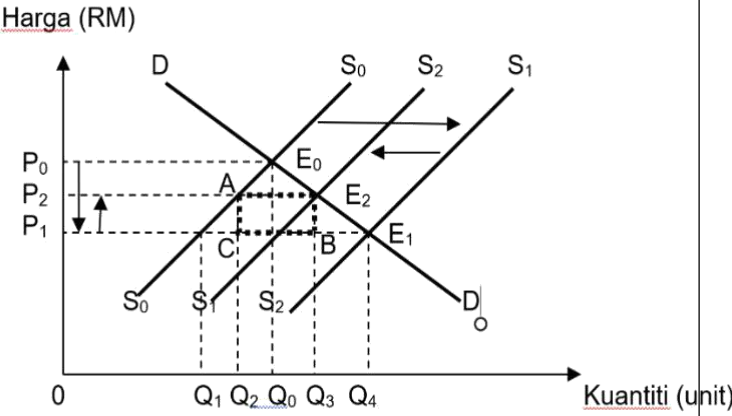
**SKEMA PEMARKAHAN 6.4 SOALAN BAHAGIAN B**

Soalan	Butiran	Markah
1 (a)	F1- Ya	1
	H1- Beroperasi di semua negara ASEAN secara serentak	1
	H2- Mempunyai 1,177 cawangan di semua negara ASEAN	1
	H3- Semua cawangan dikawal oleh firma induk di negara asal	1
	H4- Berlaku pemindahan teknologi antara cawangan di negara yang berbeza	1
		<b>[Mak 4m]</b>
1(b)	F1- Meluaskan pasaran	1
	H1- Penduduk di negara asal lebih kecil	1
	F2- Negara pengimport mengenakan perlindungan perdagangan	1
	H2a- Mengenakan kadar cukai yang tinggi	1
	H2b- Dikenakan kadar cukai yang lebih rendah jika membuka operasi di negara pengimport	1
	F3- Kos pengangkutan yang tinggi	1
	H3a- Jarak yang jauh antara pasaran dengan tapak operasi	1
	H3b- Kos pengeluaran meningkat	1
	H3c- Menaikkan harga jualan untuk mengekalkan margin keuntungan	1
	F4- Kewujudan tenaga buruh yang mahir di negara ASEAN	1
	H4a- Pada kos yang rendah	1
	H4b- Dapat menjimatkan kos buruh / memaksimumkan keuntungan	1
	H4c- Daya saingan firma dari segi harga ditingkatkan	1
	F5- Peranan kerajaan menggalakkan globalisasi	1
	H5a- Mengamalkan sifat terbuka	1
	H5b- Melonggarkan kawalan terhadap aktiviti ekonomi	1
	H5c- Melaksanakan liberalisasi perdagangan	1
	H5d- Mengamalkan polisi yang mesra perniagaan / pelepasan cukai dan taraf perintis	1
	F6- Kemudahan teknologi maklumat dan komunikasi yang maju	1
	H6a- Penggunaan alatan teknologi secara interaktif	1
H6b- Akibat perkembangan internet	1	
H6c- Memudahkan proses komunikasi / pemindahan maklumat	1	
H6d- Menggalakkan inovasi, produktiviti dan pertumbuhan ekonomi	1	
		<b>[Mak 7m]</b>



2(c)	<p><b>a) Impak positif pelaburan langsung asing</b></p> <ul style="list-style-type: none"><li>- Pertumbuhan ekonomi</li><li>- Peningkatan produktiviti pekerja/ pengeluaran barangan</li><li>- Pemindahan teknologi</li><li>- Kemasukan teknologi / modal / kemahiran pekerja ke negara</li><li>- Meningkatkan kemahiran modal insan</li><li>- Menyediakan pelbagai program latihan bagi pekerja tempatan</li><li>- Meningkatkan keupayaan modal pelaburan</li><li>- Kemasukan modal asing / pemilikan ekuiti asing</li></ul> <p><b>b) Impak negatif pelaburan langsung asing</b></p> <ul style="list-style-type: none"><li>- Ketidakeimbangan pendapatan</li><li>- Jurang perbezaan pendapatan antara pekerja firma asing dan tempatan</li><li>- Kemusnahan alam sekitar</li><li>- Eksploitasi sumber alam / kemusnahan alam sekitar</li><li>- Aliran untung ke luar negara</li><li>- Aliran keluar keuntungan atau dividen pelaburan asing yang berlebihan / berterusan akan membawa kesan negatif kepada kadar pertukaran asing /imbangan pembayaran</li></ul> <p>Penutup :</p> <p>Impak positif dari pelaburan asing langsung akan membawa kesan ke atas pendapatan dan guna tenaga negara kita.</p> <p><b>Catatan:</b></p> <ol style="list-style-type: none"><li>1. Mana-mana isi berkaitan alam sekitar boleh terima</li><li>2. Jika pelajar hanya memberikan kesan positif sahaja, hanya layak dapat maksimum 6 markah</li><li>3. Pelajar hanya layak dapat maksimum 9 markah jika ada kenyataan positif dan negatif dengan huraian yang jelas.</li></ol> <p><b>****Rujuk SKEMA RUBRIK PENSKORAN</b></p>	<p><b>Tahap 3</b></p> <p><b>[Mak 9m]</b></p>
------	---	--

3(a)	<b>Setuju</b>	
	H1- Memastikan industri kereta tempatan dilindungi/ mampu bersaing dengan kereta import / industri kereta tempatan kekal kompetitif	1
	H2- Mengelakkan industri kereta tempatan ditutup / rugi	1
	H3- Mengekalkan pekerjaan rakyat tempatan/ mengurangkan risiko kehilangan kerja / mengurangkan kadar pengangguran / meningkatkan peluang pekerjaan	1
	H4- Meningkatkan aktiviti R&D / meningkatkan daya saing kereta tempatan	1
	H5- Mengurangkan import kereta asing	1
	H6- Aliran wang keluar berkurang	1
	H7- Meningkatkan eksport kereta tempatan	1
	H8- Aliran masuk wang meningkat	1
	H9- Membaiki imbalan perdagangan / pembayaran negara	1
	H10- Meningkatkan imej negara	1
	H11- Melindungi industri kebanggaan negara / icon negara	1
	<b>ATAU</b>	
	<b>Tidak setuju</b>	
	H12- mengurangkan penawaran / kemasukan kereta import di pasaran tempatan	1
	H13- Mengurangkan hasil kerajaan / cukai import / tarif	1
	H14- Pilihan pengguna terhad	1
	H15- Kepuasan pengguna berkurang	1
	H16- bertentangan dengan dasar liberalisasi ekonomi	1
	H17- Herotan dalam ekonomi / perlindungan / bantuan kerajaan keterlaluan terhadap industri kereta tempatan menyebabkan industri negara yang lain terabai	1
	H18- Mendapat balasan dari negara dagang	1
H19- Industri tempatan bersikap sambil lewa menghasilkan produk yang kurang berkualiti kerana dilindungi	1	
	<b>[Mak 4m]</b>	

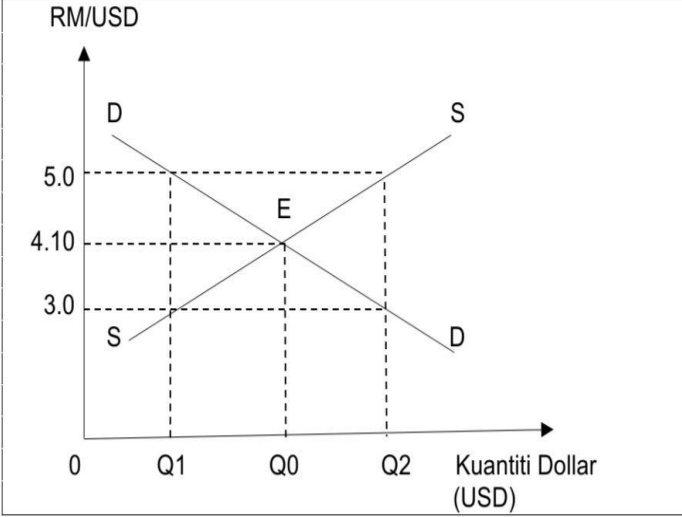
3(b)	<p>Rajah kesan tarif / kuota / subsidi – Lengkap</p>  <p>H1- Keseimbangan asal E0 / <math>P_e = P_0</math> &amp; <math>Q_e = Q_0</math> 1</p> <p>H2- PAB - Peralihan keluk penawaran ke kanan / <math>S_0S_0</math> ke <math>S_1S_1</math> 1</p> <p>H3- Keseimbangan baru E1 / <math>P_e = P_1</math> &amp; <math>Q_e = Q_4</math> 1</p> <p>H4- kuantiti penawaran dalam negara = <math>0Q_1</math> dan kuantiti kereta import = <math>Q_1Q_4</math> 1</p> <p>H5- Pengenaan tarif <math>P_1P_2</math> menyebabkan peralihan keluk penawaran ke kiri / <math>S_1S_1</math> ke <math>S_2S_2</math> @ subsidi –Peralihan keluk penawaran ke kanan / <math>S_1S_1</math> ke <math>S_2S_2</math> 1</p> <p>H6- Keseimbangan baru E2 / <math>P_e = P_2</math> &amp; <math>Q_e = Q_3</math> 1</p> <p>H7- kuantiti penawaran dalam negara = <math>0Q_2</math> dan kuantiti kereta import = <math>Q_2Q_3</math> 1</p> <p>H8- Jumlah hasil / tarif = <math>AE_2BC</math> 1</p> <p><b>Rajah 4 M + Keterangan 8 M</b></p> <p><b>NOTA: Terima jawapan rajah kuota / subsidi</b></p>	[Mak 7m]
3(c)	<p><b>Tahap 1 [ 1 – 3m ]</b></p> <ul style="list-style-type: none"> <li>• Menyenaraikan fakta / huraian / isi sahaja</li> <li>• Jawapan secara umum tanpa hubungkait dengan stimulus soalan</li> <li>• Menunjukkan aras pengetahuan</li> </ul> <p><b>Tahap 2 [ 4 – 6m ]</b></p> <ul style="list-style-type: none"> <li>• Fakta / huraian / isi masih tepat / betul</li> <li>• Terdapat fakta / huraian bercampur – tepat &amp; kurang tepat</li> <li>• Huraian / keterangan yang dikemukakan menunjukkan tahap pemahaman</li> <li>• Jawapan yang dikemukakan hanya satu (1) sisi / pro @ kontra sahaja</li> </ul>	<b>TAHAP 3</b>

	<p><b>Tahap 3 [ 7 – 9m ]</b></p> <ul style="list-style-type: none"> <li>• Huraian lengkap / cukup dan diolah secara mendalam.</li> <li>• Berupaya mengaplikasi dan menganalisis isu yang ditanya dalam soalan</li> <li>• Jawapan sistematik – fakta, huraian dan contoh</li> <li>• Jawapan dua sisi – pro &amp; kontra</li> <li>• Berupaya mengemukakan pendirian / keputusan / dapatan sendiri</li> </ul> <p>Contoh jawapan: kesan pengenaan tarif</p> <ul style="list-style-type: none"> <li>• Harga kereta import mahal</li> <li>• Permintaan / penawaran kereta import jatuh</li> <li>• Permintaan / penawaran kereta tempatan naik</li> <li>• Harga kereta tempatan lebih murah berbanding kereta import</li> <li>• Kereta tempatan mampu berdaya saing dengan kereta import</li> <li>• Penawaran kereta tempatan meningkat</li> <li>• Peningkatan guna tenaga / wujud peluang pekerjaan / mengurangkan kadar pengangguran</li> <li>• Pendapatan / taraf hidup rakyat meningkat</li> <li>• Keuntungan firma tempatan meningkat</li> <li>• Firma meningkatkan pelaburan baru / R&amp;D dalam industri automotif tempatan</li> <li>• Imej negara / firma tempatan meningkat</li> <li>• Hasil kerajaan / tarif meningkat</li> <li>• Perbelanjaan pembangunan / mengurus meningkat</li> <li>• Jumlah import berkurang / aliran wang keluar berkurang / membaiki imbalan pembayaran negara</li> <li>• Merugikan pengguna</li> <li>• Membayar harga kereta import lebih mahal kesan pengenaan tarif</li> <li>• Kos memiliki kereta import meningkat / mengurangkan perbelanjaan lain</li> <li>• Pilihan pengguna terhad / kepuasan jatuh</li> <li>• Berlaku herotan dalam ekonomi</li> <li>• Pengguna menikmati barangan / kereta kurang kualiti kesan perlindungan</li> <li>• Mendapat tindak balas negara dagang / eksport jatuh / pendapatan negara terjejas / aliran masuk wang berkurang / burukkan keadaan imbalan</li> </ul> <p><b>Terima jawapan bagi kesan kuota / subsidi</b></p> <p style="text-align: center;"><b>****Rujuk SKEMA RUBRIK PENSKORAN</b></p>	<p style="text-align: right;"><b>[Mak 9m]</b></p>
--	---	---



4(a)	H1- Eksport tak nampak / perkhidmatan H2- Perkhidmatan yang ditawarkan oleh rakyat Malaysia kepada rakyat asing H3- Perkhidmatan pelancongan / hotel / restoran / hiburan / perubatan H4- Dikreditkan ke dalam Akaun Perkhidmatan H5- Berlaku aliran masuk wang ke dalam negara H6- Memperbaiki imbangan pembayaran	1 1 1 1 1 1 <b>[Mak 4m]</b>
4(b)	H1- Menawarkan layanan istimewa kepada setiap negara anggota H2- Menghapuskan halangan tarif dan bukan tarif serta melonggarkan atau menghapuskan halangan kuantitatif import dalam kalangan ASEAN H3- Meningkatkan daya saing ASEAN sebagai pangkalan pengeluaran dalam pasaran dunia H4- Skala pengeluaran yang besar/ cekap H5- Mengimport bahan mentah dan makanan yang lebih murah H6- Menarik pelaburan langsung asing dan teknologi baharu terutama Syarikat Multinasional untuk menempatkan cawangan di Malaysia. H7- Meluaskan pasaran barangan ASEAN ke luar negara H8- Menambahkan penawaran barang untuk dieksport. H9- Menggalakkan pengaliran modal dan tenaga buruh mahir dan separa mahir secara bebas. H10- Perkongsian sumber tenaga dan bahan mentah H11- Menjalankan usaha sama dalam membuat pengesanan, rondaan, kawal selia, pengawasan, dan pemuliharaan apabila berlaku masalah pengurusan dan penjagaan alam sekitar. H12- Mewujudkan peluang pekerjaan kepada rakyat tempatan. H13- Pilihan barang lebih berkualiti dan pelbagai H14- Teknologi moden dan kepakaran dapat disalurkan untuk pembangunan ekonomi.	1 1 1 1 1 1 1 1 1 1 1 1 1 1 1 1 1 1 <b>[mak 7m]</b>

4(c)	<p><b>Tahap 1 [ 1 - 3m ]</b></p> <ul style="list-style-type: none"> <li>• Pengetahuan terhad tentang teori / konsep ekonomi</li> <li>• Menyeneraikan kesan pengenaan tarif</li> <li>• Tanpa huraian / jawapan calon secara umum</li> </ul> <p><b>Contoh</b></p> <ul style="list-style-type: none"> <li>• Bilangan pelancong ke Malaysia berkurang</li> <li>• Melibatkan tambahan kos</li> <li>• Permintaan hotel / pengangkutan berkurang</li> <li>• Hasil cukai bertambah</li> </ul> <p><b>Tahap 2 [ 4 - 6m ]</b></p> <ul style="list-style-type: none"> <li>• Fakta dihuraikan dengan keterangan yang tepat/betul</li> <li>• Fakta yang sesuai disokong dengan teori ekonomi yang tepat</li> </ul> <p><b>Contoh</b></p> <ul style="list-style-type: none"> <li>• Pengenaan levi menaikkan kos pelancongan ke luar negara</li> <li>• Pilihan pengguna terhad kepada pelancongan domestik</li> <li>• Pendapatan penduduk tempatan terjejas</li> <li>• Pelancongan Malaysia tidak berdaya saing dengan negara ASEAN</li> <li>• Memberi kesan ke atas pengguna yang sering berurusan di luar negara</li> <li>• Kenaikan kos tidak diimbangi dengan perkhidmatan yang baik</li> </ul> <p><b>Tahap 3 [ 7 - 9m ]</b></p> <ul style="list-style-type: none"> <li>• Huraian yang sangat jelas dan terperinci/mendalam</li> <li>• Mengemukakan idea / contoh yang bernas dan Rasional</li> </ul> <p><b>Contoh</b></p> <ul style="list-style-type: none"> <li>• Menjejaskan KLIA dan KLIA2</li> <li>• Sebagai hub penerbangan terbaik di ASEAN</li> <li>• Pelancong kurang menggunakan lapangan terbang di Malaysia</li> <li>• Pelancong mencari lapangan terbang transit yang baharu/ Singapura/ Suvarnabhumi</li> <li>• Menjejaskan kedudukan Malaysia yang diiktiraf oleh dunia / Malaysia antara 10 negara destinasi pelancongan terbaik dunia tahun 2018</li> <li>• Menghadapi kesan tindakbalas sama dari negara lain</li> <li>• Menjejaskan pendapatan negara dari sektor pelancongan</li> <li>• Penyumbang ke 3 terbesar pendapatan negara</li> </ul> <p><b>****Rujuk SKEMA RUBRIK PENSKORAN</b></p>	[Mak 9m]
------	---	----------

5(a)	<p>H1- Import barang tak nampak</p> <p>H2- Terdiri daripada perkhidmatan yang disediakan oleh rakyat negara asing kepada rakyat tempatan</p> <p>H3- Termasuk dalam kategori perkhidmatan pelancongan</p> <p>H4- Terdiri daripada perkhidmatan pengangkutan, telekomunikasi, pembinaan, insuran dan pencen, peribadi, budaya dan rekreasi, kewangan, perkilangan, dan bayaran penggunaan harta intelek kerajaan dan perkhidmatan lain</p> <p>H5- Berlakunya penawaran RM ke luar negara</p> <p>H6- Pembayaran kewangan direkodkan sebagai butiran debit</p>	<p>1</p> <p>1</p> <p>1</p> <p>1</p> <p>1</p> <p>1</p> <p><b>[mak 4m]</b></p>
5(b)	 <p>1. Paksi RM/USD      Perlu ada paksi origin</p> <p>2. Paksi kuantiti Dollar(USD) ]</p> <p>3. keluk DD</p> <p>4. Keluk SS</p> <p>5. Titik E ( keseimbangan)</p> <p>6. RM keseimbangan</p> <p>7. Kuantiti keseimbangan</p>	<p>1</p> <p>1</p> <p>1</p> <p>1</p> <p>1</p> <p>1</p> <p>1</p> <p><b>[mak 4m]</b></p>

	<p>H1- Kadar pertukaran asing ditentukan melalui interaksi antara permintaan dan penawaran mata wang asing dalam pasaran pertukaran asing</p> <p>H2- keluk DD bersilang dengan keluk SS</p> <p>H3- pada titik E (USD1.00 = RM4.10 / Q0 )</p> <p>H4- Jika Kadar pertukaran meningkat menjadi USD1.00 = RM5.00 / nilai RM mengalami kejatuhan</p> <p>H5- Keadaan ini sebagai lebih penawaran USD sebanyak Q1Q2</p> <p>H6- Kadar pertukaran cenderung turun sehingga mencapai keseimbangan semula pada titik E</p> <p>H7- iaitu keluk DD bersilang dengan keluk SS pada kadar USD1.00 = RM4.10</p> <p>H8- Jika Kadar pertukaran menurun menjadi USD1.00 = RM3.00/nilai RM mengalami kenaikan</p> <p>H9- Keadaan ini sebagai lebih permintaan USD sebanyak Q1Q2</p> <p>H10- iaitu keluk DD bersilang dengan keluk SS pada kadar USD1.00 = RM4.10</p>	<p>1</p> <p>1</p> <p>1</p> <p>1</p> <p>1</p> <p>1</p> <p>1</p> <p>1</p> <p>1</p> <p>1</p>
	<b>Rajah 4 M + Keterangan 10 M</b>	<b>[mak 7m]</b>
5(c)	<p><b><u>Kesan Positif</u></b></p> <p><b>a) Isi rumah</b></p> <ul style="list-style-type: none"> <li>- Menanam sifat berhemah dalam perbelanjaan</li> <li>- Lebih patriotik/ beli barangan buatan Malaysia/ cinta akan negara</li> <li>- Memilih pusat pengajian dalam Negara /elak pengaliran keluar matawang asing</li> </ul> <p><b>b) Firma</b></p> <ul style="list-style-type: none"> <li>- Menggunakan sumber dalam Negara/ elak pengaliran keluar matawang asing</li> <li>- Menghargai sumber/ buruh tempatan</li> <li>- Bersifat kreatif dan inovatif</li> <li>- Permintaan ke atas keluaran tempatan meningkat</li> <li>- Penawaran meningkat</li> <li>- Keuntungan meningkat</li> </ul> <p><b>c) Kerajaan</b></p> <ul style="list-style-type: none"> <li>- Perbelanjaan berhemah/ bajet berhemah</li> <li>- Jumlah eksport bertambah</li> <li>- Jumlah import berkurang</li> <li>- Keuntungan bertambah</li> <li>- Imbangan lebihan dagangan/akaun semasa berlaku</li> </ul>	<b>Tahap 3</b>

	<p><b><u>Kesan Negatif</u></b></p> <p><b>a) Isi rumah</b></p> <ul style="list-style-type: none"> <li>- Perbelanjaan meningkat</li> <li>- Kos hidup meningkat</li> <li>- Taraf hidup jatuh</li> <li>- Tidak dapat memenuhi cita rasa barang import</li> </ul> <p><b>b) Firma</b></p> <ul style="list-style-type: none"> <li>- Perbelanjaan ke atas kos pengeluaran(import) meningkat</li> <li>- Sumber/ buruh tempatan yang tidak sesuai dengan pengeluaran kurang</li> </ul> <p><b>c) Kerajaan</b></p> <ul style="list-style-type: none"> <li>- Pengaliran keluar wang meningkat</li> <li>- Jumlah cukai jatuh</li> <li>- Beban kewangan/ hutang negara meningkat</li> <li>- Imej negara jatuh</li> <li>- Imej pemerintah jatuh</li> <li>- Kestabilan politik terancam</li> </ul> <p><b>****Rujuk SKEMA RUBRIK PENSKORAN</b></p>	<p><b>[mak 9m]</b></p>
--	--	------------------------

### RUBRIK SOALAN BAHAGIAN 9 MARKAH

Tahap	Keterangan	Markah		Catatan
<b>Tahap 1</b>  <b>(Pengetahuan dan Pemahaman)</b> <b>[1-3m]</b>	Pernyataan / keterangan umum Menyenaikan fakta/isi sahaja tanpa huraian Penjelasan terhad kepada konsep sahaja Menyatakan pendirian secara umum/ tiada penilaian  $\sqrt{A}$	<b>A1 – 1m</b> <b>A2 – 2m</b> <b>A3 – 3m</b>		
<b>Tahap 2</b>  <b>(Aplikasi)</b> <b>[4-6m]</b>	Fakta + huraian masih tepat / betul Keterangan yang bercampur – tepat dan kurang tepat Keterangan hanya satu sisi Rajah umum / asas / tidak lengkap Huraian rajah terhad Menyatakan pendirian  $\sqrt{B}$	<b>B1</b> <b>B2</b> <b>B3</b>	<b>B1 – 4m</b> <b>B1a – 5m</b> <b>B1c – 6m</b>	
<b>Tahap 3</b>  <b>(Analisis / Penilaian)</b> <b>[7-9m]</b>	Fakta + huraian lengkap dan mendalam Keterangan betul, tepat, sangat jelas dan mendalam Mengemukakan idea yang bernas, kreatif dan rasional Keterangan dua sisi Rajah lengkap / tepat Huraian rajah lengkap Membuat kesimpulan, rumusan/ pandangan/ pendapat, cadangan/ memberi bukti / data yang relevan Menyatakan pendirian dengan jelas Menghubung kait teori ekonomi dengan pelbagai topik / tajuk (sintesis)  $\sqrt{C}$	<b>C1</b>   <b>C2</b>  <b>C3</b>  <b>C4</b>	C1 } 7m } (2c) } C1a }  <b>C1b – 8m</b> <b>(3c atau lebih)</b>  C1c } C1d } 9m	Kalau jawapan bercampur aduk antara tepat dan tidak tepat maksimum 7m walaupun jumlah C melebihi 2.  Cth: C1, C1a, C2/ C1, C1a, C1c, C2/ C1, C1a, C2a, C2b...  9m jika calon diberi huraian lanjut / mendalam tentang sesuatu fakta. Cth: A1, B1, B1a, C1, C1a, C1b, C1c, C1d, C1e, C1f...



© Hak Cipta Jabatan Pendidikan Negeri Sabah