

# MODUL PINTAS TINGKATAN LIMA

**2 JAM 30 MINIT**

**ARAHAN :**

1. Jangan Buka Kertas Peperiksaan Ini Sehingga Diberitahu.
2. Tulis nombor kad pengenalan, angka giliran, nama, tingkatan anda pada petak yang disediakan.
3. Kertas peperiksaan ini mengandungi dua bahagian: **Bahagian A** dan **Bahagian B**.
4. Jawapan bagi **Bahagian A** hendaklah ditulis pada ruang yang disediakan dalam kertas peperiksaan.
5. Jawapan bagi **Bahagian B** hendaklah ditulis dalam buku jawapan yang dibekalkan oleh pengawas peperiksaan. Sekiranya buku jawapan tidak mencukupi, sila dapatkan helaian tambahan daripada pengawas peperiksaan.
6. Ceraikan **Bahagian B** daripada kertas peperiksaan ini. Calon ada pilihan sama ada mencantumkan buku jawapan bersama-sama kertas peperiksaan ini dengan menggunakan stapler atau menebuk lubang kemudian ikat dan serahkan kepada pengawas peperiksaan pada akhir peperiksaan.
7. Markah yang diperuntukkan bagi setiap soalan atau ceraihan soalan ditunjukkan dalam kurungan.

Kegunaan Pemeriksa			
Kod Pemeriksa :			
Bahagian	Soalan	Markah Penuh	Markah Diperoleh
A	1	10	
	2	10	
	3	10	
	4	10	
B	5	20	
	6	20	
	7	20	
	8	20	
	9	20	
Jumlah		100	

NO. KAD PENGENALAN

<input type="text"/>	<input type="text"/>	<input type="text"/>	<input type="text"/>	<input type="text"/>	<input type="text"/>	-	<input type="text"/>	<input type="text"/>	-	<input type="text"/>	<input type="text"/>	<input type="text"/>	<input type="text"/>
----------------------	----------------------	----------------------	----------------------	----------------------	----------------------	---	----------------------	----------------------	---	----------------------	----------------------	----------------------	----------------------

ANGKA GILIRAN

<input type="text"/>	<input type="text"/>	<input type="text"/>	<input type="text"/>	<input type="text"/>	<input type="text"/>
----------------------	----------------------	----------------------	----------------------	----------------------	----------------------

NAMA : .....

TINGKATAN : .....

Kertas peperiksaan ini mengandungi 12 halaman bercetak.

[ Lihat halaman sebelah

1249/2

**SEJARAH**  
Kertas 2

1249/2

[ Lihat halaman sebelah

**Bahagian A**

[40 markah]

*Jawab semua soalan.*

**1** Revolusi Amerika yang berlaku pada tahun 1776 merupakan perjuangan untuk memperoleh kemerdekaan daripada penjajahan kuasa asing.

(a) (i) Jelaskan faktor berlakunya revolusi tersebut.

.....  
.....  
.....

[2 markah]

(ii) Bagaimanakah peperangan tersebut tercetus?

.....  
.....  
.....

[2 markah]

(b) Nyatakan kesan daripada peristiwa di 1(a)(ii).

.....  
.....  
.....

[2 markah]

(c) Apakah iktibar yang diperoleh daripada peristiwa revolusi yang berlaku di Barat?

.....

.....

.....

.....

.....

[4 markah]

2 Pada tahun 1951, Sir Henry Gurney, Pesuruhjaya Tinggi British mengumumkan penubuhan Sistem Ahli.

(a) Nyatakan ciri-ciri Sistem Ahli.

.....  
.....  
.....  
.....

[3 markah]

(b) Sistem Ahli merupakan proses penting ke arah kemerdekaan. Bincangkan.

.....  
.....  
.....  
.....

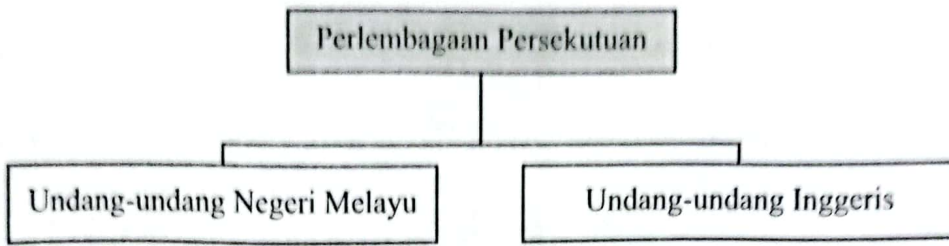
[3 markah]

(c) Sekiranya anda merupakan pemimpin tempatan, apakah cadangan anda untuk mengukuhkan Sistem Ahli sebagai persediaan ke arah berkerajaan sendiri?

.....  
.....  
.....  
.....  
.....

[4 markah]

3 Undang-undang berikut yang menjadi asas kepada pembentukan Perlembagaan Persekutuan.



(a) Nyatakan ciri-ciri undang-undang Negeri Melayu.

.....  
.....  
.....

[2 markah]

(b) Terangkan undang-undang Inggeris tersebut.

.....  
.....  
.....  
.....  
.....

[4 markah]

(c) Bagaimanakah rakyat Malaysia dapat mempertahankan perlembagaan negara kita?

.....  
.....  
.....  
.....  
.....

[4 markah]

4 Pemisahan Singapura daripada Malaysia berlaku pada 9 Ogos 1965.

(a) Jelaskan faktor politik yang membawa kepada pemisahan Singapura.

.....  
.....  
.....  
.....

[3 markah]

(b) Galurkan kronologi pemisahan Singapura daripada Malaysia.

.....  
.....  
.....  
.....  
.....

[3 markah]



“Bagi saya ia adalah detik kesedihan kerana sepanjang hidup saya... Saya percaya pada penggabungan dan perpaduan kedua-dua wilayah ini. Anda tahu, ia adalah penduduk yang dihubungkan oleh geografi, ekonomi dan hubungan persaudaraan.”

Sumber: *Sidang media di Broadcasting House Singapore, Isnin 9 Ogos 1965*

- (c) Berdasarkan gambar di atas, ramalkan keadaan Malaysia sekiranya pemisahan daripada Singapura tidak berlaku.

.....

.....

.....

.....

.....

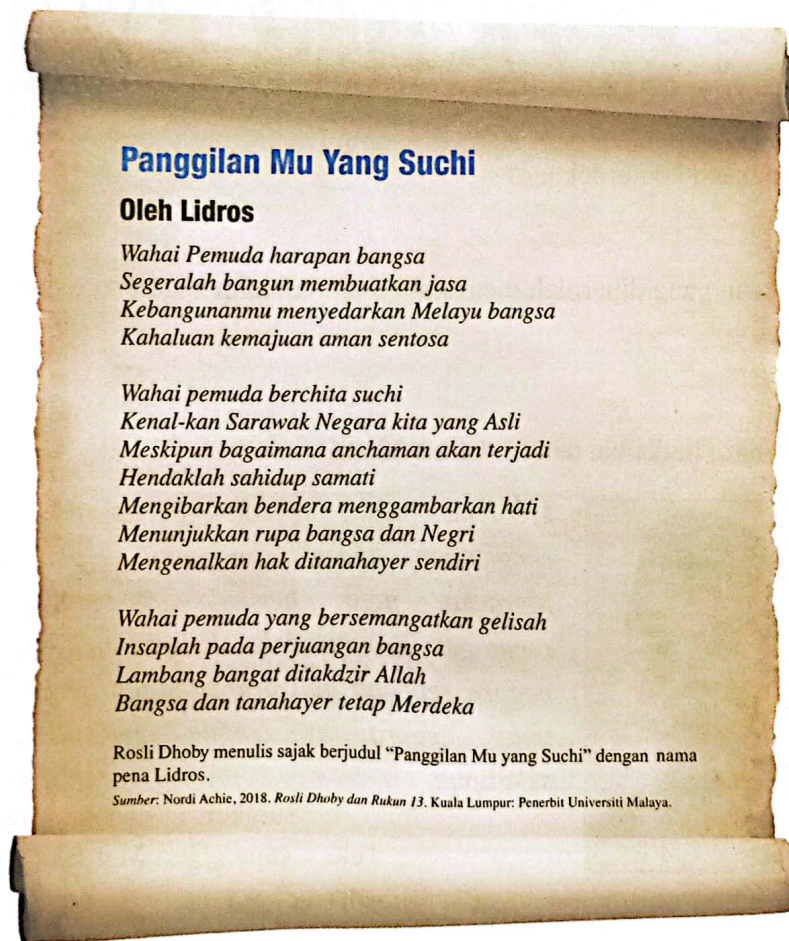
[4 markah]

**Bahagian B**

[60 markah]

*Jawab tiga soalan sahaja.*

- 5 Selepas Perang Dunia Kedua, Charles Vyner Brooke telah menyerahkan Sarawak kepada kerajaan British.
- (a) Terangkan faktor penyerahan tersebut. [6 markah]
- (b) Mengapakah tindakan ini ditentang oleh penduduk tempatan? [6 markah]
- (c) Sajak berikut merupakan nukilan Rosli Dhoby.



Jelaskan seruan beliau kepada golongan pemuda.

[8 markah]



- 6 Gambar berikut berkaitan dengan Pemasyhuran Kemerdekaan pada 31 Ogos 1957.



Sumber: Arkib Negara Malaysia

- (a) Apakah maksud kemerdekaan? [4 markah]
- (b) Kemerdekaan yang diperoleh memberi kesan terhadap negara kita dari segi politik. Huraikan. [8 markah]
- (c) Petikan berikut berkaitan dengan kemerdekaan.



*Merdeka bukan sekadar bebas daripada cengkaman kuasa dan minda penjajah. Merdeka juga bermaksud menghayati semangat jiwa merdeka dengan menyayangi negara sepenuh hati dan sanggup berkorban untuk negara ini dengan apa-apa cara sekalipun.*

Sumber: [www.pmo.gov.my](http://www.pmo.gov.my)  
Teks Ucapan Hari Merdeka 2018

Ulaskan petikan di atas.

[8 markah]

7 Pembentukan sistem Persekutuan di negara kita merupakan penerusan tradisi sejarah yang bermula pada tahun 1896 hingga tahun 1963.

- (a) Jelaskan sejarah pembentukan Konfederasi Negeri Sembilan 1895. [4 markah]
- (b) Terangkan latar belakang sistem Persekutuan di negara kita. [8 markah]
- (c) Sistem Persekutuan berjaya mewujudkan pentadbiran yang kukuh dan stabil di negara kita. Buktikan. [8 markah]

8 Sukan bukan sahaja sebagai aktiviti yang menyihatkan badan malah bernilai komersial serta boleh mengharumkan nama sesebuah negara.

- (a) Mengapakah kemajuan dalam bidang sukan penting dalam pembangunan negara? [4 markah]
- (b) Jelaskan usaha kerajaan untuk meningkatkan perpaduan rakyat melalui sukan. [8 markah]
- (c) Petikan berikut berkaitan usaha kerajaan memajukan bidang sukan.

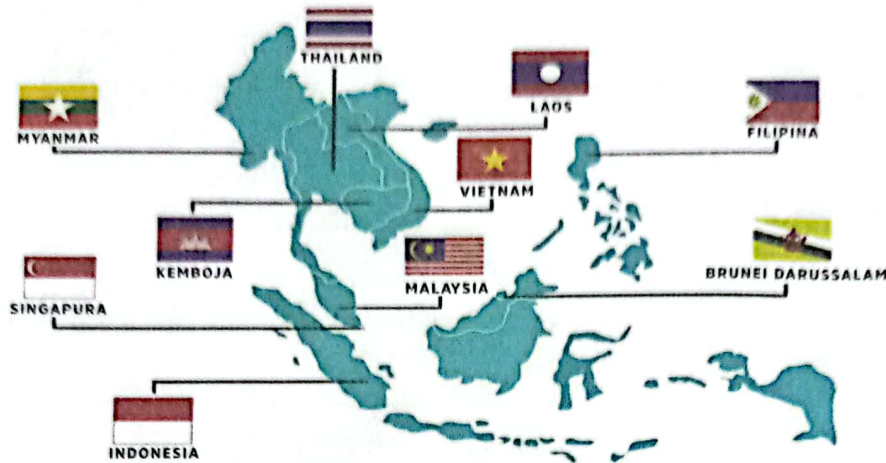
21 APRIL, NILAI: Jaguh keirin dunia, Azizulhasni Awang menyifatkan Velodrom Nasional Nilai di Negeri Sembilan adalah antara velodrom terbaik dunia.

“Saya amat gembira menguji trek velodrom ini meskipun masih belum siap sepenuhnya. Keadaan di bahagian selekoh amat memuaskan dan hampir menyamai keadaan di Velodrom Hong Kong. Sepanjang pengalaman saya bergelar pelumba trek profesional, saya melihat ini adalah antara velodrom terbaik di dunia,” katanya.

Sumber: <http://isn.gov.my>

Cadangkan usaha lain yang boleh dilakukan oleh kerajaan untuk melahirkan atlet sukan bertaraf dunia. [8 markah]

- 9 Peta berikut menunjukkan negara anggota Persatuan Negara-negara Asia Tenggara (ASEAN).



- (a) Huraikan secara ringkas sejarah penubuhan ASEAN. [4 markah]
- (b) Pelibatan Malaysia dalam negara serantau membolehkan negara kita menjadi anggota ASEAN yang memberi manfaat dalam ekonomi dan politik. Buktikan. [8 markah]
- (c) Berdasarkan pengetahuan anda, jelaskan peranan Malaysia sebagai hab pendidikan dunia. [8 markah]

**KERTAS PEPERIKSAAN TAMAT**